

الشاطر في الدراسات الاجتماعية

المراجعة والتدريبات على الأسئلة
و الامتحانات بنظام البوكليت
للشهادة الإعدادية

الفصل الدراسي الأول

إعداد نخبة من كبار الأساتذة المتخصصين



المؤسسة المستقلة
للطباعة والنشر والتوزيع
١٥ ش كامل صدقي - الفجالة

المقدمة

إلى أبنائنا طلاب الشهادة الإعدادية ..

وشركائنا من المعلمين والآباء والأمهات ..

يقدم **الشاطر** هذه المراجعة الوافية لمنهج الدراسات الاجتماعية في الفصل الدراسي الأول .

■ وتتضمن هذه المراجعة محتوى المادة (الجغرافيا - التاريخ) كاملاً ، وتشتمل على :

● شرح (ملخص) لكل درس .

● بنك أسئلة على كل درس ، ويشمل :

- أسئلة الشاطر على الدرس .

- أسئلة وردت في امتحانات المحافظات للسنوات السابقة .

- اختبار المتفوقين على الدرس .

- اختبار تراكمي على ما سبقت دراسته .

● أهم المفاهيم التي وردت بالوحدة .

● بعض امتحانات المحافظات لعام ٢٠٢٣ م (معدلة بنظام البوكليت) .

● أطلس لأهم الخرائط .


● الإجابات الاسترشادية .

■ وفي الختام نرجو من الله تعالى أن نكون قد وفقنا لخدمة أبنائنا الطلاب ، ونتمنى لكم دوام

النجاح والتفوق .

المؤلفون


المحتويات



أولاً : الجغرافيا

• مراجعة عامة على الجغرافيا ، وتشمل :

- شرح (ملخص) لكل درس .
- أسئلة وردت في امتحانات المحافظات .
- أسئلة الشاطر على الدرس .
- اختبار المتفوقين على الدرس .
- أهم المفاهيم التي وردت بالوحدة .
- اختبار تراكمي على ما سبقت دراسته .




ثانياً : التاريخ

• مراجعة عامة على التاريخ ، وتشمل :

- شرح (ملخص) لكل درس .
- أسئلة وردت في امتحانات المحافظات .
- أسئلة الشاطر على الدرس .
- اختبار المتفوقين على الدرس .
- أهم المفاهيم التي وردت بالوحدة .
- اختبار تراكمي على ما سبقت دراسته .

• امتحانات المحافظات لنهاية الفصل الدراسي ٢٠٢٣ م .

أولًا : الجغرافيا



الوحدة الأولى : الجغرافيا الطبيعية للعالم

- ٥ | الدرس الأول : قارات العالم « الموقع والمساحة » .
- ١٧ | الدرس الثاني : تضاريس العالم .
- ٣٨ | الدرس الثالث : المناخ والنبات الطبيعي في العالم .

الوحدة الثانية : جغرافية سكان العالم

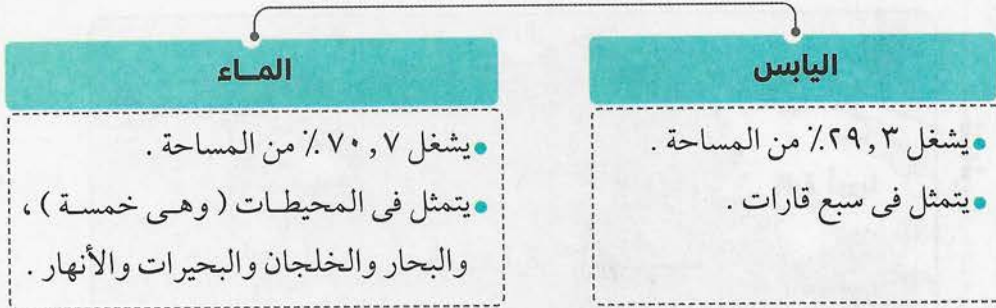
- ٥٤ | الدرس الأول : السلالات البشرية في العالم .
- ٦٤ | الدرس الثاني : توزيع السكان في العالم .
- ٧٩ | الدرس الثالث : خصائص سكان العالم .

الوحدة الأولى : الجغرافيا الطبيعية للعالم

الدرس الأول : قارات العالم « الموقع والمساحة »

أهم نقاط الدرس :

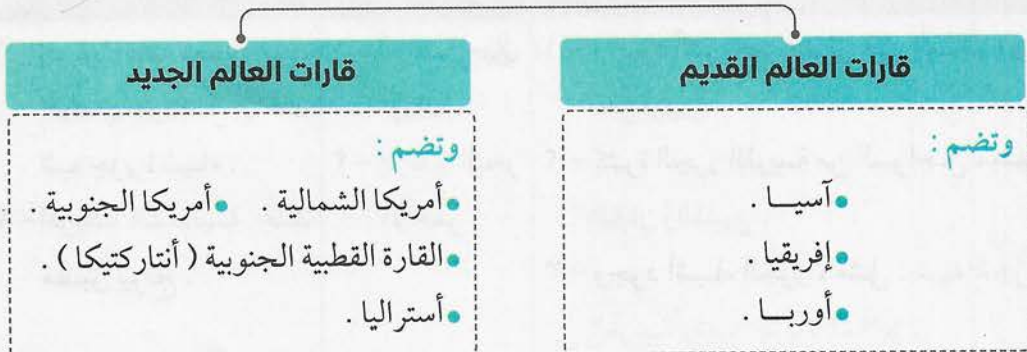
مساحة الكرة الأرضية ٥١٠ ملايين كم^٢
تنقسم إلى



■ القارات وهى : (مرتبة بحسب المساحة)

- ١ - آسيا : ٤٤, ٢ مليون كم^٢ .
- ٢ - إفريقيا : ٣٠, ٣ مليون كم^٢ .
- ٣ - أمريكا الشمالية : ٢٤, ٢ مليون كم^٢ .
- ٤ - أمريكا الجنوبية : ١٧, ٨ مليون كم^٢ .
- ٥ - القارة القطبية الجنوبية (أنتاركتيكا) : ١٢, ٣ مليون كم^٢ .
- ٦ - أوروبا : ١٠, ٥ مليون كم^٢ .
- ٧ - أستراليا : ٧, ٨ مليون كم^٢ .

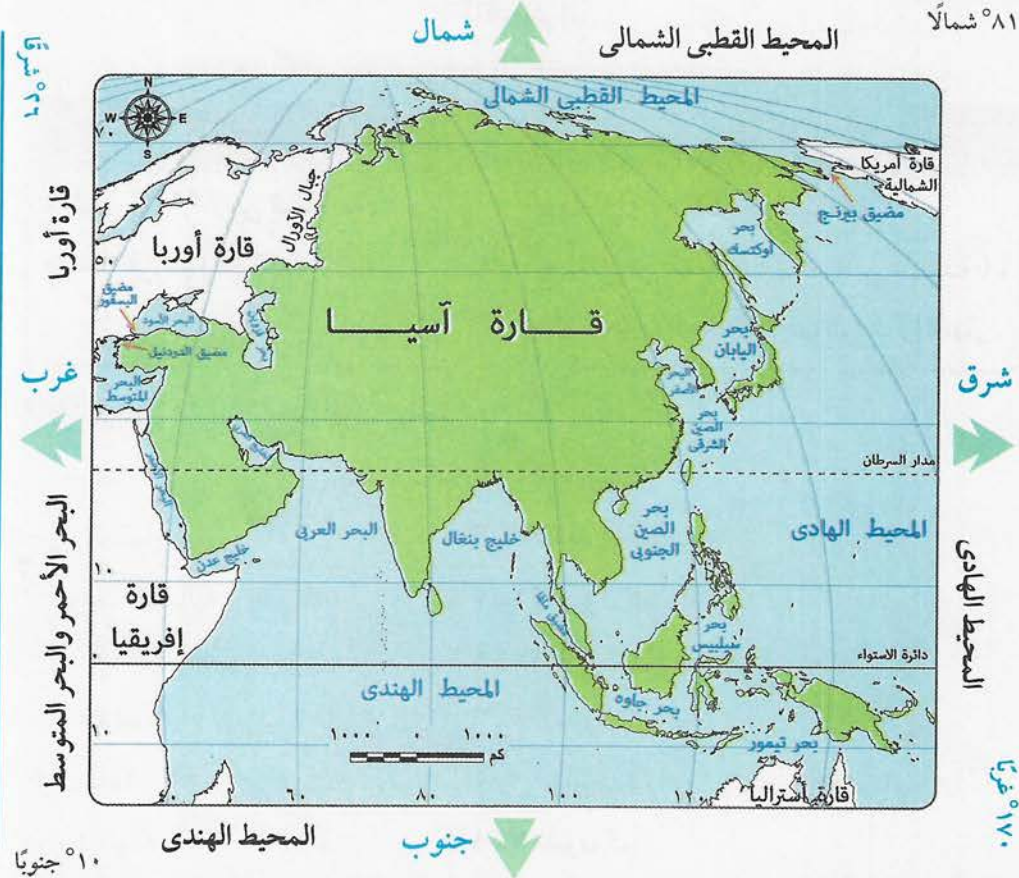
يمكن تقسيم القارات إلى



المحيطات وهي : (مرتبة بحسب المساحة)

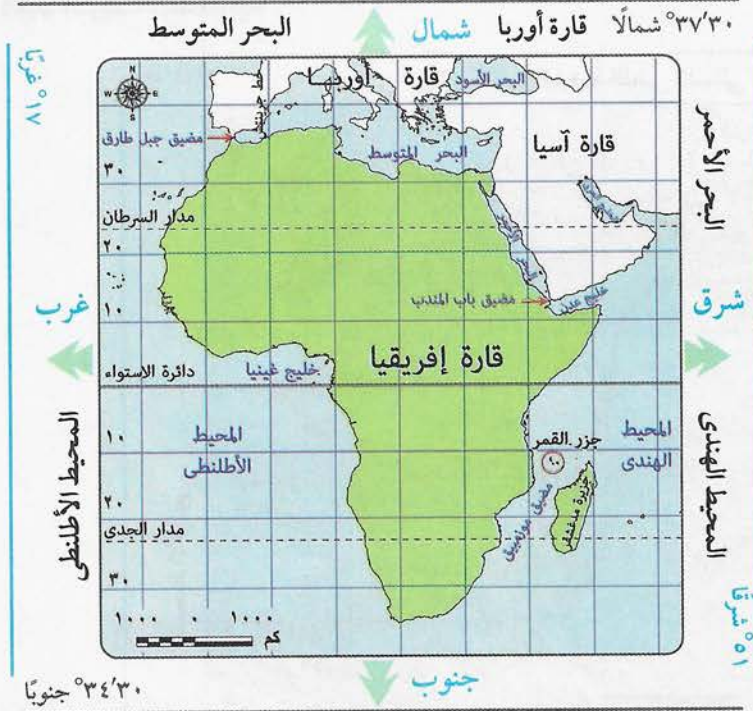
- ١ - الهادى : ١٦٦ مليون كم^٢ .
- ٢ - الأطلنطى : ٨٦,٥ مليون كم^٢ .
- ٣ - الهندى : ٧٣,٥ مليون كم^٢ .
- ٤ - المتجمد الجنوبي : ١٩,٥ مليون كم^٢ .
- ٥ - القطبى الشمالى : ١٤ مليون كم^٢ .

١ قارة آسيا : (الموقع الفلكى والجغرافى)



تتميز بـ :	يفصلها عن :	تقترب من :
١ - وجود أكبر بحر مغلق فى العالم ، وهو بحر قزوين .	١ - أوروبا جبال أورال .	١ - إفريقيا عند مضيق باب المندب ، وتتصل بها عند شبه جزيرة سيناء .
٢ - كثرة الجزر القريبة من السواحل ، مثل : اليابان والفلبين .	٢ - إفريقيا البحر الأحمر .	٢ - أمريكا الشمالية عند مضيق بيرنج .
٣ - وجود أشباه الجزر ، مثل : شبه الجزيرة العربية وشبه جزيرة الملايو .		

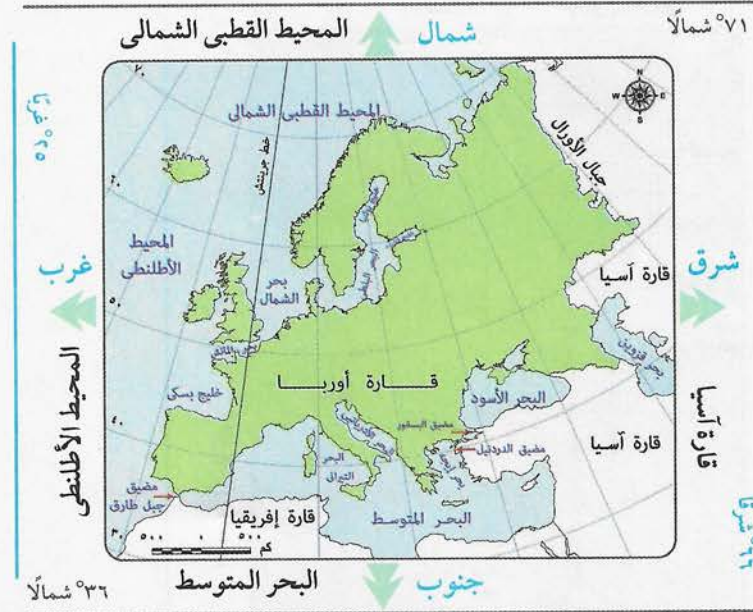
٢ قارة إفريقيا :



تتميز بـ :

- قلة الجزر ، ومن أهمها : جزيرة مدغشقر .
- جزر القمر .

٣ قارة أوروبا :



تتميز بـ :

- تعرج السواحل وكثرة الجزر مما ساعد على كثرة وجود الموانئ الطبيعية بها .

٤ قارة أمريكا الشمالية :

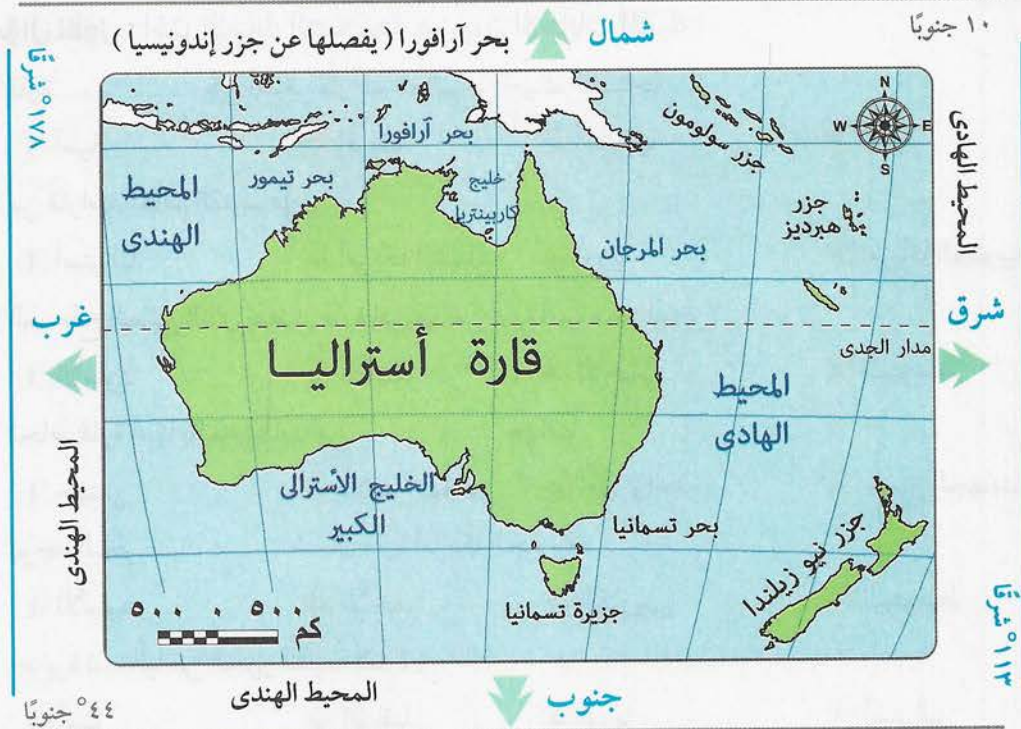


٥ قارة أمريكا الجنوبية :



• شكلها أقرب إلى شكل المثلث .

٦ قارة أستراليا (الأوقيانوسية) :



تضم مجموعة من الجزر ، ومن أهمها :

- نيوزيلندا الشمالية .
- نيوزيلندا الجنوبية .
- جزيرة تسمانيا .
- مجموعات من الجزر الصغيرة بالمحيط الهادى .

٧ القارة القطبية الجنوبية (أنتاركتيكا) :

موقعها الجغرافى	موقعها الفلكى
<ul style="list-style-type: none"> • تمتد أقصى جنوب الكرة الأرضية . • يحيط بها المحيط القطبى الجنوبى من جميع الجهات . 	<ul style="list-style-type: none"> • تمر بأطرافها الدائرة القطبية الجنوبية . • تمتد حول القطب الجنوبى . • ترتب على ذلك أنها أصبحت متجمدة وغير مأهولة بالسكان .

يوجد بها :

- بعض المراكز البحثية فى مناطق مقسمة بين عدد من الدول لها مصالح بها ، وهى :
- الولايات المتحدة .
 - روسيا .
 - فرنسا .
 - إنجلترا .

أسئلة الشاطر على الدرس الأول



(مجاب عنها)

السؤال الأول : اختر الإجابة الصحيحة من بين الإجابات الآتية :

- ١ قارة هي أصغر قارات العالم من حيث المساحة .
 أ آسيا ب إفريقيا ج أستراليا د أوروبا
- ٢ من قارات العالم القديم قارة :
 أ أستراليا ب أمريكا الشمالية ج أوروبا د أمريكا الجنوبية
- ٣ المسطح المائي الذي يفصل قارة إفريقيا عن قارة آسيا ، هو البحر :
 أ الأسود ب الأصفر ج الأحمر د المتوسط
- ٤ تحاط قارة آسيا بالمحيطات من جهات .
 أ جهتين ب ثلاث جهات ج جهة واحدة د جميع الجهات
- ٥ يوجد البحر شمال قارة أمريكا الجنوبية .
 أ الأسود ب الأحمر ج الكاريبي د المتوسط
- ٦ جزيرة تسمانيا من الجزر التابعة لقارة :
 أ آسيا ب إفريقيا ج أوروبا د أستراليا
- ٧ دائرة العرض التي تمر في قارات آسيا وإفريقيا وأمريكا الشمالية ، هي :
 أ مدار الجدى ب مدار السرطان ج دائرة الاستواء د الدائرة القطبية الشمالية
- ٨ تبدو قارة على شكل أقرب للمثلث .
 أ آسيا ب أوروبا ج أمريكا الشمالية د أمريكا الجنوبية
- ٩ يفصل بحر قارة أستراليا عن جزر إندونيسيا .
 أ آرافورا ب الصين ج الشمال د العرب
- ١٠ تفصل جبال بين قارتي أوروبا وآسيا .
 أ الهيمالايا ب الألب ج أورال د الإنديز
- ١١ المحيط هو أكبر المحيطات مساحة .
 أ الأطلسي ب الهادي ج الهندي د القطبي الجنوبي
- ١٢ تقترب قارة من قارة آسيا عند مضيق بيرنج .
 أ أمريكا الجنوبية ب أمريكا الشمالية ج أستراليا د إفريقيا
- ١٣ جزر الفلبين من الجزر التابعة لقارة :
 أ أستراليا ب أوروبا ج آسيا د إفريقيا

- ١٤ تعتبر دولة من الدول الجزرية .
 أ فرنسا ب ألمانيا ج اليابان د البرازيل
- ١٥ تتصل قارة بقارة إفريقيا فى جزء من الأراضى المصرية .
 أ أوروبا ب أستراليا ج آسيا د أمريكا الجنوبية
- ١٦ تنتمى جزيرة إلى قارة أوروبا .
 أ مدغشقر ب جاوة ج آيسلندا د تسمانيا
- ١٧ يوجد أكبر بحر مغلق فى العالم فى قارة :
 أ إفريقيا ب آسيا ج أوروبا د أمريكا الشمالية
- ١٨ يشترك البحر المتوسط فى حدود جغرافية بين قارات .
 أ ثلاث ب أربع ج خمس د ست
- ١٩ من قارات العالم الجديد قارة :
 أ آسيا ب إفريقيا ج أمريكا الجنوبية د أوروبا
- ٢٠ يحد قارة إفريقيا من جهة الشمال :
 أ البحر الأحمر ب المحيط الهندى ج البحر المتوسط د بحر قزوين
- ٢١ يقترب اليابس الآسيوى من اليابس الإفريقى عند مضيق :
 أ جبل طارق ب البسفور ج هرمز د باب المندب
- ٢٢ يحد قارة أوروبا وقارة آسيا من جهة الشمال :
 أ البحر الأحمر ب المحيط الهادى ج المحيط القطبى الشمالى د البحر المتوسط
- ٢٣ من الجزر التابعة لقارة أوروبا جزيرة :
 أ مدغشقر ب تسمانيا ج جاوة د آيسلندا
- ٢٤ الدائرة القطبية الجنوبية ٦٦,٥° جنوباً تمر فى قارة :
 أ إفريقيا ب أنتاركتيكا ج آسيا د أستراليا
- ٢٥ من الدول التى يوجد لها مراكز بحثية فى قارة أنتاركتيكا :
 أ البرتغال ب إنجلترا ج البرازيل د اليابان
- ٢٦ يحد قارتى آسيا وأستراليا من جهة الشرق المحيط :
 أ الهندى ب الأطلنطى ج الهادى د القطبى الشمالى
- ٢٧ يوجد خليج المكسيك جنوب شرق قارة :
 أ أستراليا ب إفريقيا ج أمريكا الجنوبية د أمريكا الشمالية
- ٢٨ جزر نيوزيلندا الشمالية تنتمى لقارة :
 أ آسيا ب إفريقيا ج أوروبا د أستراليا

٢٩ موقع المكان بالنسبة لخطوط الطول ودوائر العرض يسمى الموقع :

- أ الجغرافي ب الحيوى ج الفلكي د الاستراتيجي

٣٠ دولة جزرية يفصلها عن قارة أستراليا بحر آرافورا :

- أ جزر بريطانيا ب جزر اليابان ج جزر إندونيسيا د جزر الكاريبي

٣١ المحيط القطبي الجنوبي يحيط بقارة أنتاركتيكا من :

- أ جهة واحدة ب جهتين ج ثلاث جهات د جميع الجهات

٣٢ تمر دائرة الاستواء في :

- أ قارتين ب ثلاث قارات ج أربع قارات د خمس قارات

السؤال الثاني : بم تفسر ... ؟

١ كثرة الموانئ الطبيعية في قارة أوروبا .

٢ القارة القطبية الجنوبية (أنتاركتيكا) غير مأهولة بالسكان .

السؤال الثالث : ما الأثر الناتج عن ... ؟

١ كثرة تعاريج السواحل في قارة أوروبا .

٢ الموقع الفلكي لقارة أنتاركتيكا .

السؤال الرابع : ما العلاقة بين ... ؟

١ البحر المتوسط وقارات العالم القديم .

٢ البحر الكاريبي والأمريكيتين .

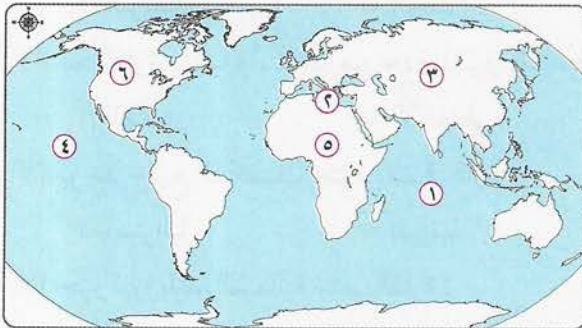
السؤال الخامس : فى أى القارات تقع الجزر الآتية ... ؟

١ جزر اليابان . ٢ جزيرة آيسلندا .

٣ جزر القمر . ٤ جزيرة مدغشقر .

٥ جزيرة تسمانيا . ٦ جزر إندونيسيا .

السؤال السادس : أمامك خريطة صماء للعالم ، وضع مدلول الأرقام التى عليها :



١ المحيط

٢ البحر

٣ قارة

٤ المحيط

٥ قارة

٦ قارة

أسئلة وردت فى امتحانات المحافظات على الدرس الأول



(مجاب عنها)

السؤال الأول : اختر الإجابة الصحيحة من بين الإجابات الآتية :

- ١ نيوزيلندا من الجزر التابعة لقارة :
 أ آسيا ب إفريقيا ج أوروبا د أستراليا
 (القاهرة ٢٠١٨)
- ٢ يفصل قارة آسيا عن قارة أوروبا جبال :
 أ الهيمالايا ب الإنديز ج أورال د الألب
 (كفر الشيخ ٢٠١٩)
- ٣ تقع قارة إفريقيا بأكملها شرق المحيط :
 أ الهندى ب الأطلنطى ج القطبى الجنوبى د القطبى الشمالى
 (الغربية ٢٠١٩)
- ٤ تطل قارة أمريكا الشمالية من الجنوب الشرقى على البحر :
 أ الأحمر ب المتوسط ج الكاريبى د العربى
 (أسبوط ٢٠١٩)
- ٥ تحاط قارة آسيا بالمياه من ثلاث جهات ما عدا الجهة :
 أ الجنوبية ب الشمالية ج الغربية د الشرقية
 (الغربية ٢٠١٥)
- ٦ تشمل قارات العالم القديم آسيا وإفريقيا و :
 أ أستراليا ب أمريكا الشمالية ج أمريكا الجنوبية د أوروبا
 (شمال سيناء ٢٠١٧)
- ٧ يوجد فى قارة آسيا أكبر بحر داخلى مغلق فى العالم ، وهو :
 أ البحر الأحمر ب البحر المتوسط ج بحر قزوين د بحر تيمور
 (البحر الأحمر ٢٠١٧)
- ٨ تطل قارات آسيا وإفريقيا وأستراليا على المحيط :
 أ الهادى ب الأطلنطى ج الهندى د القطبى الشمالى
 (القاهرة ٢٠١٩)
- ٩ يفصل بين أستراليا وجزر إندونيسيا :
 أ البحر الكاريبى ب قناة بنما ج بحر آرافورا د البحر الأحمر
 (سوهاج ٢٠١٦)
- ١٠ يفصل بين قارتى آسيا وإفريقيا البحر :
 أ الأحمر ب المتوسط ج الكاريبى د الأسود
 (المصريون بالخارج ٢٠١٦)
- ١١ أهم الجزر التابعة لقارة آسيا :
 أ جزر القمر ب جزر الكاريبى ج جزيرة تسمانيا د جزر إندونيسيا
 (القاهرة ٢٠١٧)
- ١٢ يقع البحر الكاريبى شمال قارة :
 أ أستراليا ب أمريكا الشمالية ج أمريكا الجنوبية د أوروبا
 (المنوفية ٢٠١٨)
- ١٣ شبه جزيرة تفصل بين آسيا وإفريقيا .
 أ أيبيريا ب البلقان ج سيناء د العرب
 (القليوبية ٢٠١٨)

السؤال الثاني : بم تفسر ... ؟

(الإسكندرية ٢٠١٦)

١ وجود الموانئ الطبيعية فى قارة أوروبا .

(المنوفية ٢٠١٩)

٢ تختلف القارة القطبية الجنوبية عن باقى قارات العالم .

السؤال الثالث : ما الأثر الناتج عن ... ؟

(القاهرة ٢٠١٥)

١ كثرة تعاريج السواحل فى قارة أوروبا .

(الشرقية ٢٠١٥)

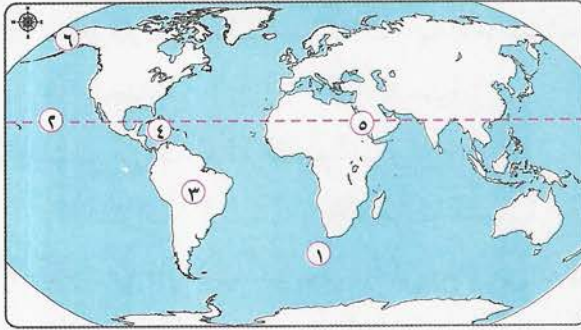
٢ الموقع الفلكى للقارة القطبية الجنوبية .

السؤال الرابع : قارن بين :

(السويس ٢٠١٥)

قارة أمريكا الشمالية وقارة أوروبا ، من حيث الموقع الجغرافى .

السؤال الخامس : أمامك خريطة صماء للعالم ، وضح مدلول الأرقام التى عليها :



١ المحيط

٢ دائرة عرض

٣ قارة

٤ جزر

٥ البحر

٦ مضيق

(السويس ٢٠١٥)

اختبار المتفوقين على الدرس الأول



(يجب عنه الطالب)

السؤال الأول : اختر الإجابة الصحيحة من بين الإجابات الآتية :

- ١ تعتبر جزر السولومون من الجزر التابعة لقارة :
أ آسيا ب أوروبا ج أستراليا د إفريقيا
- ٢ قارة هي القارة الوحيدة المأهولة بالسكان التي لا تمر بها دائرة عرض رئيسية مثل مدار الجدى أو دائرة الاستواء أو مدار السرطان .
أ آسيا ب إفريقيا ج أوروبا د أستراليا
- ٣ يفصل مضيق بين قارتى أوروبا وإفريقيا .
أ جبل طارق ب باب المندب ج هرمز د البسفور
- ٤ البحر الذى يشترك فى حدود جغرافية بين ثلاث قارات ، هو :
أ البحر الأحمر ب البحر المتوسط ج بحر آرافورا د بحر الشمال
- ٥ سبب ارتفاع الحرارة فى منتصف قارة إفريقيا معظم أيام السنة يرجع إلى :
أ موقعها الجغرافى ب موقعها الفلكى
ج شكلها الهضبي د كثرة المحيطات حولها
- ٦ المحيط يفصل بين قارتين من قارات العالم القديم ، وقارتين من قارات العالم الجديد .
أ القطبى الشمالى ب الهادى ج القطبى الجنوبى د الأطلنطى

السؤال الثانى : أجب عن الأسئلة الآتية :

- ١ فى كم خط طول تمتد قارة آسيا ؟
.....
- ٢ ما هى الدول التى تشرف على مضيق بيرنج ؟
.....
- ٣ ما العلاقة بين الموقع الفلكى لقارة آسيا والمناخ فيها ؟
.....
- ٤ ما هى الدولة التى تمتد أراضيها فى قارتى آسيا وإفريقيا ؟
.....

١٠

اختبار الشاطر على الدرس الأول



(يجب عنه الطالب)

السؤال الأول : أمامك خريطة صماء لقارة آسيا ، وضح مدلول الأرقام التي عليها :

٣



- ١ جزر
- ٢ بحر
- ٣ المحيط
- ٤ قارة
- ٥ مضيق
- ٦ المحيط

٥

السؤال الثاني : اختر الإجابة الصحيحة من بين الإجابات الآتية :

- ١ المحيط الذي تطل عليه أستراليا من الجنوب والغرب ، هو :
 - أ الهادي
 - ب الهندي
 - ج الأطلنطي
 - د القطبي الشمالي
- ٢ الدولة التي تتكون من جزيرة أو أكثر أو قد تكون جزءاً من جزيرة تسمى دولة :
 - أ حبيسة
 - ب جزرية
 - ج داخلية
 - د جيبية
- ٣ أكبر بحر مغلق في العالم يوجد في قارة :
 - أ إفريقيا
 - ب آسيا
 - ج أمريكا الشمالية
 - د أستراليا
- ٤ البحر الذي يفصل بين أمريكا الشمالية وأمريكا الجنوبية ، هو البحر :
 - أ الأحمر
 - ب المتوسط
 - ج الأسود
 - د الكاريبي
- ٥ دائرة الاستواء تمر في :
 - أ قارتين
 - ب ثلاث قارات
 - ج أربع قارات
 - د خمس قارات
- ٦ مدار السرطان يمر في :
 - أ آسيا وإفريقيا
 - ب آسيا وأنتاركتيكا
 - ج أوروبا وأستراليا
 - د أوروبا وأنتاركتيكا
- ٧ مدار الجدي يمر في :
 - أ آسيا وإفريقيا وأوروبا
 - ب آسيا وإفريقيا وأستراليا
 - ج أوروبا وآسيا فقط
 - د آسيا وأستراليا فقط

٢

السؤال الثالث : بم تفسر ... ؟

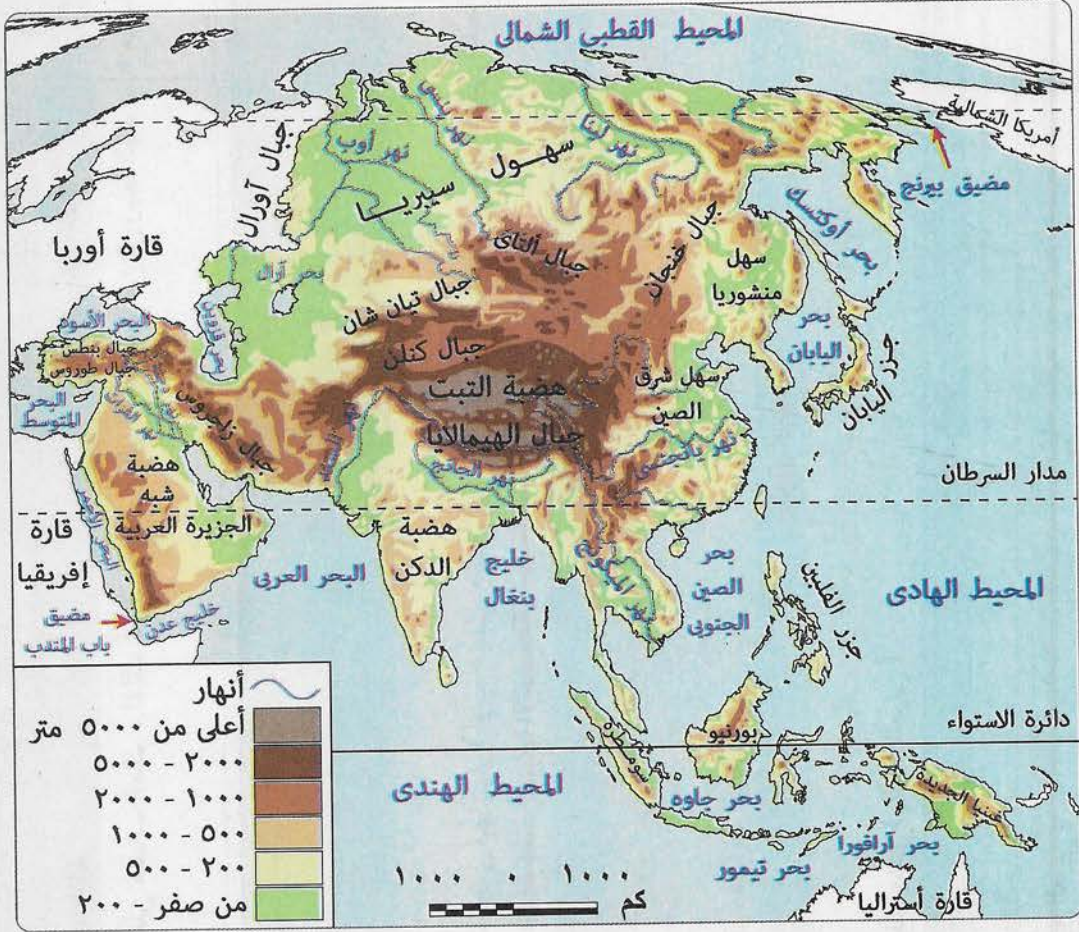
- ١ كثرة الموانئ الطبيعية في قارة أوروبا .
- ٢ قارة أنتاركتيكا غير مأهولة بالسكان .



الدرس الثاني : تضاريس العالم

أهم نقاط الدرس :

1 تضاريس قارة آسيا :



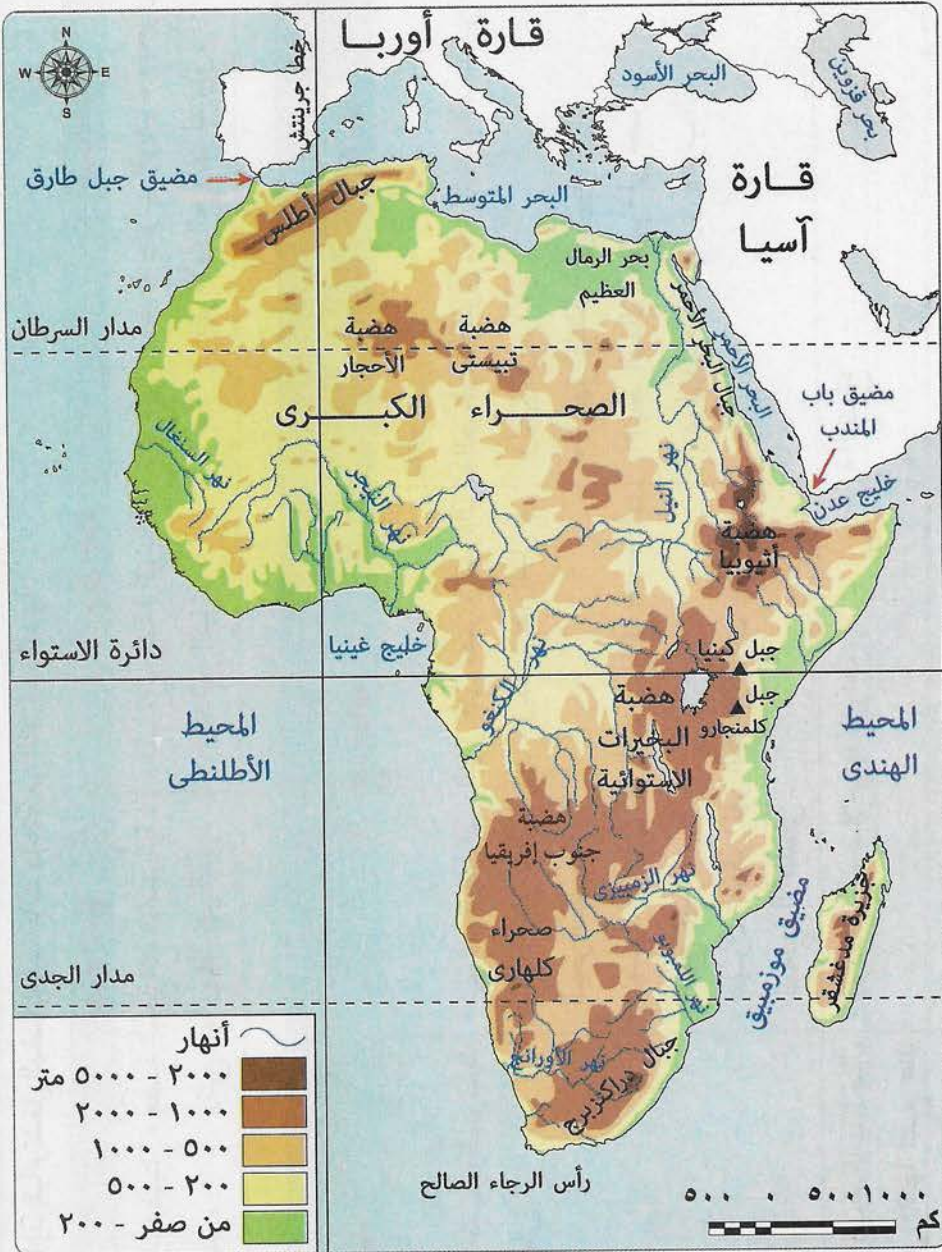
تشمل :

(ج) السهول	(ب) الهضاب	(أ) الجبال
١ - الساحلية . ٢ - الفيضية .		

(أ) الجبال		
١ - شرق القارة	٢ - وسط القارة	٣ - غرب القارة
• جبال اليابان .	• سلسلة جبال الهيمالايا .	• جبال طوروس في تركيا .
	• بها قمة إفرست أعلى قمة جبلية في العالم ، ارتفاعها أكثر من ٨٨٤٨ مترًا .	• جبال زاغروس في العراق وإيران .

(ب) الهضاب	
١- وسط القارة	هضاب هضبة التبت أعلى هضاب العالم ، لذلك تُعرف بسقف العالم لا ارتفاعها عن قمم الجبال.
٢- جنوب القارة	هضبة الدكن في وسط الهند .
٣- جنوب غرب القارة	هضبة شبه الجزيرة العربية .
(ج) السهول	
٢- سهول فيضية	١- سهول ساحلية
سهول شمالية	• تمتد على طول سواحل المحيطات والبحار التي تحيط بالقارة ، ومنها سواحل بحر قزوين داخل القارة .
سهول شرقية	• سهول سيبيريا : • هي سهول واسعة تجري فيها أنهار (أوب - ينسى - لينا) تتبع من الجنوب وتصب في المحيط القطبي الشمالي . • تتجمد في فصل الشتاء فتفقد أهميتها الاقتصادية .
سهول الجنوب	• سهول منشوريا . • سهول شرق الصين : • وتجرى فيها أنهار ، منها نهر اليانجستي .
سهول الغرب	• سهول نهر السنند : • يصب في المحيط الهندي (بالبحر العربي) . • سهول نهري دجلة و الفرات : • يصبان في الخليج العربي .

٢ تضاريس قارة إفريقيا :



(أ) الجبال

• تقع في :

١ - شمال شرق القارة	٣ - أقصى شمال غرب القارة
• جبل كينيا .	• سلاسل جبال أطلس تحصر بينها هضبة الشطوط .
٢ - شرق القارة	٤ - أقصى جنوب شرق القارة
• جبل كينيا .	• جبال دراكنزبرج .

(ب) الهضاب

يسود المظهر الهضبي سطح قارة إفريقيا وتشغل الهضاب مساحات واسعة من القارة، وأهمها:

1- شمال القارة	هضاب الصحراء الكبرى، ومنها: هضبتا الصحراء الشرقية والغربية في مصر.
2- وسط القارة	هضبة البحيرات الاستوائية، وتتبع منها روافد نهر النيل.
3- شرق القارة	هضبة الحبشة (أثيوبيا)، وتتبع منها روافد نهر النيل.
4- جنوب القارة	هضبة جنوب إفريقيا، ويجرى بها نهر الأورانج ونهر لمبورو.

(ج) السهول

3- سهول صحراوية رملية

تنتشر في:

- الصحراء الكبرى، مثل السهل الممتد بين مصر وليبيا، ويعرف بـ:
- «سهل كلنشو» في ليبيا.
- «بحر الرمال العظيم» في مصر.
- سهول صحراء كلهارى جنوب القارة.

2- سهول فيضية

تتمثل في:

- سهول حوض نهر النيل في مصر والسودان ودولة جنوب السودان، ويصب نهر النيل في البحر المتوسط.
- سهول حوض نهر النيجر الذي يصب في خليج غينيا.
- سهول حوض نهر الكونغو الذي يصب في المحيط الأطلنطي.

1- سهول ساحلية

تتمد على:

- طول سواحل البحرين الأحمر والمتوسط والمحيطين الهندي والأطلنطي.

• الاتساع.

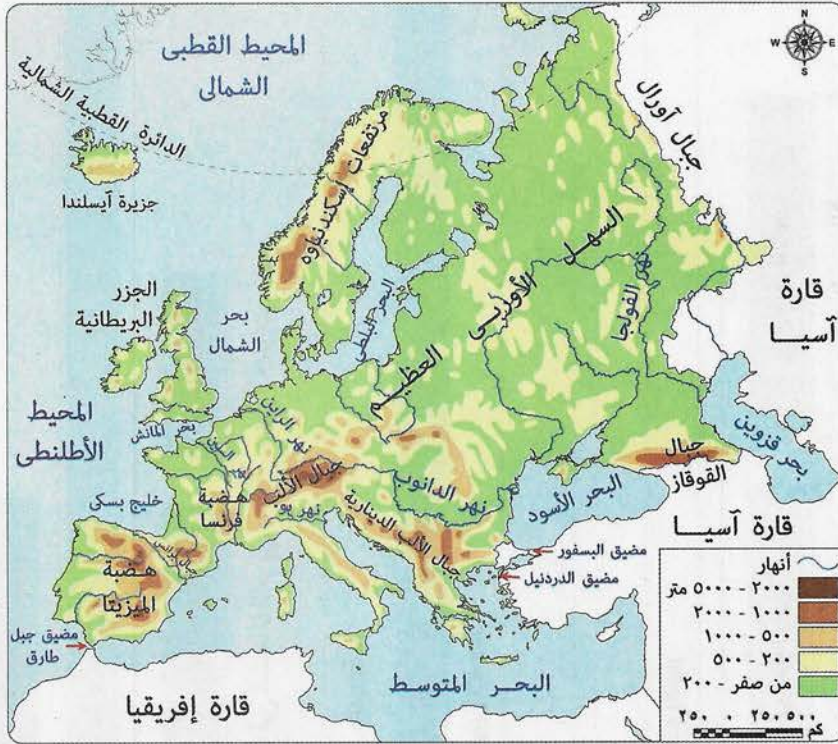
• جودة التربة وصلاحياتها للزراعة.

• الضيق بشكل عام بسبب اقتراب حافات الجبال والهضاب من خط الساحل لكنها تتسع عند مصبات الأنهار.

تتبعها



٣ تضاريس قارة أوروبا :



(أ) الجبال

- تتميز بارتفاعها ، وتُغطّي قممها بالجليد في فصل الشتاء .
- تفصل بينها أودية تجرى بها الأنهار ، مثل :
 - نهر الراين .
 - نهر الدانوب .

أهمها :

جبال الألب

- هي سلاسل جبلية تمتد في وسط أوروبا من الغرب إلى الشرق .
- تأخذ مسميات تختلف من دولة لأخرى ، حيث تعرف بـ :
 - « جبال البرانس » في شمال إسبانيا .
 - « جبال الألب الدينارية » في شبه جزيرة البلقان .

(ب) الهضاب

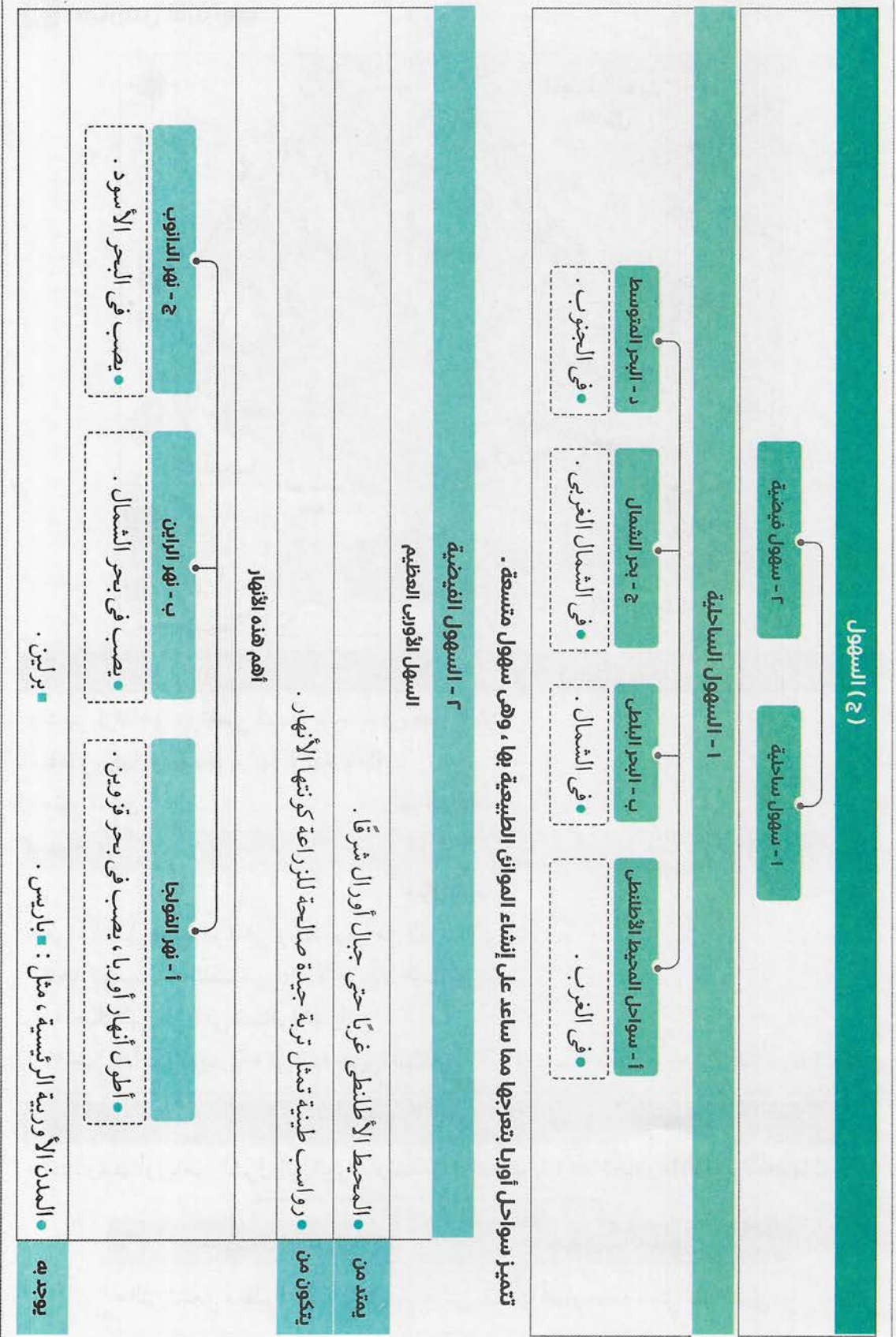
- تمتد وسط أوروبا من الشرق إلى الغرب وتقطعها أودية نهريّة ، كما تجاورها الجبال . أهمها :

٢ - هضبة فرنسا الوسطى

١ - هضبة الميزيتا

• التي تقطعها أنهار مهمة ، مثل نهر السين .

• التي تشغل معظم دولة إسبانيا .



٤ تضاريس قارة أمريكا الشمالية :

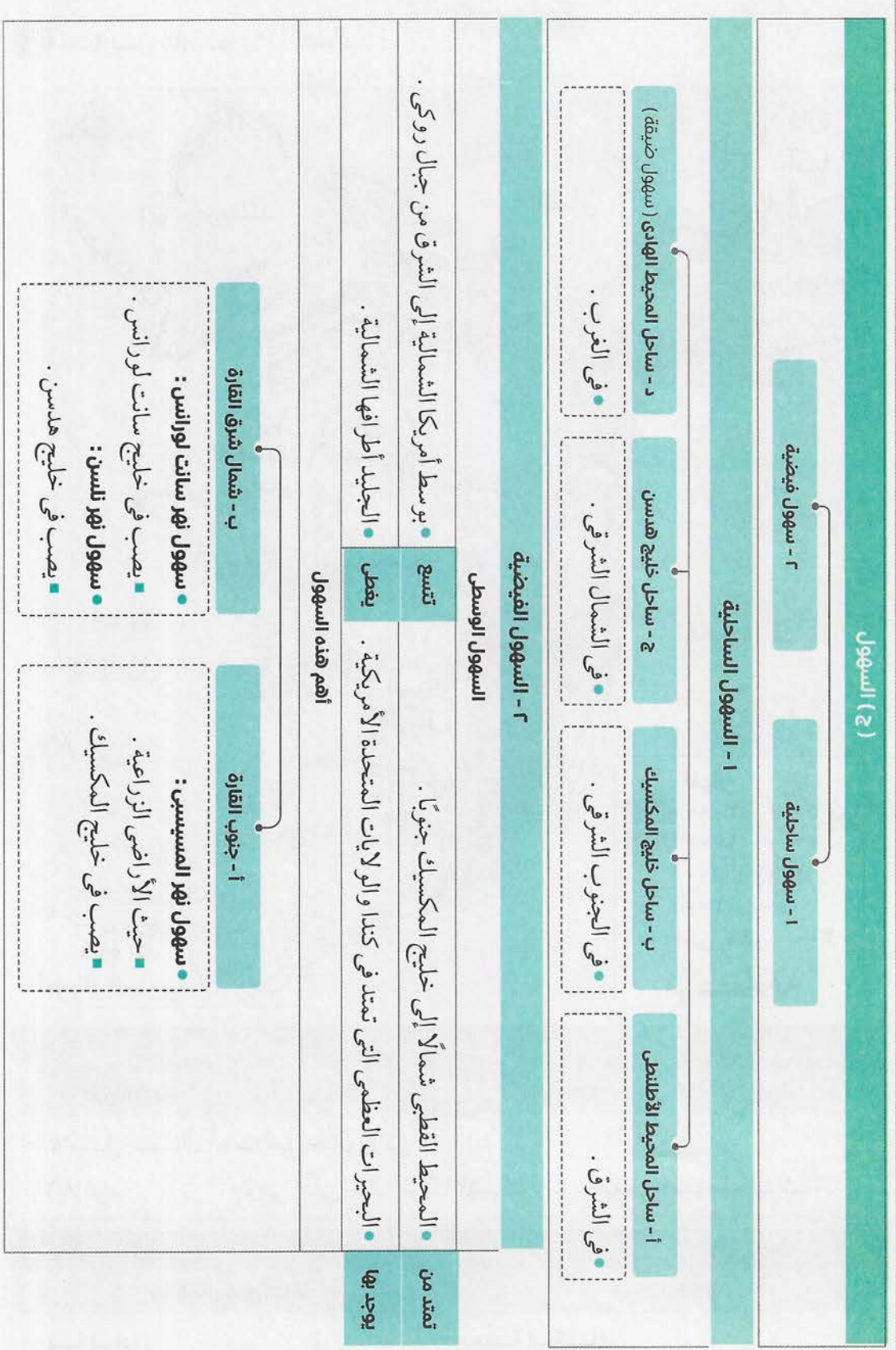


(أ) الجبال

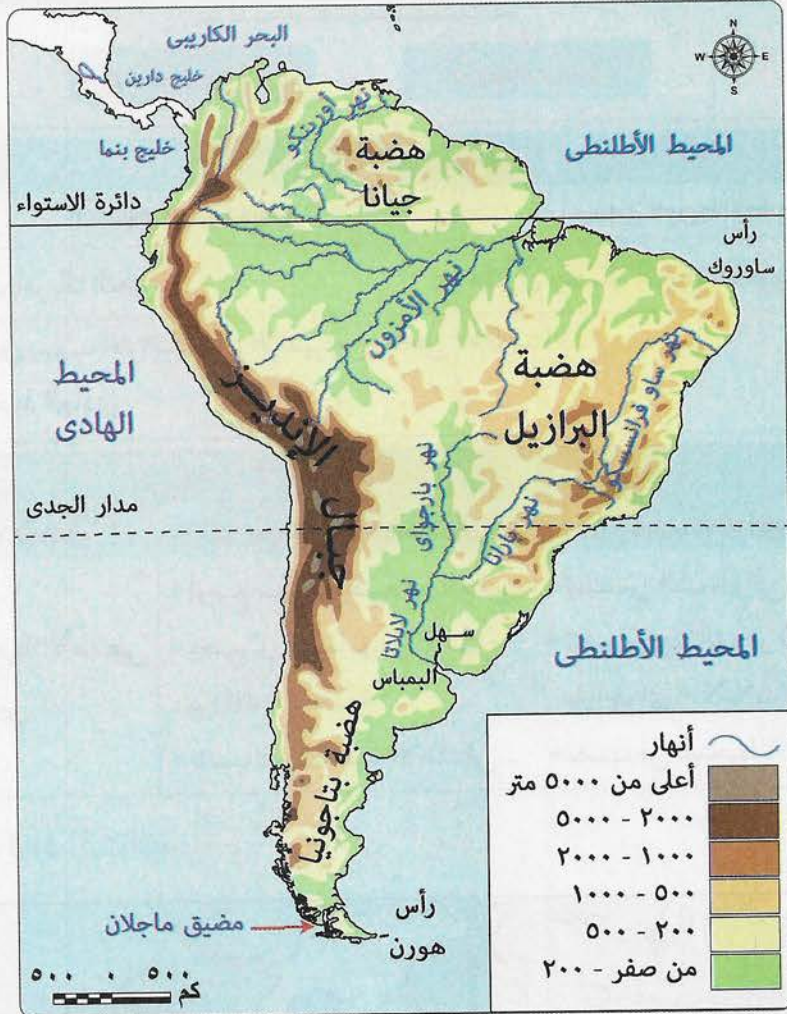
٢ - غرب القارة	١ - شرق القارة
<ul style="list-style-type: none"> • سلاسل جبال روكي . • وهى أعلى جبال أمريكا الشمالية . ■ يغطى قممها الجليد شتاءً . 	<ul style="list-style-type: none"> • سلاسل جبال الأبلاتش .

(ب) الهضاب

٢ - جنوب القارة	١ - شمال شرق القارة
<ul style="list-style-type: none"> • هضبة المكسيك . 	<ul style="list-style-type: none"> • هضبة لبرادور .



٥ تضاريس قارة أمريكا الجنوبية :



(أ) الجبال

جبال الإنديز

امتدادها

- تمتد من الشمال حتى الأطراف الجنوبية للقارة .

عبارة عن

- سلاسل جبلية مرتفعة فى غرب القارة قرب سواحل المحيط الهادى .

(ب) الهضاب

٣ - جنوب القارة

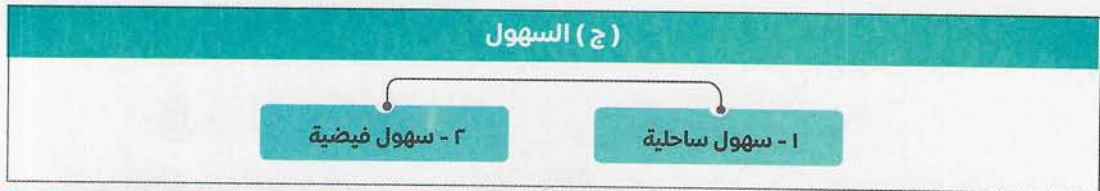
- هضبة بتاجونيا .
- أصغر هضاب القارة مساحة .

٢ - شرق القارة

- هضبة البرازيل .
- أكبر هضاب القارة وأكثرها ارتفاعاً .

١ - شمال القارة

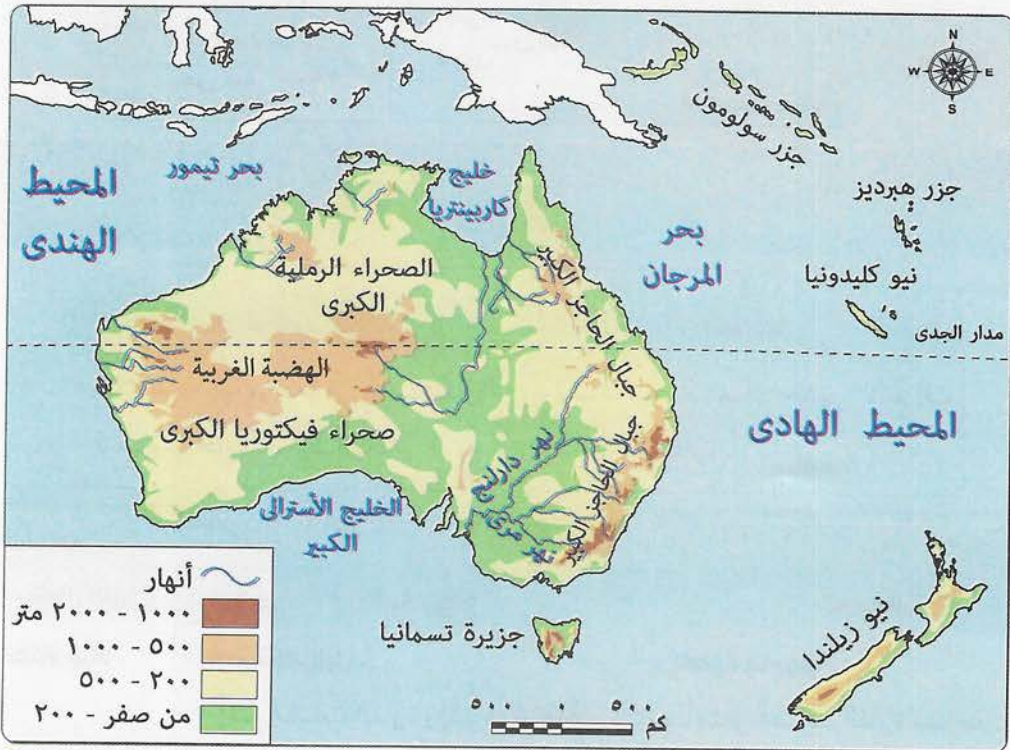
- هضبة جيانا .



١ - السهول الساحلية	
أ - ساحل المحيط الهادى	ب - ساحل المحيط الأطلنطى
<ul style="list-style-type: none"> • غرب أمريكا الجنوبية . • الضيق بسبب اقتراب جبال الإنديز من ساحل المحيط الهادى . 	<ul style="list-style-type: none"> • شرق وشمال أمريكا الجنوبية . • الاتساع .
تمتد فى	
تتميز بـ	

٢ - السهول الفيضية		
أ - سهول نهر الأورينكو	ب - سهول حوض نهر الأمزون	ج - سهول لابلاتا (البماس)
<ul style="list-style-type: none"> • فى الشمال . • يصب فى المحيط الأطلنطى (البحر الكاريبى) . 	<ul style="list-style-type: none"> • أوسع سهول فيضية فى العالم . • يجرى فيها نهر الأمزون بروافده المتعددة . • يصب فى المحيط الأطلنطى . 	<ul style="list-style-type: none"> • تمتد من الشمال إلى الجنوب . • تجرى بها أنهار (بارانا - باراجواى - لابلاتا) . • تصب فى المحيط الأطلنطى .

٦ تضاريس قارة أستراليا :



(أ) الجبال					
جبال الحاجز الكبير					
تمتد على	• طول الساحل الشرقي للقارة في شكل قوس .				
تنقسم إلى	<table border="0" style="width: 100%;"> <tr> <td style="width: 50%; background-color: #008080; color: white; text-align: center;">• جبال الحاجز الكبير .</td> <td style="width: 50%; background-color: #008080; color: white; text-align: center;">• جبال الحاجز الكبير .</td> </tr> <tr> <td style="background-color: #008080; color: white; text-align: center;">▪ في الجنوب .</td> <td style="background-color: #008080; color: white; text-align: center;">▪ في الشمال الشرقي .</td> </tr> </table>	• جبال الحاجز الكبير .	• جبال الحاجز الكبير .	▪ في الجنوب .	▪ في الشمال الشرقي .
• جبال الحاجز الكبير .	• جبال الحاجز الكبير .				
▪ في الجنوب .	▪ في الشمال الشرقي .				
تتميز بـ	• ارتفاعها وجريان بعض الأنهار خلالها .				
(ب) الهضاب					
<ul style="list-style-type: none"> • تشغل الهضبة الغربية نصف مساحة القارة . • يتميز معظم سطحها بالاستواء . • تشبه تضاريس أستراليا تضاريس إفريقيا في المظهر الهضبي . 					
(ج) السهول					
<table border="0" style="width: 100%;"> <tr> <td style="width: 33%; background-color: #008080; color: white; text-align: center;">٣ - سهول صحراوية</td> <td style="width: 33%; background-color: #008080; color: white; text-align: center;">٢ - سهول فيضية</td> <td style="width: 33%; background-color: #008080; color: white; text-align: center;">١ - سهول ساحلية</td> </tr> </table>		٣ - سهول صحراوية	٢ - سهول فيضية	١ - سهول ساحلية	
٣ - سهول صحراوية	٢ - سهول فيضية	١ - سهول ساحلية			
١ - السهول الساحلية	<ul style="list-style-type: none"> • تتسع في الشمال والغرب والجنوب . • تضيق في الشرق لاقتراب جبال الحاجز الكبير من ساحل المحيط الهادى . 				
٢ - السهول الفيضية	<ul style="list-style-type: none"> • سهول متسعة . • يجرى بها نهرامرى ودارلنج . • يصبان في الخليج الأسترالى الكبير . • هى سهول صالحة للزراعة وبها كثير من المدن الهامة . 				
٣ - السهول الصحراوية	<ul style="list-style-type: none"> • توجد وسط وغرب القارة . • عبارة عن صحارى رملية تقل بها موارد المياه . 				

أسئلة الشاطر على الدرس الثاني



(مجاب عنها)

السؤال الأول : اختر الإجابة الصحيحة من بين الإجابات الآتية :

- ١ يوجد في جبال الهيمالايا أعلى قمة جبلية في العالم وهي قمة :
 أ سانت كاترين ب الألب ج إفرست د كلمنجارو
- ٢ تُعرف هضبة بسقف العالم .
 أ الميزيتا ب التبت ج الحبشة د لبرادور
- ٣ يصب نهر ينسى في المحيط :
 أ الهادى ب الهندى ج الأطلنطى د القطبى الشمالى
- ٤ تمتد جبال فى شمال شرق قارة إفريقيا .
 أ البحر الأحمر ب الألب ج الإنديز د الهيمالايا
- ٥ هضبة وسط إفريقيا من روافد نهر النيل .
 أ لبرادور ب الميزيتا ج البحيرات الاستوائية د التبت
- ٦ من السهول الصحراوية الرملية سهل فى ليبيا .
 أ كلنشو ب البقاع ج الطينة د لبرادور
- ٧ تشغل هضبة معظم دولة إسبانيا .
 أ التبت ب الميزيتا ج الحبشة د العجمة
- ٨ نهر هو أطول أنهار أوروبا .
 أ الفولجا ب السين ج الراين د أوب
- ٩ يصب نهر سانت لورانس فى :
 أ خليج المكسيك ب البحر الكاريبى ج خليج سانت لورانس د البحر الأحمر
- ١٠ تمتد جبال غرب قارة أمريكا الجنوبية .
 أ الألب ب الفوج ج الإنديز د الهيمالايا
- ١١ تمتد جبال زاغروس فى :
 أ سوريا ولبنان ب العراق وإيران ج تركيا واليونان د إيطاليا وألمانيا
- ١٢ تعرف السهول التى تجرى فيها أنهار أوب وينسى ولينا باسم سهول :
 أ الصين ب منشوريا ج سيبيريا د السند
- ١٣ يصب نهرا دجلة والفرات فى :
 أ الخليج العربى ب البحر الأحمر ج البحر المتوسط د المحيط الهادى

- ١٤ تمتد جبال البحر الأحمر في مصر والسودان و :
 ا تشاد ب أريتريا ج الصومال د زامبيا
- ١٥ تتشابه تضاريس إفريقيا وتضاريس أستراليا في المظهر :
 ا الجبلى ب الهضبي ج السهلى د الجزرى
- ١٦ هضبة فرنسا الوسطى تقطعها أنهار مهمة مثل نهر :
 ا السين ب الفولجا ج النيل د ينسى
- ١٧ يصب نهر الدانوب في البحر :
 ا الأسود ب المتوسط ج الأحمر د الكاريبي
- ١٨ توجد هضبة لبرادور شمال شرق قارة :
 ا أمريكا الشمالية ب أوروبا ج أستراليا د أمريكا الجنوبية
- ١٩ تتسع السهول الفيضية بوسط أمريكا الشمالية إلى الشرق من :
 ا هضبة الحبشة ب هضبة كلورادو ج جبال الإنديز د جبال روكني
- ٢٠ تقترب جبال الإنديز من ساحل :
 ا المحيط الأطلنطى ب المحيط الهادى ج المحيط الهندى د بحر الشمال
- ٢١ تشغل هضبة أستراليا الغربية مساحة القارة .
 ا ربع ب نصف ج ثلث د خمس
- ٢٢ توجد جبال طوروس غرب قارة آسيا فى :
 ا اليابان ب الهند ج تركيا د ألمانيا
- ٢٣ توجد هضبة فى وسط الهند .
 ا الميزيتا ب الدكن ج لبرادور د التبت
- ٢٤ تتبع أنهار أوب وينسى ولينا من وتصب فى المحيط القطبى الشمالى .
 ا الشرق ب الغرب ج الجنوب د الشمال
- ٢٥ من أهم أنهار سهول شرق الصين نهر :
 ا الفولجا ب السين ج الراين د اليانجستى
- ٢٦ تمتد جبال أقصى جنوب شرق قارة إفريقيا .
 ا الألب ب أطلس ج دراكنزبرج د البحر الأحمر
- ٢٧ هضبة جنوب إفريقيا يجرى بها أنهار ، منها نهر :
 ا النيل ب السنغال ج السند د الأورانج

- ٢٨ كل هذه الأنهار تجرى فى قارة أوروبا ما عدا نهر :
 أ السين ب الأورينكو ج الراين د الدانوب
- ٢٩ من المدن الرئيسية التى توجد فى السهل الأوروبى العظيم مدينة :
 أ نيودلهى ب الرباط ج برلين د شيكاغو
- ٣٠ يصب نهر فى خليج هدسن .
 أ النيل ب المسيسى ج الراين د نلسن
- ٣١ توجد هضبة شمال قارة أمريكا الجنوبية .
 أ لبرادور ب الدكن ج الشطوط د جيانا
- ٣٢ تقترب جبال من ساحل المحيط الهادى فى قارة أمريكا الجنوبية .
 أ روكى ب الإنديز ج دراكنزبرج د الهيمالايا
- ٣٣ يصب نهر فى الخليج الأسترالى الكبير .
 أ الأمزون ب الأورينكو ج دارلنج د السين
- ٣٤ تشغل الهضبة نصف مساحة أستراليا .
 أ الشرقية ب الغربية ج الشمالية د الجنوبية
- ٣٥ تشابه تضاريس أستراليا وتضاريس قارة من حيث المظهر الهضبى .
 أ أمريكا الشمالية ب أوروبا ج إفريقيا د آسيا
- ٣٦ سهول تتجمد فى فصل الشتاء فى شمال قارة آسيا .
 أ دجلة والفرات ب السند ج سيبيريا د الأمزون
- ٣٧ أكبر هضاب قارة أمريكا الجنوبية توجد فى القارة .
 أ شمال ب شرق ج جنوب د غرب
- ٣٨ أوسع السهول الفيضية فى العالم توجد فى قارة :
 أ آسيا ب أستراليا ج أوروبا د أمريكا الجنوبية

السؤال الثانى : بم تفسر ... ؟

- ١ تعرف هضبة التبت بسقف العالم .
- ٢ تفقد سهول سيبيريا أهميتها الاقتصادية فى فصل الشتاء .
- ٣ أهمية هضبتى الحبشة والبحيرات الاستوائية لمصر .
- ٤ ضيق السهول الساحلية فى قارة إفريقيا .

- ٥ كثرة إنشاء الموانئ الطبيعية في قارة أوروبا .
- ٦ الأهمية الاقتصادية للسهل الأوربي العظيم .
- ٧ الأهمية الاقتصادية لسهول المسيسيبي .
- ٨ ضيق السهول الساحلية لغرب أمريكا الجنوبية .
- ٩ ضيق السهول الساحلية في شرق أستراليا .
- ١٠ أهمية سهول مري ودارلنج .

السؤال الثالث : ما الأثر الناتج عن ... ؟

- ١ ارتفاع هضبة التبت عن قمم الجبال .
- ٢ تجمد سهول سيبريا شتاءً .
- ٣ اتساع مساحات الهضاب في قارة إفريقيا .
- ٤ كثرة تعاريج سواحل قارة أوروبا .
- ٥ اقتراب جبال الإنديز من ساحل المحيط الهادي .
- ٦ اقتراب جبال الحاجز الكبير من ساحل المحيط الهادي .

السؤال الرابع : في أي القارات توجد الظواهر الجغرافية الآتية ؟

- ١ جبال زاغروس . (.....)
- ٢ هضبة الميزيتا . (.....)
- ٣ نهر الأورينكو . (.....)
- ٤ سهل كلنشو . (.....)
- ٥ نهر لمبويو . (.....)
- ٦ هضبة الدكن . (.....)
- ٧ نهر الفولجا . (.....)
- ٨ جبل كلمنجارو . (.....)

السؤال الخامس : ما العلاقة بين ... ؟

- ١ هضبة البحيرات الاستوائية ومصر .
- ٢ نهر النيجر وخليج غينيا .
- ٣ نهر أوب وفصل الشتاء .
- ٤ السهل الأوربي العظيم والزراعة .
- ٥ جبال الإنديز والسهول الساحلية .

السؤال السادس : أين تصب الأنهار الآتية ؟

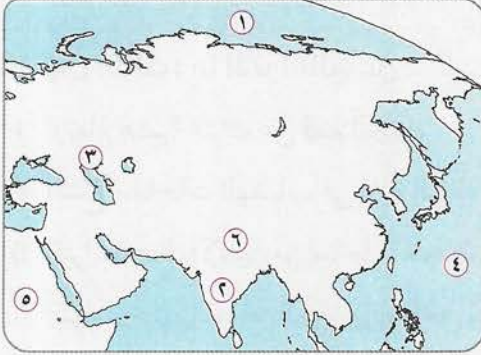
- ١ النيل . (.....)
- ٢ الأورانج . (.....)
- ٣ المسيسيبي . (.....)
- ٤ بارانا . (.....)
- ٥ الفولجا . (.....)
- ٦ نلسن . (.....)
- ٧ لمبويو . (.....)
- ٨ مري ودارلنج . (.....)
- ٩ السند . (.....)
- ١٠ الدانوب . (.....)

السؤال السابع : دلل على ما يلي :

- ١ تشابه تضاريس قارة أستراليا وقارة إفريقيا .
٢ تعدد السهول في قارة إفريقيا .

السؤال الثامن : أمامك خرائط قارات العالم الصماء ، وضح مدلول الأرقام التي عليها :

أولاً : خريطة آسيا :



- ١ المحيط
٢ هضبة
٣ بحر مغلق
٤ المحيط
٥ قارة
٦ جبال

ثانياً : خريطة إفريقيا :



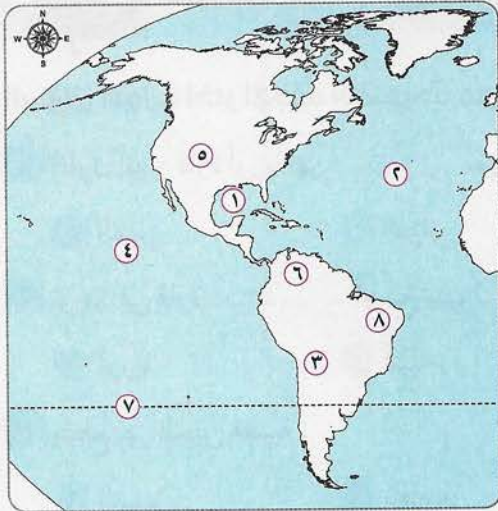
- ١ مضيق
٢ المحيط
٣ البحر
٤ جبال

ثالثاً : خريطة أوروبا :



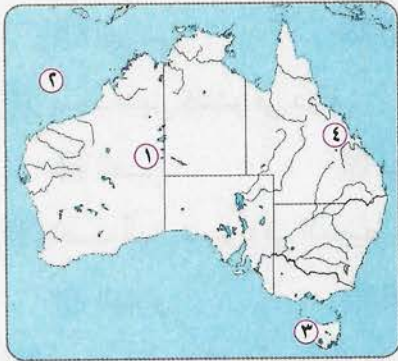
- ١ المحيط
٢ البحر
٣ قارة
٤ السهل

رابعًا : خريطة الأمريكتين :



- ١ خليج
- ٢ المحيط
- ٣ جبال
- ٤ المحيط
- ٥ جبال
- ٦ سهل فيضي
- ٧ دائرة عرض
- ٨ هضبة

خامسًا : خريطة أستراليا :



- ١ هضبة
- ٢ المحيط
- ٣ جزيرة
- ٤ جبال

أسئلة وردت في امتحانات المحافظات على الدرس الثاني



(مجاب عنها)

السؤال الأول : اختر الإجابة الصحيحة من بين الإجابات الآتية :

(شمال سيناء ٢٠١٧)

١ أطول أنهار قارة أوربا نهر ويصب في بحر قزوين .

- أ السين ب اللوار ج الراين د الفولجا

(شمال سيناء ٢٠١٧)

٢ توجد في قارة أوسع سهول فيضية في العالم .

- أ أوروبا ب آسيا ج إفريقيا د أمريكا الجنوبية

(كفر الشيخ ٢٠١٥)

٣ يقطع نهر السين هضبة :

- أ التبت ب بافاريا ج فرنسا الوسطى د الميزيتا

(البحيرة ٢٠١٥)

٤ توجد في شرق قارة أمريكا الشمالية سلاسل جبال :

- أ البرانس ب الأبلش ج الإنديز د روكي

(سوهاج ٢٠١٦)

٥ يوجد سهل كلنشو في دولة :

- أ الصين ب ليبيا ج السويد د البرازيل

(الغربية ٢٠١٧)

٦ تصب أنهار سيبريا في المحيط :

- أ الهادي ب الهندي ج القطبي الشمالي د القطبي الجنوبي

(الدقهلية ٢٠١٧)

٧ أصغر هضاب قارة أمريكا الجنوبية مساحة يوجد في القارة .

- أ شمال ب جنوب ج شرق د شمال شرق

(دمياط ٢٠١٨)

٨ بحر مغلق يصب فيه نهر الفولجا ، هو :

- أ بحر العرب ب بحر الشمال ج البحر الأحمر د بحر قزوين

(القاهرة ٢٠١٩)

٩ سهول فيضية تمتد من المحيط الأطلنطي غرباً حتى جبال أورال شرقاً :

- أ سهول سيبريا ب سهول الأمزون ج سهول منشوريا د السهل الأوربي العظيم

(الشرقية ٢٠١٥ / كفر الشيخ ٢٠١٦ ، وأخرى)

١٠ هضبة يجري بها نهر الأورانج ولمبوبو .

- أ الحبشة ب الميزيتا ج إفريقيا الجنوبية د البحيرات الاستوائية

(أسوان ٢٠١٦)

١١ سلسلة جبال أعلى جبال في قارة أمريكا الشمالية .

- أ الأبلش ب روكي ج كسكيد د الأنديز



السؤال الثاني : بم تفسر ... ؟

- ١ تُعرف هضبة التبت بسقف العالم . (كفر الشيخ ٢٠١٥ / دمياط ٢٠٢٠ / المصريون في الخارج ٢٠١٦)
- ٢ ضيق السهول الساحلية الواقعة غرب قارة أمريكا الجنوبية . (كفر الشيخ ٢٠١٥ / الإسماعيلية ٢٠١٦ ، وأخرى)
- ٣ ضيق السهول الساحلية شرق أستراليا . (الشرقية ٢٠١٥ / شمال سيناء ٢٠١٧ ، وأخرى)
- ٤ كثرة الموانئ الطبيعية فى قارة أوروبا . (بنى سويف ٢٠١٦ ، وأخرى)
- ٥ قلة أهمية أنهار شمال آسيا شتاءً . (القليوبية ٢٠١٨)
- ٦ أهمية السهل الأوربي العظيم . (كفر الشيخ ٢٠١٩)

السؤال الثالث : ما الأثر الناتج عن ... ؟

- ١ كثرة تعاريج السواحل فى قارة أوروبا . (كفر الشيخ ٢٠١٧)
- ٢ اقتراب جبال الإنديز من ساحل المحيط الهادى . (المنوفية ٢٠١٨)
- ٣ تجمد سهول سيبيريا شتاءً . (المنوفية ٢٠١٥)

السؤال الرابع : صنف الظاهرات التضاريسية التالية بحسب نوع كل منها وموقعها ، وفى أى الدول توجد :

- ١ المسيسبى . (الدقهلية ٢٠١٨)
- ٢ طوروس .
- ٣ الدكن .
- ٤ كلنشو .

السؤال الخامس : اذكر مصب كل من الأنهار التالية :

- ١ أوب . (البحيرة ٢٠١٥ / سوهاج ٢٠١٦ ، وأخرى)
- ٢ لابلاتا . (.....)
- ٣ الدانوب . (.....)
- ٤ دارلنج . (.....)

السؤال السادس : فى أى القارات توجد الظاهرات الجغرافية الآتية ؟

- ١ سهل كلنشو . (.....)
- ٢ نهر دارلنج . (.....)
- ٣ جبال البرانس . (.....)

السؤال السابع : قارن بين :

- قارة أستراليا وقارة إفريقيا ، من حيث السهول الصحراوية فيهما . (الشرقية ٢٠١٦)

السؤال الثامن : ماذا يحدث إذا ... ؟

- كانت جبال الإنديز بعيدة عن ساحل المحيط الهادى . (القاهرة ٢٠١٦)

اختبار المتفوقين على الدرس الثاني



(يجب عنه الطالب)

السؤال الأول : حدد اتجاه انحدار الأنهار الآتية :

- ١ أوب . (.....) ٢ النيل . (.....)
 ٣ الأمزون . (.....) ٤ مري ودارلنج . (.....)
 ٥ الأورانج . (.....) ٦ الأورينكو . (.....)

السؤال الثاني : حدد أطول الأنهار فى كل قارة مما يلى :

- ١ إفريقيا . (.....) ٢ أوروبا . (.....)
 ٣ أمريكا الشمالية . (.....) ٤ أمريكا الجنوبية . (.....)

السؤال الثالث : ما العلاقة بين ... ؟

نهر النيل ودولة أثيوبيا .

.....

السؤال الرابع : اذكر ... :

أهم الظواهر التضاريسية التى درستها فى هذا الدرس وتوجد فى مصر .

.....

السؤال الخامس : ما أوجه الشبه والاختلاف بين كل من ... ؟

تضاريس أستراليا وتضاريس إفريقيا .

تضاريس إفريقيا	تضاريس أستراليا	
		أوجه الشبه
		أوجه الاختلاف



.....
١٠

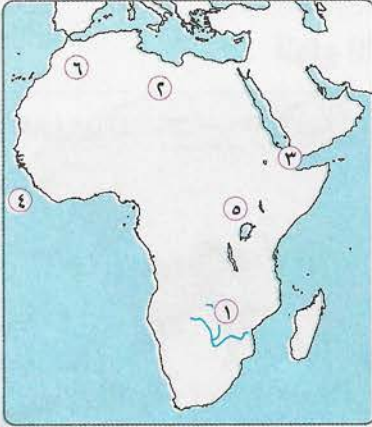
اختبار الشاطر على الدرسين الأول والثاني



(يجيب عنه الطالب)

.....
٣

السؤال الأول : أمامك خريطة صماء لقارة إفريقيا ، وضح مدلول الأرقام التي عليها :



- ١ نهر
- ٢ سهل صحراوي
- ٣ مضيق
- ٤ المحيط
- ٥ هضبة
- ٦ جبال

.....
٢

السؤال الثاني : اختر الإجابة الصحيحة من بين الإجابات الآتية :

- ١ الأرض التي يجري فيها النهر وأحد روافده وتنحدر مياهه إليه ، هي :
 أ دلتا النهر ب منبع النهر ج حوض النهر د مصب النهر
- ٢ نهر هو أطول أنهار قارة أوروبا ويصب في بحر قزوين .
 أ النيل ب الأمزون ج الفولجا د السين
- ٣ الدولة هي التي تتكون من جزيرة أو أكثر أو التي تكون جزءاً من جزيرة .
 أ الصناعية ب الجزرية ج الحبيسة د المغلقة
- ٤ هضبة تعرف بسقف العالم .
 أ الحبيسة ب التبت ج الميزيتا د بتاجونيا

.....
٢

السؤال الثالث : بم تفسر ... ؟

- ١ كثرة الموانئ الطبيعية في قارة أوروبا .
- ٢ نقل الأهمية الاقتصادية لسهول سيبيريا شتاءً .

.....
٣

السؤال الرابع : قارن بين :

- قارة أمريكا الشمالية وقارة أمريكا الجنوبية ، من حيث :
- ١ أهم الجبال .
 - ٢ أهم الهضاب .
 - ٣ الموقع الجغرافي .

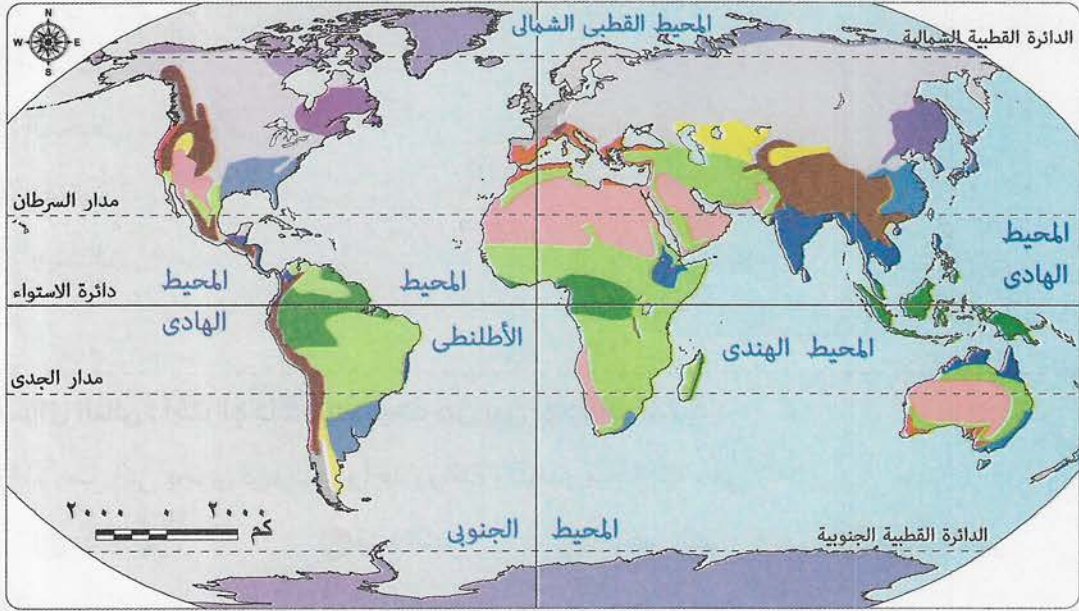
الدرس الثالث: المناخ والنبات الطبيعي في العالم

أهم نقاط الدرس:

هناك مجموعة من العوامل تؤثر في مناخ أي قارة، وهي:

- ١ الموقع الفلكي .
- ٢ الموقع الجغرافي .
- ٣ التضاريس .

أنواع الأقاليم المناخية في العالم



٣ - الأقاليم الباردة

- (أ) إقليم التندرا
- (ب) إقليم الجلي

٢ - الأقاليم المعتدلة

معتدلة دفيئة

- (أ) الإقليم الصيني
- (ب) إقليم البحر المتوسط
- (ج) صحراوي معتدل

معتدلة باردة

- (أ) الإقليم اللورانسى
- (ب) إقليم غرب أوروبا
- (ج) قارى بارد

١ - الأقاليم الحارة

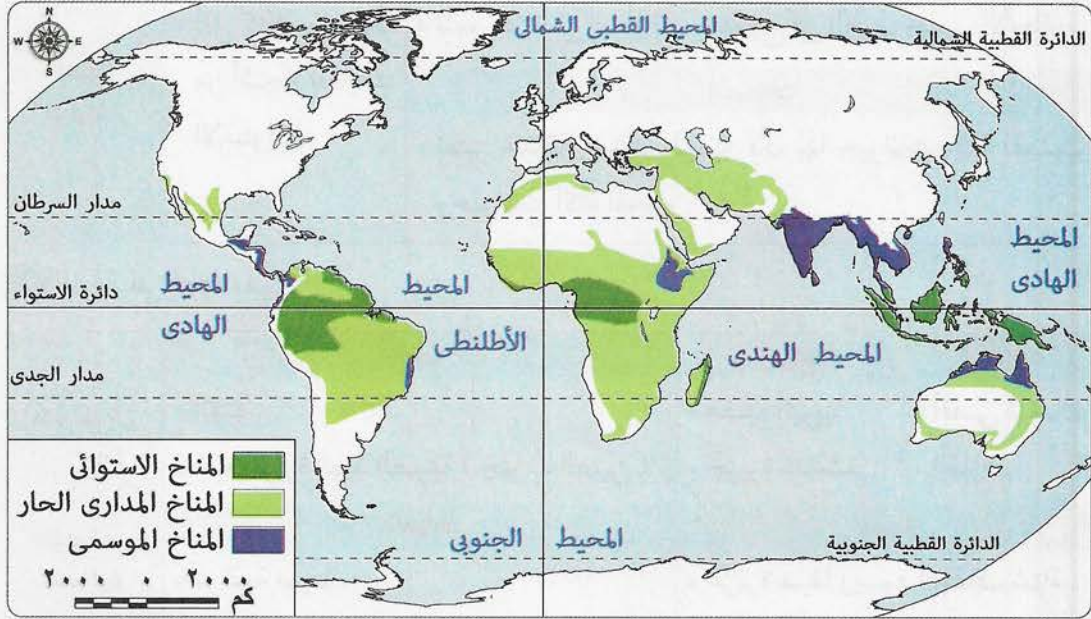
تشمل

- الاستوائية وشبه الاستوائية
- المدارى
- الصحراوى الحار
- الموسمى

تشملى

أولاً : الأقاليم المناخية الحارة

تمتد بين دائرتي عرض ٣٠° شمالاً ، ٣٠° جنوباً .



١ الإقليم الاستوائي :

الموقع الفلكي			• يمتد في المناطق القريبة من دائرة الاستواء من ١٠° شمالاً حتى ١٠° جنوباً .
أمريكا الجنوبية	إفريقيا	آسيا	الامتداد في
• كمافى حوض نهر الأمازون .	• كمافى حوض نهر الكونغو .	• كما في جزر إندونيسيا .	
الأمطار		الحرارة	الخصائص المناخية
• تسقط طوال العام .		• مرتفعة طوال العام .	
النبات الطبيعي			• غابات استوائية أشجارها كثيفة ومتشابكة أهمها الماهوجني والمطاط .
الحيوانات			• الزواحف / الطيور / الحيوانات المتسلقة .

٢ الإقليم المداري الحار (السوداني) :

الموقع الفلكي				• يمتد من ١٠° إلى ١٨° شمالاً وجنوباً .
أستراليا	أمريكا الشمالية	آسيا	إفريقيا / أمريكا الجنوبية	الامتداد في
• شمال القارة .	• بعض الأجزاء الجنوبية .	• جنوب غرب القارة .	• شمال وجنوب الإقليم الاستوائي .	

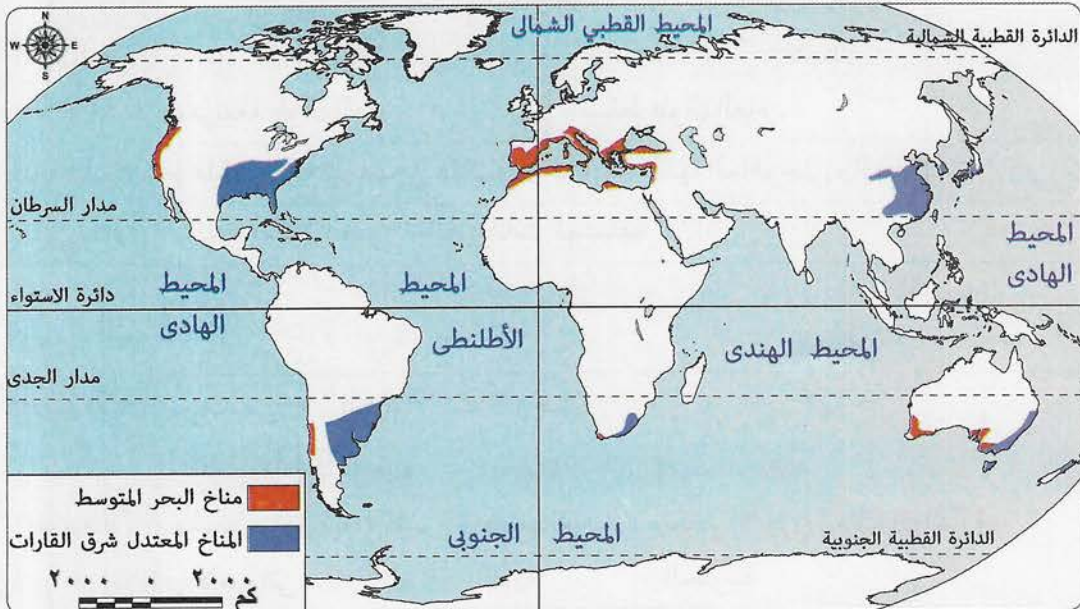
الأمطار	الحرارة	الخصائص المناخية
• تسقط صيفاً ويسود الجفاف شتاءً .	• مرتفعة صيفاً .	
الحشائش	الأشجار	النبات الطبيعي
• تنمو حشائش السافانا . • تتدرج في الطول حسب الأمطار .	• أقل كثافة وتشابكاً من أشجار الغابات الاستوائية .	
الحيوانات		
• تعتبر حديقة حيوان طبيعية لأن بها حيوانات آكلة للعشب وحيوانات آكلة للحوم .		

٣ الإقليم الموسمي :

أستراليا	إفريقيا	آسيا	الامتداد في
• أقصى شمال القارة .	• هضبة أثيوبيا . • جزيرة مدغشقر .	• الهند . • شبه جزيرة الهند الصينية (جنوب الصين) .	
الأمطار	الحرارة	الغابات	الخصائص المناخية
• غزيرة صيفاً ويسود الجفاف شتاءً .	• مرتفعة صيفاً .	• غابات موسمية تنمو بسبب غزارة الأمطار . • أهم أشجارها جوز الهند .	
الحشائش			النبات الطبيعي
• تنمو بها حشائش السافانا .			

ثانياً : الأقاليم المناخية المعتدلة

تمتد بين دائرتي عرض من ٣٠° إلى ٤٥° شمال وجنوب دائرة الاستواء .



١ إقليم البحر المتوسط :

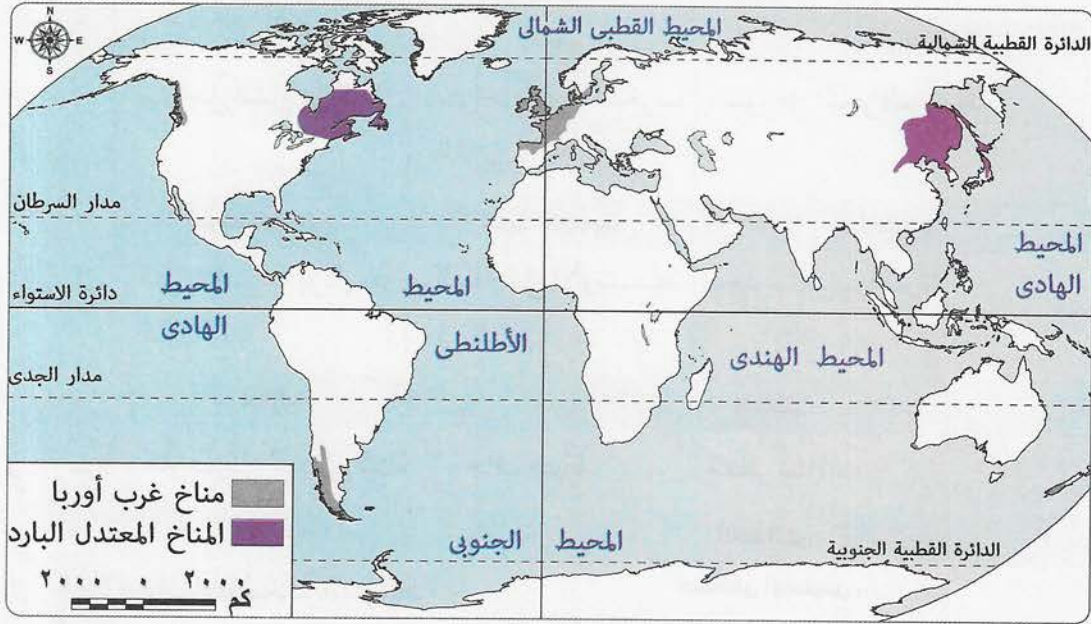
الموقع الفلكي			• (من ٣٠° إلى ٤٥° شمالاً وجنوباً) في كل قارات العالم (معظمها في الغرب) .		
الامتداد في		آسيا	إفريقيا	أوروبا	
		• سواحل الشام وتركيا .	• سواحل دول المغرب العربي .	• سواحل البحر المتوسط .	
الامتداد في		أمريكا الشمالية	أمريكا الجنوبية	أستراليا	
		• في الغرب بولاية كاليفورنيا .	• الساحل الأوسط في شيلي .	• جنوب غرب القارة .	
الخصائص المناخية			الحرارة	الأمطار	
			• حار صيفاً . • دافئ شتاءً .	• جاف صيفاً . • ممطر شتاءً .	
النبات الطبيعي			الغابات	الحشائش	
			• غابات البحر المتوسط أشجارها دائمة الخضرة ، وأهمها الزيتون .	• حشائش الإستبس	• تعرف في أمريكا الشمالية باسم حشائش البراري . • تنمو بالقرب من غابات البحر المتوسط وتستغل كمراع طبيعية .

٢ الإقليم المعتدل شرق القارات (الصيني) :

الموقع الفلكي			• (من ٣٠° إلى ٤٥° شمالاً وجنوباً) شرق القارات .		
الامتداد في		آسيا	إفريقيا - أمريكا الشمالية - أمريكا الجنوبية - أستراليا		
		• شرق الصين .	• الجنوب الشرقي .		
الخصائص المناخية			الحرارة	الأمطار	
			• مرتفعة صيفاً . • منخفضة شتاءً .	• طوال العام تزداد صيفاً .	
ملحوظة :			• يتعرض الإقليم أحياناً لعواصف مدارية ، مثل : عواصف التيفون .		
النبات الطبيعي		الغابات	الحشائش		
		• غابات الإقليم الصيني أشجارها دائمة الخضرة ، مثل الصفصاف والبلوط .	• حشائش الإستبس		• تنمو بالقرب من غابات الإقليم الصيني .

ثالثاً : الأقاليم المناخية المعتدلة الباردة

تمتد بين دائرتي عرض من 40° إلى 60° شمال وجنوب دائرة الاستواء .



١ إقليم غرب أوروبا :

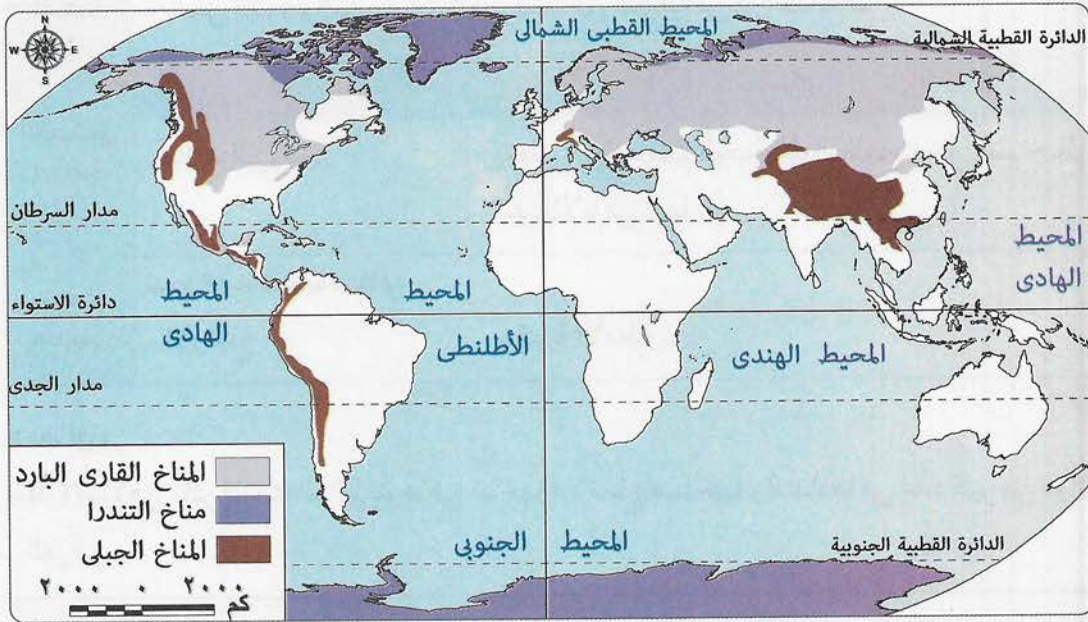
الموقع الفلكى • (45° - 60° غرب القارات) .	
أوروبا - أمريكا الشمالية	أمريكا الجنوبية
• شمالها الغربى .	• أقصى جنوبها الغربى .
الأمطار	الحرارة
• طوال العام تزداد فى الشتاء والخريف .	• دافئ صيفاً . • بارد شتاءً .
الغابات النفضية	
• سبب التسمية : لأن أشجارها تنفض أوراقها شتاءً لشدة البرودة . • أهم أشجارها : الزان .	

٢ الإقليم المعتدل البارد شرق القارات (اللورانسى) :

الموقع الفلكى • (من 45° إلى 60° شمالاً وجنوباً) شرق القارات .	
أمريكا الشمالية	آسيا
• شمالها الشرقى .	• شمال شرق الصين . • شمال اليابان .

الخصائص المناخية	الحرارة	الأمطار
	• معتدل صيفًا . • بارد شتاءً .	• طوال العام وخاصة في الصيف .
النبات الطبيعي	الغابات المخروطية	
	أهم أشجارها : • الصنوبر . • الشربين .	
الحيوانات	• ذات فرو كثيف مثل الدب القطبي .	

رابعًا : الأقاليم المناخية الباردة



1 إقليم التندرا :

الموقع الفلكي	• يمتد فيما وراء الدائرتين ٦٠° شمالًا وجنوبًا .		
	• يسود في المناطق القطبية المتجمدة في قارات :		
الامتداد	أمريكا الشمالية	أوروبا	آسيا
	• شمال كندا .	• شمال القارة .	• الأجزاء القطبية شمال سيبيريا .
	أنتاركتيكا	أمريكا الجنوبية	
	• في كل القارة .	• بعض جزر المحيط المتجمد الجنوبي .	

الأمطار	الحرارة	الخصائص المناخية
• أمطار قليلة صيفًا . • تساقط الثلوج شتاءً .	• شديد البرودة حيث الشتاء الطويل والصيف القصير .	
• طحالب تنمو سريعًا في فصل ذوبان الجليد .		النبات الطبيعي
		الحيوانات • حيوان الرنة .

٢ الإقليم الجبلي :

الأمطار	الحرارة	الامتداد
• يشغل القمم والمنحدرات العليا للمناطق الجبلية في قارات العالم .		
• يغطي الجليد قمم الجبال طوال العام ، مثل قمم جبال الهيمالايا في آسيا .	• شديد البرودة .	الخصائص المناخية
• كمية الأمطار .	• الارتفاع .	النبات الطبيعي
• تنوع الحياة النباتية طبقًا ل :		

لاحظ أن :

- قارة آسيا هي أكثر قارات العالم تنوعًا في مناخها ؛ لاتساع مساحتها وامتدادها في عدد كبير من دوائر العرض .

أسئلة الشاطر على الدرس الثالث



(مجاب عنها)

السؤال الأول : اختر الإجابة الصحيحة من بين الإجابات الآتية :

- ١ يسود المناخ فى حوض نهر الكونغو .
 أ القطبى ب المدارى ج الاستوائى د المعتدل
- ٢ تنمو أشجار و فى الإقليم الاستوائى .
 أ الصنوبر/ المطاط ب المطاط/ الزان ج الزان/ الماهوجنى د المطاط/ الماهوجنى
- ٣ ينتمى شمال أستراليا للإقليم :
 أ الاستوائى ب المدارى الحار ج المعتدل البارد د القطبى
- ٤ أشجار جوز الهند من أهم الأشجار التى تنمو فى الإقليم :
 أ المعتدل البارد ب الاستوائى ج الموسمى د الصحراوى الحار
- ٥ تسقط الأمطار على هضبة أثيوبيا فى فصل لوجودها ضمن الإقليم الموسمى .
 أ الصيف ب الشتاء ج الربيع د الخريف
- ٦ تعتبر حديقة حيوان طبيعية .
 أ الغابات النفضية ب السافانا ج الصحارى المعتدلة د الغابات المعتدلة
- ٧ تُعرف حشائش فى أمريكا الشمالية باسم حشائش البرارى .
 أ التندرا ب الإستبس ج السافانا د الصحراء
- ٨ تنتمى ولاية كاليفورنيا لإقليم المناخى .
 أ البحر المتوسط ب الموسمى ج غزب أوروبا د شرق الصين
- ٩ من أهم أشجار الغابات المخروطية و
 أ الصنوبر/ الماهوجنى ب المطاط/ الشربين ج الصنوبر/ الشربين د الماهوجنى/ الشربين
- ١٠ يعيش حيوان الرنة فى إقليم :
 أ السافانا ب الإستبس ج التندرا د البحر المتوسط
- ١١ يوجد بقارة كل الأقاليم المناخية .
 أ إفريقيا ب آسيا ج أوروبا د أستراليا
- ١٢ حوض نهر الكونغو وحوض نهر يقعان فى إقليم مناخى واحد .
 أ السين ب الفولجا ج الأمزون د الدانوب

- ١٣ تنمو في كل الأقاليم المعتدلة الدفيئة .
- أ حشائش التندرا ب الغابات النفضية ج حشائش الإستبس د حشائش السافانا
- ١٤ أشجار تنمو في إقليم البحر المتوسط .
- أ المطاط ب الزيتون ج الصنوبر د جوز الهند
- ١٥ الغابات النفضية أشجارها تنفض أوراقها في فصل :
- أ الربيع ب الخريف ج الصيف د الشتاء
- ١٦ يتعرض أمريكا الشمالية لعواصف مدارية .
- أ جنوب غرب ب جنوب شرق ج شمال غرب د شمال شرق
- ١٧ تتدرج حشائش السافانا في الطول حسب :
- أ كمية المطر ب قربها من البحر ج بعدها عن الأنهار د وجود مياه جوفية
- ١٨ شمال شرق الصين يقع ضمن الإقليم :
- أ الموسمي ب الصيني ج الاستوائي د اللورانسي
- ١٩ يعيش الدب القطبي في الإقليم :
- أ الموسمي ب المداري ج المعتدل الدافئ د اللورانسي
- ٢٠ يسود المناخ شمال كندا .
- أ المداري الحار ب المعتدل البارد ج القطبي البارد د الموسمي
- ٢١ يتشابه الإقليم الموسمي و في موسم الأمطار .
- أ إقليم التندرا ب الإقليم المداري الحار
- ج إقليم البحر المتوسط د إقليم غرب أوروبا
- ٢٢ حوض نهر الأمزون ينتمي لإقليم المناخ :
- أ المعتدل البارد ب الاستوائي ج الموسمي د الجبلي
- ٢٣ تسقط الأمطار طوال العام في كل الأقاليم الآتية ما عدا الإقليم :
- أ الاستوائي ب الموسمي ج اللورانسي د غرب أوروبا
- ٢٤ من الحيوانات التي تعيش في الغابات الاستوائية :
- أ الرنة ب الدب القطبي ج الحيوانات المتسلقة د الإبل
- ٢٥ تقع جزيرة مدغشقر ضمن نطاق مناخ الإقليم :
- أ الاستوائي ب الموسمي ج المعتدل البارد د المعتدل الدافئ

- ٢٦ يوجد الإقليم في كل قارات العالم ما عدا أنتاركتيكا :
 أ الاستوائي ب المدارى الحار ج البحر المتوسط د غرب أوروبا
- ٢٧ أشجار الصفصاف والبلوط تنمو في :
 أ إقليم غرب أوروبا ب إقليم التندرا ج الإقليم الاستوائي د الإقليم الصينى
- ٢٨ أمطار الإقليم اللورانسى تسقط :
 أ فى الصيف فقط ب فى الشتاء فقط ج طوال العام د فى الخريف فقط
- ٢٩ هو إقليم مناخى يمتد من صفر إلى ١٠° شمالاً وجنوباً .
 أ الإقليم القطبى ب الإقليم الموسمى ج الإقليم الاستوائي د إقليم البحر المتوسط
- ٣٠ حشائش تعيش فيها حيوانات آكلة للعشب وأخرى آكلة للحوم .
 أ التندرا ب السافانا ج الإستبس د البرارى
- ٣١ هو إقليم مناخى يسود فى المناطق القطبية المتجمدة .
 أ إقليم البحر المتوسط ب الإقليم الموسمى ج إقليم التندرا د الإقليم المعتدل الدافئ
- ٣٢ يقع الساحل الأوسط لشيلى ضمن :
 أ الإقليم المدارى الحار ب إقليم البحر المتوسط ج إقليم غرب أوروبا د إقليم شرق الصين

السؤال الثانى : بم تفسر ... ؟

- ١ أهمية حشائش الإستبس .
 ٢ تدرج السافانا فى الطول .
 ٣ يعتبر إقليم السافانا حديقة حيوان طبيعية .
 ٤ تسمية الغابات النفضية بهذا الاسم .
 ٥ وجود معظم الأقاليم المناخية فى قارة آسيا .
 ٦ تنوع الحياة النباتية فى الإقليم الجبلى .
 ٧ سقوط الأمطار طوال العام فى حوض نهر الكونغو .

السؤال الثالث : ما النتائج المترتبة على ... ؟

- ١ اختلاف كمية الأمطار التى تسقط فى إقليم السافانا .
 ٢ وجود حيوانات آكلة للعشب وحيوانات آكلة للحوم فى إقليم السافانا .
 ٣ شدة البرودة شتاءً فى إقليم الغابات النفضية .
 ٤ اختلاف الحرارة والمطر طبقاً للارتفاع فى الإقليم الجبلى .

السؤال الرابع : ما أوجه الشبه والاختلاف بين ... ؟

- ١ إقليم المدارى الحار والإقليم الموسمى .
٢ إقليم البحر المتوسط والإقليم الصينى .
٣ إقليم الغابات النفضية والغابات المخروطية .

السؤال الخامس : لأى الأقاليم المناخية تنتمى المناطق الآتية ؟

- ١ حوض نهر الأمزون . (.....)
٢ شمال إفريقيا . (.....)
٣ جنوب الصين . (.....)
٤ جزر إندونيسيا . (.....)
٥ جنوب شرق أستراليا . (.....)
٦ شمال غرب أوروبا . (.....)

السؤال السادس : أين تنمو الأشجار الآتية ؟

- ١ الزان . (.....)
٢ الصنوبر . (.....)
٣ الزيتون . (.....)
٤ الصفصاف . (.....)

السؤال السابع : ما هو موسم تساقط الأمطار فى الأقاليم الآتية ؟

- ١ المدارى الحار . (.....)
٢ البحر المتوسط . (.....)
٣ الموسمى . (.....)
٤ الصينى . (.....)

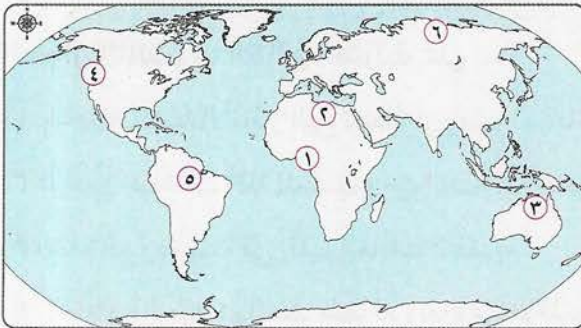
السؤال الثامن : فى أى الأقاليم النباتية تعيش الحيوانات الآتية ؟

- ١ الزواحف . (.....)
٢ الأسود . (.....)
٣ الرنة . (.....)
٤ الدب القطبى . (.....)
٥ الحيوانات المتسلقة . (.....)

السؤال التاسع : قارن بين :

الأقاليم المناخية التى توجد فى قارة أستراليا وفى قارة إفريقيا .

السؤال العاشر : أمامك خريطة صماء للعالم ، وضح مدلول الأرقام التى عليها :



- ١ إقليم مناخى
٢ نباتات
٣ غابات
٤ إقليم مناخى
٥ غابات
٦ إقليم مناخى

أسئلة وردت فى امتحانات المحافظات على الدرس الثالث



(مجاب عنها)

السؤال الأول : اختر الإجابة الصحيحة من بين الإجابات الآتية :

- ١ يتميز إقليم غرب أوروبا بأن أمطاره :
 أ صيفية ب شتوية ج طوال العام د نادرة
 (الغربية ٢٠٢١)
- ٢ الصنوبر والشربين من أهم أشجار الغابات :
 أ الاستوائية ب المخروطية ج الموسمية د النفضية
 (القاهرة ٢٠٢١)
- ٣ تنمو الغابات النفضية غرب القارات ومن أهم أشجارها :
 أ الزان ب المطاط ج الماهوجنى د الزيتون
 (القاهرة ٢٠١٩)
- ٤ يعتبر من أهم أشجار الغابات الاستوائية .
 أ المطاط ب الزيتون ج الصنوبر د الزان
 (الإسكندرية ٢٠١٧)
- ٥ تنمو فى شمال اليابان أشجار :
 أ الزيتون ب الماهوجنى ج المطاط د الصنوبر
 (الغربية ٢٠٢١)
- ٦ يعتبر الصفصاف والبلوط من أشجار الغابات :
 أ الاستوائية ب الموسمية ج الإقليم الصينى د المدارية
 (السويس ٢٠٢١)
- ٧ يعيش حيوان الرنة فى إقليم :
 أ غرب أوروبا ب البحر المتوسط ج الصحراوى المعتدل د التندرا
 (الفيوم ٢٠٢١)
- ٨ يقع فى نفس عروض إقليم البحر المتوسط شرق القارات الإقليم :
 أ الجبلى ب اللورانسى ج الصينى د الموسمى
 (الإسكندرية ٢٠٢١)
- ٩ من الأقاليم المناخية التى تتميز بسقوط الأمطار طوال العام :
 أ المدارى ب البحر المتوسط ج الصينى د الموسمى
 (كفر الشيخ ٢٠١٩)
- ١٠ ينتمى الإقليم الموسمى للأقاليم المناخية :
 أ الحارة ب المعتدلة الدفيئة ج المعتدلة الباردة د الباردة
 (أسوط ٢٠١٩)

السؤال الثانى : بم تفسر ... ؟

- ١ نمو الغابات الموسمية فى جزيرة مدغشقر .
 (القاهرة ٢٠٢١ / أسوط ٢٠١٩)
- ٢ تنوع الحياة النباتية فى إقليم المناخ الجبلى .
 (البحر الأحمر ٢٠٢١)
- ٣ تعد حشائش السافانا حديقة حيوان طبيعية .
 (الفيوم ٢٠٢١ / الشرقية ٢٠١٨)
- ٤ تسمية الغابات النفضية بهذا الاسم .
 (دمياط ٢٠٢٠)

٥ تنمو أشجار جوز الهند فى شبه جزيرة الهند الصينية . (الإسكندرية ٢٠٢٠)

٦ تنفض الغابات النفضية أوراقها فى فصل الشتاء . (كفر الشيخ ٢٠١٩)

٧ يختلف المناخ فى إقليمى البحر المتوسط والصينى رغم وقوعهما فى دوائر عرضية واحدة . (الدقهلية ٢٠١٦)

السؤال الثالث : دلى جغرافيًا :

يتشابه الإقليم المناخى المدارى مع الإقليم المناخى الموسمى فى بعض الخصائص المناخية والنباتية . (الغربية ٢٠٢١)

السؤال الرابع : قارن بين :

١ إقليم غرب أوروبا والإقليم اللورانسى ، من حيث :

• الخصائص المناخية .

• الخصائص النباتية .

٢ الإقليم الاستوائى وإقليم البحر المتوسط ، من حيث :

• الخصائص المناخية .

• الخصائص النباتية .

السؤال الخامس : فى أى الأقاليم المناخية يوجد ما يلى ؟

(بنى سويف ٢٠٢١)

١ حيوان الرنة . (.....) ٢ أشجار الزان . (.....)

السؤال السادس : ما هو موسم تساقط الأمطار فى الأقاليم الآتية ؟

(القاهرة ٢٠١٥)

١ غرب أوروبا . (.....) ٢ الموسمى . (.....)

٣ البحر المتوسط . (.....)

السؤال السابع : إلى أى الأقاليم المناخية تنتمى المنطقتان الآتيتان مع ذكر الخصائص النباتية

(الغربية ٢٠١٧)

وأهم الحيوانات بكل إقليم :

١ شمال اليابان . (.....) ٢ شمال كندا . (.....)

السؤال الثامن : ما أوجه الشبه والاختلاف بين ... ؟

(الجيزة ٢٠٢٠)

نباتات إقليم البحر المتوسط ونباتات إقليم شرق القارات (الصينى) .

السؤال التاسع : ماذا يحدث إذا ... ؟

(الدقهلية ٢٠١٨)

لم تسقط الأمطار على إقليم نباتات البحر المتوسط .

اختبار المتفوقين على الدرس الثالث



(يجيب عنه الطالب)

السؤال الأول : حدد نوع الإقليم المناخى السائد فى المدن الآتية :

- ١ الإسكندرية . (.....) ٢ طوكيو . (.....)
٣ أديس أبابا . (.....) ٤ بيروت . (.....)
٥ نيودلهى . (.....) ٦ لندن . (.....)

السؤال الثانى : اختر الإجابة الصحيحة من بين الإجابات الآتية :

- ١ يرتبط طول الحشائش بـ :
أ درجة الحرارة فقط
ب درجة الحرارة وكمية الأمطار
ج قربها من البحر
د قربها من اليابس
- ٢ القارة التى يوجد بها كل الأقاليم المناخية ، هى قارة :
أ آسيا
ب أنتاركتيكا
ج أستراليا
د أمريكا الشمالية
- ٣ كل ما يلى يوجد بقارة إفريقيا ما عدا :
أ أشجار الماهوجنى
ب السافانا القصيرة
ج حشائش الإستبس
د أشجار الصنوبر
- ٤ يتشابه موسم المطر فى كل من :
أ إندونيسيا وفرنسا
ب الكونغو والمكسيك
ج إندونيسيا والكونغو
د فرنسا والكونغو

السؤال الثالث : بم تفسر ... ؟

- ١ وجود الحيوانات المتسلقة والزواحف والطيور بالغابات الاستوائية .
٢ لا توجد أقاليم حارة فى قارة أوروبا .
٣ تقل كثافة وتشابك أشجار الإقليم المدارى الحار عن الإقليم الاستوائى .

السؤال الرابع : دلل على صحة العبارتين الآتيتين ... ؟

- ١ يوجد فى دولة الصين عدة أقاليم مناخية .
٢ هناك تشابه بين الإقليم الاستوائى وإقليم غرب أوروبا البارد .

.....
١٠

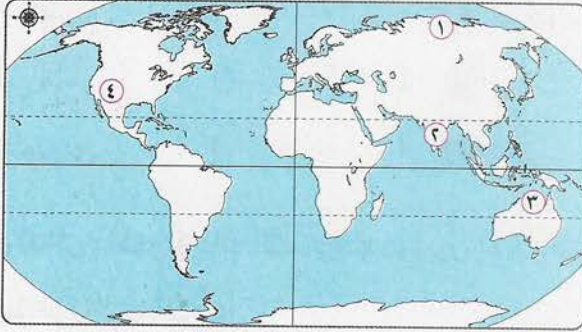
اختبار الشاطر التراكمي على ما سبقت دراسته



(يجب عنه الطالب)

.....
٢

السؤال الأول : أمامك خريطة صماء للعالم ، وضح مدلول الأرقام التي عليها :



- ١ إقليم مناخى
- ٢ هضبة
- ٣ غابات
- ٤ جبال

.....
٣

السؤال الثانى : اختر الإجابة الصحيحة من بين الإجابات الآتية :

- ١ الأرض التى يجرى بها النهر وأحد روافده وتنحدر مياهه إليه :
 - أ دلتا النهر
 - ب حوض النهر
 - ج مصب النهر
 - د منبع النهر
- ٢ مساحة محددة من الأرض لها خصائص مناخية محددة :
 - أ الإقليم المناخى
 - ب حوض النهر
 - ج الطقس
 - د التضاريس
- ٣ إقليم نباتى ، ويعتبر حديقة حيوان طبيعية إقليم :
 - أ الإستبس
 - ب السافانا
 - ج التندرا
 - د الغابات النفضية

.....
٣

السؤال الثالث : بم تفسر ... ؟

- ١ تنوع الأقاليم المناخية فى العالم .

- ٢ تسمية الغابات النفضية بهذا الاسم .

- ٣ ضيق السهول الساحلية الواقعة غرب قارة أمريكا الجنوبية .

.....
٢

السؤال الرابع : قارن بين :

■ الإقليم المناخى المدارى وإقليم مناخ التندرا ، من حيث :

- ١ الموقع .
- ٢ الخصائص المناخية .

أهم المفاهيم التي وردت بالوحدة الأولى :

المفهوم	المعنى
١ - الموقع الفلكي	هو موقع المكان بالنسبة لخطوط الطول ودوائر العرض .
٢ - الموقع الجغرافي	هو موقع المكان بالنسبة للأماكن الأخرى من بحار ومحيطات وقارات أو دول مجاورة .
٣ - الدول الجزرية	هي الدول التي تتكون من جزيرة أو أكثر ، أو قد تكون جزءاً من جزيرة .
٤ - حوض النهر	هو الأرض التي يجري فيها النهر وأحد روافده وتنحدر مياهه إليه .

احرص على اقتناء



الوحدة الثانية : جغرافية سكان العالم

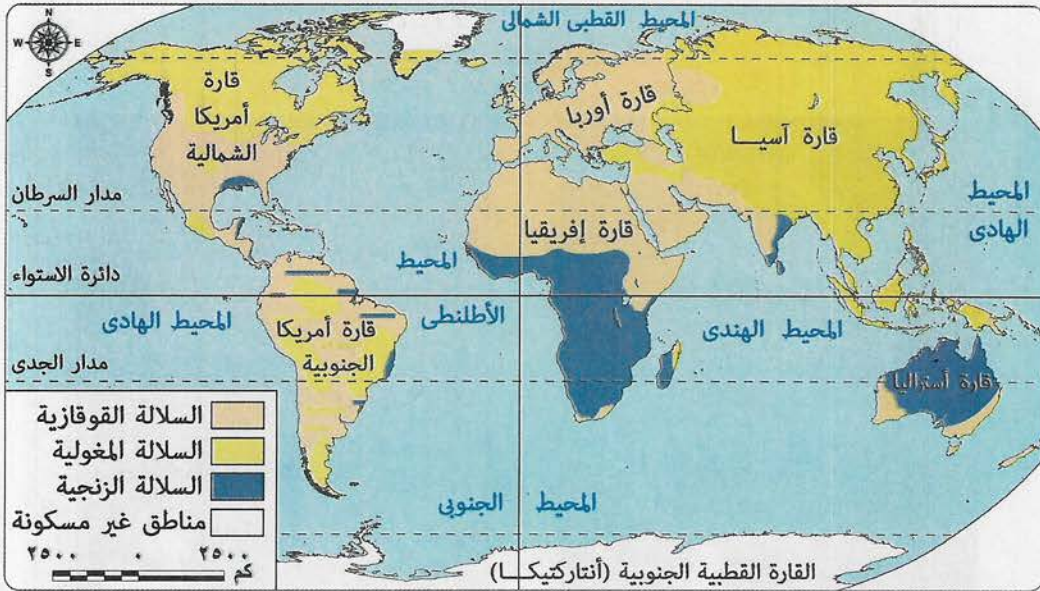
الدرس الأول : السلالات البشرية في العالم

أهم نقاط الدرس :

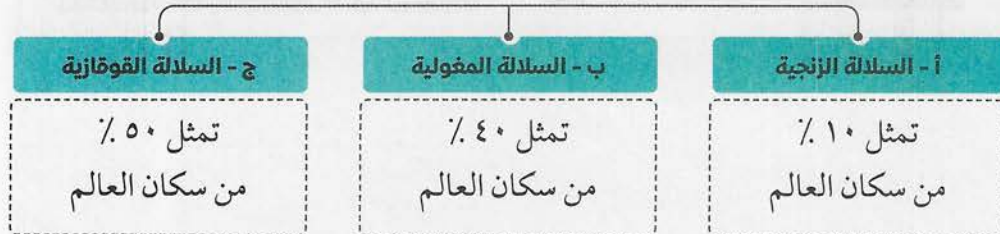
- انتشر الإنسان في قارات العالم المختلفة في أواخر عصر البليستوسين .
- مع استقرار الإنسان في البيئات بدأ يؤثر فيها ويتأثر بها .
- نشأت السلالات البشرية بسبب ..

اختلافات الصفات الوراثية بين البشر من حيث :

- لون البشرة .
- طول القامة .
- حجم الرأس .
- شكل العين والأنف .
- السلالات البشرية أصلها واحد ولكن تم تقسيمها على أسس ظاهرية (حسب الشكل الخارجى) وليست صفات جوهرية فلا توجد سلالة أكثر ذكاء من الأخرى .



١ السلالات البشرية الرئيسية :



(أ) السلالة الزنجية				الصفات الجسمية
الشعر	الشفاه	الأنف	البشرة	
• الأجدع .	• الغليظة .	• العريض .	• الداكنة .	
<p>أقسامها</p> <ul style="list-style-type: none"> • الزنوج السودانيون . • النيليون الحاميون . • الأقزام . • البوشمن والهوتتوت . • البانتو . 				
<p>تتركز في :</p> <p>١ - إفريقيا :</p> <ul style="list-style-type: none"> • ٧٠٪ من سكان إفريقيا زنوج . • ٧٥٪ من زنوج العالم يعيشون في إفريقيا قرب دائرة الاستواء . <p>٢ - أوروبا :</p> <ul style="list-style-type: none"> • يمثلون نسبة من سكان دول القارة وقد حصلوا على جنسية هذه الدول . <p>٣ - الأمريكتين :</p> <ul style="list-style-type: none"> • تعرض عدد كبير من زنوج إفريقيا للهجرات الإجبارية حيث كان ذلك ضمن تجارة العبيد (التي كانت سائدة في الماضي) ، وذلك للعمل في مزارع القطن وقصب السكر والتبغ التي أنشأها الأوروبيون في الأمريكتين . 				توزيعها

(ب) السلالة المغولية (الصفراء)				الصفات الجسمية
الشعر	العيون	البشرة		
• الأسود المسترسل .	• المنحرفة .	• الصفراء .		
٣ - جماعة التنجوس	٢ - الهنود الحمر	١ - الإسكيمو		أقسامها
• يعيشون في سيبيريا .	• يعيشون في الأمريكتين .	• يعيشون في شمال كندا وألاسكا .		
<p>تتركز في :</p> <p>١ - آسيا :</p> <ul style="list-style-type: none"> • الصين . • اليابان . • كوريا . • منغوليا . • سيبيريا . • دول جنوب شرق القارة . <p>٢ - توجد في بعض المناطق في الأمريكتين .</p>				توزيعها

ملحوظة هامة :

■ تزيد نسبة السلالة المغولية عن ٤٠٪ من سكان العالم ، بسبب : أن النسبة الكبرى من سكان الصين ودول شرق وجنوب شرق آسيا ، وهم من أكثر دول العالم سكانًا ، ينتمون لهذه السلالة المغولية .

ج (السلالة القوقازية)			الصفات الجسمية
الشفاه	الشعر	البشرة	
• الرفيعة .	• المتموج .	• البيضاء الوردية .	أقسامها • ينتمي لها العرب وعدد كبير من سكان جنوب أوروبا .
٣ - المجموعة النوردية الشمالية	٢ - المجموعة الألبية	١ - مجموعة سكان حوض البحر المتوسط	
• هم معظم سكان دول شمال أوروبا .	• هم سكان غرب ووسط أوروبا .	• هم سكان كبير من سكان جنوب أوروبا .	

٢ السلالات البشرية في الوقت الحاضر :

لاحظ أن :

- في الوقت الحاضر لا يوجد في العالم سلالة بشرية نقية إلا في بعض المجتمعات البدائية ، ويرجع ذلك إلى : انصهار السلالات واختلاط الصفات الطبيعية التي تميز كل سلالة عن الأخرى .

بعض أنواع السلالات النقية الموجودة في العالم حالياً		السلالة	موقعها
(١)	• سلالة زنجية قصيرة القامة لم تختلط غيرها من السلالات وتعيش في مجتمعات بدائية وهي في طريقها للانقراض .		
(٢)	• الإسكيمو .	• هم سلالة مغولية تعيش في صحارى التندرا الباردة شمال كندا .	
(٣)	• الهنود الحمر .	• هم سلالة مغولية تعيش في غابات وجبال أمريكا الجنوبية .	
(٤)	• الأستراليون الأصليون .	• يعيشون في بعض مناطق أستراليا .	

لاحظ أن :

- لا توجد دولة في العالم يتكون شعبها من سلالة واحدة .

مثال على ذلك :

(أ) الولايات المتحدة الأمريكية	(ب) الدول العربية	
يضم شعبها سلالات مختلفة حيث يوجد بها :	• العرب ليسوا من سلالة واحدة ، فالأغلبية العربية من السلالة القوقازية ولكن مع حدوث الفتوحات والهجرات على مر التاريخ حدث اختلاط مع السلالات الأخرى .	
١ - السلالة الزنجية		• الذين قدموا من إفريقيا عن طريق الهجرة الإجبارية .
٢ - السلالة القوقازية		• وهم السكان البيض القادمون من أوروبا .
٣ - السلالة المغولية	• وهم الهنود الحمر الذين يمثلون السكان الأصليين .	

أسئلة الشاطر على الدرس الأول



(مجاب عنها)

السؤال الأول : اختر الإجابة الصحيحة من بين الإجابات الآتية :

- ١ انتشر الإنسان في قارات العالم في أواخر عصر :
 - أ الإليجوسين
 - ب الميوسين
 - ج البلايستوسين
 - د الأيوسين
- ٢ تتركز السلالة في قارة إفريقيا .
 - أ المغولية
 - ب القوقازية
 - ج الزنجية
 - د النوردية
- ٣ من أقسام السلالة الزنجية :
 - أ النوردية
 - ب البانتو
 - ج الإسكيمو
 - د الهنود الحمر
- ٤ جماعة التنجوس التي تعيش في سيبيريا تنتمي للسلالة :
 - أ القوقازية
 - ب الزنجية
 - ج المغولية
 - د النوردية
- ٥ ينتمي سكان إلى السلالة القوقازية .
 - أ شمال آسيا
 - ب شمال إفريقيا
 - ج جنوب إفريقيا
 - د وسط إفريقيا
- ٦ تتميز السلالة المغولية بالبشرة :
 - أ السوداء
 - ب البيضاء
 - ج الصفراء
 - د الداكنة
- ٧ تتميز السلالة الزنجية بالشفاه :
 - أ الرفيعة
 - ب الغليظة
 - ج الصغيرة
 - د البيضاء
- ٨ يتركز $\frac{3}{4}$ سكان العالم من السلالة الزنجية في قارة :
 - أ آسيا
 - ب أوروبا
 - ج إفريقيا
 - د أستراليا
- ٩ سكان الصين ينتمون للسلالة :
 - أ الزنجية
 - ب المغولية
 - ج القوقازية
 - د النوردية
- ١٠ السكان الزنوج في الأمريكتين جاءوا إليها :
 - أ بشكل اختياري
 - ب كمستعمرين
 - ج بشكل إجباري
 - د كمكتشفين
- ١١ البوشمن والهننتوت من أقسام السلالة :
 - أ النوردية
 - ب المغولية
 - ج القوقازية
 - د الزنجية
- ١٢ معظم سكان السلالة المغولية يتركزون في قارة :
 - أ إفريقيا
 - ب أوروبا
 - ج آسيا
 - د أستراليا
- ١٣ العيون المنحرفة من السمات الجسمية للسلالة :
 - أ الزنجية
 - ب المغولية
 - ج القوقازية
 - د الألبية

١٤ المجموعة الألبية هم سكان غرب ووسط:

أ آسيا ب أوروبا ج إفريقيا د أستراليا

١٥ سكان دولة المغرب ينتمون للسلالة:

أ الألبية ب الزنجية ج القوقازية د المغولية

١٦ الأنف العريض والشعر الأجدع من خصائص السلالة:

أ الزنجية ب المغولية ج القوقازية د كل ما سبق

١٧ سكان منغوليا ينتمون للسلالة:

أ الزنجية ب القوقازية ج النوردية د المغولية

١٨ من أقسام السلالة القوقازية:

أ البانتو ب الإسكيمو ج جماعة التنجوس د المجموعة الألبية

١٩ جاء الزنوج إلى الأمريكتين من قارة..... للعمل في مزارع القطن وقصب السكر.

أ آسيا ب أوروبا ج إفريقيا د أستراليا

٢٠ تتميز السلالة القوقازية ب:

أ الشعر الأسود المسترسل ج الشفاه الرفيعة
ب الشفاه الغليظة د العيون المنحرفة

٢١ من السلالات النقية الموجودة في الوقت الحاضر:

أ المجموعة النوردية الشمالية ج الإسكيمو
ب مجموعة سكان البحر المتوسط د الزنوج السودانيون

٢٢ تعيش جماعة التنجوس في:

أ جنوب الهند ب شمال إفريقيا ج سيبيريا د اليابان

٢٣ أكبر نسبة لعدد سكان العالم يتمثل في السلالة:

أ المغولية ب النوردية ج القوقازية د الزنجية

٢٤ من أقسام السلالة..... النيليون الحاميون.

أ القوقازية ب المغولية ج الزنجية د الألبية

٢٥ تعيش جماعة التنجوس في:

أ جنوب إفريقيا ب شمال إفريقيا ج سيبيريا د جنوب أوروبا

٢٦ البشرة البيضاء الوردية من سمات السلالة:

أ المغولية ب القوقازية ج الزنجية د البانتو

السؤال الثانى : بم تفسر ... ؟

- ١ ظهور السلالات البشرية .
- ٢ وجود نسبة كبيرة من السلالة الزنجية فى الأمريكتين .
- ٣ نسبة السلالة المغولية فى العالم تزيد عن ٤٠ ٪ .
- ٤ لا يوجد فى الوقت الحاضر سلالة بشرية نقية .
- ٥ العرب ليسوا سلالة بشرية واحدة .

السؤال الثالث : ما النتائج المترتبة على ... ؟

- ١ هجرة الزنوج الإجبارية للأمريكتين .
- ٢ انصهار السلالات مع بعضها البعض .
- ٣ حدوث الفتوحات والهجرات على مر التاريخ فى البلاد العربية .

السؤال الرابع : دلل على صحة العبارتين الآتيتين :

- ١ تتعدد أقسام السلالة الزنجية .
- ٢ لا يوجد فى الوقت الحاضر سلالة بشرية نقية .

السؤال الخامس : إلى أى السلالات البشرية تنتمى الأقسام الآتية ... ؟

- ١ المجموعة الألبية . (.....)
- ٢ الإسكيمو . (.....)
- ٣ المجموعة النوردية الشمالية . (.....)
- ٤ الباتو . (.....)
- ٥ جماعة التنجوس . (.....)
- ٦ الأقزام . (.....)

السؤال السادس : انسب الصفات الجسمية الآتية إلى نوع السلالة البشرية التى تنتمى لها :

- ١ العيون المنحرفة . (.....)
- ٢ البشرة الداكنة . (.....)
- ٣ الشعر الأسود المسترسل . (.....)
- ٤ الأنف العريض . (.....)
- ٥ البشرة البيضاء الوردية . (.....)
- ٦ الشفاه الرفيعة . (.....)

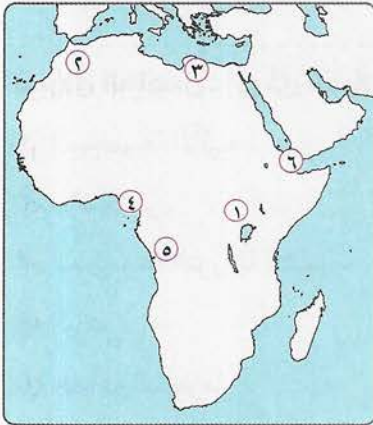
السؤال السابع : حدد نوع السلالة البشرية التي تعيش فى المناطق الآتية :

- ١ شمال كندا . (.....)
- ٢ اليابان . (.....)
- ٣ جنوب شرق الهند . (.....)
- ٤ تونس . (.....)
- ٥ دول غرب أوروبا . (.....)
- ٦ الصين . (.....)

السؤال الثامن : ما العلاقة بين ... ؟

- ١ الهجرات الإجبارية ووجود الزنوج فى أمريكا الشمالية .
- ٢ الفتوحات والهجرات فى الدول العربية على مر التاريخ والسلالات البشرية .
- ٣ انصهار السلالات البشرية وعدم وجود شعب من سلالة واحدة .

السؤال التاسع : أمامك خريطة صماء لقارة إفريقيا ، وضح مدلول الأرقام التى عليها :



- ١ هضبة
- ٢ جبال
- ٣ سلالة بشرية
- ٤ إقليم مناخى
- ٥ سلالة بشرية
- ٦ مضيق

أسئلة وردت في امتحانات المحافظات على الدرس الأول



(مجاب عنها)

السؤال الأول: اختر الإجابة الصحيحة من بين الإجابات الآتية:

١. تنتمي مجموعة إلى السلالة الزنجية .
 (القليوبية ٢٠١٨)
 - أ. التنجوس
 - ب. البانتو
 - ج. النوردية
 - د. الإسكيمو
٢. تمثل السلالة نصف سكان العالم وتنتشر في قارات العالم المختلفة .
 (الفيوم ٢٠٢١)
 - أ. الزنجية
 - ب. المغولية
 - ج. القوقازية
 - د. الهندية
٣. أحد أقسام السلالة المغولية .
 (الأقصر ٢٠٢١)
 - أ. التنجوس
 - ب. الأقزام
 - ج. البانتو
 - د. البوشمن
٤. ينتمي معظم سكان دول شمال أوروبا إلى المجموعة :
 (الإسماعيلية ٢٠١٧)
 - أ. الألبية
 - ب. النوردية
 - ج. المغولية
 - د. الزنجية
٥. ينتمي العرب إلى السلالة :
 (القليوبية ٢٠١٥)
 - أ. المغولية
 - ب. القوقازية
 - ج. الزنجية
 - د. النوردية
٦. تتميز السلالة بالبشرة الداكنة والشفاة الغليظة .
 (البحر الأحمر ٢٠١٦)
 - أ. القوقازية
 - ب. الزنجية
 - ج. المغولية
 - د. النوردية

السؤال الثاني: بم تفسر ... ؟

١. انتقال عدد كبير من زنوج إفريقيا إلى الأمريكتين .
 (المنوفية ٢٠١٨ / السويس ٢٠٢٠، وأخرى)
٢. العرب ليسوا سلالة واحدة .
 (المنوفية ٢٠١٨ / القاهرة ٢٠٢٠)
٣. تقسيم السلالات البشرية ظاهرياً وليس جوهرياً .
 (القليوبية ٢٠١٨)
٤. نشأة السلالات البشرية .
 (الإسكندرية ٢٠١٨)
٥. ندرة وجود السلالات النقية في الوقت الحاضر في العالم .
 (الغربية ٢٠١٧)

السؤال الثالث: دلل على صحة العبارات الآتية :

١. بعض السلالات نقية في الوقت الحاضر .
 (البحيرة ٢٠١٨)
٢. أثرت الهجرات على تعدد السلالات في الولايات المتحدة الأمريكية .
 (الغربية ٢٠٢٠)
٣. الأسس التي تم على أساسها تقسيم السلالات البشرية أسس ظاهرية وليست جوهريه .
 (بنى سويف ٢٠٢١)

السؤال الرابع: وضح العلاقة بين :

- الهجرة الإجبارية وانتشار السلالة الزنجية خارج إفريقيا .
 (سوهاج ٢٠١٨)

اختبار المتفوقين على الدرس الأول



(يجب عنه الطالب)

السؤال الأول : اذكر أنواع السلالات البشرية التي توجد في المناطق الآتية :

- ١ شمال روسيا . (.....)
- ٢ البرازيل . (.....)
- ٣ تونس . (.....)
- ٤ السويد . (.....)

السؤال الثاني : اختر الإجابة الصحيحة من بين الإجابات الآتية :

- ١ كل الأقسام الآتية توجد في قارة إفريقيا ما عدا :
 أ البانتو ب الهنود الحمر ج الأقزام د البوشمن
- ٢ ينتمي سكان جنوب البحر المتوسط للسلالة :
 أ المغولية ب الزنجية ج القوقازية د التنجوس
- ٣ أكثر دولة توضح حقيقة امتزاج السلالات ، هي دولة :
 أ مصر ب المغرب ج الصين د الولايات المتحدة

السؤال الثالث : حدد أسماء أربع قارات تعيش فيها السلالة المغولية في العالم .

.....

.....

السؤال الرابع : قارن بين :

السلالات النقية في العالم الجديد والسلالات النقية في العالم القديم .

.....

.....

السؤال الخامس : ما هي ... ؟

أهم السلالات البشرية الموجودة في البلاد التي سيطر عليها محمد على أثناء حكمه .

.....

.....

.....
١٠

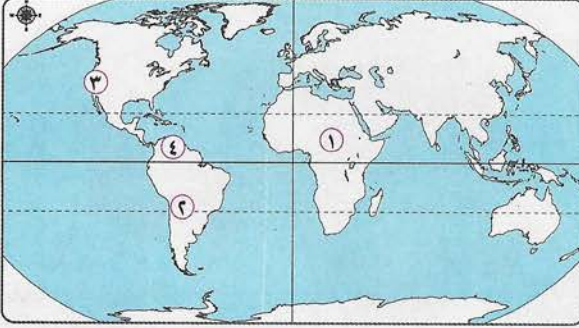
اختبار الشاطر على الدرس الأول



(يجب عنه الطالب)

.....
٢

السؤال الأول : أمامك خريطة صماء للعالم ، وضح مدلول الأرقام التي عليها :



- ١ سلالة بشرية
- ٢ جبال
- ٣ إقليم مناخى
- ٤ هضبة

.....
٣

السؤال الثانى : اختر الإجابة الصحيحة من بين الإجابات الآتية :

١ سلالة من السلالات النقية التى تنتمى لإحدى قارات العالم القديم ، وتعيش فى غابات وجبال إحدى قارات العالم الجديد .

أ البانتو ب البوشمن ج الهنود الحمر د الأقرام

٢ أقل نسبة من السلالات البشرية تتركز فى قارة :

أ أستراليا ب أوروبا ج آسيا د إفريقيا

٣ تعيش سلالة الإسكيمو فى صحارى التندرا شمال :

أ الهند ب فرنسا ج كندا د أستراليا

.....
٣

السؤال الثالث : إلى أى السلالات البشرية تنتمى هذه الأقسام ... ؟

- ١ جماعة التنجوس . (.....) ٢ الإسكيمو . (.....)
- ٣ الهنود الحمر . (.....) ٤ الأقرام . (.....)
- ٥ سكان جنوب أوروبا . (.....) ٦ البانتو . (.....)

.....
١

السؤال الرابع : قارن بين :

• السلالة الزنجية والسلالة المغولية ، من حيث :

أ أهم أقسامهما . ب صفاتهما الجسمية .

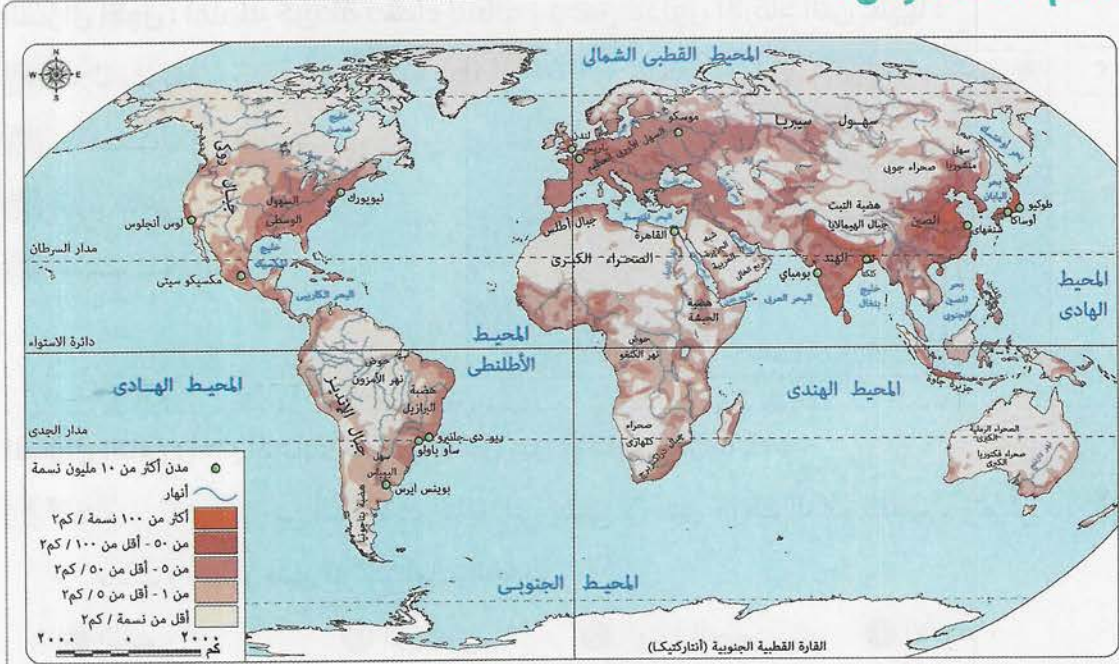
.....
١

السؤال الخامس : بم تفسر ... ؟

• لا يوجد شعب حالياً يعيش فيه سلالة بشرية نقية .

الدرس الثاني: توزيع السكان في العالم

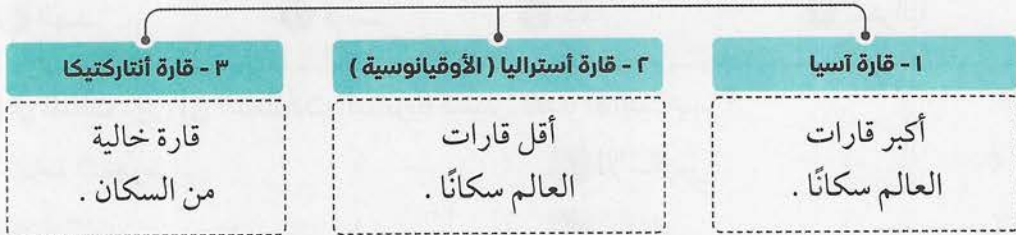
أهم نقاط الدرس:



توزيع سكان العالم

من قراءتنا لخريطة توزيع سكان العالم نلاحظ ما يلي:

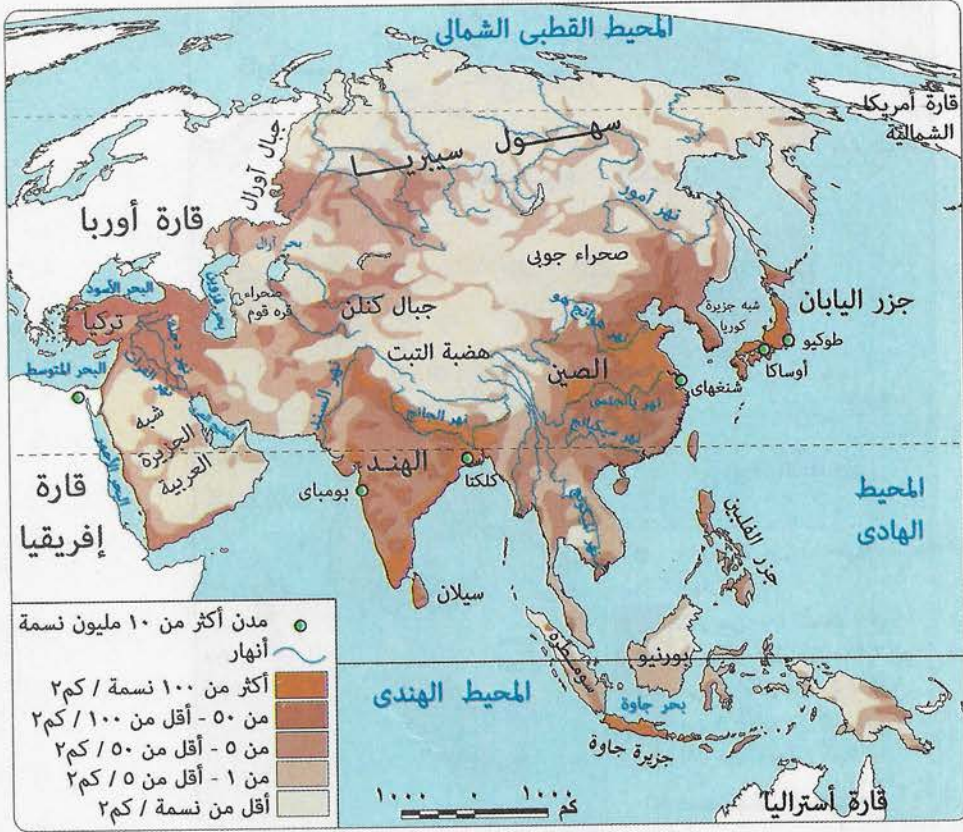
■ بلغ عدد سكان العالم نحو ٧,٢ مليار نسمة حسب تقديرات عام ٢٠١٤ م.



يتركز سكان العالم في



1 قارة آسيا :



• قارة آسيا أكبر قارات العالم سكاناً (٣, ٤ مليار نسمة) حوالي ٦٠٪ من إجمالي سكان العالم .

• يوجد بها أكبر دولتين في العالم من حيث السكان (الصين - الهند) .

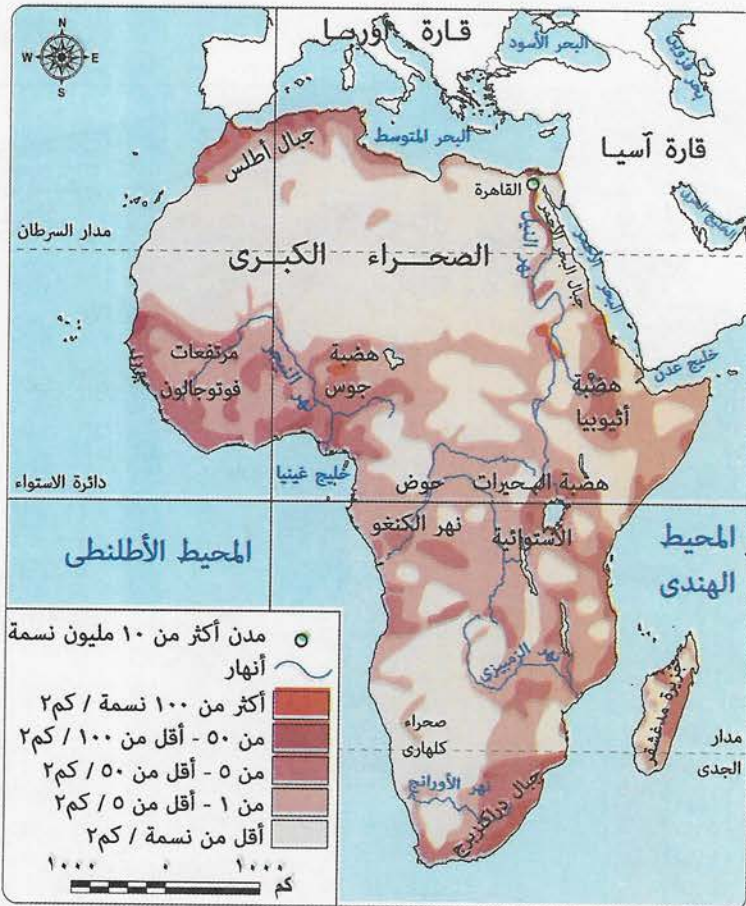
عدد سكانها	١ - السهول الفيضية	٢ - الجزر ذات التربة الجيدة
في	• سهول نهر الجانج في الهند . • سهول نهر اليانجستي في الصين . • جزر اليابان . • جزر الفلبين .	• جزيرة جاوة (أكثر مناطق العالم ازدحاماً بالسكان) . • جزر اليابان . • جزر الفلبين .

يقبل السكان في	١ - المناطق الشمالية	٢ - المناطق الصحراوية	٣ - المناطق الجبلية والهضاب وسط القارة
في	• سهول سيبيريا لبرودة الجو .	• شبه الجزيرة العربية .	• بسبب وعورة السطح .

ترتب على ذلك وجود عدة مشكلات ، منها :

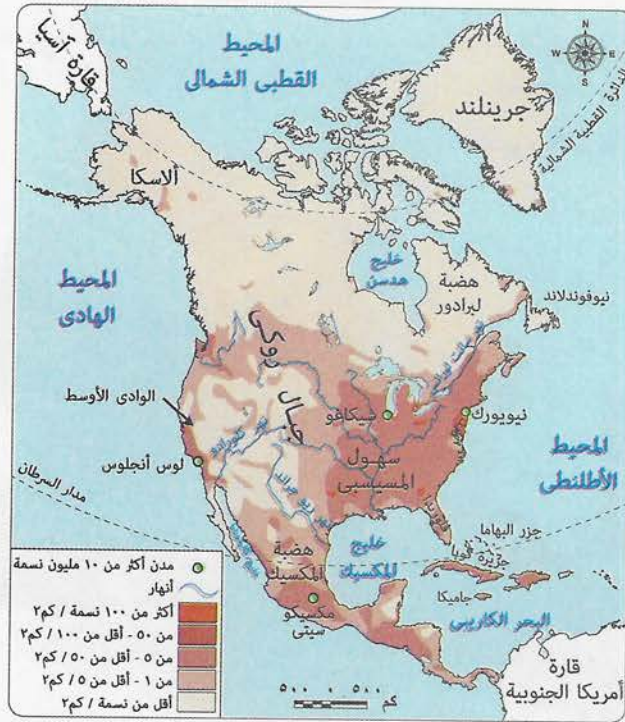
- نقص الغذاء .
- انخفاض مستوى المعيشة .
- قلة نصيب الفرد من الدخل القومي .
- وجود هجرات غير شرعية تتجه إلى الدول المتقدمة .

٢ قارة إفريقيا :



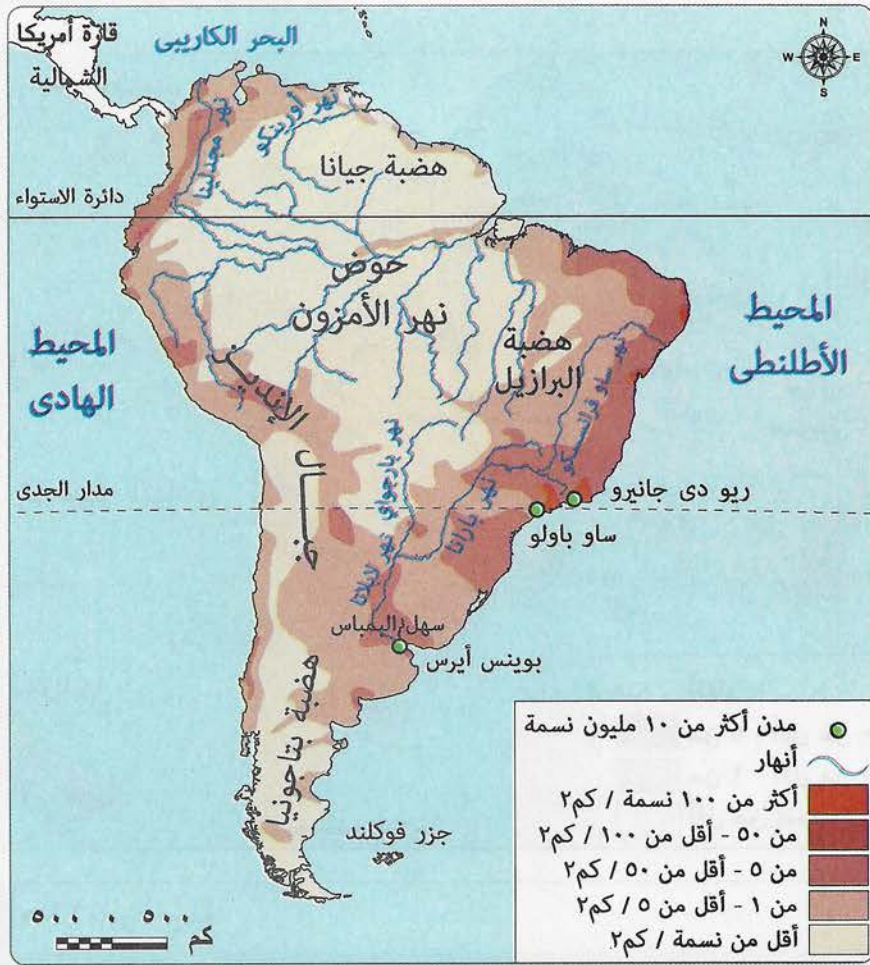
١,١ مليار نسمة .			عدد سكانها
٣ - المناطق المرتفعة في الدول المدارية	٢ - السهول الساحلية المعتدلة الخصبة	١ - السهول الفيضية الخصبة	يتركز السكان في
• أوغندا وكينيا ، وذلك لاعتدال المناخ بسبب ارتفاع السطح .	• سواحل البحر المتوسط في مصر ودول المغرب العربي .	• سهول وادي النيل في مصر والسودان .	
٣ - المناطق الاستوائية	٢ - بعض المناطق الجبلية	١ - المناطق الصحراوية الفقيرة	يقال السكان في
• بسبب نمو الغابات الكثيفة والبيئة الطبيعية القاسية التي تنتشر فيها الأمراض .	• جبال البحر الأحمر .	• الصحراء الكبرى . • صحراء كلهاري .	
<p>■ يتركز السكان في المناطق ذات المناخ المعتدل ، مثل : • السواحل . • المناطق مرتفعة السطح .</p> <p>■ يقل السكان في المناطق الحارة ، مثل : • المناطق الاستوائية . • المناطق الصحراوية .</p>			تأثير المناخ على توزيع سكان القارة

٤ قارة أمريكا الشمالية :



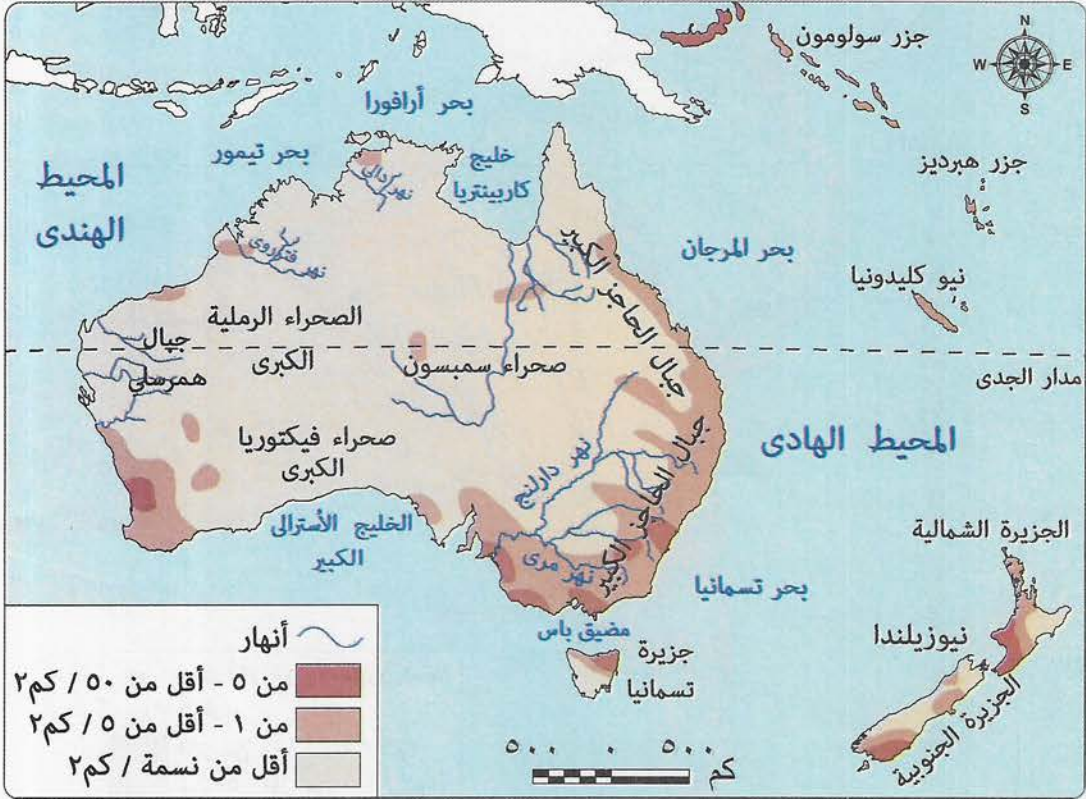
عدد سكانها • ٥٦٢ مليون نسمة .		أهم دول القارة سكانًا
٢ - المكسيك	١ - الولايات المتحدة الأمريكية	
• بها ٢١٪ من سكان القارة .	• بها ٥٧٪ من سكان القارة .	
٣ - باقى سكان القارة يتوزعون فى		يتركز السكان فى
• كندا . • دول أمريكا الوسطى (دول البرزخ) . • جزر البحر الكاريبى .		
١ - الولايات المتحدة الأمريكية		
١ (أ) الساحل الشمالى الشرقى		يقل السكان فى
• بسبب وجود الموارد الاقتصادية الضخمة والمدن الكبرى ومن أكبرها مدينة نيويورك .		
١ (ب) ولايات الوسط	١ (ج) منطقة البحيرات العظمى	
• بسبب وجود الأقاليم الزراعية فى سهول المسيسيبي .	• بسبب أنها منطقة ذات موارد اقتصادية ضخمة .	
٢ - المكسيك	٣ - كندا	يقل السكان فى
فى المدن الرئيسية ، مثل :	فى المدن الكبرى ، مثل :	
• مدينة مكسيكو سيتى (العاصمة) .	• مونتريال .	
١ - دول البرزخ	٢ - بعض الجزر الصغيرة	
• هندوراس . • كوستاريكا .		

٥ قارة أمريكا الجنوبية :



عدد سكانها ● ٤١٠ ملايين نسمة .			عدد سكانها
٣ - جويانا	٢ - الأرجنتين	١ - البرازيل	أهم دول القارة سكانياً
● هناك عدد من الدول يقل عدد السكان بها عن مليون نسمة .	● هناك عدد من دول القارة يزيد عدد سكانها عن ٤٠ مليون نسمة ، مثل دولة الأرجنتين .	● أكبر دول القارة سكانياً . ● تمثل ٥٠ ٪ من سكان القارة .	
السهول الساحلية			يتركز السكان في
٢ - هضبة البرازيل وسواحلها	١ - السهول الفيضية		
● لوجود المدن الكبرى .	● سهول الأورينكو في فنزويلا . ● سهول لابلاتا وتعرف في الأرجنتين بـ (سهول البمباس) .		
٢ - قمم جبال الإنديز	١ - سهول الأمازون الاستوائية		يقل السكان
٣ - هضبة بتاجونيا	● بسبب وجود الغابات الاستوائية . ● في جنوب القارة .		

٦ قارة أستراليا (الأوقيانوسية) :



عدد سكانها • ٣٩ مليون نسمة .		
٣ - جزر المحيط الهادي	٢ - نيوزيلندا	١ - دولة أستراليا
توزيع السكان		
<ul style="list-style-type: none"> • أكبر دول القارة سكاناً (٦٠٪ من السكان) . • ١١٪ من سكان القارة • في جزيرتي نيوزيلندا الشمالية والجنوبية . • النسبة الباقية من السكان توجد في الجزر المتناثرة في المحيط الهادي ، مثل جزر سولومون . 		
٢ - جنوب شرق القارة		١ - السواحل الشرقية للقارة
<ul style="list-style-type: none"> • لوجود : • الأراضي الزراعية الخصبة . • سهول نهري مري ودارلينج . 		<ul style="list-style-type: none"> • لوجود المدن الكبرى ، مثل : • سيدني . • المناطق الصناعية الكبرى .
٢ - وسط وغرب القارة		١ - شمال القارة
<ul style="list-style-type: none"> • بسبب الصحراء . 		<ul style="list-style-type: none"> • لوجود : • الغابات الموسمية . • حشائش السافانا .
يتركز السكان في		
يقبل السكان في		

أسئلة الشاطر على الدرس الثاني



(مجاب عنها)

السؤال الأول : اختر الإجابة الصحيحة من بين الإجابات الآتية :

- ١ قارة أكبر قارات العالم سكانًا .
 أ آسيا ب إفريقيا ج أوروبا د أمريكا الجنوبية
- ٢ تخلو قارة من السكان .
 أ أوروبا ب أستراليا ج أمريكا الشمالية د أنتاركتيكا
- ٣ جزيرة من أكثر مناطق العالم ازدحامًا بالسكان .
 أ مدغشقر ب جاوة ج صقلية د سيلان
- ٤ يوجد فى آسيا أكبر دولتين فى العالم ازدحامًا بالسكان وهما الصين و :
 أ اليابان ب الهند ج باكستان د كوريا الجنوبية
- ٥ يتركز السكان فى دولة فى قارة إفريقيا حيث يعتدل المناخ لارتفاع السطح .
 أ الجزائر ب أوغندا ج الكامرون د اليمن
- ٦ يتركز السكان فى دول غرب ووسط أوروبا مثل دولة :
 أ رومانيا ب بريطانيا ج روسيا د شيلي
- ٧ يقل السكان فى شمال أوروبا بسبب البرودة مثل دولة :
 أ فرنسا ب ألمانيا ج النرويج د إيطاليا
- ٨ يقل السكان فى دول البرزخ مثل دولة :
 أ كوستاريكا ب أوراجواى ج البرازيل د بلجيكا
- ٩ هى أكبر دول أمريكا الجنوبية سكانًا .
 أ كوبا ب باراجواى ج البرازيل د شيلي
- ١٠ يتركز السكان فى بسبب وفرة المياه وخصوبة التربة .
 أ المناطق الجبلية ب السهول الفيضية ج السهول الصحراوية د الغابات الاستوائية
- ١١ يقل السكان فى سيبيريا بسبب :
 أ وعورة السطح ب برودة الجو ج شدة الحرارة د وفرة المياه العذبة
- ١٢ يتركز السكان فى دولتى أوغندا وكينيا بسبب :
 أ القرب من المسطحات المائية ب الموقع الفلكي ج عامل الارتفاع د وجود الحشائش

- ١٣ من المدن الأوربية الصناعية التي يتركز بها السكان مدينة :
 أ بكين ب طوكيو ج مونتريال د لندن
- ١٤ يتركز سكان في المدن الكبرى مثل مدينة مونتريال .
 أ فرنسا ب ألمانيا ج كندا د المكسيك
- ١٥ يقل عدد السكان في دولة عن مليون نسمة .
 أ البرازيل ب جويانا ج شيلي د الأرجنتين
- ١٦ من الجزر التابعة لقارة جزر السولومون .
 أ أوروبا ب أستراليا ج آسيا د إفريقيا
- ١٧ يقل عدد السكان غرب أستراليا ل :
 أ برودة الجو ب سيادة الظروف الصحراوية
 ج وجود المرتفعات د كثرة الأمطار
- ١٨ يوجد بالولايات المتحدة الأمريكية أكثر من نصف أمريكا الشمالية .
 أ رُبُع ب ثُلث ج نِصْف د سُدس
- ١٩ يقل السكان في دولة بسبب شدة البرودة .
 أ زامبيا ب كولومبيا ج فنلندا د إيطاليا
- ٢٠ يتركز السكان في السهول الفيضية التي تجرى بها الأنهار مثل نهر في الصين .
 أ الأورانج ب الجانج ج اليانجستي د الفولجا
- ٢١ من المناطق الصحراوية التي يقل بها السكان في قارة إفريقيا :
 أ صحراء شبه الجزيرة العربية ب صحراء كلهاري
 ج شمال سيبيريا د صحراء أريزونا
- ٢٢ من المدن التي يتركز بها السكان في أستراليا مدينة :
 أ لندن ب جوهانسبرج ج سيدني د وارسو
- ٢٣ يتركز سكان أستراليا على السواحل حيث المدن الكبرى .
 أ الشمالية ب الغربية ج الشمالية الغربية د الشرقية
- ٢٤ يقل السكان في قارة في سهول نهر الأمزون .
 أ إفريقيا ب أستراليا ج أوروبا د أمريكا الجنوبية
- ٢٥ يقل السكان شمال أستراليا في مناطق :
 أ الغابات الاستوائية ب الجبال ج حشائش السافانا د المناطق القطبية

- ٢٦ الهجرة التي تتم من خلال وسائل غير قانونية تسمى هجرة :
 أ حرة ب مؤقتة ج غير شرعية د سريعة
- ٢٧ السهول الفيضية التي يقل فيها عدد السكان بقارة أمريكا الجنوبية ، هي سهول نهر :
 أ الفولجا ب باراجواي ج الأمزون د الأورينكو
- ٢٨ سهول تُعرف في الأرجنتين بسهول البمباس .
 أ نهر الأمزون ب لابلاتا ج المسيسيبي د نهر النيل
- ٢٩ مجموعة من الدول يقل فيها السكان بأمريكا الشمالية مثل هندوراس وكوستاريكا تسمى دول :
 أ الإيكوس ب عدم الانحياز ج البرزخ د البلطيق
- ٣٠ يقل السكان في وسط قارة آسيا بسبب :
 أ وجود الغابات ب وعورة السطح ج وجود السهول الفيضية د ارتفاع الحرارة

السؤال الثاني : بم تفسر ... ؟

- ١ تركيز السكان في سهول اليانجستي .
 ٢ جزيرة جاوة من أكبر جزر العالم ازدحامًا بالسكان .
 ٣ قلة عدد السكان في سيبيريا .
 ٤ قارة آسيا من أكبر قارات العالم سكانًا .
 ٥ وجود هجرات غير شرعية في قارة آسيا .
 ٦ تركيز السكان في دولتي أوغندا وكينيا بالرغم من موقعهما الفلكي .
 ٧ قلة السكان في غابات الأمزون الاستوائية .
 ٨ يقل السكان في دول شرق أوروبا عن غربها .
 ٩ قلة السكان في دولتي فنلندا والنرويج .
 ١٠ تركيز السكان جنوب شرق أستراليا .

السؤال الثالث : ما الأثر الناتج عن ... ؟

- ١ توافر فرص العمل والخدمات في دول وسط وغرب أوروبا .
 ٢ خصوبة التربة في جزيرة جاوة .
 ٣ زيادة عدد السكان في معظم دول قارة آسيا .
 ٤ ارتفاع السطح في دولتي أوغندا وكينيا .
 ٥ انتشار الأمراض في المناطق الاستوائية .
 ٦ قلة عدد السكان داخل وغرب أستراليا .

السؤال الرابع : دلل جغرافيًا على صحة العبارات الآتية :

- ١ يتركز السكان في الجزر الآسيوية .
 ٢ تعاني دولتا إسبانيا وإيطاليا من الهجرة غير الشرعية .
 ٣ يتركز السكان بالسهول الخصبة في إفريقيا .

السؤال الخامس : ما العلاقة بين ... ؟

- ١ الهجرات غير الشرعية في إفريقيا وإسبانيا .
٢ تركيز السكان في كينيا وارتفاع السطح .
٣ قلة السكان شمال أستراليا والنبات الطبيعي .

السؤال السادس : حدد فى أى المناطق الآتية يقل أو يتركز السكان :

- ١ جزر الفلبين . (.....)
٢ شبه الجزيرة العربية . (.....)
٣ أوغندا . (.....)
٤ السهل الأوربي العظيم . (.....)
٥ النرويج . (.....)
٦ كوستاريكا . (.....)
٧ مدينة مكسيكو . (.....)
٨ حوض نهر الأمزون . (.....)
٩ شمال أستراليا . (.....)
١٠ سهول نهري مري ودارلنج . (.....)

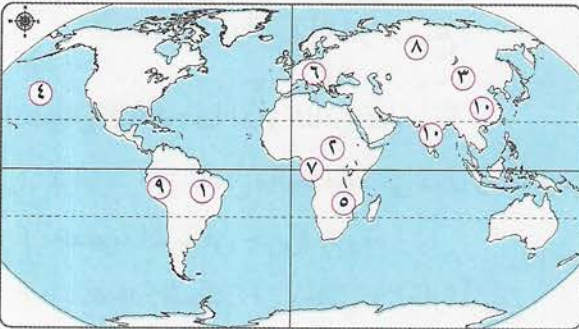
السؤال السابع : حدد الدولة الأكبر فى عدد السكان فى القارات الآتية :

- ١ آسيا . (.....)
٢ أمريكا الشمالية . (.....)
٣ أمريكا الجنوبية . (.....)
٤ أستراليا (الأوقيانوسية) . (.....)

السؤال الثامن : حدد فى أى الدول توجد المدن الآتية :

- ١ مونتريال . (.....)
٢ مكسيكو . (.....)
٣ سيدنى . (.....)
٤ نيويورك . (.....)

السؤال التاسع : أمامك خريطة صماء للعالم ، وضع مدلول الأرقام التى عليها :



- ١ أكبر دول أمريكا الجنوبية سكاناً
٢ حشائش
٣ السلالة
٤ المحيط
٥ جبال
٦ السلالة
٧ الغابات
٨ أكبر قارات العالم سكاناً
٩ سهول استوائية
١٠ أكبر دولتين فى العالم من حيث السكان ٦

أسئلة وردت فى امتحانات المحافظات على الدرس الثانى

(مجاب عنها)

السؤال الأول : اختر الإجابة الصحيحة من بين الإجابات الآتية :

- ١ يتركز سكان أستراليا فى المدن والمناطق الصناعية الكبرى على السواحل :
 (البحيرة ٢٠١٦) ا الجنوبية ب الشرقية ج الشمالية د الغربية
- ٢ يقل السكان فى المناطق الاستوائية بسبب :
 (بورسعيد ٢٠١٦) ا الجفاف ب برودة الجو ج انتشار الأمراض د الجبال الوعرة
- ٣ القارة المتجمدة وغير المأهولة بالسكان هى :
 (البحر الأحمر ٢٠١٦) ا أستراليا ب إفريقيا ج آسيا د القطبية الجنوبية
- ٤ أكبر دول قارة أمريكا الجنوبية سكاناً دولة :
 (كفر الشيخ ٢٠١٦) ا بيرو ب الأرجنتين ج فنزويلا د البرازيل
- ٥ ترتفع كثافة السكان بقارة أمريكا الجنوبية فى سهول :
 (الغربية ٢٠١٦) ا البمباس ب الأمزون ج البرارى د كاليفورنيا
- ٦ يتركز السكان فى سهول نهري و بقارة أستراليا .
 (الفيوم ٢٠٢١) ا جوبا / شيبلى ب مري / دارلنج ج دجلة / الفرات د السند / الجانج
- ٧ يتركز السكان فى قارة أمريكا الجنوبية فى السهول الساحلية وسهول نهر :
 (الوادى الجديد ٢٠٢١) ا الأمزون ب النيل ج الميسيسى د الأورينكو
- ٨ يقل عدد السكان فى دول البرزخ مثل :
 (القاهرة / الإسكندرية ٢٠٢١) ا كوستاريكا ب بيرو ج البرازيل د أندونيسيا

السؤال الثانى : بم تفسر ... ؟

- ١ يقل عدد السكان فى سيبيريا .
 (الوادى الجديد ٢٠٢١)
- ٢ خلو القارة القطبية الجنوبية من السكان .
 (الأقصر ٢٠٢١)
- ٣ كينيا وأوغندا من مناطق التركيز السكانى رغم وقوعهما فى المنطقة المدارية .
 (الإسكندرية ٢٠٢١)
- ٤ تركز السكان فى الساحل الشمالى الشرقى فى الولايات المتحدة .
 (بورسعيد ٢٠١٩)
- ٥ يقل عدد السكان جنوب غرب آسيا .
 (الدقهلية ٢٠١٩)
- ٦ أسباب تركز السكان فى مدينة نيويورك بالولايات المتحدة الأمريكية .
 (الشرقية ٢٠١٩)
- ٧ زيادة عدد السكان فى جزيرة جاوة .
 (كفر الشيخ ٢٠١٦)

السؤال الثالث : ما العلاقة بين ... ؟

- ١ المناخ وتوزيع السكان . (الوادى الجديد ٢٠٢١)
- ٢ توزيع السكان بالدول المدارية والتضاريس . (بورسعيد ٢٠١٩ / الأقصر ٢٠٢١)
- ٣ ظهور العديد من المشكلات مع زيادة عدد السكان فى معظم دول قارة آسيا . (سوهاج ٢٠١٦)
- ٤ توزيع السكان والموارد الاقتصادية فى الولايات المتحدة الأمريكية . (كفر الشيخ ٢٠١٦)

السؤال الرابع : ما النتائج المترتبة على ... ؟

- ١ زيادة السكان فى قارة آسيا . (الغربية ٢٠٢٠ / السويس ٢٠٢١)
- ٢ وقوع القارة القطبية الجنوبية أقصى جنوب الكرة الأرضية . (السويس ٢٠٢١)

السؤال الخامس : وضح :

- ١ أثر مناخ المناطق الاستوائية على توزيع السكان فى إفريقيا . (الشرقية ٢٠١٩)
- ٢ مناطق تركيز السكان فى العالم . (بورسعيد ٢٠١٦)

السؤال السادس : أيد بالأدلة :

- ١ يرتبط توزيع السكان فى قارة أوروبا بالتقدم الحضارى . (الغربية ٢٠٢٠)

السؤال السابع : قارن بين :

- ١ شمال كندا وحوض الكونغو من حيث الكثافة السكانية . (الإسكندرية ٢٠١٥)
- ٢ أسباب تركيز السكان فى شمال غرب إفريقيا وجنوب شرق آسيا . (كفر الشيخ ٢٠١٥)

اختبار المتفوقين على الدرس الثاني



(يجب عنه الطالب)

السؤال الأول : اختر الإجابة الصحيحة من بين الإجابات الآتية :

- ١ المناطق الآتية ترتفع فيها الكثافة السكانية ما عدا :
أ الوادى والدلتا ب جزيرة جاوة ج جزيرة جرينلند د جنوب شرق آسيا
- ٢ العامل الأبرز فى تركيز السكان فى أى منطقة بالعالم ، هو :
أ الحرفة السائدة ب المناخ السائد ج توافر عامل الأمن د نوع المحصول
- ٣ تتشابه دولتى البرازيل والولايات المتحدة الأمريكية فى :
أ المناخ السائد ب ترتيب الدولة سكانياً بالقارة
ج النبات الطبيعى د السلالات البشرية

السؤال الثانى : حدد نوع الكثافة السكانية التى توجد فى المناطق الآتية ، مع ذكر السبب :

- ١ دلتا نهر النيل فى مصر .
- ٢ جنوب ليبيا .
- ٣ حوض نهر الكونغو .
- ٤ هضبة الدكن .
- ٥ جزيرة ألaska .
- ٦ جزيرة بورنيو .

السؤال الثالث : رتب الدول الآتية حسب عدد سكانها من الأكبر إلى الأصغر :

- ١ الأرجنتين . (.....)
- ٢ الولايات المتحدة الأمريكية . (.....)
- ٣ الصين . (.....)
- ٤ أستراليا . (.....)
- ٥ جويانا . (.....)
- ٦ الهند . (.....)

السؤال الرابع : « تتميز السهول الفيضية بالتركز السكانى فيها » .

لا تنطبق هذه المقولة على كل السهول الفيضية فى العالم . وضح ذلك .

.....

السؤال الخامس : ما العلاقة بين ... ؟

مظاهر السطح فى إفريقيا وتركيز السكان .

.....

السؤال السادس : قارن بين :

أهم المدن الأوربية ومدن قارة أمريكا الشمالية التى يتركز فيها السكان .

.....

.....
١٠

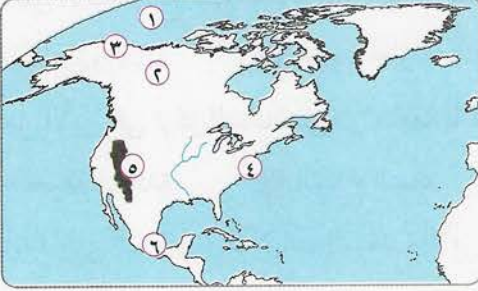
اختبار الشاطر على الدرسين الأول والثاني



(يجيب عنه الطالب)

السؤال الأول : أمامك خريطة صماء لقارة أمريكا الشمالية ، وضح مدلول الأرقام التي عليها :

.....
٣



- ١ المحيط
- ٢ دولة
- ٣ سلالة بشرية
- ٤ مدينة
- ٥ جبال
- ٦ ثاني دول القارة سكاناً

.....
٣

السؤال الثاني : اختر الإجابة الصحيحة من بين الإجابات الآتية :

١ من الجزر التي تقع في نطاق المنطقة الاستوائية وتزدحم بالسكان جزيرة :

أ صقلية ب جاوة ج نيوزيلندا د شديوان

٢ سكان دولة إيطاليا ينتمون للسلالة :

أ المغولية ب الزنجية ج القوقازية د البانتو

٣ يقل السكان شمال أستراليا في مناطق :

أ الغابات الاستوائية ب الجبال ج حشائش السافانا د المناطق القطبية

.....
٢

السؤال الثالث : حدد نوع الكثافة السكانية في المناطق الآتية :

١ جنوب شرق أستراليا . (.....) ٢ حوض نهر الأمزون . (.....)

٣ شمال كندا . (.....) ٤ دول البرزخ . (.....)

.....
٢

السؤال الرابع : بم تفسر ... ؟

١ تركز السكان في دولة كينيا بالرغم من موقعها الفلكي .

.....
.....

٢ لا يوجد شعب في الوقت الحاضر يتكون من سلالة بشرية نقية .

.....
.....

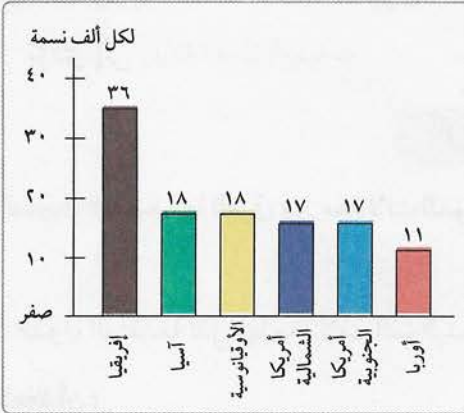
الدرس الثالث : خصائص سكان العالم

أهم نقاط الدرس

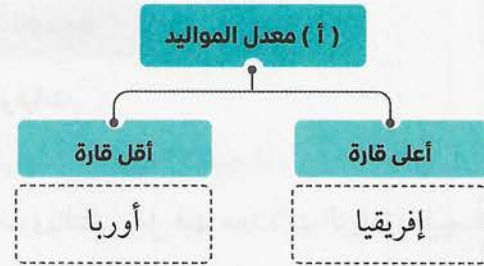
تشمل دراسة خصائص السكان ما يلي :

- ١ - الخصائص الديموجرافية
- ٢ - الخصائص التعليمية
- ٣ - الخصائص الصحية
- ٤ - الخصائص الاقتصادية

١ الخصائص الديموجرافية :

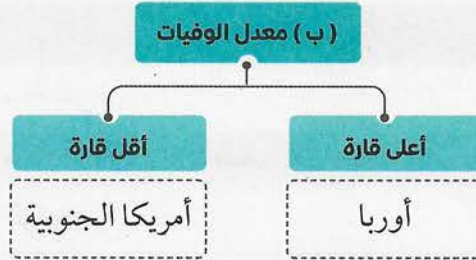


معدل المواليد في قارات العالم لعام ٢٠١٤ م



أسباب ارتفاع معدل المواليد في إفريقيا

- ١ انتشار الأمية والفقر في معظم دولها .
- ٢ الاعتماد على الزراعة البدائية والرعي .
- ٣ انتشار بعض العادات السلبية ، مثل :
 - الرغبة في إنجاب عدد أكبر من الأبناء .
 - الزواج المبكر للإناث .



سبب ارتفاع معدل الوفيات في أوروبا

- زيادة عدد كبار السن بالقارة .

لاحظ أن :

- يزيد معدل المواليد في الدول النامية .
- يزيد معدل الوفيات في الدول النامية ويقل في الدول المتقدمة .
- انخفضت معدلات الوفيات في مصر إلى ١, ٦ في الألف نتيجة الرعاية الصحية والاهتمام بصحة الأطفال .

(ج) العوامل المؤثرة على معدلات الوفيات فى العالم

- 1 مستوى السكن والتغذية والخدمات الصحية .
 - الدول التى تراعى الوقاية الصحية وحماية البيئة من التلوث يقل فيها معدل الوفيات .
 - الدول التى تقل فيها الرعاية الصحية وتنتشر فيها الأمراض يزيد فيها معدل الوفيات .
 - 2 • الحروب .
 - الكوارث الطبيعية ، مثل (الجفاف والزلازل) .
- تؤدى إلى زيادة معدل الوفيات .

(د) الزيادة الطبيعية

التعريف : يقصد بها الفرق بين معدلات المواليد والوفيات .

معدل المواليد - معدل الوفيات = الزيادة الطبيعية

- الدول المتقدمة تقلل بها معدلات المواليد والوفيات وبالتالي تقلل فيها معدلات الزيادة الطبيعية .

لاحظ أن :

قارة إفريقيا
• معدل الزيادة الطبيعية فيها مرتفع .
بسبب
• زيادة عدد المواليد عن عدد الوفيات .

قارة أمريكا الشمالية
• معدل الزيادة الطبيعية بها منخفض .
بسبب
• قلة عدد المواليد عن عدد الوفيات .

قارة أوروبا
• معدل الزيادة الطبيعية صفر .
بسبب
• تساوى عدد المواليد مع عدد الوفيات .

لاحظ أن :

- معدل الزيادة الطبيعية فى مصر مرتفع يصل إلى ٣, ٢٥ فى الألف .

(ه) التركيب العمري

التعريف: هو دراسة عدد السكان ونسبة كل مجموعة من سكان المنطقة وفقاً لفئات عمرية محددة .

تقسم الفئات العمرية إلى

١ - فئة صغار السن	
تضم	• الأطفال الرضع والمراهقين حتى ١٥ سنة .
نسبتهم	• ٢٩٪ من جملة السكان في الدول النامية .
	• ٣٢٪ في مصر . • ١٧٪ في السويد .
خصائصهم	• فئة غير منتجة . • تكلف الدول ميزانية ضخمة من أجل توفير الغذاء والملبس والرعاية الصحية والتعليم .

٢ - الفئة المتوسطة				
تضم	• البالغين الذين تتراوح أعمارهم بين ١٥ - ٦٤ عامًا .			
نسبتهم	• متقاربة بين دول العالم .			
	<table border="1"> <tr> <td>أعلى نسبة على مستوى العالم</td> <td>أقل نسبة على مستوى العالم</td> </tr> <tr> <td>• في دول غرب أوروبا .</td> <td>• في قارة إفريقيا .</td> </tr> </table>	أعلى نسبة على مستوى العالم	أقل نسبة على مستوى العالم	• في دول غرب أوروبا .
أعلى نسبة على مستوى العالم	أقل نسبة على مستوى العالم			
• في دول غرب أوروبا .	• في قارة إفريقيا .			

٣ - فئة كبار السن					
تضم	• السكان الذين وصلت أعمارهم ٦٥ عامًا فأكثر .				
نسبتهم	<table border="1"> <tr> <td>في الدول المتقدمة</td> <td>في الدول النامية</td> </tr> <tr> <td>• كبيرة . • ١٧٪</td> <td>• صغيرة . • ٦٪</td> </tr> </table>	في الدول المتقدمة	في الدول النامية	• كبيرة . • ١٧٪	• صغيرة . • ٦٪
	في الدول المتقدمة	في الدول النامية			
• كبيرة . • ١٧٪	• صغيرة . • ٦٪				
	• وذلك بسبب التقدم في مجالات الخدمات الصحية والتعليمية .				

٢ الخصائص التعليمية :

(أ) نسبة الأمية		فوق سن ١٥ سنة
ترتفع	تنخفض	
• في الدول النامية .	• في الدول المتقدمة .	

(ب) نسبة المتعلمين	
في الدول النامية	في الدول المتقدمة
<p>١ - ٧٥ ٪ في :</p> <ul style="list-style-type: none"> معظم دول أمريكا الجنوبية . دولة جنوب إفريقيا . دولة الصين . 	<p>تصل إلى أكثر من ٩٥ ٪ في :</p> <ul style="list-style-type: none"> دول أمريكا الشمالية . دول أوروبا . أستراليا . اليابان . روسيا .
<p>٢ - ٦٥ ٪ في مصر بسبب :</p> <ul style="list-style-type: none"> الاهتمام بالتعليم . تحقيق مبدأ تكافؤ الفرص . جهود الدولة لمحو الأمية . 	
<p>٣ - ما بين ٤٠ - ٦٠ ٪ في :</p> <ul style="list-style-type: none"> معظم دول قارة إفريقيا . الهند . 	

لاحظ أن :

- هناك عادات وتقاليد في بعض دول العالم تؤثر على معدل تعليم الإناث ، ومنها :
- ١ - بعض المناطق تُحرم المرأة فيها من التعليم حفاظاً عليها أو بسبب المعتقدات الخاطئة .
- ٢ - تفضيل الزواج المبكر للإناث .

٣ الخصائص الصحية :

- عدد الأطباء مؤشر على الرعاية الطبية ، فكلما زاد عدد الأطباء في دولة ما بالنسبة لعدد السكان دل ذلك على زيادة الرعاية الطبية .

أقسام الدول في الرعاية الصحية



٤ الخصائص الاقتصادية :

تختلف الخصائص الاقتصادية للسكان على حسب :

- ١ تنوع الأنشطة التي يقوم بها السكان في كل دولة .
- ٢ دخل السكان .

قارة إفريقيا	قارة أستراليا (الأوقيانوسية)
• يوجد بها أقل نصيب للفرد من الدخل القومي .	• يوجد بها أعلى نصيب للفرد من الدخل القومي .

تنقسم دول العالم من حيث الدخل إلى

(أ) دول ذات دخل اقتصادي مرتفع	
تتمثل في	تعتمد على
١ - الدول الصناعية ، مثل : • غرب أوروبا . • أمريكا الشمالية .	• الصناعة والخدمات ويستهلكون كميات كبيرة من الطاقة .
٢ - يتركز معظم السكان في المدن ذات المستويات المعيشية المرتفعة .	• استخراج البترول وتصديره إلى الخارج وتصنيع مشتقاته .
٣ - دول الخليج العربي .	

(ب) دول ذات دخل اقتصادي فوق المتوسط	
تتمثل في	تعتمد على
• تركيا . • المكسيك .	• التصنيع النامي والأنشطة التقليدية .
• دول شرق أوروبا . • جنوب إفريقيا .	

(ج) دول ذات دخل اقتصادي أقل من المتوسط	
تتمثل في	تعتمد على
• آسيا (الصين) . • إفريقيا (مصر - المغرب) . • أمريكا الجنوبية (البرازيل) . • أمريكا الشمالية (هايتي) . • أوروبا (أوكرانيا) .	• التصنيع والتنمية الاقتصادية والأنشطة الأخرى .

(د) دول ذات اقتصاد زراعي منخفض	
تتمثل في	تعتمد على
• إفريقيا (الكونغو) . • آسيا (باكستان) .	• الزراعة فمعظم السكان يعيشون في الريف .

لاحظ أن :



قوة العمل

التعريف : يقصد بها عدد الأفراد في سن العمل والقادرين على العمل والذين يعملون فعلياً أو يبحثون عن عمل .

(أ) قوة العمل في مجال الزراعة			
أقل من ١٠٪	٣٠ - ٦٠٪	٦٠ - ٨٠٪	٨٠٪
الدول المتقدمة : • غرب أوروبا . • أمريكا الشمالية . • أستراليا .	• مصر في إفريقيا . • تركيا في آسيا .	• السودان في إفريقيا . • الهند في آسيا .	الدول النامية في إفريقيا ، مثل : • إثيوبيا .

(ب) العاملون بالصناعة
تزداد نسبتهم في الدول المتقدمة مقارنة بالدول الفقيرة الذين يعملون بالزراعة والنشاطات الأولية والثانوية ، مثل : • الصيد . • قطع الغابات والرعي .

أسئلة الشاطر على الدرس الثالث



(مجاب عنها)

السؤال الأول : اختر الإجابة الصحيحة من بين الإجابات الآتية :

- ١ قارة بها أعلى نسبة معدل مواليد في العالم .
 أ آسيا ب إفريقيا ج أستراليا د أمريكا الجنوبية
- ٢ يرجع ارتفاع معدل الوفيات في قارة إلى زيادة عدد كبار السن .
 أ أستراليا ب أوروبا ج إفريقيا د أمريكا الشمالية
- ٣ أقل قارات العالم في معدل الزيادة الطبيعية هي قارة وقد وصلت هذه النسبة إلى الصفر في قارة أوروبا .
 أ أمريكا الشمالية ب أستراليا ج إفريقيا د أوروبا
- ٤ من الدول التي تصل نسبة المتعلمين فيها إلى أكثر من ٩٥ ٪ من قارة آسيا دولة :
 أ الصين ب اليابان ج فرنسا د إندونيسيا
- ٥ دولة في قارة آسيا هي دولة ذات اقتصاد زراعي منخفض .
 أ أثيوبيا ب هايتي ج باكستان د السعودية
- ٦ الاعتماد على من أسباب زيادة معدل المواليد في إفريقيا .
 أ الزراعة الواسعة ب الصناعة ج الزراعة البدائية د الزراعة الكثيفة
- ٧ انخفضت معدلات الوفيات في مصر نتيجة لـ :
 أ كثرة الإنجاب ب توافر الرعاية الصحية ج الزواج المبكر د تعدد الزوجات
- ٨ تزيد معدلات الزيادة الطبيعية في الدول :
 أ النامية ب المتقدمة ج الشمالية د الصناعية
- ٩ معدل الزيادة الطبيعية في قارة أوروبا يدل على :
 أ زيادة عدد السكان ب ثبات عدد السكان ج قلة عدد السكان د هجرة السكان
- ١٠ فئة هم الذين تقل أعمارهم عن ١٥ عامًا .
 أ كبار السن ب صغار السن ج سن العمل د متوسط السن
- ١١ تصل نسبة المتعلمين في ٦٥ ٪ نتيجة الاهتمام بالتعليم .
 أ اليابان ب أثيوبيا ج روسيا د مصر

- ١٢ أعلى قارات العالم فى نصيب الفرد من الدخل القومى هى :
 ا آسيا ب إفريقيا ج أستراليا د أمريكا الجنوبية
- ١٣ تعتبر من الدول ذات الدخل فوق المتوسط .
 ا تركيا ب السعودية ج البرازيل د باكستان
- ١٤ الأردن من الدول ذات الرعاية الطبية :
 ا المرتفعة ب المنخفضة ج الفائقة د الضعيفة
- ١٥ دول الخليج العربى من الدول ذات الدخل الاقتصادى :
 ا المنخفض ب المتوسط ج المرتفع د أقل من المتوسط
- ١٦ أقل قارات العالم فى معدل الوفيات هى قارة :
 ا آسيا ب إفريقيا ج أوروبا د أمريكا الجنوبية
- ١٧ يصل معدل الزيادة الطبيعية فى قارة إلى الصفر .
 ا آسيا ب أوروبا ج أستراليا د إفريقيا
- ١٨ أقل نسبة على مستوى العالم لمتوسطى السن توجد فى قارة :
 ا أوروبا ب أمريكا الشمالية ج أمريكا الجنوبية د إفريقيا
- ١٩ تصل نسبة المتعلمين فى دولة لنحو ٩٥ % .
 ا الهند ب مصر ج الصين د روسيا
- ٢٠ من الدول ذات الدخل أقل من المتوسط :
 ا تركيا ب السعودية ج مصر د الكونغو

السؤال الثانى : بم تفسر ... ؟

- ١ ارتفاع معدل المواليد فى إفريقيا .
 ٢ ارتفاع معدل الوفيات فى أوروبا .
- ٣ انخفاض معدلات الوفيات فى مصر .
 ٤ زيادة معدل الوفيات فى الدول النامية .
- ٥ ارتفاع معدل الزيادة الطبيعية فى إفريقيا .
 ٦ معدل الزيادة الطبيعية فى قارة أوروبا يساوى صفرًا .
- ٧ ارتفاع نسبة صغار السن يؤثر سلبًا على اقتصاد الدولة .
 ٨ ارتفاع نسبة فئة كبار السن فى الدول المتقدمة .
- ٩ تصل نسبة المتعلمين فى مصر نحو ٦٥ % .
 ١٠ ارتفاع متوسط دخل الفرد فى دول الخليج العربى .

السؤال الثالث : ما النتائج المترتبة على ... ؟

- ١ انتشار بعض العادات السلبية مثل الزواج المبكر في قارة إفريقيا .
- ٢ الاهتمام بصحة الأطفال في مصر .
- ٣ زيادة نسبة كبار السن في أوروبا .
- ٤ حدوث الكوارث الطبيعية مثل الزلازل والجفاف .
- ٥ زيادة الخدمات الصحية في الدول المتقدمة عن الدول النامية .
- ٦ وجود البترول في دول الخليج العربي .

السؤال الرابع : دلل على صحة العبارتين الآتيتين :

- ١ يؤثر مستوى السكن والتغذية على عدد السكان .
- ٢ تلعب العادات والتقاليد دورًا كبيرًا في ارتفاع نسبة الأمية لبعض الدول .

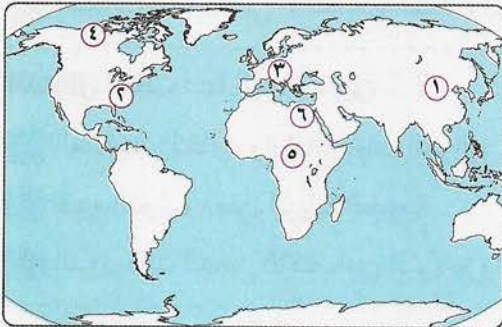
السؤال الخامس : ما العلاقة بين ... ؟

- ١ الكوارث الطبيعية وعدد السكان .
- ٢ التركيب العمري وميزانية الدولة .
- ٣ النشاط الاقتصادي وعدد السكان .

السؤال السادس : قارن بين :

- الدول ذات الرعاية الطبية المنخفضة والدول ذات الاقتصاد الزراعي المنخفض .

السؤال السابع : أمامك خريطة صماء للعالم ، وضع مدلول الأرقام التي عليها :



- ١ سلالة بشرية
- ٢ منطقة تركيز سكاني
- ٣ أعلى قارات العالم في معدل الوفيات
- ٤ منطقة يقل بها السكان
- ٥ سلالة بشرية
- ٦ منطقة تركيز سكاني

أسئلة وردت فى امتحانات المحافظات على الدرس الثالث

(مجاب عنها)

السؤال الأول: اختر الإجابة الصحيحة من بين الإجابات الآتية:

- ١ مصر من الدول ذات الرعاية الطبية :
 - أ الفائقة
 - ب المتوسطة
 - ج المرتفعة
 - د المنخفضة

(البحر الأحمر ٢٠٢١)
- ٢ من الدول ذات الدخل الاقتصادى المرتفع دول :
 - أ شرق إفريقيا
 - ب الخليج
 - ج شرق أوروبا
 - د جنوب إفريقيا

(الغربية ٢٠١٦)
- ٣ من أمثلة الدول ذات الدخل فوق المتوسط :
 - أ المكسيك
 - ب دول غرب أوروبا
 - ج مصر
 - د الهند

(الأقصر ٢٠١٦)
- ٤ تختلف الخصائص الاقتصادية لسكان العالم وفقاً لـ :
 - أ العادات والتقاليد
 - ب الرعاية الطبية
 - ج دخل السكان
 - د نسبة الأمية

(الجيزة ٢٠١٩)
- ٥ دولة ذات رعاية طبية منخفضة :
 - أ مصر
 - ب الأردن
 - ج روسيا
 - د النيجر

(دمياط ٢٠٢٠)
- ٦ من الدول ذات الدخل الاقتصادى المنخفض :
 - أ اليونان
 - ب باكستان
 - ج نيجيريا
 - د جنوب إفريقيا

(شمال سيناء ٢٠١٩)

السؤال الثانى: بم تفسر ... ؟

- ١ ارتفاع نسبة المتعلمين فى مصر لنحو ٦٥٪ من جملة السكان .
 - ٢ ارتفاع معدلات المواليد فى إفريقيا .
 - ٣ قارة أوروبا أعلى قارات العالم فى معدلات الوفيات .
 - ٤ اختلاف الخصائص الاقتصادية لسكان العالم .
- (بورسعيد ٢٠١٩ / الغربية ٢٠١٦)
(البحر الأحمر ٢٠١٧ / شمال سيناء ٢٠١٩، وأخرى)
(دمياط ٢٠٢٠)
(القليوبية ٢٠١٩)

السؤال الثالث: ما العلاقة بين ... ؟

- ١ العادات والتقاليد وارتفاع معدل المواليد .
 - ٢ تقدم الدول ومعدل الزيادة الطبيعية .
 - ٣ الدول ذات الدخل الاقتصادى المرتفع والأنشطة التى يقومون بها .
- (الأزهر ٢٠١٦)
(كفر الشيخ ٢٠١٩)
(القاهرة ٢٠١٩)

السؤال الرابع: ما النتائج المترتبة على ... ؟

- ١ ارتفاع نسبة صغار السن فى الدول النامية .
 - ٢ تساوى معدلات المواليد والوفيات فى أوروبا .
 - ٣ ارتفاع معدلات المواليد وانخفاض الوفيات فى مصر .
- (الغربية ٢٠١٦)
(الغربية ٢٠١٦)
(الأقصر ٢٠١٦)

السؤال الخامس : ماذا يحدث إذا ... ؟

(كفر الشيخ ٢٠١٧)

١ استفادت إفريقيا من ثرواتها المعدنية والزراعية في التصنيع .

(كفر الشيخ ٢٠١٩)

٢ قلت نسبة صغار السن في الدول النامية .

السؤال السادس : قارن بين :

(الشارقة ٢٠١٩)

١ أسباب ارتفاع الدخل القومي في دول الخليج وانخفاضه في الكونغو .

(كفر الشيخ ٢٠١٩)

السؤال السابع : صنف الدول التالية من حيث الدخل الاقتصادي :

١ الكونغو . ٢ المكسيك . ٣ مصر . ٤ دول الخليج .

السؤال الثامن : وضح :

(بورسعيد ٢٠١٦)

١ العوامل المؤثرة على معدلات الوفيات في العالم .

(القاهرة ٢٠١٥)

٢ أوجه الشبه والاختلاف بين فئة صغار السن في الدول النامية والدول المتقدمة .

السؤال التاسع : ما مقترحاتك من أجل ... ؟

(كفر الشيخ ٢٠١٥)

١ خفض معدلات المواليد في إفريقيا .

(كفر الشيخ ٢٠١٥ / القاهرة ٢٠٢١)

٢ أن تصبح مصر دولة ذات دخل اقتصادي مرتفع .

السؤال العاشر : ما رأيك في ... ؟

(الجيزة ٢٠١٦)

١ ارتفاع فئة صغار السن في الدول النامية .

(الجيزة ٢٠١٩)

٢ أثر السكن والتغذية على معدلات الوفيات .

اختبار المتفوقين على الدرس الثالث



(يجب عنه الطالب)

السؤال الأول : أكمل العبارتين الآتيتين بكلمات مناسبة :

- ١ دولة فرنسا من الدول التي تتميز بدخل اقتصادى :
أ منخفض ب مرتفع ج متوسط د أقل من المتوسط
- ٢ دولة الإمارات من الدول ذات الرعاية الصحية :
أ المرتفعة ب المنخفضة ج المتوسطة د الفائقة
- ٣ هناك علاقة طردية بين بعض المعتقدات الخاطئة وتعليم :
أ الرجال ب الأطفال ج النساء د الفلاحين

السؤال الثانى : ما العلاقة بين ... ؟

- ١ التركيب العمرى ومعدلات الوفيات فى أوروبا .

- ٢ كليات الطب وتصنيف الدول من حيث الرعاية الطبية .

السؤال الثالث : أثبت صحة أو خطأ العبارتين الآتيتين :

- ١ تزيد معدلات الوفيات فى أوكرانيا فى الوقت الحاضر .

- ٢ التغير المناخى يؤثر على معدلات الوفيات فى العالم .

السؤال الرابع : ما مقترحاتك لـ ... ؟

- تقليل معدل المواليد فى مصر .

.....
١٠

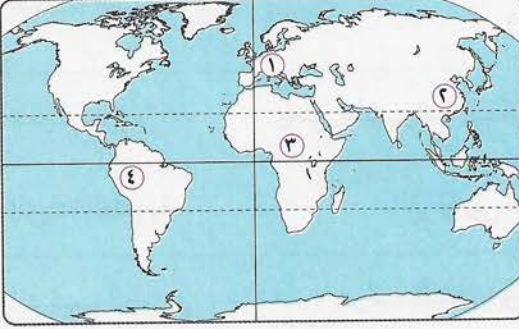
اختبار الشاطر التراكمي على ما سبقت دراسته



(يجيب عنه الطالب)

.....
٤

السؤال الأول: أمامك خريطة صماء للعالم ، وضح مدلول الأرقام التي عليها :



- ١ سلالة بشرية
- ٢ منطقة تركيز سكاني
- ٣ سلالة بشرية
- ٤ منطقة يقل فيها السكان

.....
٣

السؤال الثاني: اختر الإجابة الصحيحة من بين الإجابات الآتية :

- ١ الكثافة السكانية في شمال كندا :
 - أ مرتفعة
 - ب متوسطة
 - ج منخفضة
 - د مرتفعة جداً
- ٢ ترتفع الكثافة السكانية في كل السهول الآتية ما عدا سهول :
 - أ النيل
 - ب دجلة
 - ج الأمزون
 - د المسيسيبي
- ٣ أى من المناطق الآتية تقل فيها الكثافة السكانية :
 - أ سهول اليانجستي
 - ب دول البرزخ
 - ج الوادي والدلتا
 - د جزيرة جاوة

.....
٣

السؤال الثالث: بم تفسر ... ؟

- ١ ارتفاع معدلات المواليد في مصر .

.....
.....

- ٢ ارتفاع معدلات الوفيات في أوروبا .

.....
.....

- ٣ تركيز السكان شمال شرق الولايات المتحدة الأمريكية .

.....
.....


أهم المفاهيم التي وردت بالوحدة الثانية :

المفهوم	المعنى
١ - السلالة البشرية	هي مجموعة بشرية تتشابه في صفاتها الجسمية الخارجية (الشكل الخارجى) .
٢ - الديموجرافيا	يعنى علم دراسة السكان ويدرس نمو وتوزيع وتركيب السكان .
٣ - الزيادة الطبيعية	الفرق بين معدل المواليد ومعدل الوفيات .
٤ - التركيب العمرى	دراسة السكان وتقسيمهم وفقاً لفئات عمرية محددة .
٥ - قوة العمل	عدد الأفراد فى سن العمل والقادرون على العمل والذين يعملون فعلياً أو يبحثون عن عمل .

احرص على اقتناء



ثانيًا : التاريخ



الوحدة الثالثة : مصر تحت الحكم العثماني

- ٩٤ | الدرس الأول : مصر بين المماليك والعثمانيين .
- ١٠٥ | الدرس الثاني : الحملة الفرنسية على مصر « ١٧٩٨م - ١٨٠١م » .
- ١١٩ | الدرس الثالث : ثورة الشعب المصري وتولية محمد علي .
- ١٢٧ | الدرس الرابع : محمد علي وبناء مصر الحديثة .

الوحدة الرابعة : مصر والزحف الاستعماري ومحاولات التحرر الوطني

- ١٤١ | الدرس الأول : خلفاء محمد علي وازدياد النفوذ الأجنبي .
- ١٥٦ | الدرس الثاني : الحركة الوطنية والثورة العربية .
- ١٦٧ | الدرس الثالث : الكفاح الوطني ضد الاحتلال البريطاني .
- ١٧٥ | الدرس الرابع : مصر من الحماية البريطانية حتى ثورة يوليو ١٩٥٢م .

الوحدة الثالثة : مصر تحت الحكم العثماني

الدرس الأول : مصر بين المماليك والعثمانيين

أهم نقاط الدرس :

أولاً : الصراع بين ثلاث قوى

شهد العالم الإسلامى أواخر القرن الخامس عشر وبداية القرن السادس عشر صراعاً بين ثلاث قوى ،
هى :



١ دولة المماليك :

حدودها	• قامت فى مصر ، وضمت الشام والحجاز وجزءاً من ساحل إفريقيا الشرقى المطل على البحر الأحمر .
الأزمات المالية والتدهور الاقتصادى	تعرضت منذ أواخر القرن الخامس عشر الميلادى إلى : ١ - اكتشاف طريق رأس الرجاء الصالح عام ١٤٩٨ م . ٢ - تحطم الأسطول المملوكى فى معركة ديو البحرية عام ١٥٠٩ م .
الأزمات السياسية	بسبب : ١ - اضطراب الأمن . ٢ - الصراع المستمر بين المماليك . ٣ - كثرة الفتن والثورات الداخلية مما أدى إلى إضعاف قوتهم العسكرية .

٢ الدولة العثمانية :

مع بداية القرن السادس عشر الميلادى اتجه السلطان سليم الأول فى غزواته نحو الشرق فكان
الصدام مع :

(أ) الدولة الصفوية فى إيران .

(ب) الدولة المملوكية فى الشام ومصر .

٣ الدولة الصفوية :

تمكن السلطان العثمانى سليم الأول من :

(أ) هزيمة الصفويين فى موقعة جالديران عام ١٥١٤م ودخول عاصمتهم تبريز .

(ب) اتجه بجيشه العثمانى إلى دولة المماليك فى الشام ومصر .

ثانيًا : أسباب اتجاه العثمانيين إلى الشام ومصر

٢ - إدراك السلطان سليم الأول أن	١ - رغبة السلطان سليم الأول في
<ul style="list-style-type: none"> • الصدام مع الدول الأوروبية فيه مخاطر بسبب تفوقها عسكريًا وحضاريًا على العثمانيين لذلك اتجه نحو الشرق . 	<ul style="list-style-type: none"> • توسيع ممتلكاته في الشرق عن طريق الاستيلاء على مصر قلب العالم الإسلامي .

ثالثًا : استيلاء العثمانيين على مصر والشام

معركة مرج دابق (أغسطس ١٥١٦ م)	معركة الريدانية (يناير ١٥١٧ م)	
في الشام	في مصر	
<ul style="list-style-type: none"> • مرج دابق في بلاد الشام . 	<ul style="list-style-type: none"> • عند الريدانية بصحراء العباسية في مصر . 	المكان
<ul style="list-style-type: none"> • الدولة العثمانية . • السلطان سليم الأول • دولة المماليك . • السلطان قنصوة الغورى 	<ul style="list-style-type: none"> • الدولة العثمانية . • السلطان سليم الأول • دولة المماليك . • السلطان طومان باى 	الأطراف
<ul style="list-style-type: none"> • بادر السلطان سليم الأول بالاستيلاء على إمارة ذى القادر المملوكية التى تقع على الحدود بين الدولتين فخرج السلطان الغورى للشام . 	<ul style="list-style-type: none"> • التقى العثمانيون بجيوش المماليك عند الريدانية . 	الأحداث
<ul style="list-style-type: none"> • هزيمة القوات المملوكية وانتصار العثمانيين . • أصبحت الشام ولاية عثمانية . 	<ul style="list-style-type: none"> • هزيمة المماليك وانتصار العثمانيين . • دخول العثمانيين القاهرة . • أصبحت مصر ولاية عثمانية . 	النتائج

أسباب هزيمة الجيوش المملوكية :

١ - التفوق العسكرى	٢ - النزاع المستمر
<ul style="list-style-type: none"> • للجيش العثمانى واستخدام أساليب القتال الحديثة والأسلحة المتطورة . 	<ul style="list-style-type: none"> • على السلطة وعدم الاستقرار الداخلى .

نتائج هزيمة الجيوش المملوكية :

٢ - سيطرة	١ - تحول
• العثمانيين على العالم العربى من الاتجاهين (الآسيوى والإفريقى) .	• مصر من دولة مستقلة إلى ولاية عثمانية .
٤ - إعلان	٣ - انتقال
• السلطان سليم الأول نفسه الحامى الوحيد للحرمين الشريفين ولجميع رعاياه فى العالم الإسلامى .	• خلافة العالم الإسلامى الدينية والسياسية إلى الدولة العثمانية .

ملامح الحكم العثماني فى مصر :

- خضعت مصر لحكم العثمانيين أربعة قرون متتالية .
 - كان حكمهم جامدًا راکدًا .
 - نتج عنه عزل مصر عن المؤثرات الحضارية الحديثة فى أوربا .
- وتشمل هذه الملامح ما يلى :



١ الحياة السياسية :

هيئات الحكم العثماني فى مصر



حمل نظام الحكم العثماني فى ثناياه عوامل ضعفه ، بسبب :

- (أ) قصر مدة حكم الوالى (١ - ٣ سنوات) .
- (ب) زيادة سلطة الديوان والحامية العثمانية .

حركة على بك الكبير

نتيجة ضعف الدولة العثمانية تطلع البكوات المماليك (حكام الأقاليم) للانفراد بحكم مصر أبرزهم

على بك الكبير ، حيث :

- صار الحاكم الفعلى لمصر عام ١٧٦٨ م .
- تحالف مع الشيخ ظاهر العمر حاكم جنوب الشام .

■ أخضع الحجاز لنفوذه .

■ أرسل نائبه محمد بك أبو الذهب لغزو الشام فاستطاع أن يدخل الشام .

أسباب فشل حركة على بك الكبير :

■ انحاز محمد بك أبو الذهب إلى السلطان العثماني واتفق معه ضد على بك الكبير ، فشلت حركته وعادت مصر ولاية عثمانية تحت حكم شيخ البلد محمد بك أبو الذهب .

٢ الحياة الاقتصادية :

تدهورت الأحوال الاقتصادية ، ومن مظاهر ذلك ما يلي :

(أ) الزراعة

- كانت الأرض ملكاً للدولة ممثلة في السلطان .
- تتم زراعة الأرض من خلال حق الانتفاع ، وهو قيام الفلاح بزراعة الأرض وليس له حق التصرف فيها .
- مع ضعف الدولة العثمانية في القرن السابع عشر تم تطبيق نظام الالتزام .
- فرضت ضرائب كثيرة على الفلاحين وتعسف الملتزمون في جمعها .
- عدم اهتمام الحكام بتنظيم الري وإقامة السدود وحفر الترعة .

كل ذلك أدى إلى :

- تدهور الزراعة .
- تدهور أحوال المجتمع الريفي .

(ب) الصناعة

تأخرت الصناعة بسبب :

- تدهور الزراعة .
- انتقال الحرفيين والصناع المهرة إلى الأستانة (عاصمة الدولة العثمانية) .
- أصبحت الصناعات يدوية بسيطة وكانت رديئة .

(ج) التجارة

التجارة الخارجية	التجارة الداخلية
<p>تدهورت بسبب :</p> <ul style="list-style-type: none"> • تحويل الطريق التجاري بين الشرق والغرب إلى طريق رأس الرجاء الصالح . • منح الدولة العثمانية الامتيازات الأجنبية للدول الأوروبية . 	<p>كسدت بسبب :</p> <ul style="list-style-type: none"> • تدهور الزراعة والصناعة وافتقاد الأمن . • عدم الاهتمام بالطرق البرية ، والإغارات المتلاحقة لبدو الصحراء .

٣ الحياة الاجتماعية :

انقسم المجتمع المصري إلى :

فئة الحكام	
الأتراك والمماليك	
• كان لها كافة السلطات في شئون الحكم والإدارة والجيش .	
فئة المحكومين	
طبقة دنيا (الأكثرية)	طبقة وسطى (محدودة)
<p>وهم :</p> <ul style="list-style-type: none"> • الفلاحون . • صغار الحرفيين . • عامة الناس . • وقد عانت من الفقر والظلم وتفشى الأوبئة والأمراض . 	<p>وهم :</p> <ul style="list-style-type: none"> • المشايخ . • علماء الأزهر . • رجال الدين .

٤ الحياة الفكرية والثقافية :

اتسمت بالجمود والتخلف ، بسبب :

- العزلة التي فرضها العثمانيون على البلاد .

النتائج المترتبة على ذلك :

- ١ اهتزاز مكانة الأزهر العلمية في ذلك الوقت .
- ٢ عدم الاهتمام بالعلوم العقلية أو الرياضية أو الطبيعية ، والاهتمام فقط بالعلوم الشرعية .
- ٣ تدهور الحياة الأدبية .
- ٤ انتشار الدجل والشعوذة والخرافات ، وشاع الجهل .

أسئلة الشاطر على الدرس الأول



(مجاب عنها)

السؤال الأول : اختر الإجابة الصحيحة من بين الإجابات الآتية :

- ١ كانت مدينة..... عاصمة الدولة الصفوية .
 - أ بغداد
 - ب البصرة
 - ج تبريز
 - د الأستانة
- ٢ هُزمت القوات المملوكية عند..... في بلاد الشام من قوات السلطان العثماني سليم الأول .
 - أ الريدانية
 - ب مرج دابق
 - ج أنقرة
 - د عكا
- ٣ أصبحت مصر ولاية عثمانية بعد معركة :
 - أ جالديران
 - ب الريدانية
 - ج نزيب
 - د نوارين
- ٤ انتصرت القوات العثمانية على الصفويين في معركة :
 - أ ديو
 - ب أكتيوم
 - ج مرج دابق
 - د جالديران
- ٥ فشلت حركة على بك الكبير بسبب خيانة :
 - أ عثمان رفقي
 - ب رياض باشا
 - ج محمد بك الألفي
 - د محمد بك أبو الذهب
- ٦ كان السلطان..... هو قائد القوات المملوكية في معركة الريدانية .
 - أ طومان باي
 - ب قنصوة الغوري
 - ج سليم الأول
 - د محمد الفاتح
- ٧ تحطم الأسطول المملوكي في معركة..... عام ١٥١٤ م .
 - أ جالديران
 - ب ديو البحرية
 - ج أكتيوم البحرية
 - د نوارين البحرية
- ٨ بدأ الصراع المسلح بين العثمانيين والمماليك بالاستيلاء على إمارة..... المملوكية .
 - أ الرها
 - ب أنطاكية
 - ج ذى القادر
 - د بيت المقدس
- ٩ أكثر المعارك تأثيرًا على الوجود المملوكي في مصر كانت معركة :
 - أ ديو البحرية
 - ب الريدانية
 - ج مرج دابق
 - د نزيب
- ١٠ انتهى الوجود المملوكي في الشام بعد معركة :
 - أ ديو البحرية
 - ب جالديران
 - ج نزيب
 - د مرج دابق
- ١١ كانت زراعة الأرض تتم عن طريق..... أثناء حكم العثمانيين لمصر .
 - أ تملك الفلاح
 - ب تملك العمال
 - ج حق الانتفاع
 - د إيجار الأرض
- ١٢ كانت الطبقة..... أثناء الحكم العثماني لمصر تمثل الأكثرية من المجتمع .
 - أ العليا
 - ب الوسطى
 - ج الدنيا
 - د الحاكمة
- ١٣ اهتم العثمانيون بالعلوم..... فقط .
 - أ الجغرافية
 - ب الشرعية
 - ج الطبيعية
 - د الطبية

- ١٤ تدهورت التجارة الخارجية بسبب تحول طريق التجارة إلى طريق :
 أ قناة السويس ب التحرير ج الشرق د رأس الرجاء الصالح
- ١٥ كانت القوات المملوكية فى معركة مرج دابق ١٥١٦ م بقيادة السلطان :
 أ طومان باى ب قنصوة الغورى ج سليم الأول د على بك الكبير
- ١٦ تحالف على بك الكبير مع الشيخ حاكم جنوب الشام .
 أ محمد بك أبو الذهب ب ظاهر العمر ج طومان باى د عبد الله الشرقاوى
- ١٧ تم تطبيق نظام فى منتصف القرن السابع عشر نتيجة ضعف الدولة العثمانية فى مجال الزراعة .
 أ الاحتكار ب الملكية ج الالتزام د الرأسمالية
- ١٨ أصبح هو الحاكم الفعلى لمصر عام ١٧٦٨ م .
 أ سليم الأول ب طومان باى ج على بك الكبير د محمد بك أبو الذهب

السؤال الثانى : بم تفسر ... ؟

- ١ تعرض دولة المماليك لأزمات مالية وسياسية فى أواخر القرن الخامس عشر .
- ٢ اتجه السلطان سليم الأول إلى مصر والشام وليس إلى أوروبا .
- ٣ هزيمة الجيوش المملوكية من القوات العثمانية .
- ٤ حمل النظام العثماني فى ثنياه عوامل ضعفه .
- ٥ فشل حركة على بك الكبير .
- ٦ تأخر الصناعة فى العصر العثماني فى مصر .
- ٧ تدهور الزراعة فى العصر العثماني فى مصر .
- ٨ كساد التجارة الداخلية فى مصر أثناء العصر العثماني .
- ٩ تدهور التجارة الخارجية فى مصر أثناء العصر العثماني .
- ١٠ اتسمت الحياة الفكرية والثقافية خلال فترة الحكم العثماني بالجمود .

السؤال الثالث : ما النتائج المترتبة على ... ؟

- ١ التقدم الحضارى والعسكرى للدول الأوروبية أوائل القرن السادس عشر الميلادى .
- ٢ الصراع المستمر والفتن الداخلية بين المماليك .
- ٣ معركة ديو البحرية ١٥٠٩ م .
- ٤ معركة جالديران ١٥١٤ م .
- ٥ معركة مرج دابق ١٥١٦ م .
- ٦ معركة الريدانية ١٥١٧ م .

٧ عدم اهتمام الولاة العثمانيين بمشروعات الزراعة .

٨ جمود الحياة الفكرية والثقافية أثناء الحكم العثماني في مصر .

٩ انحياز محمد بك أبو الذهب للسلطان العثماني .

السؤال الرابع : رتب الأحداث الآتية من القديم إلى الحديث :

١ حركة على بك الكبير . (.....) ٢ معركة جالديران . (.....)

٣ اكتشاف طريق رأس الرجاء الصالح . (.....) ٤ معركة ديو البحرية . (.....)

السؤال الخامس : ما المقصود بـ ... ؟

● حق الانتفاع .

السؤال السادس : دلل على صحة العبارتين الآتيتين تاريخياً :

١ عانى الفلاح المصري أثناء الحكم العثماني .

٢ حمل النظام العثماني في ثنياه عوامل ضعفه .

السؤال السابع : ما العلاقة بين ... ؟

١ التقدم الحضارى والعسكرى لأوربا واحتلال العثمانيين لمصر .

٢ نظام الالتزام وضعف الدولة العثمانية .

٣ طريق رأس الرجاء الصالح والتجارة الخارجية .

أسئلة وردت في امتحانات المحافظات على الدرس الأول



(مجاب عنها)

السؤال الأول : اختر الإجابة الصحيحة من بين الإجابات الآتية :

(الإسماعيلية ٢٠١٧)

١ اتسمت الحياة الفكرية والثقافية بمصر خلال الحكم العثماني ب :

- أ التقديم
ب التخلف والجمود
ج تعدد الثقافات
د اتصالها بالعالم الخارجي

(المنوفية ٢٠١٨)

٢ دخل العثمانيون القاهرة بعد معركة :

- أ مرج دابق
ب الريدانية
ج ديو البحرية
د جالديران

(الجيزة ٢٠١٨)

٣ تمكن السلطان العثماني من هزيمة الصفويين في معركة :

- أ ديو البحرية
ب مرج دابق
ج جالديران
د الريدانية

(دمياط ٢٠١٨)

٤ اتجه السلطان سليم الأول في غزواته مع بداية القرن السادس عشر نحو :

- أ الشمال
ب الجنوب
ج الشرق
د الغرب

(بورسعيد ٢٠١٨)

٥ فشلت حركة على بك الكبير وعادت مصر ولاية عثمانية تحت حكم :

- أ مراد بك
ب إبراهيم بك
ج محمد بك الألفي
د محمد بك أبو الذهب

(الإسكندرية ٢٠٢١)

٦ تحالف مع حاكم جنوب الشام وأخضع الحجاز لنفوذه .

- أ محمد على
ب على بك الكبير
ج محمد بك الألفي
د مراد بك

(شمال سيناء ٢٠١٧)

٧ سلطان المماليك الذي هُزم في معركة الريدانية ، هو :

- أ طومان باي
ب قنصوة الغوري
ج محمد على
د على بك الكبير

(أسوان ٢٠١٧)

٨ تحطم الأسطول المملوكي في عام ١٥٠٩ في معركة :

- أ ديو البحرية
ب جالديران
ج مرج دابق
د الريدانية

السؤال الثاني : بم تفسر ... ؟

(الأقصر ٢٠٢١ / السويس ٢٠١٧)

١ حمل نظام الحكم العثماني لمصر عوامل ضعفه .

(السويس ٢٠٢١)

٢ تدهور دولة المماليك اقتصادياً منذ أواخر القرن الخامس عشر .

السؤال الثالث : ما النتائج المترتبة على ... ؟

(السويس ٢٠١٧)

١ هزيمة الجيوش المملوكية أمام العثمانيين في الريدانية .

(القاهرة ٢٠١٧)

٢ سياسة العزلة التي فرضها العثمانيون على مصر .

السؤال الرابع : ماذا يحدث إذا ... ؟

(السويس ٢٠٢١)

لم ينحز محمد بك أبو الذهب للسلطان العثماني ضد على بك الكبير .



اختبار المتفوقين على الدرس الأول



(يجيب عنه الطالب)

السؤال الأول: اختر الإجابة الصحيحة من بين الإجابات الآتية :

- ١ من عوامل ضعف الدولة العثمانية في مصر :
- أ تعدد هيئات الحكم
ب وجود السلطة المركزية
ج كثرة ثورات المصريين
د عدم الاهتمام بقناة السويس
- ٢ من أسباب كساد التجارة الداخلية في مصر عامل :
- أ الصحة
ب التعليم
ج الأمن
د الفقر
- ٣ كان لتعمير عاصمة الدولة العثمانية أثر سلبي على حرفة في مصر .
- أ التجارة
ب الزراعة
ج الصناعة
د التعدين
- ٤ الدولة الأوربية التي ساعدت الدولة العثمانية بطريق غير مباشر على هزيمة المماليك ، هي :
- أ فرنسا
ب البرتغال
ج إنجلترا
د ألمانيا
- ٥ استفادت الدولة العثمانية من هزيمة الجيوش المملوكية :
- أ سياسياً فقط
ب سياسياً ودينياً
ج اقتصادياً وسياسياً
د اقتصادياً فقط

السؤال الثاني: ما العلاقة بين ... ؟

١ الكشوف الجغرافية والتدهور الاقتصادي لدولة المماليك .

٢ النهضة الأوربية ومعركتي مرج دابق والريدانية .

٣ الخيانة واستقلال مصر عن الدولة العثمانية .

السؤال الثالث: أثبت صحة أو خطأ العبارتين الآتيتين :

١ شهدت منطقة الشرق الأوسط صراعات بين قوى دولية في أوائل القرن السادس عشر الميلادي .

٢ أسقطت دولة المماليك نفسها قبل أن تسقطها الدولة العثمانية .

.....
١٠

اختبار الشاطر على الدرس الأول



(يجب عنه الطالب)

.....
٤

السؤال الأول : اختر الإجابة الصحيحة من بين الإجابات الآتية :

- ١ | بادر السلطان بالاستيلاء على إمارة ذى القادر المملوكية .
 - أ طومان باى
 - ب محمد الفاتح
 - ج سليم الأول
 - د قنصوة الغورى
- ٢ | آخر سلاطين المماليك فى مصر ، هو :
 - أ قنصوة الغورى
 - ب سليم الأول
 - ج طومان باى
 - د مراد بك
- ٣ | المكان الذى دارت فيه معركة الريدانية يقع بالقرب من :
 - أ دمشق
 - ب القاهرة
 - ج الإسكندرية
 - د القدس
- ٤ | صار هو الحاكم الفعلى لمصر عام ١٧٦٨ م .
 - أ محمد على
 - ب سعيد باشا
 - ج خورشيد باشا
 - د على بك الكبير

.....
٣

السؤال الثانى : بم تفسر ... ؟

- ١ | تدهور الزراعة أثناء الحكم العثماني لمصر .

- ٢ | هزيمة القوات المملوكية أمام القوات العثمانية .

- ٣ | عدم اتجاه السلطان سليم الأول نحو الصدام مع أوروبا .

.....
٣

السؤال الثالث : ما النتائج المترتبة على ... ؟

- ١ | اكتشاف طريق رأس الرجاء الصالح .

- ٢ | معركة ديو البحرية ١٥٠٩ م .

- ٣ | معركة الريدانية ١٥١٧ م .



الدرس الثاني : الحملة الفرنسية على مصر « ١٧٩٨م - ١٨٠١م »

أهم نقاط الدرس :

- تعد الحملة الفرنسية على مصر والشام - بقيادة نابليون بونابرت - جزءاً من التنافس الاستعماري بين إنجلترا وفرنسا على المستعمرات .
- بدأ هذا التنافس في القرن السابع عشر واستمر طوال القرن الثامن عشر .
- أرسل القنصل الفرنسي في مصر تقارير لحكومة الثورة الفرنسية تفيد بسوء الأوضاع السياسية والداخلية في مصر ، ويحثهم على إرسال حملة عسكرية إلى مصر .

أولاً : الحملة الفرنسية على مصر

١ أسباب الحملة :



٢ الإعداد للحملة :

أعد نابليون بونابرت جيشاً واصطحب معه مجموعة من العلماء في مختلف العلوم والفنون وذلك لـ :

- (أ) دراسة أحوال مصر من جميع النواحي . (ب) كيفية استغلال موارد مصر .

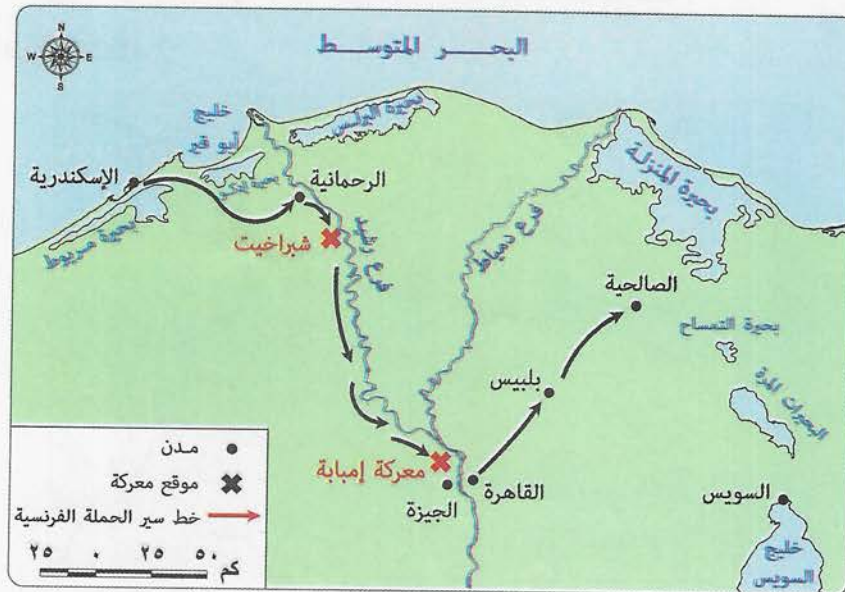
وحمل معه :

- (أ) مطبعة عربية لطبع المنشورات للأهالي . (ب) مطبعة فرنسية .

٣ خط سير الحملة :



خط سير أسطول الحملة الفرنسية إلى مصر

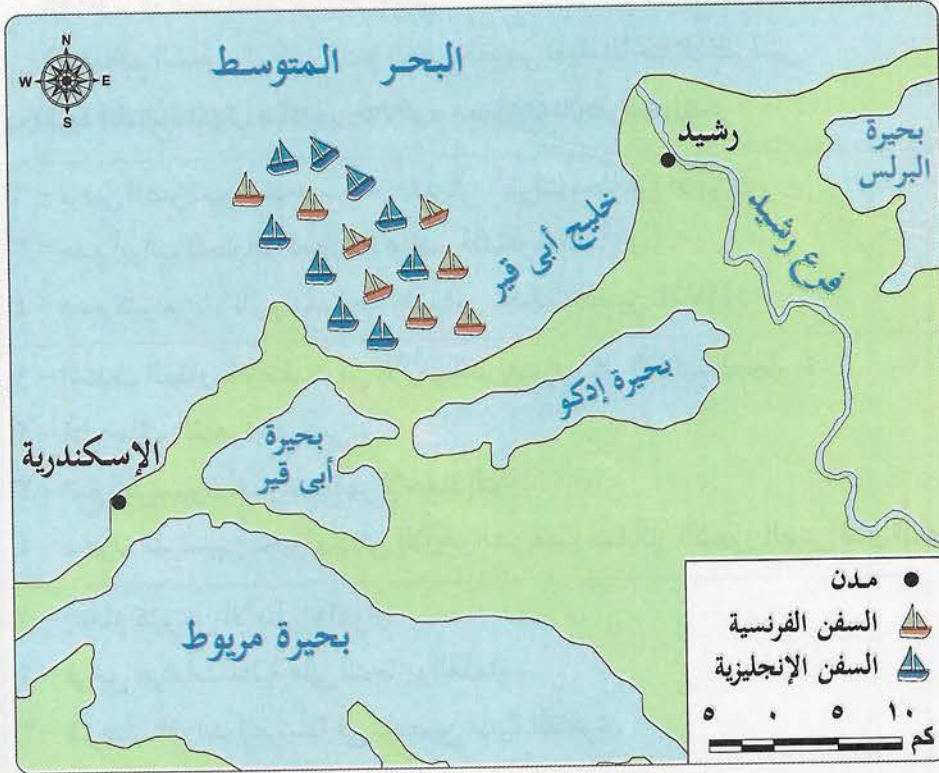


خط سير الحملة الفرنسية إلى القاهرة

سبب هزيمة المماليك أمام نابليون :

- اعتمادهم على الفروسية واعتماد الفرنسيين على المدافع والمعدات الحديثة بعد ذلك أرسل نابليون قواته في كل أنحاء مصر وجاء خبر وصول الأسطول الإنجليزي لأبي قير .

٤ معركة أبي قير البحرية « أغسطس ١٧٩٨ م » :



معركة أبي قير البحرية

الأطراف	
• الأسطول الفرنسي .	• الأسطول الإنجليزي (بقيادة نلسون) .
ضد	
النتائج	
• تحطم	• وغرق الأسطول الفرنسي .
• حصار	• الأسطول البريطاني لشواطئ مصر الشمالية .
• حرمان	• الحملة من إمدادات فرنسا لها .
• القضاء	• على آمال فرنسا في السيطرة على البحر المتوسط .
• توقف	• حركة التجارة الخارجية لمصر .
• شعور	• الجنود الفرنسيين أنهم محاصرون داخل مصر .

٥ مقاومة الشعب المصري للاحتلال الفرنسي :

(أ) مقاومة أهل الصعيد :

فشلت القوات الفرنسية في إخضاع أهالي الصعيد ، بسبب :

- ١ - اتباع أهل الصعيد لحرب المناوشات والمعارك المتفرقة .
- ٢ - طول الوادى أنهك قوة الفرنسيين .
- ٣ - تعاظم الشعور الوطنى ونمو الوعى القومى تجاه الاحتلال الفرنسى .

(ب) ثورة القاهرة الأولى « أكتوبر ١٧٩٨ م » - مركزها الأزهر الشريف :

الأسباب
<ol style="list-style-type: none"> ١ - فرض الضرائب الفادحة . ٢ - تفتيش البيوت بحثاً عن الأموال . ٣ - هدم أبواب الحارات لمطاردة عناصر المقاومة (الثوار) . ٤ - هدم كثير من الآثار والمساجد والمباني بحجة تحصين القاهرة .
الأحداث
<ol style="list-style-type: none"> ١ - اشتدت المقاومة وانتقلت من الأزهر الشريف إلى كل الأقاليم المجاورة . ٢ - قتل حاكم القاهرة الفرنسى . ٣ - اتبع الفرنسيون أسلوب القهر لإخماد الثورة . ٤ - دخول الفرنسيين بخيولهم إلى الأزهر الشريف ؛ مما أثار الشعور الدينى لدى المصريين .
النتائج
<ol style="list-style-type: none"> ١ - إعدام كثير من الأهالى والثوار . ٢ - فرض غرامات مالية على التجار والعلماء . ٣ - شرعت القوات الفرنسية فى تحصين مدينة القاهرة .

ثانياً : الحملة الفرنسية على الشام ١٧٩٩ م



خط سير أسطول الحملة الفرنسية إلى الشام

الأسباب
<ul style="list-style-type: none"> • تحالف الدولة العثمانية مع إنجلترا وروسيا لإخراج الفرنسيين من مصر عن طريق إرسال حملتين لمصر : <ol style="list-style-type: none"> ١ - بحرية من جزيرة رودس . ٢ - برية من بلاد الشام .
الأحداث
<ul style="list-style-type: none"> • قاد نابليون قواته إلى الشام من جهة العريش ؛ ليقضى على الجيش العثماني قبل أن يصل مصر . • استولى في طريقه على العريش وغزة . • حاصر يافا وارتكب مذبحه يافا البشرية رغم تأمينه لأرواح أهلها . • أدى ذلك إلى مقاومة أهل عكا بقيادة أحمد باشا الجزار بمساعدة الأسطول البريطاني وإمداده بالمؤن والذخائر .
النتائج
<ol style="list-style-type: none"> ١ - فشل الحملة الفرنسية على الشام . ٢ - اضطر نابليون للعودة إلى مصر .

١ موقعة أبي قير البرية « يوليو ١٧٩٩م » :

- بعد عودة نابليون إلى مصر وصل الأسطول العثماني إلى أبي قير .
- توجه إليهم نابليون بقواته واشتبكت القوات الفرنسية مع قوات الأسطول العثماني .
- ترتب على ذلك هزيمة القوات العثمانية .

٢ رحيل نابليون بونابرت عن مصر :

- أثناء معركة أبي قير البرية سافر نابليون سرًا إلى فرنسا بسبب تحالف دول أوروبا ضد فرنسا .
- تولى قيادة الحملة نائبه كليبر .

ثالثًا : كليبر والحملة

كان كليبر لا يريد البقاء في مصر بسبب الأخطار التي تهدد الحملة من كل جانب ، وهي :

- ١ تناقص عدد الجيش الفرنسي بسبب المعارك والحروب الداخلية والخارجية .
- ٢ إرسال الدولة العثمانية حملة أخرى إلى العريش ودمياط .
- ٣ عودة المماليك للمقاومة .
- ٤ تجدد ثورات المصريين في الشرقية ووسط الدلتا وغربها .

أدى ذلك إلى :

- اتجاه كليبر للتفاوض مع الدولة العثمانية فيما سمي باتفاقية العريش ١٨٠٠ م .

١ اتفاقية العريش « ١٨٠٠ م » :

أطرافها	• كليبر . • الدولة العثمانية .
شروطها	• خروج الحملة الفرنسية بجنودها إلى فرنسا على نفقة الدولة العثمانية .
النتائج	• تقدم العثمانيون نحو القاهرة . • رفضت الحكومة البريطانية الاتفاقية وطالبت بخروج الفرنسيين كأسرى حرب . • هاجم كليبر القوات العثمانية وأعادها إلى الشام مرة أخرى .

٢ ثورة القاهرة الثانية « مارس ١٨٠٠ م » :

نتائجها	أحداثها	
	مركزها	قائدها
• دمر الفرنسيون حى بولاق . • فرض كليبر الضرائب وصادر الأموال . • أخمدت القوات الفرنسية الثورة .	• حى بولاق .	• نقيب الأشراف السيد عمر مكرم .

٣ مقتل كليبر :

■ قام سليمان الحلبي أحد طلاب الأزهر بقتل كليبر فى يونيو ١٨٠٠ م ، بعد ذلك تولى مينو قيادة الحملة .

رابعًا : مينو والحملة

- ١ تولى مينو قيادة الحملة بعد مقتل كليبر .
 - ٢ كان مينو ينوى البقاء فى مصر وتحويلها إلى مستعمرة فرنسية كبرى .
- لذلك قام بوضع خطة إصلاحية فى مجالات :
- الزراعة .
 - الصناعة .
 - التجارة .
 - النظام القضائى .
 - الصحة .

خامسًا : جلاء الحملة الفرنسية عن مصر

- ١ أرسلت إنجلترا أسطولاً حربيًا لأبى قير فى فبراير ١٨٠١ م لإخراج الفرنسيين من مصر .
- ٢ انضم الجيش العثماني إلى الأسطول .
- ٣ لم تستطع الحملة المقاومة واستسلمت وخرجت من مصر فى سبتمبر ١٨٠١ م .

نتائج الحملة الفرنسية على مصر :

أولاً : نمو الروح القومية

حيث :

- ١ أيقظت الحملة الروح القومية لدى المصريين .
- ٢ بعد خروج الحملة تمسك المصريون بحقوقهم في الحرية واختيار حاكمهم .

ثانياً : الناحية السياسية

- لفتت الحملة الفرنسية أنظار الدول الأوروبية - وخاصة إنجلترا - إلى أهمية موقع مصر الجغرافي .

ثالثاً : فى نظم الحكم والإدارة

- أنشأ نابليون الديوان العام ودواوين الأقاليم وديوان القاهرة بهدف تدريب الأعيان المصريين على نظام مجالس الشورى فيما يعود بالنفع على الأهالى .

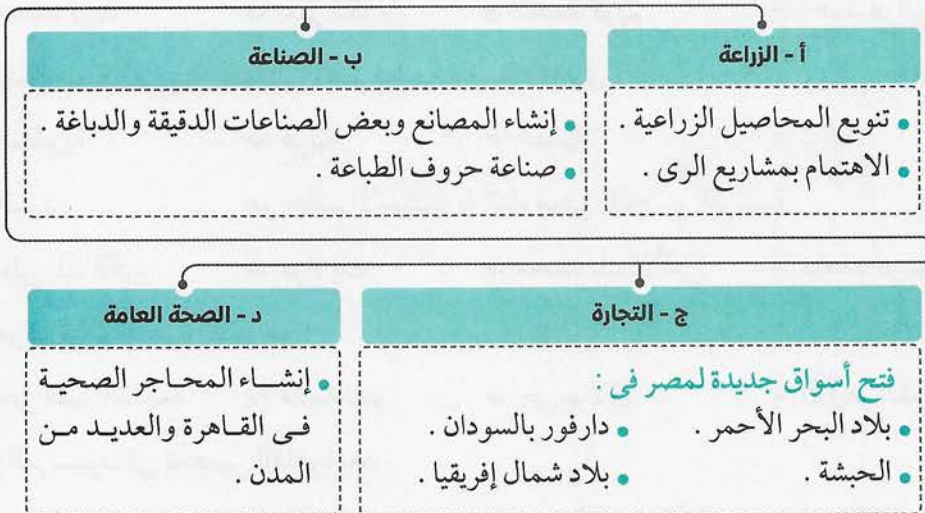
رابعاً : الأعمال الكبرى

قام علماء الحملة بـ :

- ١ دراسة شق قناة تربط بين البحرين الأحمر والمتوسط .
- ٢ إنشاء المجمع العلمى المصرى .
- ٣ تأليف كتاب وصف مصر .
- ٤ اكتشاف حجر رشيد ١٧٩٩م ومعرفة التاريخ المصرى القديم .

خامساً : الآثار الاقتصادية والاجتماعية

وضعت الحملة بعض المشروعات لإصلاح :



أسئلة الشاطر على الدرس الثاني



(مجاب عنها)

السؤال الأول : اختر الإجابة الصحيحة من بين الإجابات الآتية :

- ١ أرادت فرنسا باحتلال مصر قطع الصلة بين إنجلترا ومستعمراتها في :
 - أ الجزائر
 - ب المغرب
 - ج الهند
 - د البرازيل
- ٢ أبحرت الحملة الفرنسية من ميناء سرًا .
 - أ مارسيليا
 - ب طولون
 - ج فانكوفر
 - د سانت لورانس
- ٣ دخل الفرنسيون القاهرة بعد معركة :
 - أ إمبابة
 - ب كفر الدوار
 - ج التل الكبير
 - د السويس
- ٤ قام قائد الأسطول نلسون بتدمير الأسطول الفرنسي في معركة أبي قير .
 - أ الألماني
 - ب الأمريكي
 - ج الإنجليزي
 - د الروسي
- ٥ كان مركز ثورة القاهرة الأولى هو :
 - أ حى بولاق
 - ب الأزهر الشريف
 - ج إمبابة
 - د مصر الجديدة
- ٦ ارتكب نابليون مذبحه أثناء حملته على بلاد الشام .
 - أ عكا
 - ب حيفا
 - ج يافا
 - د دمشق
- ٧ تولى قيادة الحملة الفرنسية بعد سفر نابليون إلى فرنسا سرًا .
 - أ مينو
 - ب نلسون
 - ج كليبر
 - د شامبليون
- ٨ تولى زعامة ثورة القاهرة الثانية .
 - أ محمد فريد
 - ب عمر مكرم
 - ج محمد كريم
 - د أحمد عرابي
- ٩ حملت الحملة الفرنسية معها إلى مصر مطبعة فرنسية وأخرى :
 - أ إنجليزية
 - ب عربية
 - ج ألمانية
 - د تركية
- ١٠ كان السيد هو حاكم الإسكندرية أثناء مجيء الحملة الفرنسية .
 - أ على بك الكبير
 - ب مراد بك
 - ج محمد بك الألفى
 - د محمد كريم
- ١١ كان مركز ثورة القاهرة الثانية هو :
 - أ حى مصر القديمة
 - ب مدينة نصر
 - ج حى بولاق
 - د الأزهر الشريف
- ١٢ شرع الفرنسيون فى تحصين القاهرة بعد :
 - أ معركة إمبابة
 - ب مذبحه يافا
 - ج ثورة القاهرة الأولى
 - د ثورة القاهرة الثانية

- ١٣ ساعد الأسطول أهالي عكا ضد نابليون .
 أ الألماني ب الإنجليزي ج الأمريكي د المملوكي
- ١٤ رحل نابليون سرًا إلى فرنسا بعد :
 أ ثورة القاهرة الأولى ب ثورة القاهرة الثانية
 ج معركة أبي قير البرية د معاهدة العريش
- ١٥ تولى مينو قيادة الحملة الفرنسية عقب مقتل :
 أ نلسون ب كليبر ج ميرت د نابليون
- ١٦ تم إنشاء المجمع العلمي المصري :
 أ بعد مجيء الحملة الفرنسية ب قبيل مجيء الحملة الفرنسية
 ج بعد الفتح العثماني د قبيل الفتح العثماني
- ١٧ أول المدن المصرية التي وصلت إليها الحملة الفرنسية هي :
 أ إمبابة ب شبراخيت ج القاهرة د الإسكندرية
- ١٨ بعد معركة فر مراد بك إلى الصعيد وإبراهيم بك إلى الشام .
 أ الإسكندرية ب التل الكبير ج شبراخيت د إمبابة
- ١٩ تم إغراق الأسطول الفرنسي على يد الأسطول الإنجليزي في خليج :
 أ العقبة ب السويس ج أبي قير د نعمة
- ٢٠ قُتل حاكم القاهرة الفرنسي في :
 أ معركة أبي قير البحرية ب معركة إمبابة ج ثورة القاهرة الأولى د ثورة القاهرة الثانية
- ٢١ تحالفت الدولة العثمانية مع وإنجلترا لإخراج الفرنسيين من مصر .
 أ ألمانيا ب روسيا ج إيطاليا د إسبانيا
- ٢٢ قام أحد طلاب الأزهر وهو بقتل كليبر في يونيو ١٨٠٠ م .
 أ محمد كريم ب عمر مكرم ج سليمان الحلبي د عبد الله الشرقاوي
- ٢٣ تزعم السيد نقيب الأشراف ثورة القاهرة الثانية .
 أ محمد كريم ب عمر مكرم ج مراد بك د إبراهيم بك
- ٢٤ تولى قيادة الحملة الفرنسية بعد سفر نابليون سرًا إلى فرنسا .
 أ مينو ب كليبر ج نلسون د لويس التاسع
- ٢٥ عقد كليبر اتفاقية مع الدولة العثمانية لكنه فشل لرفض إنجلترا للاتفاقية .
 أ الإسكندرية ب العريش ج بورسعيد د القاهرة

٢٦ قام علماء الحملة الفرنسية بتأليف كتاب :

أ شخصية مصر ب وصف مصر ج الأيام د تاريخ الفراعنة

٢٧ رفض الشعوب للاحتلال ومظاهره ودفعه عن البلاد بمختلف الوسائل يسمى :

أ احتلال ب استعمار ج مقاومة د جلاء

٢٨ حجر تم اكتشافه من قِبَل علماء الحملة الفرنسية ترتب عليه معرفة التاريخ المصرى القديم .

أ بالرمو ب رشيد ج زوسر د توت عنخ آمون

٢٩ هو قائد الحملة الفرنسية على الشام عام ١٧٩٩ م .

أ نابليون ب كليبر ج مينو د نلسون

٣٠ هو حاكم عكا الذى قاوم حملة نابليون وساعده الإنجليز .

أ محمد الألفى ب إبراهيم بك ج مراد بك د أحمد باشا الجزائر

٣١ هو أحد طلاب الأزهر الذى قتل كليبر بعد ثورة القاهرة الثانية .

أ سليمان الحلبي ب عمر مكرم ج محمد كريم د عبد الله النديم

٣٢ كان قائداً للحملة الفرنسية عندما غادرت مصر عام ١٨٠١ م .

أ كليبر ب نابليون ج مينو د نلسون

السؤال الثانى : بم تفسر ... ؟

١ مجيء الحملة الفرنسية إلى مصر . ٢ اصطحاب نابليون العلماء معه أثناء حملته على مصر .

٣ هزيمة المماليك من الفرنسيين فى معارك متعددة .

٤ توقف حركة التجارة الخارجية لمصر بعد أغسطس ١٧٩٨ م .

٥ قيام ثورة القاهرة الأولى . ٦ حملة نابليون على بلاد الشام عام ١٧٩٩ م .

٧ فشل نابليون فى فتح عكا . ٨ سفر نابليون سراً إلى فرنسا وترك الحملة لكليبر .

٩ رغبة كليبر فى رحيل الحملة عن مصر . ١٠ فشل معاهدة العريش ١٨٠٠ م .

١١ قيام نابليون بإنشاء الدواوين المتعددة . ١٢ طول فترة مقاومة أهل الصعيد للحملة الفرنسية .

السؤال الثالث : ما النتائج المترتبة على ... ؟

١ الصراع الاستعماري بين فرنسا وإنجلترا . ٢ عدم تقدم الأسلحة عند المماليك .

٣ معركة أبي قير البحرية أغسطس ١٧٩٨ م . ٤ ثورة القاهرة الأولى أكتوبر ١٧٩٨ م .

٥ مساعدة الأسطول الإنجليزي لأهل عكا ضد حملة نابليون .

٦ كثرة الأخطار التى هددت الحملة الفرنسية فى مصر فى بداية قيادة كليبر لها .

٧ الحملة الفرنسية على مصر من الناحية الاستراتيجية .

أسئلة وردت فى امتحانات المحافظات على الدرس الثانى

(مجاب عنها)

السؤال الأول : اختر الإجابة الصحيحة من بين الإجابات الآتية :

- ١ رحل نابليون من مصر تاركًا الحملة الفرنسية أثناء معركة :
١ مرج دابق ٢ الريدانية ٣ أبى قير البحرية ٤ أبى قير البرية
(دمياط ٢٠٢٠)
- ٢ تم تحطيم الأسطول الفرنسى على يد نلسون فى موقعة :
١ ديو البحرية ٢ جالديران ٣ أبى قير البحرية ٤ الريدانية
(البحر الأحمر ٢٠١٧)
- ٣ تزعم السيد مقاومة الحملة الفرنسية عندما وصلت إلى الإسكندرية .
١ عمر مكرم ٢ محمد كريم ٣ مراد بك ٤ عبد الله الشراوى
(القاهرة ٢٠١٦)
- ٤ كان مركزًا لثورة القاهرة الأولى ضد الفرنسيين .
١ حى بولاق ٢ حى مدينة نصر ٣ الأزهر الشريف ٤ حى مصر القديمة
(المنوفية ٢٠١٨)
- ٥ أيقظت الروح القومية لدى المصريين .
١ معركة ديو البحرية ٢ حملة نابليون على الشام
٣ الحملة الفرنسية على مصر ٤ معاهدة العريش
(الجيزة ٢٠١٨)
- ٦ قام المصريون بثورة عارمة بزعامة ضد قوات فرنسا فى حى بولاق .
١ محمد على ٢ عمر مكرم ٣ محمد كريم ٤ مراد بك
(الشرقية ٢٠١٨)
- ٧ كان أول لقاء للمماليك بالحملة الفرنسية فى مدينة :
١ القاهرة ٢ الإسكندرية ٣ شبراخيت ٤ السويس
(الغربية ٢٠١٨)
- ٨ وجهت الحملة الفرنسية أنظار الدول الأوروبية وخاصة إلى أهمية موقع مصر .
١ ألمانيا ٢ إيطاليا ٣ هولندا ٤ إنجلترا
(أسوط ٢٠١٨)
- ٩ من الأعمال الكبرى التى قام بها علماء الحملة الفرنسية :
١ إنشاء المجمع العلمى ٢ تأليف كتاب وصف مصر
٣ اكتشاف حجر رشيد ٤ كل ما سبق
(الشرقية ٢٠١٨)
- ١٠ عقد كليبر مع العثمانيين عام ١٨٠٠م اتفاقية :
١ العريش ٢ لندن ٣ الأستانة ٤ إمبابة
(أسوان ٢٠١٦)
- ١١ رفض الشعوب للاحتلال ومظاهرة ودفعه عن البلاد بمختلف الوسائل ، يسمى :
١ جلاء ٢ احتلال ٣ استعمار ٤ مقاومة
(بورسعيد ٢٠١٩)

١٢ ميناء فرنسي أبحرت منه الحملة الفرنسية إلى مصر :

(الشرقية ٢٠١٩)

د أثينا

ج صقلية

ب فانكوفر

ا طولون

١٣ تولى الحملة الفرنسية بعد مقتل كليبر .

(الجيزة ٢٠١٩)

د نابليون

ج ميرت

ب مينو

ا نلسون

السؤال الثاني : بم تفسر ... ؟

١ كان كليبر من أنصار الجلاء عن مصر .

(المنوفية ٢٠١٨)

٢ اصطحب نابليون مجموعة من العلماء معه إلى مصر .

(دمياط ٢٠١٨)

٣ فشل نابليون في فتح عكا .

(السويس ٢٠٢١)

السؤال الثالث : ما النتائج المترتبة على ... ؟

١ موقعة أبي قير البحرية .

(المنوفية ٢٠١٨) ٢ اتفاقية العريش عام ١٨٠٠ م .

(الشرقية ٢٠١٨)

٣ الحملة الفرنسية في مجال الصحة العامة .

(الغربية ٢٠١٨)

٤ ثورة القاهرة الثانية مارس ١٨٠٠ م . (أسبوط ٢٠١٩) ٥ مذبحه يافا البشرية .

(الجيزة ٢٠١٩)

السؤال الرابع : قارن بين :

١ موقعة أبي قير البحرية وموقعة أبي قير البرية ، من حيث :

• الأطراف .

(الجيزة ٢٠١٨)

• النتائج .

٢ ثورة القاهرة الأولى والثانية ، من حيث

• مقر الثورة .

(القاهرة ٢٠٢١)

• النتائج .

السؤال الخامس : ماذا يحدث إذا ... ؟

١ لم يتم اكتشاف حجر رشيد .

(السويس ٢٠٢١)

٢ لم يقم نابليون بإعدام جميع أفراد حامية يافا .

(أسبوط ٢٠١٩)

السؤال السادس : دلل على :

١ بشاعة معاملة نابليون لأهل الشام .

(بورسعيد ٢٠٢١)

٢ تولى كليبر أمر قيادة الحملة الفرنسية على مصر والأخطار تهدد الحملة من كل جانب . (البحيرة ٢٠١٦)

(البحيرة ٢٠١٦)

السؤال السابع : ما رأيك في ... ؟

١ كون الحملة الفرنسية سبباً في احتلال إنجلترا لمصر .

(بورسعيد ٢٠١٨)

٢ إشراك نابليون للعلماء والأعيان المصريين في الدواوين .

(القليوبية ٢٠١٩)

اختبار المتفوقين على الدرس الثاني



(يجب عنه الطالب)

السؤال الأول : اختر الإجابة الصحيحة من بين الإجابات الآتية :

- ١ هناك علاقة بين اللغة المصرية القديمة و :
أ الحكم العثماني ب الحملة الفرنسية ج حركة على بك الكبير د دولة المماليك
- ٢ هزائم المماليك المتتالية من الفرنسيين ترجع لأسباب :
أ اقتصادية ب تقنية ج سيكولوجية د اجتماعية
- ٣ من نتائج التحالف الأوربي عام ١٧٩٩ م قيام :
أ الحملة الفرنسية على مصر ب معركة أبي قير البحرية
ج الحملة الفرنسية على الشام د معركة إمبابة

السؤال الثاني :

حدد خط سير الحملة الفرنسية من فرنسا إلى مصر .

.....

.....

.....

السؤال الثالث : أثبت صحة العبارتين الآتيتين :

١ الظروف الداخلية في مصر كانت سبباً من أسباب الحملة الفرنسية على مصر .

.....

.....

٢ كان لإنجلترا التفوق البحري دائماً على فرنسا .

.....

.....

السؤال الرابع : ما رأيك في هذه المقولة ... ؟

لم تختلف سياسة نابليون عن سياسة كليبر في مواجهة الثورات .

.....

.....

.....

.....
١٠

اختبار الشاطر على الدرسين الأول والثاني



(يجب عنه الطالب)

.....
٦

السؤال الأول : اختر الإجابة الصحيحة من بين الإجابات الآتية :

- ١ انتصر على الصفويين ودخل عاصمتهم تبريز .
 أ محمد علي ب سليم الأول ج طومان باي د قنصوة الغوري
- ٢ دمر الأسطول الفرنسي في معركة أبي قير البحرية .
 أ مينو ب نلسون ج أحمد باشا الجزائر د سليم الأول
- ٣ تولى قيادة الحملة الفرنسية بعد مقتل كليبر .
 أ نابليون ب ديوي ج مينو د نلسون
- ٤ قاد المقاومة في عكا أثناء حصار نابليون لها .
 أ عمر مكرم ب محمد كريم ج أحمد باشا الجزائر د ظاهر العمر
- ٥ فشل حركة علي بك الكبير كان بسبب :
 أ التكافؤ العسكري ب الخيانة ج التدهور الاقتصادي د الظروف الاجتماعية
- ٦ كانت معركة إمبابة بعد معركة مباشرة .
 أ شبراخيت ب كفر الدوار ج مرج دابق د جالديران

.....
١

السؤال الثاني : فسر ما يلي :

- ١ مجيء الحملة الفرنسية إلى مصر .

.....
٣

السؤال الثالث : ما العلاقة بين ... ؟

- ١ روسيا وحملة نابليون على بلاد الشام .

- ٢ معاهدة العريش ومشاكل الحملة الفرنسية في مصر .

- ٣ نظام الحكم العثماني وضعف الدولة العثمانية في مصر .

الدرس الثالث : ثورة الشعب المصري وتولية محمد علي

أهم نقاط الدرس :

أولاً : تولية محمد علي حكم مصر


- عقب رحيل الحملة الفرنسية من مصر سادت حالة من الفوضى والصراعات بين المماليك والعثمانيين والإنجليز للسيطرة على مصر .
- استعادت الدولة العثمانية حكم مصر ، لكن الشعب المصري قام بالعديد من الثورات ضد الولاة العثمانيين وزعماء المماليك ، أهمها :

١ ثورة الشعب في مارس ١٨٠٤ م :

الأسباب	• فرض الضرائب والإتاوات على الأهالي .
الأحداث	• خشى محمد علي أن تصيب الثورة جنوده ؛ فجاهر بالانضمام إلى العلماء والمشايخ ، واختلط بالأهالي الساخطين . • تعهد للعلماء بأن يبذل قصادى جهده لرفع الضريبة عن الناس . • اقترح تعيين خورشيد باشا والياً على مصر .
النتائج	ترتب على ذلك : • كسب محمد علي عطف الشعب وثقة زعمائه ، ونظر إليه الشعب كرجل عادل يكره الظلم .

٢ اختيار محمد علي والياً على مصر :

- فى يوم ١٣ مايو عام ١٨٠٥ م اجتمع زعماء الشعب بدار المحكمة (بيت القاضى) وقرروا :



شروط الولاية	• ألا يبرم محمد علي أمراً إلا بمشورتهم .
أهمية الحدث	• لأول مرة فى تاريخ مصر الحديث يتم عزل الوالى وتعيين آخر بإرادة الشعب .
فرمان الولاية	• أصدر السلطان العثمانى فرماً فى ٩ يوليو ١٨٠٥ م يتضمن عزل خورشيد باشا ، وتعيين محمد علي والياً على مصر .

ثانيًا : المشكلات التي واجهت محمد علي في حكم مصر



١ محاولة نقله من مصر ١٨٠٦ م :

<ul style="list-style-type: none"> • سعت بريطانيا لتولية محمد بك الألفي (من المماليك) أو أي والٍ عثماني بدلاً من محمد علي ؛ لكي تطمئن على مصالحها الاقتصادية في المنطقة . • حاولت إقناع السلطان العثماني بذلك . 	موقف بريطانيا
<ul style="list-style-type: none"> • استجاب السلطان لبريطانيا ، وأرسل أسطولاً يحمل فرماًناً بنقل محمد علي والياً على ولاية سالونيك في مقدونيا ، وتسليم السلطة للوالي العثماني الذي جاء مع الأسطول وذلك دون مقاومة . 	موقف السلطان العثماني
<ul style="list-style-type: none"> • رفضت الزعامة الشعبية الفرمان ووقفت مع محمد علي ، فرضخ السلطان العثماني وتراجع عن قراره . 	موقف الزعامة الشعبية

٢ حملة فريزر مارس ١٨٠٧ م :

<ul style="list-style-type: none"> • استغلت بريطانيا تدهور علاقتها بالسلطان العثماني ، وأرسلت حملة عسكرية بهدف : <ol style="list-style-type: none"> ١ - احتلال مصر . ٢ - خلع محمد علي من حكم مصر . ٣ - تثبيت تابعها محمد بك الألفي المملوكي . 	الأسباب (الأهداف)
<ul style="list-style-type: none"> • قام الشعب المصري بمقاومة الحملة فكانت النتائج : <ol style="list-style-type: none"> ١ - هزيمة الحملة في رشيد والحماد . ٢ - جلاء الحملة مقابل الإفراج عن الأسرى . ٣ - دخول محمد علي الإسكندرية منتصراً . 	النتائج

٣ الزعامة الشعبية :

محمد على	
أدرك	• قوة الزعامة الشعبية الممثلة فى السيد عمر مكرم ، ودورها فى اختياره للحكم والقيود التى فرضت عليه عند قبوله الولاية .
رأى	• ضرورة انفراده بالحكم دون وصاية من أحد .
أراد	• التخلص من السيد عمر مكرم .
ساعد	• فى ذلك انقسام القيادات الشعبية فيما بينها حول تقدير مكانة السيد عمر مكرم ، وأخذ منافسوه يدسون له المكائد عند محمد على .
أقدم	• على خلع عمر مكرم من نقابة الأشراف وإبعاده ونفيه إلى دمياط عام ١٨٠٩ م .

٤ المماليك :

- كان المماليك مصدر قلق وفوضى لمحمد على ؛ لذلك عمل على التخلص منهم واتبع فى ذلك أساليب ، منها :
 - ١ حرماتهم من تولى المناصب الرفيعة فى الدولة مثل مشيخة البلد .
 - ٢ مطاردتهم فى كل مكان .
 - ٣ تدبير مذبحه القلعة ١٨١١ م .
- بهذه الإجراءات تمكن محمد على من الانفراد تمامًا بحكم البلاد .

أسئلة الشاطر على الدرس الثالث



(مجاب عنها)

السؤال الأول : اختر الإجابة الصحيحة من بين الإجابات الآتية :

- ١ اقترح محمد علي في البداية تعيين واليًا على مصر .
 أ رياض باشا ب مراد بك ج محمد بك الألفي د خورشيد باشا
- ٢ أصدر السلطان العثماني فرماناً في ٩ يوليو ١٨٠٥ م يتضمن عزل خورشيد باشا وتعيين
 واليًا على مصر .
 أ مراد بك ب محمد علي ج خسرو باشا د طاهر باشا
- ٣ تم نفي السيد إلى دمياط عام ١٨٠٩ م .
 أ مراد بك ب محمد كريم ج عمر مكرم د عبد الله النديم
- ٤ سعت بريطانيا لتولية المملوكي حكم مصر .
 أ محمد علي ب عثمان بك ج خورشيد باشا د محمد بك الألفي
- ٥ أرسلت بريطانيا حملة عسكرية بقيادة لاحتلال مصر عام ١٨٠٧ م .
 أ محمد بك الألفي ب كليبر ج فريزر د نلسون
- ٦ جاهر بالانضمام إلى العلماء والمشايخ في ثورة الشعب ١٨٠٤ م .
 أ خورشيد باشا ب مراد بك ج إبراهيم بك د محمد علي
- ٧ تم اختيار لحكم مصر في ١٣ مايو ١٨٠٥ م .
 أ مراد بك ب محمد علي ج خورشيد باشا د محمد بك الألفي
- ٨ قرر السلطان العثماني نقل محمد علي إلى ولاية عام ١٨٠٦ م .
 أ الشام ب السودان ج سالونيك د العراق
- ٩ قاوم المصريون حملة فريزر عام ١٨٠٧ م وهزموها في و
 أ الإسكندرية/ السويس ب رشيد/ الحماد ج الأزهر/ حى بولاق د إمبابة/ القاهرة
- ١٠ اجتمع زعماء الشعب في يوم ١٣ مايو عام ١٨٠٥ م واختاروا محمد علي واليًا على مصر .
 أ قصر عابدين ب قصر الجوهرة ج دار المحكمة د القلعة
- ١١ دبر محمد علي مذبحه القلعة عام ١٨١١ م للتخلص من :
 أ الزعامة الشعبية ب المماليك ج الإنجليز د الأتراك
- ١٢ تولى محمد علي حكم مصر بعد عزل :
 أ عمر مكرم ب خورشيد باشا ج محمد بك الألفي د طاهر باشا

السؤال الثاني : بم تفسر ... ؟

- ١ ثورة الشعب المصري فى مارس عام ١٨٠٤ م .
- ٢ كسب محمد على ثقة الشعب المصرى أثناء ثورة ١٨٠٤ م .
- ٣ الأهمية التاريخية ليوم ١٣ مايو عام ١٨٠٥ م .
- ٤ سعى إنجلترا لتعيين محمد بك الألفى والياً على مصر .
- ٥ مجيء الحملة الإنجليزية إلى مصر عام ١٨٠٧ م .
- ٦ فشل حملة فريزر على مصر عام ١٨٠٧ م .
- ٧ تخلص محمد على من المماليك عام ١٨١١ م .

السؤال الثالث : ما النتائج المترتبة على ... ؟

- ١ ثورة الشعب المصرى فى مارس ١٨٠٤ م .
- ٢ انضمام محمد على للعلماء والمشايخ أثناء ثورة ١٨٠٤ م .
- ٣ فرمان السلطان العثمانى فى ٩ يوليو ١٨٠٥ م .
- ٤ ضغط إنجلترا على السلطان العثمانى عام ١٨٠٦ م .
- ٥ وقوف الزعامة الشعبية بجانب محمد على بعد صدور فرمان نقله عام ١٨٠٦ م .
- ٦ مقاومة الشعب المصرى لحملة فريزر ١٨٠٧ م .
- ٧ مذبحة القلعة ١٨١١ م .

السؤال الرابع : أيد بالأدلة التاريخية صحة العبارات الآتية :

- ١ ساندت الزعامة الشعبية محمد على فى عدة أزمات واجهته أثناء حكمه لمصر .
- ٢ ساعدت الظروف محمد على فى التخلص من الزعامة الشعبية .
- ٣ استخدم محمد على العنف فى القضاء على معارضيه .

السؤال الخامس : ماذا يحدث إذا ... ؟

- ١ لم تقف الزعامة الشعبية مع محمد على فى عام ١٨٠٦ م .
- ٢ نجحت حملة فريزر فى تحقيق أهدافها عام ١٨٠٧ م .

أسئلة وردت في امتحانات المحافظات على الدرس الثالث

(مجاب عنها)

السؤال الأول : اختر الإجابة الصحيحة من بين الإجابات الآتية :

- ١ | تخلص محمد على من بعد مذبحة القلعة .
 (القليوبية ٢٠١٨) ا | العثمانيين ب | الفرنسيين ج | المماليك د | الزعامة الشعبية
- ٢ | كانت ثورة الشعب المصري عام ١٨٠٤ م مكسبًا سياسيًا لـ :
 (المنوفية ٢٠١٨) ا | رياض باشا ب | خسرو باشا ج | محمد على د | طاهر باشا
- ٣ | فشلت محاولة إنجلترا فى نقل محمد على من حكم مصر إلى ولاية :
 (الإسماعيلية ٢٠٢٠) ا | جدة ب | سالونيك ج | غزة د | السودان
- ٤ | اجتمع زعماء الشعب بدار المحكمة فى مايو ١٨٠٥ م وقرروا عزل الوالى :
 (القاهرة ٢٠٢١) ا | محمد على ب | مراد بك ج | خورشيد باشا د | إبراهيم باشا
- ٥ | تم نفى إلى دمياط ١٨٠٩ م .
 (الجيزة ٢٠١٨) ا | محمد كريم ب | عمر مكرم ج | سعد زغلول د | عبد الله النديم
- ٦ | قاد الحملة الإنجليزية على مصر عام ١٨٠٧ م .
 (السويس ٢٠٢١) ا | نلسون ب | كليبر ج | فريزر د | مينو
- ٧ | اجتمع زعماء الشعب فى دار المحكمة ١٨٠٥ م وقرروا عزل خورشيد باشا وتعيين :
 (السويس ٢٠٢١) ا | عبد الله الشرقاوى ب | عمر مكرم ج | محمد على د | طاهر باشا
- ٨ | سعت بريطانيا لتولية حكم مصر .
 (شمال سيناء ٢٠٢١) ا | محمد بك الألفى ب | محمد على ج | خورشيد باشا د | مراد بك

السؤال الثانى : بم تفسر ... ؟

- ١ | قيام محمد على بمذبحة القلعة ١٨١١ م .
 (القاهرة ٢٠٢١)
- ٢ | كان محمد على مقيداً فى حكم مصر عند توليه السلطة .
 (البحر الأحمر ٢٠٢١)
- ٣ | يعتبر يوم ١٣ مايو ١٨٠٥ م انتصاراً لإرادة الشعب المصرى .
 (بورسعيد ٢٠١٩)

السؤال الثالث : ماذا يحدث إذا ... ؟

- ١ | نجحت حملة فريزر عام ١٨٠٧ م فى تحقيق أهدافها .
 (الفيوم ٢٠٢١ / الإسماعيلية ٢٠١٧)

السؤال الرابع : ما العلاقة بين ... ؟

- ١ | الزعامة الشعبية وتولية محمد على حكم مصر .
 (الغربية ٢٠٢١)

اختبار المتفوقين على الدرس الثالث



(يجب عنه الطالب)

السؤال الأول : اختر الإجابة الصحيحة من بين الإجابات الآتية :

- ١ تعهد محمد على ل..... عام ١٨٠٤م برفع الضريبة عن الناس .
أ الزراعة ب الصناع ج العلماء د الأطباء
- ٢ اقترح محمد على تعيين..... عام ١٨٠٤م واليًا على مصر .
أ عمر مكرم ب خورشيد باشا ج عبد الله الشرقاوى د مراد بك

السؤال الثانى : وضع :

- ١ واجهت الزعامة الشعبية الأطماع الخارجية فى بداية حكم محمد على لمصر .

.....
.....

السؤال الثالث : ما العلاقة بين ... ؟

- ١ الفوضى ومذبحة القلعة .

.....
.....

- ٢ المنافسة والتخلص من الزعامة الشعبية .

.....
.....

السؤال الرابع : ما الدليل على أن ... ؟

- ١ الزعامة الشعبية لعبت دورًا كبيرًا فى تثبيت محمد على فى الحكم بعد عام ١٨٠٥م .

.....
.....
.....
.....

.....
١٠

اختبار الشاطر التراكمي على ما سبقت دراسته



(يجيب عنه الطالب)

.....
٧

السؤال الأول : اختر الإجابة الصحيحة من بين الإجابات الآتية :

- ١ نقيب الأشراف الذي نفاه محمد على إلى دمياط ١٨٠٥ م هو :
 أ عمر مكرم ب محمد كريم ج أحمد باشا الجزائر د مراد بك
- ٢ قاد حملة عسكرية إنجليزية على مصر عام ١٨٠٧ م .
 أ نلسون ب كليبر ج فريزر د مينو
- ٣ السلطان العثماني الذي قاد القوات العثمانية في معركة الريدانية هو :
 أ سليم الثاني ب مراد الأول ج سليم الأول د طومان باي
- ٤ قام السلطان العثماني بإصدار فرمان عام ١٨٠٦ م تضمن نقل محمد على إلى ولاية :
 أ دمشق ب جدة ج سالونيك د السودان
- ٥ تولى قيادة الحملة الفرنسية بعد مقتل كليبر .
 أ مينو ب مراد بك ج ديبوى د شامبليون
- ٦ دخل الفرنسيون القاهرة بعد معركة :
 أ الريدانية ب أبي قير البحرية ج إمبابة د ديو البحرية
- ٧ عقد كليبر معاهدة العريش مع :
 أ إنجلترا ب روسيا ج الدولة العثمانية د ألمانيا

.....
٣

السؤال الثاني : أجب عما يلي :

١ ما النتائج المترتبة على ... ؟

• مذبحه القلعة ١٨١١ م .

٢ فسر ما يلي :

• ثورة الشعب المصري في مارس عام ١٨٠٤ م .

٣ دلل على صحة العبارة الآتية :

• كان يوم ١٣ مايو ١٨٠٥ م يومًا عظيمًا في تاريخ المصريين .

الدرس الرابع : محمد على وبناء مصر الحديثة

أهم نقاط الدرس :

مظاهر بناء الدولة الحديثة فى عصر محمد على



أولاً : البناء الاقتصادى

- نظم محمد على الاقتصاد المصرى فى الزراعة والصناعة والتجارة على أساس (الاحتكار) ، وقد ضمن بذلك المنافسة فى سوق التجارة الدولية .

تمثل البناء الاقتصادى فى :

١ الزراعة :

قام محمد على بتطوير الزراعة من خلال				
(ب) توزيع		(أ) إلغاء		
• مساحات من الأرض على الفلاحين .		• نظام الالتزام .		
(ج) اتباع				
• سياسة زراعية تهدف إلى توفير أكبر قدر من الدخل من الإنتاج الزراعى أهمها :				
١ - إدخال	٢ - إنشاء	٣ - استقدام	٤ - تحسين	٥ - تزويد
أساليب وغلالات زراعية جديدة .	مدرسة للزراعة .	الخبراء الزراعيين من الخارج .	طرق الري : • أنشأ القنوات الخيرية . • حفر ترعة المحمودية .	الفلاحين بكل ما يلزم الزراعة .

٢ الصناعة :

قام محمد على بتطوير الصناعة من خلال			
(أ) إقامة	(ب) الاستعانة	(ج) جمع	(د) اتباع
المصانع الحكومية مثل : • الغزل والنسيج . • الورق . • السكر .	بالخبرات الأجنبية وإرسال البعثات للخارج وترجمة الكتب .	الصحية للعمل فى مصانع الدولة بأجور رمزية فأصبحت بمثابة مدارس صناعية .	سياسة هدفها السيطرة على الإنتاج الصناعى وتوزيعه عن طريق : • إمداد الصناع بالمواد الخام . • شراء المنتجات الصناعية .

٣ التجارة :

نشطت التجارة الداخلية والخارجية بسبب :

- ١ نهوض الزراعة والصناعة .
- ٢ الاستقرار الداخلى .

خضعت التجارة لنظام الاحتكار عن طريق :

- ١ تسويق جميع الحاصلات الزراعية بعد شرائها وجمعها فى مخازن الدولة .
- ٢ البيع للتجار الأجانب فى مصر .
- ٣ البيع خارج مصر لحساب الحكومة المصرية .
- ٤ احتكار تجارة الواردات .

٤ النقل والمواصلات :

قام محمد على بـ

(أ) تمهيد وتأمين	(ب) بناء	(ج) حفر	(د) الاهتمام	(هـ) تطهير
الطرق البرية والبحرية .	أسطول فى البحرين الأحمر والمتوسط .	الترع .	بالموانئ .	البحر الأحمر من القرصنة .

ثانيًا : البناء الاجتماعى

أدت سياسة محمد على الاقتصادية إلى :

١ - انتهاء	• نفوذ المماليك كهيئة حاكمة .	• أسرة محمد على كهيئة حاكمة وبعض العناصر التركية .	• ظهور
٢ - تضائل	• نفوذ علماء الأزهر والقيادات الشعبية .	• طبقة الأعيان . • طبقة عمال الصناعة .	• ظهور
٣ - تدهور	• طبقة التجار .	• البدو كقوة اجتماعية مستقرة .	• ظهور

مع استمرار طوائف الحرف كوسطاء للحكومة .

ثالثًا : التعليم والثقافة

أدرك محمد على أنه بحاجة إلى موظفين من أجل :

- ١ سد حاجة المصالح الحكومية .
- ٢ سد حاجة الجيش والأسطول من الفنيين والمتخصصين فى مختلف الفروع .


فقام محمد على بالآتي :

١ - إنشاء	
المدارس الحديثة مثل :	
<ul style="list-style-type: none"> • الطب . • الزراعة . • المهندسخانة . 	
٢ - إنشاء	
المطبعة الأميرية في بولاق بهدف :	
(ب) إصدار	(أ) طبع
<ul style="list-style-type: none"> • صحيفة الوقائع المصرية . 	<ul style="list-style-type: none"> • الكتب المدرسية . • الكتب الأدبية والفنية .
٣ - الاستعانة	
ببعض الأساتذة الأجانب بهدف :	
<ul style="list-style-type: none"> • التدريس . • الترجمة . 	
٤ - إرسال	
البعثات العلمية إلى أوروبا ، وأبرزها :	
<ul style="list-style-type: none"> • بعثة رفاة الطهطاوى . • بعثة على مبارك باشا . 	
أهميتها	
<ul style="list-style-type: none"> • ساهمت هذه البعثات بعد عودة الدارسين بها في استمرار النهضة التعليمية . 	

رابعًا : بناء القوة العسكرية

- أدرك محمد على أن بناء القوة العسكرية هو الدعامة الأساسية لتحقيق أهدافه وبناء الدولة الحديثة .
- كانت كل مشروعاته تهدف إلى سد حاجة الجيش وبناء القوة العسكرية .
- اهتم محمد على ببناء القوة العسكرية على الطراز الأوربي الحديث على النحو التالي :

عناصر بناء القوة العسكرية :



١ - إعداد الضباط
<ul style="list-style-type: none"> • إنشاء المدرسة العسكرية في أسوان . • استقدام خبراء عسكريين كان أشهرهم (الكولونيل سيف) أحد ضباط جيش نابليون .

٢ - إعداد الجنود

- بدأ بتجنيد السودانيين ثم اتجه إلى تجنيد المصريين الذين أثبتوا كفاءة في التدريب وإطاعة الأوامر في ميادين القتال .

٣ - الأسطول

- أسس ترسانة بحرية لصناعة السفن في بولاق ، ثم نقلها إلى الإسكندرية ، وزودها بكافة الأسلحة .
- أعد أماكن لتدريب وتعليم البحارة والجنود .

٤ - مصانع الأسلحة والذخيرة

- اهتم بالتصنيع الحربى .
- أنشأ ترسانة فى القلعة لتصنيع الأسلحة .
- قام ببناء القلاع .

خامسًا : البناء السياسى

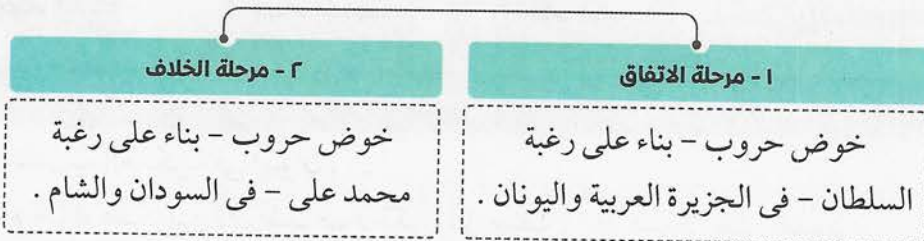
١ السياسة الداخلية :

نظم محمد على الإدارة ليتمكن من السيطرة الكاملة على شئون البلاد وذلك من خلال :

ج - اللائحة	ب - الدواوين	أ - التقسيم
• أصدر لائحة جديدة عام ١٨٣٧ م قسم الإدارة فيها إلى سبعة دواوين (وزارات) وحدد اختصاصاتها .	أنشأ	
	الديوان العالى .	مجلس المشورة .

٢ السياسة الخارجية :

- سعى محمد على إلى الانفصال عن الدولة العثمانية والاستقلال بمصر .
- مرت العلاقة بين محمد على والسلطان العثماني بمرحلتين ، هما :
 - ١ مرحلة الاتفاق .
 - ٢ مرحلة الخلاف .



١ مرحلة الاتفاق :

تمثلت في :

ب - ضم السودان (١٨٢٠ م - ١٨٢٢ م)	أ - حروبه في الجزيرة العربية (١٨١١ م - ١٨١٩ م) تعرف بالحروب الوهابية
أسبابها	
<ul style="list-style-type: none"> • رغبة محمد علي في تحقيق مكاسب سياسية واقتصادية وعسكرية . 	<ul style="list-style-type: none"> • القضاء على الدعوة الوهابية التي هددت نفوذ الدولة العثمانية في الجزيرة العربية .
نتائجها	
<ul style="list-style-type: none"> • امتداد النفوذ المصري إلى جنوب السودان . • إنشاء مدينة الخرطوم (عاصمة السودان حالياً) . • اكتشاف منابع النيل . 	<ul style="list-style-type: none"> • انتهت بسيطرة (محمد علي) على شبه الجزيرة العربية .

٢ مرحلة الخلاف :

تمثلت في :

ب - حروب الشام (١٨٣١ م - ١٨٣٩ م)	أ - حروب اليونان (١٨٢١ م - ١٨٢٨ م)
أسبابها	
<ul style="list-style-type: none"> • توتر العلاقة بين السلطان العثماني ومحمد علي بسبب تفاوض محمد علي مع القوى الأوربية لتأمين انسحاب الجيش المصري من المورة . • تصميم (محمد علي) على فكرة الانفصال عن الدولة العثمانية . 	<ul style="list-style-type: none"> • القضاء على ثوار اليونان في المورة الذين طالبوا بالاستقلال عن الدولة العثمانية .
نتائجها	
<ul style="list-style-type: none"> • وصول القوات المصرية إلى الشام وأعلى الفرات . • امتداد النفوذ المصري في بلاد الشام . 	<ul style="list-style-type: none"> • هزيمة الجيش وتحطيم الأسطول المصري في موقعة نفاين ١٨٢٧ م . • ضم محمد علي جزيرة كريت لولاية مصر . • علو مكانة مصر دولياً لتفاوض الدول الأوربية مع محمد علي لإنهاء الحرب . • ساعد ذلك على نمو فكرة انفصال محمد علي عن الدولة العثمانية واستقلال مصر .

تدخل الدول الأوروبية

١ أسباب معاهدة لندن ١٨٤٠ م :

- أدركت الدول الأوروبية خطورة (محمد علي) على التوازن الدولي نتيجة انتصاراته .
- تدخلت الدول الأوروبية مع الدول العثمانية لفرض شروطها على (محمد علي) .
- انتهى الأمر بمعاهدة دولية عام ١٨٤٠ م تمت في لندن عاصمة بريطانيا .

٢ شروط معاهدة لندن ١٨٤٠ م :

- إعادة بلاد الشام والجزيرة العربية إلى السلطان العثماني .
- تثبيت محمد علي في حكم مصر وإعلان خضوعه للسلطان العثماني .

موقف محمد علي من معاهدة لندن ١٨٤٠ م

- اضطر محمد علي إلى قبول شروطها .

فرمانا السلطان العثماني ١٨٤١ م

أصدر السلطان العثماني فرمانين عام ١٨٤١ م :

الثاني في العام نفسه

ينص على تولية محمد علي حكم السودان .

الأول في شهر يونيو

يقضى بحق وراثه مصر لأكبر أبناء محمد علي (سنّاً) من الذكور .

أسئلة الشاطر على الدرس الرابع



(مجاب عنها)

السؤال الأول : اختر الإجابة الصحيحة من بين الإجابات الآتية :

- ١ ألقى محمد على نظام في مجال الزراعة .
 أ الاحتكار ب الالتزام ج الضرائب د التورث
- ٢ قام محمد على بحفر ترعة :
 أ المحمودية ب الإسماعيلية ج بحر يوسف د الإبراهيمية
- ٣ ظهرت كهيئة حاكمة في مصر نتيجة لسياسة محمد على .
 أ أسرة محمد على ب طبقة الملتزمين ج طبقة علماء الأزهر د طبقة التجار
- ٤ أنشأ محمد على المطبعة الأميرية في :
 أ الإسكندرية ب بولاق ج دمياط د بورسعيد
- ٥ أنشأ محمد على المدرسة العسكرية في :
 أ أسيوط ب سوهاج ج أسوان د الإسماعيلية
- ٦ نظم محمد على الاقتصاد المصرى على أساس نظام :
 أ الالتزام ب الاحتكار ج الرأسمالية د السوق الحر
- ٧ جمع محمد على الصبية للعمل في بأجور رمزية .
 أ مصانع الدولة ب مصانع خاصة ج شركات خاصة د مصانع رجال الأعمال
- ٨ ظهر كقوة اجتماعية مستقرة في عهد محمد على .
 أ الفلاحون ب البدو ج المماليك د الفرنسيون
- ٩ أرسل محمد على بعثات تعليمية إلى أوروبا ، أبرزها بعثة :
 أ رياض باشا ب عمر مكرم ج محمد فريد د رفاعة الطهطاوى
- ١٠ استقدم محمد على خبراء عسكريين ، كان أشهرهم :
 أ كليبر ب مينو ج مراد بك د الكولونيل سيف
- ١١ تم بناء ترسانة لصناعة السفن في عهد محمد على في :
 أ الغردقة ب بورسعيد ج أسوان د الإسكندرية
- ١٢ قسم محمد على مصر إلى مديريات .
 أ عشر ب تسع ج ثمانى د سبع

- ١٣ قام محمد علي بإنشاء لتحسين الري .
- أ السد العالي ب القناطر الخيرية ج الترسانة البحرية د المدرسة الحربية
- ١٤ من القوى الاجتماعية التي ظهرت نتيجة سياسة محمد علي الاقتصادية .
- أ علماء الأزهر ب التجار ج المماليك د الأعيان
- ١٥ من المدارس الحديثة التي أنشأها محمد علي مدرسة :
- أ الطب ب الزراعة ج المهندسخانة د كل ما سبق
- ١٦ من أشهر البعثات العلمية التي أرسلها محمد علي إلى أوروبا بعثة :
- أ أحمد شوقي ب علي مبارك ج سعد زغلول باشا د أحمد عرابي
- ١٧ كانت حروب محمد علي في من أجل القضاء على الحركة الوهابية .
- أ السودان ب اليونان ج شبه الجزيرة العربية د الشام
- ١٨ بعد حروب اليونان ضم محمد علي إلى ولاية مصر جزيرة :
- أ مالطة ب مدغشقر ج كريت د تسمانيا
- ١٩ ظهرت فكرة انفصال محمد علي عن الدولة العثمانية بعد حروبه في :
- أ السودان ب اليونان ج الجزيرة العربية د الشام
- ٢٠ صحيفة مصرية تم إصدارها في عهد محمد علي :
- أ الأهرام ب الأخبار ج الوقائع المصرية د الوفد
- ٢١ معاهدة الدولية فرضتها الدول الكبرى على (محمد علي) عام ١٨٤٠ م .
- أ العريش ب سان ريمو ج لندن د مدريد
- ٢٢ هو قرار من السلطان العثماني واجب التنفيذ .
- أ الفرمان ب الاحتكار ج المعاهدة د الولاية

السؤال الثاني : بم تفسر ... ؟

- ١ ازدهار الزراعة في عهد محمد علي .
- ٢ تقدم الصناعة في عهد محمد علي .
- ٣ نشاط التجارة الداخلية في عهد محمد علي .
- ٤ اهتمام محمد علي بالتعليم .
- ٥ أهمية البعثات التعليمية التي أرسلها محمد علي .

- ٦ التنظيم الإدارى عند محمد على .
٧ حروب محمد على فى الجزيرة العربية .
٨ رغبة محمد على فى ضم السودان . ٩ حروب محمد على فى اليونان .
١٠ توتر العلاقة بين محمد على والسلطان العثمانى بعد حروب اليونان .

السؤال الثالث : ما النتائج المترتبة على ... ؟

- ١ نهوض الزراعة والصناعة فى عهد محمد على .
٢ تأثير سياسة محمد على الاقتصادية فى البناء الاجتماعى .
٣ حروب محمد على فى شبه الجزيرة العربية .
٤ حروب محمد على فى السودان . ٥ حروب محمد على فى اليونان .
٦ حروب محمد على فى بلاد الشام . ٧ معاهدة لندن ١٨٤٠ م .

السؤال الرابع : حدد الهدف من :

- ١ سياسة محمد على الزراعية . ٢ سياسة محمد على فى مجال الصناعة .
٣ إنشاء المطبعة الأميرية فى بولاق . ٤ بناء القوة العسكرية عند محمد على .

السؤال الخامس : قارن بين :

- حروب محمد على فى بلاد الشام وحروبه فى شبه الجزيرة العربية من حيث :
١ الأسباب . ٢ النتائج .

السؤال السادس : دلل تاريخيًا على كل عبارة مما يأتى :

- ١ اهتم محمد على بالصناعة .
٢ ظهرت قوى اجتماعية فى مصر بعد تطبيق نظام الاحتكار .
٣ اهتم محمد على بالأسطول . ٤ اهتم محمد على بالتعليم .

السؤال السابع : اذكر :

- أهم شروط معاهدة لندن ١٨٤٠ م .

السؤال الثامن : من هو ... ؟

- ١ أحد ضباط الحملة الفرنسية الذى اعتمد عليه محمد على فى تدريب الجيش . (.....)
٢ ألغى نظام الالتزام وقام بتطبيق نظام الاحتكار فى الزراعة . (.....)

أسئلة وردت في امتحانات المحافظات على الدرس الرابع

(مجاب عنها)

السؤال الأول : اختر الإجابة الصحيحة من بين الإجابات الآتية :

- ١ انتهت حرب اليونان بضم جزيرة..... إلى مصر .
 (شمال سيناء ٢٠١٧) أ مالطة ب قبرص ج رودس د كريت
- ٢ من الشخصيات التي أوفدها محمد علي إلى أوروبا :
 (شمال سيناء ٢٠١٧) أ محمد عبده ب رفاعة الطهطاوي ج جمال الدين الأفغاني د عبد الله النديم
- ٣ قام..... بتقسيم مصر إلى سبع مديريات وأنشأ مجلس المشورة .
 (الغربية ٢٠١٧) أ محمد فريد ب محمد علي ج عمر مكرم د محمد بك الألفي
- ٤ قام..... بجمع الصبغة للعمل في مصانع الدولة .
 (القاهرة ٢٠١٧) أ رياض باشا ب مراد بك ج محمد علي د عثمان رفقي
- ٥ أنشأ محمد علي ترسانة لصناعة السفن في..... ثم نقلها إلى الإسكندرية . (البحر الأحمر ٢٠٢١)
 أ مصر القديمة ب أسوان ج بولاق د بورسعيد
- ٦ اهتم..... بتمهيد وتأمين الطرق البرية والبحرية وتطهير البحر الأحمر من القرصنة . (اليوم ٢٠٢١)
 أ كليبر ب محمد علي ج رياض باشا د إبراهيم باشا
- ٧ أنشأ..... المطبعة الأميرية وأصدر جريدة الوقائع المصرية .
 (الجيزة ٢٠١٨) أ الخديو إسماعيل ب سعيد باشا ج محمد علي د طاهر باشا

السؤال الثاني : بم تفسر ... ؟

- اهتم محمد علي ببناء القوة العسكرية في مصر .
 (شمال سيناء ٢٠٢١)

السؤال الثالث : دلل :

- ١ كان محمد علي الذراع العسكري للدولة العثمانية للحفاظ على أملاكها .
 (بورسعيد ٢٠٢١)
- ٢ طبق محمد علي الاحتكار في مجال التجارة .
 (البحر الأحمر ٢٠٢٢)
- ٣ قام محمد علي بتطوير وتحديث الإنتاج الصناعي في مصر .
 (دمياط ٢٠٢٠)

السؤال الرابع : ماذا يحدث إذا ... ؟

- ١ لم يقيم محمد علي بضم السودان .
 (المنوفية ٢٠١٨)
- ٢ لم تفرض الدول الأوروبية معاهدة لندن ١٨٤٠م على (محمد علي) .
 (بورسعيد ٢٠١٩)

السؤال الخامس : ما أوجه الشبه والاختلاف بين ... ؟

حروب محمد على في اليونان وحروبه في شبه الجزيرة العربية . (أسوط ٢٠١٩)

السؤال السادس : اذكر نتيجة واحدة لكل من العبارات الآتية :

١ ضم محمد على للسودان . (الغربية ٢٠١٧)

٢ سياسة محمد على الاقتصادية في البناء الاجتماعي . (الغربية ٢٠١٧ / القاهرة ٢٠٢١)

٣ مفاوضات محمد على مع الدول الأوروبية بعد حرب اليونان . (القاهرة ٢٠١٧)

٤ حروب محمد على في بلاد الشام . (الغربية ٢٠١٩)

٥ توتر العلاقات بين محمد على والسلطان بعد حرب اليونان . (القاهرة ٢٠١٩)

السؤال السابع : ما موقف الدول الأوروبية من ... ؟

محاولة استقلال محمد على عن الدولة العثمانية . (الإسماعيلية ٢٠١٧)

اختبار المتفوقين على الدرس الرابع



(يجب عنه الطالب)

السؤال الأول : ماذا يحدث إذا ... ؟

١ استطاع محمد علي الانتصار في حروب اليونان .

٢ رفض محمد علي معاهدة لندن ١٨٤٠ م .

السؤال الثاني : اختر الإجابة الصحيحة من بين الإجابات الآتية :

١ كان لطبقة دور كبير أثناء الحملة الفرنسية ، اختفى هذا الدور بظهور نظام الاحتكار .

أ الفلاحين ب البدو ج التجار د الأعيان

٢ ارتبط ظهور جريدة رسمية مصرية بوجود :

أ الأزهر الشريف ب المطبعة الأميرية ج نظام الاحتكار د الأسطول

٣ تولى إبراهيم باشا الحكم بعد محمد علي من نتائج :

أ حروب المورة ب معاهدة لندن ج فرمان يونيو ١٨٤١ م د اتفاقية العريش

السؤال الثالث : حدد على خريطة قارات العالم القديم :

الدول التي كان لمحمد علي نفوذ عليها .

السؤال الرابع : بم تفسر ... ؟

لم يستطع محمد علي مواجهة الدول الأوروبية عام ١٨٤٠ م .

السؤال الخامس : ما أوجه الشبه والاختلاف بين ... ؟

محمد علي وعلي بك الكبير .

السؤال السادس : وضح :

عوامل القوة والضعف في دولة محمد علي .

.....
١٠

اختبار الشاطر التراكمي على ما سبقت دراسته

(يجيب عنه الطالب)

.....
٤

السؤال الأول: اختر الإجابة الصحيحة من بين الإجابات الآتية:

- ١ هزمت جيوش طومان باي في معركة:
 - أ مرجع دابق
 - ب جالديران
 - ج الريدانية
 - د ديوبالبحرية
- ٢ كان السيد هو حاكم الإسكندرية أثناء مجيء الحملة الفرنسية.
 - أ محمد كريم
 - ب محمد علي
 - ج عمر مكرم
 - د مراد بك
- ٣ أنشأ محمد علي المطبعة الأميرية في:
 - أ دمياط
 - ب الإسكندرية
 - ج بورسعيد
 - د بولاق
- ٤ حرب من الحروب التي خاضها محمد علي بناء على رغبة السلطان العثماني.
 - أ السودان
 - ب الحبشة
 - ج المورة
 - د الشام

.....
٢

السؤال الثاني: ما النتائج المترتبة على ... ؟

- ١ اجتماع زعماء الشعب في دار المحكمة في ١٣ مايو ١٨٠٥ م.

- ٢ حملة فريزر على مصر عام ١٨٠٧ م.

.....
٢

السؤال الثالث: رتب الأحداث الآتية من القديم إلى الحديث:

- ١ معركة إمبابة . (.....)
- ٢ حركة علي بك الكبير . (.....)
- ٣ معركة مرجع دابق . (.....)
- ٤ معركة شبراخيت . (.....)

.....
٢

السؤال الرابع: دلل تاريخيًا على صحة العبارتين الآتيتين:

- ١ حمل النظام العثماني في ثنياه عوامل ضعفه .

- ٢ اهتم محمد علي بالأسطول .

أهم المفاهيم التي وردت بالوحدة الثالثة :

المفهوم	المعنى
١ - مقاومة	هى رفض الشعوب للاحتلال ومظاهرة ودفعه عن البلاد بمختلف الوسائل .
٢ - جلاء	هو رحيل قوات الاحتلال عن البلد المحتل .
٣ - الاحتكار	يعنى أن تقوم الحكومة ممثلة فى محمد على بتحديد نوع الغلال التى تزرع ، ونوع المصنوعات التى تنتج ، وتحديد أثمان شرائها وبيعها .
٤ - فرمان	أمر سلطانى يصدره السلطان العثمانى وهو واجب التنفيذ .

احرص على اقتناء



الوحدة الرابعة : مصر والزحف الاستعماري ومحاولات التحرر الوطني

الدرس الأول : خلفاء محمد على وازدياد النفوذ الأجنبي

أهم نقاط الدرس :

لم يكن حكام مصر من خلفاء (محمد على) على شاكلته فى القوة والوعى ، حيث :

مالوا إلى فرنسا أو إنجلترا أو الدولة العثمانية (على حساب مصر واستقلالها)

انفلت من أيديهم زمام الأمور وتأثروا بالغرب

لم يثبتوا كفاءة فى حكم البلاد

أولاً : عهد عباس باشا « ١٨٤٨ : ١٨٥٤ م »

الإيجابيات	
النقل والمواصلات :	
<ul style="list-style-type: none"> • أصلح الطريق البرى بين القاهرة والسويس . • بدأ فى إنشاء أول خط حديدى بين القاهرة والإسكندرية . 	
السلبات	
توقفت فى عهده حركة النهضة حيث :	
<ul style="list-style-type: none"> • أغلقت معظم المدارس والمصانع . • تم تعطيل أعمال الترسانة البحرية . • تم تخفيض حجم الجيش . 	

ثانياً : عهد سعيد باشا « ١٨٥٤ : ١٨٦٥ م »

الإيجابيات		
١ - الزراعة		
نهضت فى عهده حيث اهتم بـ :		
أ - تطهير	ب - إصلاح	
<ul style="list-style-type: none"> • ترعة المحمودية (لكى تفى بحاجة الري والزراعة) . 	<ul style="list-style-type: none"> • أحوال الفلاحين بإصدار اللائحة السعيدية ١٨٥٨ م (أصبح للفلاح الحق فى توريث الأرض الزراعية) . 	
٢ - النقل والمواصلات		
أ - أتم	ب - أنشأ	ج - مد
<ul style="list-style-type: none"> • الخط الحديدى بين القاهرة والإسكندرية . 	<ul style="list-style-type: none"> • الخط الحديدى بين القاهرة والسويس . 	<ul style="list-style-type: none"> • خطوط التلغراف بين القاهرة والإسكندرية والسويس .

٣ - الجيش والبحرية		
أ - جعل	ب - فتح	ج - اهتم
• مدة الخدمة العسكرية سنة واحدة إجبارية للجميع .	• باب الترقية للضباط المصريين .	• بالترسانة البحرية (إصلاح السفن - تجديد الأسطول) .
السلبات		
١ - التعليم		
أ - ألغى	ب - شجع	
• ديوان المدارس .	• البعثات الأجنبية في مصر على فتح مدارس لها في القاهرة والإسكندرية .	
٢ - التدخل الأجنبي		
أ - القروض الأجنبية	ب - امتياز قناة السويس	
<p>بدأت الأزمة المالية في عهده ، حيث :</p> <ul style="list-style-type: none"> • اعتمد على رءوس أموال أجنبية (استدان من بيوت المال الأوربية - عقد أول قرض من بنك بريطاني ١٨٦٢ م) . • اندفع في طلب الاستدانات . • لجأ للمرايين يستدين منهم مقابل سندات على حساب الخزانة المصرية . 	<ul style="list-style-type: none"> • منح سعيد باشا لـ (فرديناند ديليسبس) عقدين لامتياز قناة السويس . <p>١ - الامتياز الأول (نوفمبر ١٨٥٤ م) وينص على :</p> <p>تأسيس شركة لحفر قناة السويس واستثمارها لمدة ٩٩ سنة من تاريخ افتتاح القناة للملاحة .</p> <p>٢ - الامتياز الثاني (يناير ١٨٥٦ م) : وكانت معظم شروطه مجحفة (ظالمة) لمصر والمصريين .</p>	

شروط حفر قناة السويس

- ١ تمنح الحكومة المصرية الشركة الحق في :
 - إنشاء قناة السويس .
 - حفر ترعة صالحة للملاحة (ترعة الإسماعيلية) .
 - إنشاء فرعين للرعى والشرب من ترعة الإسماعيلية .
- ٢ تنازل الحكومة المصرية للشركة مجاناً عن جميع الأراضي اللازمة لحفر القناة وترعة المياه العذبة .
- ٣ للشركة الحق في فرض الرسوم على السفن التي تمر بالقناة أو الترعة العذبة .
- ٤ يكون أربعة أخماس العمال من المصريين .
- ٥ تحصل مصر على ١٥٪ من الأرباح مقابل الأراضي والامتيازات الممنوحة للشركة .
- ٦ يوافق (يُصدّق) السلطان العثماني على امتياز حفر القناة حتى تصح شروطه .

ثالثًا : عهد الخديو إسماعيل « ١٨٦٣ : ١٨٧٩ م »

أزهى الفترات تقدمًا وعمراً

أخطر الفترات في التدخل الأجنبي والتدهور المالى وانهيار الاستقلال السياسى

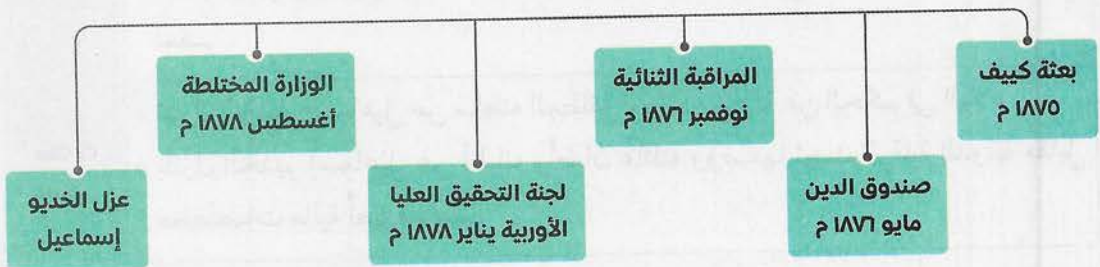
الإيجابيات	
١ - الزراعة	
نهضت في عهده حيث :	
أ - زادت	ب - حفر
• مساحة الأراضى الزراعية .	• الترعى مثل الإبراهيمية .
ج - أنشأ	• قناطر على النيل .
٢ - الصناعة	
نهضت في عهده حيث :	
أ - أعاد	ب - توسع
• نشاط الكثير من المصانع .	• فى إنشاء مصانع السكر (الوجه القبلى) .
٣ - التعليم	
شهدت مصر فى عهده نهضة علمية حيث :	
أ - أعاد	ب - توسع
• فتح ديوان المدارس .	• فى إنشاء المدارس المختلفة .
ج - أنشأ	
• دار الرصد (العباسية) .	• دار الكتب .
• مصلحة الإحصاء والمساحة .	• الجمعية الجغرافية ١٨٧٥ م .
٤ - الجيش والبحرية	
اهتم بـ :	
أ - تنظيم	ب - نهضة
• الجيش وتسليحه ومضاعفة قوته .	• التعليم البحرى .
٥ - العمران	
شهدت مصر فى عهده نهضة عمرانية حيث :	
أ - أنشأ	ب - أقام
• القصور (قصر عابدين) .	• الجسور والكبارى .
• دار الأوبرا المصرية .	

٦ - وسائل الاتصال	
أ - مد	ب - أنشأ
• خطوط التلغراف بين مختلف المحافظات .	• مصلحة البريد المصرية وكان لها مكاتب في (الإسكندرية - القاهرة - الأقاليم) .
٧ - الإصلاح النيابي	
شهدت مصر في عهده تطورات دستورية حيث :	
أ - أنشأ	ب - أدخل
• الهيئات شبه النيابية (مجلس شورى النواب) ١٨٦٦ م • وكان بداية الحياة النيابية في مصر .	• نظام الوزارة المسئولة ١٨٧٨ م .
ج - وضع	
• أول دستور في مصر (اللائحة الأساسية) لإقامة حياة دستورية سليمة .	
٨ - التوسع الخارجى	
أرسل عدة حملات حربية إلى الأقاليم الاستوائية في إفريقيا لـ :	
أ - منع	ب - التوسع
• تجارة الرقيق .	• فى الجنوب والسيطرة على مياه النيل .
النتيجة	
• امتد النفوذ المصرى إلى ساحل البحر الأحمر بكامله عام ١٨٧٥ م .	
السليبات	
ازدادت فى عهده الأزمة المالية والتدخل الأجنبى بسبب :	
١ - سياسة الاقتراض	٢ - افتتاح قناة السويس
• من الدول الأجنبية للوفاء بالتزاماته ومشروعاته .	• حيث أقام العديد من الحفلات لافتتاح القناة فى ١٧ نوفمبر ١٨٦٩ م ودعا ملوك أوروبا وأنفق ببذخ على الاحتفالات .
٣ - علاقة إسماعيل بالدولة العثمانية	
اعتمد على تقديم المال والهدايا للحصول على الفرمانات التى يوسع بها نطاق حكمه ومنها :	
• جعل وراثة العرش فى أكبر أبنائه .	• زيادة عدد الجيش المصرى .

مظاهر ازدياد التدخل الأجنبي في مصر

المحاكم المختلطة ١٨٧٥ م	المحاكم القنصلية	الامتيازات الأجنبية
الامتيازات الأجنبية		
		التعريف
		• تسهيلات منحها الدولة العثمانية لرعايا بعض الدول الأوروبية .
		الهدف
		• تشجيع رعايا الدول الأوروبية على الإقامة والتجارة .
		المقابل
		تعهدت الدولة العثمانية لهم بـ : • المحافظة على أموالهم . • حقهم في الرجوع إلى قناصلهم في الشؤون التجارية والشخصية .
المحاكم القنصلية		
		الاختصاص
		• تنظر في الجرائم التي يرتكبها الرعايا الأجانب ضد المصريين والحكومة المصرية نفسها .
		العيوب (المساوي)
		• تستأنف أحكامها في الخارج (مما يؤدي إلى تنازل المصريين عن حقوقهم) .
المحاكم المختلطة ١٨٧٥ م		
		أسباب نشأتها
		• أنشأها الخديو إسماعيل للحد من مساوي المحاكم القنصلية .
		تتكون من
		• قضاة أجانب ومصريين .
		اختصاصاتها
		• الفصل في القضايا المدنية والمنازعات العقارية بين المصريين والأجانب . • الفصل في المنازعات بين الأجانب والحكومة المصرية نفسها .
		العيوب (المساوي)
		• رئاسة الأجانب لها . • تدخلهم في سلطة القضاء التشريعي . • انحيازها للأجانب .

مظاهر التدخل الأجنبي في شؤون مصر بسبب الديون



بعثة كيف ١٨٧٥ م	
<p>عرض الخديو إسماعيل على بريطانيا إيفاد موظف كفاء لـ :</p> <ul style="list-style-type: none"> • دراسة أسباب سوء الأوضاع المالية في مصر . • تقديم المقترحات لعلاج الأزمة المالية . 	سببها
<ul style="list-style-type: none"> • إنشاء إدارة للمراقبة المالية يرأسها موظف إنجليزي . • ألا يعقد الخديو قرصًا إلا بعد موافقة إدارة المراقبة المالية . 	مقترحاتها

صندوق الدين مايو ١٨٧٦ م	
<ul style="list-style-type: none"> • أصدر الخديو إسماعيل مرسومًا بإنشائه ويتولى إدارته مندوبون أجانب تنتدبهم الدولة الدائنة . 	سبب إنشائه
<ul style="list-style-type: none"> • تسليم المبالغ المخصصة للديون من المصالح المختلفة . • الإشراف على تسديد الديون لأصحابها . 	وظيفته

ملحوظة :

- كان صندوق الدين بمثابة خزانة فرعية للخزانة المصرية .

المراقبة الثنائية نوفمبر ١٨٧٦ م	
<ul style="list-style-type: none"> • اقترحت الدول الأوربية فرض الرقابة على المالية المصرية . • أصدر الخديو إسماعيل مرسومًا بتعيين مراقبين أجانب للإشراف على المالية المصرية . 	سببها
<ul style="list-style-type: none"> • مراقب بريطاني للإيرادات . • مراقب فرنسي للمصروفات . 	عناصرها

لجنة التحقيق العليا الأوربية يناير ١٨٧٨ م	
<p>أصدر الخديو إسماعيل مرسومًا بتأليف اللجنة والموافقة على مطالبها بسبب :</p> <ul style="list-style-type: none"> • ازدياد سوء الأمور المالية في مصر . • مطالبة المراقبة الثنائية بإنشاء لجنة دولية للتحقيق في جميع الشؤون المالية والإدارية لمصر . 	سبب إنشائها
<ul style="list-style-type: none"> • تنازل الخديو إسماعيل عن سلطته المطلقة لوزارة مسئولة عن الحكم في البلاد . • تنازل الخديو إسماعيل عن أطيانه وأطيانه عائلته ووضعها تحت الرقابة الدولية مقابل مخصصات مالية تُصرف لهم . 	مطالب اللجنة

الوزارة المختلطة أغسطس ١٨٧٨ م	
سبب تأليفها	• أصدر الخديو إسماعيل مرسومًا بتأليفها بناءً على اتفاق بريطانيا وفرنسا .
تشكيل الوزارة	• رئيسها : نوبار باشا . • للمالية : وزير بريطاني . • للأشغال : وزير فرنسي .
عزل الخديو إسماعيل	
البداية	• قامت الحركة الوطنية بتوجيه انتقادات للوزارة المختلطة في أواخر عهد الخديو إسماعيل .
موقف الخديو إسماعيل	قام بـ : • إقصاء الوزيرين الأجبيين عن الوزارة . • إصدار مرسوم في إبريل ١٨٧٩ م بتسوية الديون طبقًا لما قرره اللائحة الوطنية (اللائحة الأساسية) .
موقف الحكومة البريطانية والفرنسية	• قامت بالضغط على السلطان العثماني لعزل الخديو إسماعيل .
موقف السلطان العثماني	• أصدر فرمانًا بخلع إسماعيل وتولية ابنه توفيق في يونيو ١٨٧٩ م .

أسئلة الشاطر على الدرس الأول



(مجاب عنها)

السؤال الأول : اختر الإجابة الصحيحة من بين الإجابات الآتية :

- ١ بدأ إنشاء أول خط حديدي بين القاهرة والإسكندرية في عهد :
 أ محمد على ب إبراهيم باشا ج سعيد باشا د عباس باشا
- ٢ أصبح للفلاح الحق في توريث الأرض الزراعية بموجب :
 أ حق الانتفاع ب نظام الاحتكار ج نظام الالتزام د اللائحة السعيدية
- ٣ عقد سعيد باشا أول قرض من أحد البنوك عام ١٨٦٢ م .
 أ الفرنسية ب التركية ج البريطانية د الأمريكية
- ٤ اهتم سعيد باشا بتطهير ترعة بينما قام الخديو إسماعيل بحفر ترعة
 أ المحمودية/ المنصورية ب المنصورية/ الإسماعيلية
 ج المحمودية/ بحر يوسف د المحمودية/ الإسماعيلية
- ٥ يُعد تأسيس مجلس عام ١٨٦٦ م بداية تاريخ المؤسسات النيابية في مصر الحديثة .
 أ المشورة ب شورى النواب ج الشعب د الأمة
- ٦ من أهم عوامل زيادة الأزمة المالية في عهد الخديو إسماعيل :
 أ سياسة الاقتراض ب محصول القطن ج نظام الالتزام د قلة الموارد
- ٧ كانت المحاكم تختص بالفصل في القضايا المدنية بين المصريين والأجانب .
 أ القنصلية ب المختلطة ج المصرية د العسكرية
- ٨ أصدر السلطان العثماني فرماناً بعزل وتولية في يونيو ١٨٧٩ م .
 أ محمد على / إبراهيم باشا ب سعيد باشا / عباس حلمي
 ج سعيد باشا / الخديو إسماعيل د الخديو إسماعيل / الخديو توفيق
- ٩ أُغلقت معظم المدارس والمصانع في عهد :
 أ محمد على ب إبراهيم باشا ج عباس باشا د الخديو إسماعيل
- ١٠ أتم الخط الحديدي بين القاهرة والسويس الذي بدأه عباس باشا .
 أ سعيد باشا ب إبراهيم باشا ج محمد على باشا د الخديو توفيق
- ١١ كان لـ النصيب الأكبر من صافي أرباح قناة السويس .
 أ تركيا ب مصر ج الشركة الفرنسية د ألمانيا
- ١٢ أعاد فتح ديوان المدارس وأنشأ دار الكتب .
 أ محمد على ب سعيد باشا ج إبراهيم باشا د الخديو إسماعيل



- ١٣ امتد نفوذ مصر إلى ساحل بكامله عام ١٨٧٥ م .
 أ البحر الأحمر ب البحر المتوسط ج المحيط الهندي د البحر العربي
- ١٤ أرسلت الحكومة بعثة كييف لدراسة أسباب سوء الأوضاع المالية في مصر .
 أ الفرنسية ب الألمانية ج الإنجليزية د الإيطالية
- ١٥ أنشأ الخديو إسماعيل المحاكم للحد من مساوئ المحاكم القنصلية .
 أ العسكرية ب المدنية ج المختلطة د التركية
- ١٦ كان بمثابة خزانة فرعية للخزانة المصرية .
 أ نظام الالتزام ب صندوق الدين ج نظام المراقبة الثنائية د نظام السوق الحر
- ١٧ وافق على مطالب لجنة التحقيق العليا الأوربية وتنازل عن سلطته المطلقة .
 أ سعيد باشا ب محمد على ج الخديو إسماعيل د إبراهيم باشا
- ١٨ أصبحت الخدمة العسكرية سنة واحدة وإجبارية للجميع في عهد :
 أ عباس باشا ب سعيد باشا ج الخديو توفيق د الخديو إسماعيل
- ١٩ تم حفر ترعة بموجب الامتياز الثاني لقناة السويس .
 أ الإسماعيلية ب المحمودية ج الإبراهيمية د النوبارية
- ٢٠ تم إنشاء مصلحة الإحصاء والمساحة ومصلحة البريد المصرية في عهد :
 أ عباس باشا ب سعيد باشا ج الخديو توفيق د الخديو إسماعيل
- ٢١ زادت الأزمة المالية في عهد الخديو إسماعيل بسبب :
 أ سياسة الاقتراض ب افتتاح قناة السويس ج علاقته بالدولة العثمانية د كل ما سبق
- ٢٢ تألفت الوزارة المختلطة عام ١٨٧٨ م برئاسة :
 أ شريف باشا ب نوبار باشا ج رياض باشا د سعيد باشا
- ٢٣ أصدر الخديو إسماعيل مرسوماً في إبريل ١٨٧٩ م ينص على :
 أ إنشاء المراقبة الثنائية ب إنشاء صندوق الدين ج تسوية الديون د إنشاء الوزارة المختلطة
- ٢٤ ألغى ديوان المدارس .
 أ محمد على ب سعيد باشا ج الخديو إسماعيل د الخديو توفيق
- ٢٥ كانت موافقته شرطاً لصحة امتياز حفر قناة السويس :
 أ محمد على ب ملك فرنسا ج السلطان العثماني د ملك إنجلترا

- ٢٦ أنشأ الجمعية الجغرافية .
- أ الخديو توفيق ب سعيد باشا ج محمد علي د الخديو إسماعيل
- ٢٧ كانت تستأنف أحكامها فى الخارج مما دفع المصريين للتنازل عن حقوقهم .
- أ المحاكم القنصلية ب المحاكم المدنية ج محاكم الأسرة د المحاكم المختلطة
- ٢٨ أنشئ بمرسوم مايو ١٨٧٦م وتولى إدارته مندوبون أجنبى تندبهم الدول الدائنة .
- أ صندوق الدين ب لجنة التحقيق ج الوزارة المختلطة د نظام الاحتكار
- ٢٩ شجع البعثات الأجنبية على فتح مدارس لها بالقاهرة والإسكندرية .
- أ سعيد باشا ب عباس باشا ج الخديو توفيق د الخديو إسماعيل
- ٣٠ توسع الخديو إسماعيل فى إنشاء مصانع السكر بـ :
- أ الدلتا ب الوجه القبلى ج الصحراء الغربية د شمال سيناء
- ٣١ اهتم بالتعليم البحرى بينما قام بتعطيل الترسانة البحرية .
- أ سعيد باشا/ الخديو إسماعيل ب الخديو إسماعيل/ الخديو توفيق
- ج الخديو إسماعيل/ عباس باشا د الخديو توفيق/ محمد على
- ٣٢ أنشأ قصر عابدين ودار الأوبرا المصرية .
- أ الخديو توفيق ب الخديو إسماعيل ج سعيد باشا د عباس باشا
- ٣٣ تألفت الوزارة المختلطة من وزيرين أجنبيين أحدهما للمالية والآخر للأشغال .
- أ ألماني/ فرنسى ب إنجليزى/ فرنسى ج إيطالى/ ألماني د فرنسى/ إيطالى

السؤال الثانى : بم تفسر ... ؟

- ١ يُعد عهد سعيد باشا بداية الأزمة المالية فى مصر .
- ٢ تدهورت أحوال مصر فى عهد عباس باشا .
- ٣ كان الامتياز الثانى لقناة السويس ظالماً لمصر والمصريين .
- ٤ شهدت مصر نهضة زراعية فى عهد الخديو إسماعيل .
- ٥ شهدت مصر نهضة علمية وتعليمية فى عهد الخديو إسماعيل .
- ٦ عرفت مصر الهيئات شبه النيابية فى عهد الخديو إسماعيل .
- ٧ وجه الخديو إسماعيل عدة حملات حربية إلى الأقاليم الاستوائية فى إفريقيا .
- ٨ ازدياد الأزمة المالية فى مصر فى عهد الخديو إسماعيل .
- ٩ كانت علاقة الخديو إسماعيل بالدولة العثمانية تعتمد على تقديم المال والهدايا .

- ١٠ كان للمحاكم القنصلية العديد من المساوىء .
- ١١ إرسال بريطانيا بعثة كيف إلى مصر .
- ١٢ إصدار الخديو إسماعيل مرسومًا بإنشاء صندوق الدين .
- ١٣ تأليف لجنة التحقيق العليا الأوربية فى يناير ١٨٧٨ م .
- ١٤ ضغط بريطانيا وفرنسا على السلطان العثمانى لعزل إسماعيل .

السؤال الثالث : ما النتائج المترتبة على ... ؟

- ١ إصدار سعيد باشا اللائحة السعيدية فى ١٨٥٨ م .
- ٢ إنشاء المحاكم المختلطة .
- ٣ إرسال بريطانيا بعثة كيف فى ديسمبر ١٨٧٥ م .
- ٤ تأليف لجنة التحقيق العليا الأوربية .
- ٥ انتقادات الحركة الوطنية للوزارة المختلطة أواخر عهد إسماعيل .
- ٦ إقصاء الخديو إسماعيل للوزيرين الأجنيين عن الوزارة .

السؤال الرابع : دلل على صحة العبارات الآتية :

- ١ لم يكن خلفاء (محمد على) على شاكلته من حيث القوة والوعى .
- ٢ توقف حركة النهضة فى عهد عباس باشا .
- ٣ اهتمام سعيد باشا بالزراعة فى مصر .
- ٤ شهد قطاع النقل والمواصلات والاتصالات تطورًا كبيرًا فى عهد سعيد باشا .
- ٥ اهتم سعيد باشا بالجيش والبحرية .
- ٦ كان موقف سعيد باشا متناقضًا بالنسبة للتعليم فى مصر .
- ٧ تطور الصناعة فى مصر فى عهد الخديو إسماعيل .
- ٨ اهتمام الخديو إسماعيل بالجيش والأسطول .
- ٩ شهدت مصر نهضة فى العمران ووسائل الاتصال فى عهد الخديو إسماعيل .
- ١٠ شهدت مصر إصلاحًا نيابيًا وتطورات دستورية فى عهد الخديو إسماعيل .
- ١١ ازدياد التدخل الأجنبي فى شئون مصر فى عهد الخديو إسماعيل .

السؤال الخامس : ما العلاقة بين ... ؟

- ١ عباس باشا والمواصلات فى مصر .
- ٢ سعيد باشا وتوريث الأراضى الزراعية .
- ٣ سعيد باشا والأزمة المالية فى مصر .
- ٤ السلطان العثمانى وامتياز حفر قناة السويس .
- ٥ الهدايا والفرمانات العثمانية فى عهد الخديو إسماعيل .

أسئلة وردت في امتحانات المحافظات على الدرس الأول



(مجاب عنها)

السؤال الأول : اختر الإجابة الصحيحة من بين الإجابات الآتية :

- ١ | ساهم إصدار اللائحة السعيدية في إصلاح حالة الفلاح بإعطائه الحق في :
 أ | توريث الأرض ب | زراعة الأرض ج | عدم دفع الضرائب د | رى الأرض
 (الإسماعيلية ٢٠١٧)
- ٢ | أنشأ الخديو إسماعيل الجمعية عام ١٨٧٥ م .
 أ | الكيميائية ب | الجغرافية ج | الطبية د | التجارية
 (الغربية ٢٠١٦)
- ٣ | أرسل الخديو إسماعيل حملات عسكرية للأقاليم الاستوائية في :
 أ | أوروبا ب | آسيا ج | إفريقيا د | أستراليا
 (بورسعيد ٢٠١٥)
- ٤ | أصدر اللائحة السعيدية والتي بموجبها أصبح للفلاح الحق في توريث الأرض الزراعية .
 أ | إبراهيم باشا ب | عباس الأول ج | سعيد باشا د | الخديو إسماعيل
 (البحر الأحمر ٢٠١٧)
- ٥ | أول بعثة مالية أوروبية أرسلتها إلى مصر عام ١٨٧٥ م .
 أ | فرنسا ب | بريطانيا ج | إيطاليا د | ألمانيا
 (الغربية ٢٠١٦)
- ٦ | إنشاء الخديو إسماعيل للمحاكم المختلطة جاء للحد من مساوئ :
 أ | المحاكم القنصلية ب | صندوق الدين ج | المراقبة الثنائية د | الوزارة المختلطة
 (الإسماعيلية ٢٠٢٢)
- ٧ | أتم إنشاء الخط الحديدي بين القاهرة والإسكندرية .
 أ | محمد علي ب | رياض باشا ج | عباس باشا د | سعيد باشا
 (الغربية ٢٠١٦)
- ٨ | جعل مدة الخدمة العسكرية سنة إجبارية للجميع .
 أ | سعيد باشا ب | عباس باشا ج | إبراهيم باشا د | رياض باشا
 (الجيزة ٢٠٢٠)
- ٩ | أنشأ دار الكتب والرصد بالعباسية .
 أ | عباس باشا ب | سعيد باشا ج | الخديو إسماعيل د | إبراهيم باشا
 (الجيزة ٢٠٢٠)
- ١٠ | أسس مجلس شورى النواب ووضع أول دستور في مصر عام ١٨٧٨ م . (القليوبية ٢٠١٨)
 أ | سعيد باشا ب | عباس باشا ج | الخديو إسماعيل د | محمد علي
- ١١ | يعتبر تأسيس مجلس بداية تاريخ المؤسسات النيابية في مصر الحديثة . (الشرقية ٢٠١٩)
 أ | الأمة ب | المشورة ج | شورى النواب د | الشورى

السؤال الثاني : بم تفسر ... ؟

- ١ إرسال الخديو إسماعيل عدة حملات حربية إلى الأقاليم الاستوائية في إفريقيا . (دمياط ٢٠٢٠)
- ٢ ازدياد التدخل الأجنبي في عهد الخديو إسماعيل . (الشرقية ٢٠١٦)
- ٣ توقف حركة النهضة في عهد عباس الأول . (بورسعيد ٢٠١٦)

السؤال الثالث : ما النتائج المترتبة على ... ؟

- ١ موافقة الخديو إسماعيل على تأليف لجنة دولية للتحقيق بعد زيادة الأزمة المالية . (الإسماعيلية ٢٠١٦)
- ٢ إقصاء الخديو إسماعيل الوزيرين الأجبيين عن الوزارة وإصدار مرسوم بتسوية الديون . (البحر الأحمر ٢٠١٧)
- ٣ إنشاء المحاكم المختلطة في مصر في عهد الخديو إسماعيل . (أسوان ٢٠١٦)

السؤال الرابع : قارن بين :

- ١ نظام ملكية الأرض بمصر أثناء الحكم العثماني وخلال عصر سعيد باشا . (الإسماعيلية ٢٠١٦)

السؤال الخامس : وضح ما يلي :

- ١ مظاهر النهضة العلمية في مصر خلال عصر الخديو إسماعيل . (الإسماعيلية ٢٠١٧)
- ٢ مساوئ المحاكم المختلطة . (الجيزة ٢٠٢٠)
- ٣ كان عقد امتياز عام ١٨٥٦ م لقناة السويس مجحفًا للمصريين . (بنى سويف ٢٠١٥)

السؤال السادس : ما رأيك في ... ؟

- ١ الاحتفالات التي أقامها الخديو إسماعيل لافتتاح قناة السويس ١٧ نوفمبر ١٨٦٩ م . (الغربية ٢٠١٧)

اختبار المتفوقين على الدرس الأول



(يجب عنه الطالب)

السؤال الأول : اختر الإجابة الصحيحة من بين الإجابات الآتية :

- ١ أولى الدول الأوروبية التي أقرضت مصر ، هي :
أ فرنسا ب ألمانيا ج بريطانيا د إيطاليا
- ٢ أكثر خلفاء محمد علي إنصافاً للفلاح ، هو :
أ عباس حلمي باشا ب سعيد باشا ج رياض باشا د الخديو إسماعيل
- ٣ تم افتتاح أهم ممر ملاحى فى العالم فى عهد :
أ محمد على ب سعيد باشا ج الخديو إسماعيل د الخديو توفيق
- ٤ ارتبط منع تجارة الرقيق فى إفريقيا باسم :
أ نابليون بونابرت ب نلسون ج الخديو إسماعيل د محمد على

السؤال الثانى : دلل على صحة العبارتين الآتيتين :

- ١ الحركة الوطنية فى عهد الخديو إسماعيل سلاح ذو حدين .

- ٢ لم يتمتع القضاء المصرى بالاستقلالية فى عهد الخديو إسماعيل .

السؤال الثالث : وضح دور المرسومين الآتيين فى زيادة التدخل الأجنبى فى شئون مصر :

- ١ مرسوم يناير ١٨٧٨ م .

- ٢ مرسوم إبريل ١٨٧٩ م .

.....
١٠

اختبار الشاطر على الدرس الأول



(يجيب عنه الطالب)

.....
٦

السؤال الأول : اختر الإجابة الصحيحة من بين الإجابات الآتية :

- ١ عقد سعيد باشا أول قرض من أحد البنوك عام ١٨٦٣ م .
 - أ السويسرية
 - ب الألمانية
 - ج الفرنسية
 - د البريطانية
- ٢ من شروط صحة امتياز قناة السويس أن يوقع عليه :
 - أ الإنجليز
 - ب الألمان
 - ج السلطان العثماني
 - د الخديو إسماعيل
- ٣ ألغى ديوان المدارس .
 - أ سعيد باشا
 - ب رياض باشا
 - ج الخديو إسماعيل
 - د عباس حلمي باشا
- ٤ يُنسب إصدار اللائحة السعيدية إلى :
 - أ محمد علي
 - ب سعيد باشا
 - ج عباس حلمي
 - د الخديو توفيق
- ٥ قام بمد خطوط التلغراف بين مختلف محافظات مصر .
 - أ محمد علي
 - ب عمر مكرم
 - ج عباس حلمي
 - د الخديو إسماعيل
- ٦ قام بتأسيس مجلس شورى النواب .
 - أ محمد علي
 - ب سعيد باشا
 - ج الخديو إسماعيل
 - د الخديو توفيق

.....
٢

السؤال الثاني : بم تفسر ... ؟

- ١ وضع الخديو إسماعيل لـ (اللائحة الأساسية) .

- ٢ تقديم الخديو إسماعيل الهدايا والرشاوى للسلطان العثماني .

.....
٢

السؤال الثالث : قارن بين :

- ١ المحاكم القنصلية والمحاكم المختلطة .

- ٢ الجيش والبحرية في عهد سعيد باشا وفي عهد الخديو إسماعيل .

الدرس الثاني : الحركة الوطنية والثورة العربية

أهم نقاط الدرس :

- تولى الخديو توفيق الحكم بعد عزل أبيه الخديو إسماعيل .
- اتخذ الخديو توفيق سياسة أدت إلى زيادة التدخل الأجنبي في شئون البلاد ومنها :

أعاد	• نظام المراقبة الثنائية .	رفض	• اللائحة الأساسية (الدستور) لمجلس النواب .
وضع	• نفسه تحت حماية إنجلترا وفرنسا بإسناد الوزارة لرياض باشا .		

أولاً : الثورة العربية

١ أسبابها :

أ - زيادة	ب - سوء	ج - اضطهاد	د - المؤثرات
التدخل الأجنبي في شئون مصر بسبب القروض وفقدان مصر لأسهمها في قناة السويس .	الأحوال الاقتصادية في عهد وزارة رياض باشا .	عثمان رفقي ناظر الجهادية للضباط المصريين وعدم ترقيتهم .	الغريبة التي أدت إلى نمو الوعي القومي والمطالبة بالدستور .

٢ أحداث الثورة :

أهم المراحل التي مرت بها الثورة :

(أ) حادثة قصر النيل :

تقدم عرابي وزملاؤه بشكوى إلى مجلس الوزراء طالبوا فيها بإقالة عثمان رفقي ناظر الجهادية .	الأسباب
أمر الخديو توفيق بالقبض عليهم ، واعتقالهم في سجن قصر النيل وتقديمهم للمحاكمة أمام مجلس عسكري .	الأحداث
تحرك رجال من الجيش وأخرجوا عرابي وزملاءه بالقوة ، وقدموا مطالبهم للخديو الذي وافق عليها .	النتائج
عزل عثمان رفقي وتعيين محمود سامي البارودي بدلاً منه .	

(ب) مظاهرة عابدين (٩ سبتمبر ١٨٨١ م) :

أهم مطالبها	
إسقاط	• حكومة رياض باشا المستبدة .
زيادة	• عدد الجيش إلى ١٨ ألف جندي .
	تشكيل
	• مجلس نواب على النسق الأوربي .



النتائج

- اضطر الخديو توفيق إلى الموافقة على مطالب الشعب والجيش .

(ج) وزارة شريف باشا :

- تم افتتاح مجلس النواب فى ديسمبر ١٨٨١ م .
- عرض شريف باشا على مجلس النواب اللائحة الأساسية (الدستور) .
- تضمنت اللائحة عدم أحقية مجلس النواب فى مناقشة الميزانية ؛ لأن شريف باشا كان يرى أن ذلك يؤدى إلى الاصطدام مع الدول الأوربية .

(د) المذكرة المشتركة الأولى (يناير ١٨٨٢م) :

- أرسلت بريطانيا وفرنسا هذه المذكرة بهدف تقوية مركز الخديو فى مواجهة الحركة الوطنية .
- طالبت بريطانيا وفرنسا بحل مجلس النواب .

(هـ) وزارة محمود سامى البارودى (وزارة الثورة) :

- قدم شريف باشا استقالته بسبب إصرار مجلس النواب على مناقشة الميزانية .
- تولى محمود سامى البارودى رئاسة الوزراء .
- أصبح أحمد عرابى وزيراً للجهادية والبحرية .
- أصدرت الوزارة (الدستور) الذى نص على أحقية مجلس النواب فى مناقشة الميزانية .
- تم اكتشاف مؤامرة من الضباط الشراكسة لاغتيال عرابى والإطاحة بالوزارة الجديدة .
- تم تقديمهم للمحاكمة وحُكم عليهم بالنفى إلى أقصى السودان .
- رفض الخديو التصديق على الحكم مما أدى لزيادة التوتر بين الخديو والوزارة .

(و) المذكرة المشتركة الثانية (مايو ١٨٨٢ م) :

أرسلتها بريطانيا وفرنسا لمساندة الخديو أمام العسكريين ؛ أرسلوا قطعاً من أسطولهما البحرى إلى الإسكندرية وطالبوا بـ :

- ١ - إقالة وزارة البارودى .
- ٢ - إبعاد عرابى وزملائه خارج البلاد .

ثانياً : الاحتلال البريطانى لمصر

استغلت بريطانيا بعض الأحداث الداخلية وذلك لاحتلال مصر ، وهذه الأحداث هى :

٣ - مؤتمر الأستانة

٢ - تأليف وزارة راغب باشا

١ - أحداث الإسكندرية

١ - أحداث الإسكندرية

- وقع خلاف بين الأهالى والرعايا الأجانب نتج عنه قتلى من الجانبين .
- ترتب على ذلك اجتماع قناصل الدول الأجنبية بالإسكندرية .
- سافر الخديو توفيق إلى الإسكندرية بحجة تهدئة الأوضاع .

٢ - تأليف وزارة راغب باشا

- كلف الخديو (توفيق) راغب باشا بتأليف وزارة جديدة (١١ يونيو ١٨٨٢م) بعد أن ظلت البلاد بدون وزارة لمدة أسبوعين .

٣ - مؤتمر الأستانة

- عقد ممثلو الدول العظمى مؤتمر الأستانة للنظر في المسألة المصرية .
- قرروا أن ترسل تركيا قوة لحفظ الأمن والنظام في مصر مع عدم تدخل الدول الأجنبية .

خط سير القوات البريطانية حتى القاهرة

١- الإسكندرية

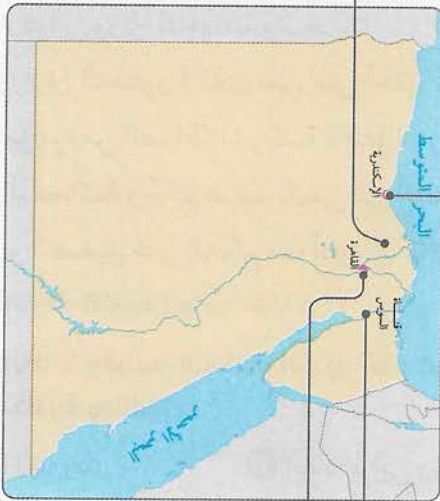
- أرسل قائد الأسطول البريطاني إنذارا للحكومة المصرية فرفضته .
- احتلت القوات البريطانية الإسكندرية .
- قام بضمرب الإسكندرية في يوليو ١٨٨٢م .
- قرر الخديو توفيق عدم مغادرة قصر رأس التين هو وأسرتة .
- قرر العراقيون الانسحاب من الإسكندرية إلى كفر الدوار .
- رفض عرابي تنفيذ أمر الخديو بالخضوع إلى قصر رأس التين ، فأصدر الخديو فرمانًا بعزل عرابي من وزارة الحربية .

٣ - التل الكبير

- اجتاحت بريطانيا القناة .
- أصدر السلطان القضاة .
- فرماتًا بعصيان عرابي مما أضعف الروح المعنوية للمقاتلين .
- حدثت معركة التل الكبير .
- ظهرت بطولات مصرية خالدة ، منها بطولة الضابط (محمد عبيد) الذي صمد بقواته حتى استشهد .
- هُزمت القوات المصرية .

٢ - كفر الدوار

- تصدت القوات المصرية للقوات البريطانية وهزمتها في كفر الدوار .
- تحركت القوات البريطانية إلى منطقة القناة .
- أراد عرابي تعطيل الملاحة في القناة .
- أكد له دبلوماسيس حياذية القناة (أى عدم استخدامها في الأغراض العسكرية) .



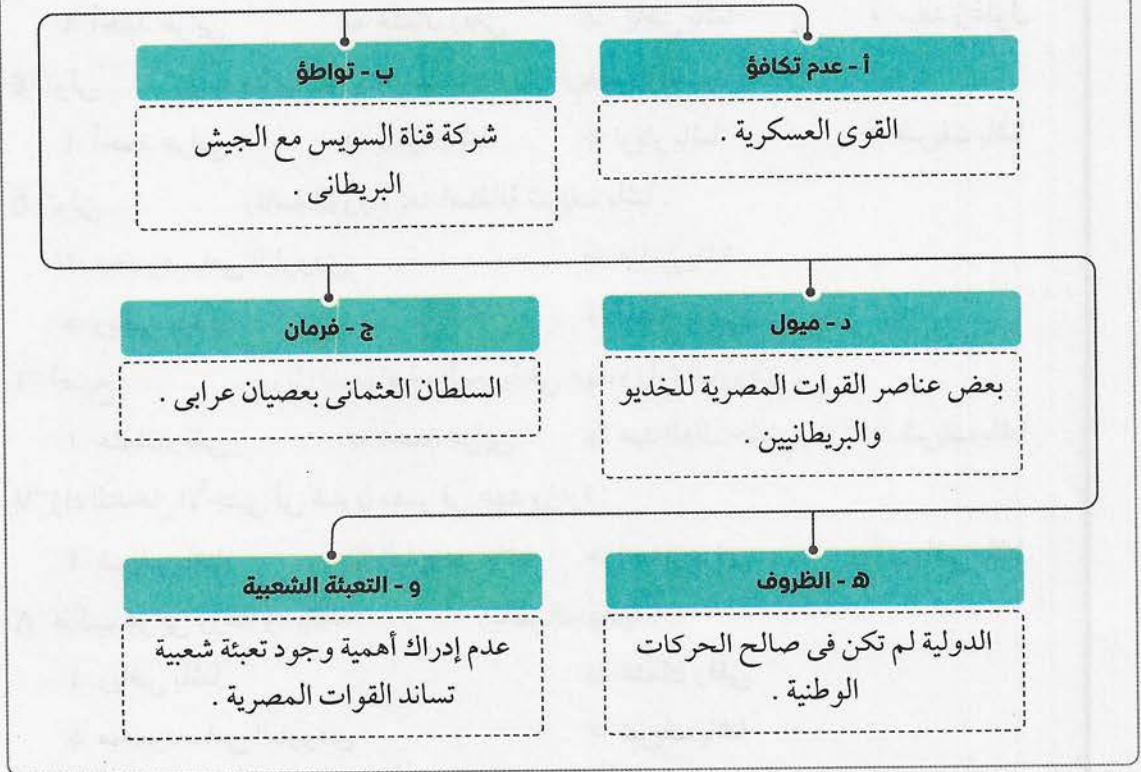
٣ - القاهرة

- تسربت روح الهزيمة إلى أنصاره .
- تم احتلال القاهرة في سبتمبر ١٨٨٢م .
- توجه عرابي إلى القاهرة في محاولة للدفاع عن العاصمة .
- استسلمت قواته أمام القوات البريطانية .

١ محاكمة عرابي :

- فشلت الثورة العربية وتم اعتقال زعمائها .
- استطاع خطيب الثورة عبد الله النديم الاختفاء ولم تصل إليه الحكومة .
- صدر في ديسمبر عام ١٨٨٢ م حكم بإعدام قادة الثورة العربية ، وتم تعديل الحكم إلى النفي المؤبد ومصادرة أملاكهم .
- تم نفيهم إلى جزيرة سيلان بالهند .

٢ أسباب فشل الثورة العربية :



أسئلة الشاطر على الدرس الثاني



(مجاب عنها)

السؤال الأول : اختر الإجابة الصحيحة من بين الإجابات الآتية :

- ١ أعاد نظام المراقبة الثنائية .
 - أ سعيد باشا
 - ب أحمد عرابي
 - ج الخديو توفيق
 - د عباس باشا
- ٢ تولى الحكم بعد عزل أبيه الخديو إسماعيل .
 - أ إبراهيم باشا
 - ب الخديو توفيق
 - ج سعيد باشا
 - د الملك فؤاد
- ٣ من نتائج حادثة قصر النيل عزل وتعيين محمود سامي البارودي بدلاً منه .
 - أ أحمد عرابي
 - ب عثمان رفقي
 - ج رياض باشا
 - د سعد زغلول
- ٤ تولى رئاسة الوزراء بعد عزل وزارة رياض باشا .
 - أ أحمد عرابي
 - ب سعيد باشا
 - ج نوبار باشا
 - د شريف باشا
- ٥ تولى رئاسة الوزراء بعد استقالة شريف باشا .
 - أ محمود سامي البارودي
 - ب عباس باشا
 - ج رياض باشا
 - د أحمد عرابي
- ٦ أصبح وزيراً للجهادية والبحرية في عهد وزارة البارودي .
 - أ عثمان رفقي
 - ب أحمد عرابي
 - ج عبد العال حلمي
 - د شريف باشا
- ٧ زاد التدخل الأجنبي في شئون مصر في عهد وزارة :
 - أ شريف باشا
 - ب البارودي باشا
 - ج أحمد عرابي
 - د رياض باشا
- ٨ طالب عرابي وزملاؤه بإقالة ناظر الجهادية .
 - أ رياض باشا
 - ب عثمان رفقي
 - ج محمود سامي البارودي
 - د شريف باشا
- ٩ من مطالب مظاهرة عابدين ٩ سبتمبر ١٨٨١ م إسقاط وزارة :
 - أ محمود سامي البارودي
 - ب شريف باشا
 - ج رياض باشا
 - د أحمد عرابي
- ١٠ رفض شريف باشا مناقشة في مجلس النواب .
 - أ الميزانية
 - ب التدخل الأجنبي
 - ج عدد الجيش
 - د رحيل وزارة رياض باشا
- ١١ أرسلت بريطانيا و المذكرة المشتركة الأولى في يناير ١٨٨٢ م .
 - أ فرنسا
 - ب إيطاليا
 - ج ألمانيا
 - د تركيا



- ١٢ سميت وزارة محمود سامي البارودي بوزارة :
 أ الأتراك ب الخديو ج الأجانب د الثورة
- ١٣ طالبت المذكرة المشتركة الثانية بإقالة وزارة :
 أ رياض باشا ب محمود سامي البارودي
 ج إسماعيل راغب د نوبار باشا
- ١٤ تم إعادة المراقبة الثنائية في ظل وزارة :
 أ راغب باشا ب رياض باشا ج مصطفى النحاس د سعد زغلول
- ١٥ كان ناظر الجهادية يضطهد الضباط المصريين .
 أ محمود سامي البارودي ب عبد العال حلمي
 ج عثمان رفقي د رياض باشا
- ١٦ من مطالب مظاهرة عابدين ٩ سبتمبر ١٨٨١ م زيادة :
 أ الميزانية ب عدد الجيش ج التدخل الأجنبي د المحاكم القنصلية
- ١٧ كان الخلاف بين شريف باشا ومجلس النواب يتلخص في :
 أ عدد الجيش ب مناقشة الميزانية في مجلس النواب
 ج عدد المحافظين د أسماء بعض الوزراء
- ١٨ بعد أحداث الإسكندرية تألفت وزارة برئاسة :
 أ راغب باشا ب شريف باشا ج رياض باشا د نوبار باشا
- ١٩ تم عقد مؤتمر للنظر في المسألة المصرية .
 أ المائدة المستديرة ب الأستانة ج باريس د مدريد
- ٢٠ دخلت القوات الإنجليزية القاهرة بعد معركة :
 أ إنبابة ب أبي قير البرية ج التل الكبير د مرج دابق
- ٢١ استطاعت القوات المصرية إلحاق الهزيمة بالإنجليز وإرجاعهم إلى الإسكندرية في معركة :
 أ التل الكبير ب القصاصين ج كفر الدوار د إنبابة
- ٢٢ نُفي زعماء الثورة العراقية إلى جزيرة بالهند .
 أ سيلان ب صقلية ج مالطة د شدوان
- ٢٣ الاستيلاء على أرض الغير بالقوة يسمى :
 أ جلاء ب حرية ج مقاومة د احتلالاً
- ٢٤ رفض طلب عرابي بتعطيل الملاحة في قناة السويس .
 أ رياض باشا ب كليبر ج ديليسبس د نلسون

٢٥ أصدر..... فرمائاً بعصيان عرابي .

- أ الخديو إسماعيل ب الخديو توفيق ج السلطان العثماني د محمد علي

السؤال الثاني : بم تفسر ... ؟

- ١ قيام الثورة العرابية .
- ٢ القبض على عرابي وزملائه واعتقالهم في سجن قصر النيل .
- ٣ إصرار شريف باشا على عدم مناقشة الميزانية في مجلس النواب .
- ٤ إرسال إنجلترا وفرنسا المذكرة المشتركة الأولى .
- ٥ حدوث توتر بين الخديو ووزارة البارودي .
- ٦ عقد مؤتمر الأستانة .
- ٧ فشل الثورة العرابية .

السؤال الثالث : ما النتائج المترتبة على ... ؟

- ١ سياسة الخديو توفيق ورضوخه لإنجلترا وفرنسا .
- ٢ سوء الأحوال الاقتصادية في عهد وزارة رياض باشا .
- ٣ حادثة قصر النيل .
- ٤ مظاهرة عابدين ٩ سبتمبر ١٨٨١ م .
- ٥ رفض الخديو التصديق على حكم عرابي بنفى الضباط الشراكسة .
- ٦ وقوع قتلى في حوادث الإسكندرية .
- ٧ خداع ديليسبس لأحمد عرابي .
- ٨ معركة كفر الدوار .
- ٩ معركة التل الكبير .
- ١٠ فشل الثورة العرابية .

السؤال الرابع : دلل تاريخياً على :

- ١ رضوخ الخديو توفيق للتدخل الأجنبي . ٢ للثورة العرابية أسباب اقتصادية وعسكرية .
- ٣ حققت حادثة قصر النيل نتائج إيجابية للجيش .
- ٤ كان لمظاهرة عابدين ٩ سبتمبر ١٨٨١ م مطالب سياسية وعسكرية .

السؤال الخامس : رتب الأحداث الآتية من القديم إلى الحديث :

- ١ حادثة قصر النيل . ٢ مؤتمر الأستانة . (.....)
- ٣ تولى الخديو توفيق الحكم . ٤ معركة كفر الدوار . (.....)
- ٥ نفى عرابي لسيلان . ٦ معركة التل الكبير . (.....)

أسئلة وردت في امتحانات المحافظات على الدرس الثاني

(مجاب عنها)

السؤال الأول : اختر الإجابة الصحيحة من بين الإجابات الآتية :

- ١ طالبت إنجلترا و..... بإقالة وزارة البارودي في المذكرة المشتركة الأولى . (الشرقية ٢٠١٨ / الجيزة ٢٠١٨)
 - أ ألمانيا
 - ب إيطاليا
 - ج فرنسا
 - د النمسا
- ٢ أسندت وزارتات الجهادية والبحرية لأحمد عرابي في عهد : (الغربية ٢٠١٨)
 - أ شريف باشا
 - ب رياض باشا
 - ج البارودي باشا
 - د نوبار باشا
- ٣ أدت حركة الجيش في ١٨٨١ م إلى إقالة : (الشرقية ٢٠١٧)
 - أ شريف باشا
 - ب رياض باشا
 - ج عثمان رفقي
 - د البارودي باشا
- ٤ مرت الثورة العربية بعدة مراحل منها معركة : (الغربية ٢٠١٩)
 - أ إمبابة
 - ب شبراخيت
 - ج كفر الدوار
 - د أبي قير البحرية
- ٥ صمد بقواته أمام القوات البريطانية إلى أن استشهد هو ومعظم رجاله . (الشرقية ٢٠١٨)
 - أ أحمد عرابي
 - ب محمود سامي البارودي
 - ج مصطفى كامل
 - د محمد عبيد
- ٦ شكل الوزارة في ٢٠ يونيو ١٨٨٢ م . (الأقصر ٢٠٢٢)
 - أ الخديو توفيق
 - ب شريف باشا
 - ج نوبار باشا
 - د راغب باشا
- ٧ ناظر الجهادية الذي اضطهد المصريين ومنع ترقيتهم ، هو : (كفر الشيخ ٢٠١٦ / المنوفية ٢٠١٨)
 - أ عثمان رفقي
 - ب أحمد عرابي
 - ج عبد العال حلمي
 - د علي فهمي
- ٨ أعاد المراقبة الثنائية ورفض اللائحة الأساسية لمجلس النواب . (القاهرة ٢٠١٨)
 - أ محمد علي
 - ب سعيد باشا
 - ج الخديو توفيق
 - د الخديو إسماعيل
- ٩ تمكن العرابيون من صد الهجمات البريطانية عند مدينة : (القليوبية ٢٠١٩)
 - أ كفر الدوار
 - ب التل الكبير
 - ج القاهرة
 - د السويس

السؤال الثاني : بم تفسر ... ؟

- ١ حدوث جدل بين وزارة شريف ومجلس النواب عام ١٨٨١ م . (المنوفية ٢٠١٨)
- ٢ استقالة وزارة شريف باشا عام ١٨٨٢ م . (دمياط ٢٠١٨)
- ٣ فشل الثورة العربية . (الشرقية ٢٠١٨)
- ٤ هزيمة العرابيين في التل الكبير . (الشرقية ٢٠١٧)

السؤال الثالث : ما النتائج المترتبة على ... ؟

- ١ حدثت قصر النيل منتصف يناير ١٨٨١ م . (القليوبية ٢٠١٩)
- ٢ عقد مؤتمر الأستانة بالنسبة للمسألة المصرية . (الإسكندرية ٢٠٢٠)
- ٣ إصدار السلطان العثماني منشورًا بإعلان عصيان أحمد عرابي . (أسيوط ٢٠٢٢)
- ٤ إصرار مجلس النواب أثناء وزارة شريف باشا على مناقشة الميزانية . (الشرقية ٢٠١٩)

السؤال الرابع : ماذا يحدث إذا ... ؟

- ١ رفض الخديو توفيق مطالب الوطنيين في ٩ سبتمبر ١٨٨١ م . (كفر الشيخ ٢٠١٩)
- ٢ نجح عرابي في تعطيل الملاحة في قناة السويس . (البحيرة ٢٠٢٠)

السؤال الخامس : وضع :

- ١ تجمعت عدة عوامل أدت إلى فشل الثورة العرابية . (القليوبية ٢٠١٨)
- ٢ علاقة الخيانة بفشل الثورة العرابية . (كفر الشيخ ٢٠١٧)
- ٣ مطالب الأمة والجيش في مظاهرة عابدين سبتمبر ١٨٨١ م . (الدقهلية ٢٠١٧)
- ٤ أمثلة على سياسة الخديو توفيق التي أدت إلى زيادة التدخل الأجنبي في شؤون البلاد . (بورسعيد ٢٠١٩)

اختبار المتفوقين على الدرس الثاني



(يجب عنه الطالب)

السؤال الأول : وضح وجه الاختلاف بين :

■ اللائحة الأساسية في ديسمبر ١٨٨١ م وفبراير ١٨٨٢ م .

السؤال الثاني : ما تقييمك لـ ... ؟

■ عدم إدراك قيادة الثورة العرابية لأهمية التعبئة الشعبية في مساندة القوات المصرية .

السؤال الثالث : اختر الإجابة الصحيحة من بين الإجابات الآتية :

١ من أسباب فشل الثورة العرابية :

أ خيانة عرابي ب خيانة البارودي ج خيانة ديليسبس د خيانة محمد عبيد

٢ كان للدولة دور سلبي على الروح المعنوية للمصريين عام ١٨٨٢ م .

أ الفرنسية ب العثمانية ج الروسية د الألمانية

٣ تعتبر المعركة الحاسمة بين القوات المصرية والإنجليزية عام ١٨٨٢ م ، هي معركة :

أ كفر الدوار ب التل الكبير ج رشيد وحماد د أبي قير البرية

السؤال الرابع : برأيك ما هي الإيجابيات والسلبيات بالنسبة لـ ... ؟

■ الثورة العرابية .

السؤال الخامس : لو كنت ضابطًا في جيش عرابي :

■ ماذا كنت ستصنع لمنع تقدم القوات البريطانية للقاهرة بعد معركة كفر الدوار ؟

.....
١٠

اختبار الشاطر على الدرسين الأول والثاني



(يجيب عنه الطالب)

.....
٤

السؤال الأول : اختر الإجابة الصحيحة من بين الإجابات الآتية :

- ١ تم تعيين أحمد عرابي وزيراً للجهادية في وزارة :
 أ رياض باشا ب نوبار باشا ج البارودي باشا د شريف باشا
- ٢ أنشأ مصلحة بريد مصرية لها مكاتب في القاهرة والإسكندرية .
 أ الخديو توفيق ب الخديو إسماعيل ج شريف باشا د سعيد باشا
- ٣ نجح العرابيون في صد هجمات القوات البريطانية في :
 أ التل الكبير ب القصاصين ج كفر الدوار د إمبابة
- ٤ تأتي وزارة راغب باشا تاريخياً بعد وزارة :
 أ مصطفى النحاس ب نوبار باشا ج البارودي باشا د سعد زغلول

.....
٢

السؤال الثاني : بم تفسر ... ؟

١ فشل الثورة العرابية .

٢ قيام الخديو توفيق بإنشاء المحاكم المختلطة .

.....
٢

السؤال الثالث : ما النتائج المترتبة على ... ؟

١ معركة التل الكبير .

٢ مظاهرة عابدين ٩ سبتمبر ١٨٨١ م .

.....
٢

السؤال الرابع : قارن بين :

■ مساوي عهد سعيد باشا والخديو إسماعيل . (يكتفي باثنتين)

الدرس الثالث : الكفاح الوطنى ضد الاحتلال البريطانى

أهم نقاط الدرس :

- استمر كفاح المصريين ضد الاحتلال البريطانى لمصر من أجل :
- ١ الاستقلال .
 - ٢ إقامة حكومة دستورية .

أولاً : سياسة الاحتلال البريطانى فى مصر

١ - الحكم والإدارة	
• أصبحت السلطة الفعلية فى يد المعتمد البريطانى .	
٢ - الجيش	
• إنشاء جيش مصرى قليل العدد (٦,٠٠٠ جندى) تحت قيادة إنجليزية ، وكان دور الجيش يتمثل فى حفظ الأمن والنظام فقط .	
٣ - الحياة النيابية	
• إلغاء مجلس النواب .	• إنشاء مجالس صورية ، مثل : (مجلس شورى القوانين - الجمعية العمومية - الجمعية التشريعية) .
٤ - الاقتصاد	
• التوسع فى زراعة القطن لتوفير المادة الخام اللازمة للمصانع البريطانية .	
• محاربة الصناعة المصرية بتسويق المنتجات البريطانية فى السوق المصرية .	
• ظهور طبقة الأعيان وربط مصالحهم بوجود الاحتلال .	
٥ - التعليم	
• إهمال التعليم .	• جعله بمصروفات مرتفعة .
• حصره فى فئة معينة .	• يهدف لتخريج موظفين .

ثانياً : مصطفى كامل ١٨٧٤ / ١٩٠٨ م

باعث الحركة الوطنية

١ - كفاحه داخلياً		
أ - دعا فى خطبه ومقالاته إلى :	ب - طالب بـ :	ج - أسس :
١ - التمسك بالوحدة الوطنية .	١ - الدستور .	١ - جريدة اللواء ١٩٠٠ م .
٢ - محاربة اليأس .	٢ - إنشاء الجامعة المصرية .	٢ - الحزب الوطنى ١٩٠٧ م .
٣ - استشارة روح الكرامة .	١٩٠٨ م .	

٢ - كفاحه خارجيًا

- ١ - عرّف الرأي العام الأوربي - خاصة فرنسا - بحق مصر في الاستقلال .
- ٢ - تخلت فرنسا عن مساندته عندما وقّعت الاتفاق الودى مع إنجلترا عام ١٩٠٤ م .
- ٣ - رفض اتفاقية الحكم الثنائي في السودان يناير ١٨٩٩ م .
- ٤ - استغل حادثة دنشواى ١٩٠٦ م وندّد بسياسة الاحتلال ؛ فأدى ذلك إلى استقالة المعتمد البريطانى اللورد كرومر .

٣ - وفاته

- توفى عام ١٩٠٨ م .

ثالثًا : الاتفاق الودى ١٩٠٤ م

- اتفاق بين إنجلترا وفرنسا نص على انفراد إنجلترا بحكم مصر مقابل انفراد فرنسا بحكم مراكش (المغرب حاليًا) .

رابعًا : محمد فريد

رئاسة الحزب الوطنى

- تولى رئاسة الحزب الوطنى عام ١٩٠٨ م بعد وفاة مصطفى كامل .
- كانت الظروف صعبة عندما تولى رئاسته حيث تحول الخديو عباس حلمى الثانى عن مؤازرة الحركة الوطنية إلى موالاتة الإنجليز ؛ ولذلك اتجه محمد فريد إلى الجهاد ضد الاحتلال البريطانى والخديو معًا .

مطالبه

طالب محمد فريد بـ :

- الجلاء .
- الدستور .

كفاحه

- | | | |
|---------|--|---|
| طالب بـ | • إنشاء مجلس نيابى له سلطات واسعة . | • إنشاء نقابات للعمال . |
| دعا إلى | • إنشاء مدارس الشعب الليلية (لتعليم العمال والفقراء مجانًا) . | • جعل التعليم إلزاميًا وبالمجان فى المرحلة الابتدائية . |
| نجح فى | • إجبار الحكومة المصرية على دعوة مجلس شورى القوانين والجمعية العمومية (بتأييد من رأى العام) لمناقشة طلب شركة قناة السويس فى مد الامتياز أربعين عامًا أخرى ؛ مما أدى إلى رفض الحكومة المصرية طلب الشركة . | |

وفاته

- توفى محمد فريد فى نوفمبر ١٩١٩ م .

أسئلة الشاطر على الدرس الثالث



(مجاب عنها)

السؤال الأول: اختر الإجابة الصحيحة من بين الإجابات الآتية:

- ١ أصبحت السلطة الفعلية في مصر في يد بعد الاحتلال البريطاني لها عام ١٨٨٢ م .
 أ الخديو توفيق ب الإدارة الفرنسية ج المعتمد البريطاني د السلطان العثماني
- ٢ أنشأت سلطات الاحتلال البريطاني مجالس صورية مثل :
 أ مجلس الثورة ب مجلس المشورة
 ج مجلس شورى النواب د المجلس العسكري
- ٣ توسعت سلطات الاحتلال البريطاني في زراعة محصول :
 أ القمح ب الذرة ج الأرز د القطن
- ٤ ترتب على سياسة الاحتلال البريطاني في مصر ظهور طبقة :
 أ علماء الأزهر ب المماليك ج أسرة محمد علي د الأعيان
- ٥ أعلن مصطفى كامل تأسيس رسمياً عام ١٩٠٧ م .
 أ جريدة اللواء ب الحزب الوطني ج مجلس النواب د حزب الوفد
- ٦ طالب الزعيم محمد فريد بإنشاء :
 أ نقابات العمال ب شركات خاصة ج أحزاب معارضة د جيش قوى
- ٧ انحصرت سلطة في التصديق على قرارات سلطات الاحتلال منذ عام ١٨٨٢ م .
 أ السلطان العثماني ب محمد فريد ج الخديو توفيق د مصطفى كامل
- ٨ اقتصرت مهمة الجيش المصري في عهد الاحتلال البريطاني على :
 أ التوسع الاستعماري ب الحروب الداخلية ج الحروب الخارجية د إقرار الأمن والنظام
- ٩ عملت سلطات الاحتلال البريطاني على في مصر .
 أ تطوير الصناعة ب محاربة الصناعة ج تطوير التعليم د تطوير الصحة
- ١٠ شهدت مصر في عهد الاحتلال البريطاني .
 أ نهضة تعليمية ب نهضة ثقافية ج إهمال التعليم د إهمال زراعة القطن
- ١١ كان من أشد المعارضين لاتفاقية الحكم الثنائي للسودان ١٨٩٩ م .
 أ أحمد عرابي ب عمر مكرم ج مصطفى كامل د الخديو توفيق
- ١٢ استقال من منصبه نتيجة حادثة دنشواي ١٩٠٦ م .
 أ محمد فريد ب الخديو عباس ج اللورد كرومر د اللورد كتشنر

- ١٣ تحول الخديو عن تأييد الحركة الوطنية إلى موالة الإنجليز .
 ا توفيق ب إسماعيل ج سعيد د عباس حلمي الثاني
- ١٤ ألغت سلطات الاحتلال البريطاني الذي تم انتخابه عام ١٨٨١ م .
 ا مجلس شورى القوانين ب مجلس النواب
 ج الجمعية العمومية د الجمعية التشريعية
- ١٥ قاد الزعيم الحركة الوطنية ضد الاحتلال البريطاني فى أواخر القرن التاسع عشر .
 ا سعد زغلول ب مصطفى النحاس ج محمد فريد د مصطفى كامل
- ١٦ دعا مصطفى كامل إلى إنشاء والتي أنشئت عام ١٩٠٨ م .
 ا الجامعة المصرية ب المدارس الليلية ج جامعة الإسكندرية د جريدة اللواء
- ١٧ تخلت فرنسا عن مساندة مصطفى كامل بعقدها مع إنجلترا عام ١٩٠٤ م .
 ا صلح إميان ب مؤتمر الأستانة
 ج الاتفاق الودى د معاهدة الصداقة والتحالف
- ١٨ تولى رئاسة الحزب الوطنى عام ١٩٠٨ م وطالب بالجلء والدستور .
 ا محمد فريد ب سعد زغلول ج أحمد عرابى د مصطفى النحاس
- ١٩ أهمل الاحتلال البريطانى وجعله بمصروفات مرتفعة وحصره فى فئة قليلة .
 ا التعليم ب الجيش ج زراعة القطن د الأزهر الشريف
- ٢٠ أسس مصطفى كامل جريدة عام ١٩٠٤ م .
 ا اللواء ب الدستور ج الأهرام د الوطن
- ٢١ استغل مصطفى كامل فى التنديد بالاحتلال البريطانى عام ١٩٠٦ م .
 ا معركة كفر الدوار ب حادثة دنشواى ج اتفاقية السودان د حادثة قصر النيل
- ٢٢ أنشأ جيشاً مصرياً لا يتجاوز عدده ستة آلاف جندى .
 ا السلطان العثمانى ب الخديو توفيق ج الاحتلال الفرنسى د الاحتلال البريطانى
- ٢٣ نجح فى إجبار الحكومة المصرية على رفض طلب مد امتياز قناة السويس أربعين عاماً
 أخرى .
 ا مصطفى كامل ب سعد زغلول
 ج الخديو عباس حلمي الثاني د محمد فريد
- ٢٤ توفى فى نوفمبر عام ١٩١٩ م .
 ا سعد زغلول ب محمد فريد ج مصطفى النحاس د عدلى يكن

- ٢٥ طالب بإنشاء مجلس نيابي له سلطات واسعة .
أ محمد فريد ب الخديو توفيق ج رياض باشا د محمد على
- ٢٦ دعا إلى إنشاء مدارس الشعب الليلية وجعل التعليم إلزامياً وبالمجان في المرحلة الابتدائية .
أ طلعت حرب ب محمد فريد ج الخديو إسماعيل د مصطفى صدقي

السؤال الثاني : بم تفسر ... ؟

- ١ بعد احتلال بريطانيا لمصر أصبحت سلطة الخديو غير فعلية .
٢ اهتمام الاحتلال البريطاني بزراعة القطن في مصر .
٣ تخلت فرنسا عن مساندة مصر بعد عام ١٩٠٤ م .
٤ استقالة المعتمد البريطاني اللورد كرومر من منصبه ١٩٠٦ م .
٥ دعوة محمد فريد لإنشاء مدارس ليلية .

السؤال الثالث : ما النتائج المترتبة على ... ؟

- ١ سياسة الاحتلال البريطاني الاقتصادية في مصر .
٢ تنديد مصطفى كامل بحادثة دنشواي ١٩٠٦ م .
٣ رفض محمد فريد لمشروع مد امتياز قناة السويس .

السؤال الرابع : أيد بالأدلة التاريخية صحة العبارات الآتية :

- ١ لم تكن السلطة الفعلية في يد الخديو توفيق بعد احتلال بريطانيا لمصر .
٢ اتبعت بريطانيا سياسة اقتصادية تخدم مصالحها في مصر .
٣ ظهر كفاح مصطفى كامل داخلياً في عدة أشياء .

أسئلة وردت في امتحانات المحافظات على الدرس الثالث



(مجاب عنها)

السؤال الأول : اختر الإجابة الصحيحة من بين الإجابات الآتية :

- ١ عقب حادثة دنشواى عام ١٩٠٦م اضطر..... للاستقالة .
 - أ مصطفى كامل
 - ب اللورد كرومر
 - ج مصطفى النحاس
 - د الخديو توفيق
- ٢ أسس مصطفى كامل جريدة..... لتكون منبرًا للحركة الوطنية .
 - أ الوطن
 - ب المصرى اليوم
 - ج اللواء
 - د الوقائع المصرية
- ٣ عقب الاحتلال البريطانى لمصر أصبحت السلطة الفعلية فى يد :
 - أ الخديو توفيق
 - ب رياض باشا
 - ج المعتمد البريطانى
 - د وزير الداخلية
- ٤ دعا..... إلى إنشاء نقابات للعمال وإنشاء مدارس الشعب الليلية .
 - أ مصطفى كامل
 - ب محمد فريد
 - ج سعد زغلول
 - د أحمد عرابى
- ٥ استغل..... حادثة دنشواى للتنديد بالاحتلال البريطانى .
 - أ محمد فريد
 - ب سعد زغلول
 - ج مصطفى كامل
 - د أحمد عرابى
- ٦ دعا..... إلى رفض اتفاقية الحكم الثنائى للسودان التى عقدت فى يناير ١٨٩٩م .
 - أ محمد فريد
 - ب أحمد عرابى
 - ج مصطفى كامل
 - د سعد زغلول
- ٧ نجح..... فى منع مشروع مد امتياز قناة السويس أربعين عامًا أخرى .
 - أ مصطفى كامل
 - ب محمد فريد
 - ج أحمد عرابى
 - د سعد زغلول

السؤال الثانى : بم تفسر ... ؟

- ١ تدهور أحوال التعليم فى مصر خلال الاحتلال البريطانى .

السؤال الثالث : ما النتائج المترتبة على ... ؟

- ١ السياسة الاقتصادية للاحتلال البريطانى فى مصر .
- ٢ معارضة محمد فريد لمشروع مد امتياز قناة السويس .

السؤال الرابع : ماذا يحدث إذا ... ؟

- ١ لم يتحول الخديو عباس حلمى الثانى عن تأييد الحركة الوطنية .

السؤال الخامس : دلل :

- ١ عمل الإنجليز منذ احتلالهم لمصر على فرض سيطرتهم على البلاد سياسياً .



اختبار المتفوقين على الدرس الثالث



(يجيب عنه الطالب)

السؤال الأول: اختر الإجابة الصحيحة من بين الإجابات الآتية:

- ١ أول من لقب بالخديو فى مصر ، هو :
أ سعيد ب عباس حلمى ج إسماعيل د توفيق
- ٢ ظلت مصر أسبوعين بدون رئيس وزراء قبل وزارة مباشرة .
أ البارودى باشا ب راغب باشا ج رياض باشا د شريف باشا
- ٣ أول معتمد بريطانى لمصر تم عزله بعد مباشرة .
أ اتفاقية السودان ب حادثة دنشواى ج معاهدة ١٩٣٦ م د مؤتمر مونترو

السؤال الثانى: قارن بين :

الظروف السياسية فى مصر أثناء كفاح مصطفى كامل وكفاح محمد فريد .

.....
.....

السؤال الثالث: ما العلاقة بين ... ؟

محمد فريد ومحو أمية المصريين .

.....
.....

السؤال الرابع: ما أوجه الشبه والاختلاف بين ... ؟

محمد فريد وجمال عبد الناصر .

.....
.....

السؤال الخامس: ماذا تعرف عن ... ؟

اتفاقية الحكم الثنائى عام ١٨٩٩ م .

.....
.....

.....
١٠

اختبار الشاطر التراكمي على ما سبقت دراسته



(يجب عنه الطالب)

.....
٥

السؤال الأول : اختر الإجابة الصحيحة من بين الإجابات الآتية :

- ١ بدأ في إنشاء أول خط سكة حديد بين القاهرة والإسكندرية .
 - أ الخديو إسماعيل
 - ب الخديو توفيق
 - ج عباس حلمي
 - د سعيد باشا
- ٢ أسس جريدة اللواء عام ١٩٠٠ م .
 - أ سعد زغلول
 - ب مصطفى كامل
 - ج محمد فريد
 - د مصطفى النحاس
- ٣ استشهد ومعظم قواته أثناء مقاومة الإنجليز في التل الكبير .
 - أ أحمد عرابي
 - ب عبد الله النديم
 - ج محمد عبيد
 - د البارودي
- ٤ أرسلت إنجلترا و المذكرة المشتركة الثانية للخديو توفيق .
 - أ ألمانيا
 - ب تركيا
 - ج فرنسا
 - د روسيا
- ٥ من مطالب مظاهرة عابدين ٩ سبتمبر ١٨٨١ م إسقاط وزارة :
 - أ البارودي باشا
 - ب أحمد عرابي
 - ج رياض باشا
 - د مصطفى النحاس

.....
٢

السؤال الثاني : دلل تاريخيًا على صحة العبارتين الآتيتين :

- ١ بدأ الخديو إسماعيل في عمل إصلاح نيابي في مصر .

- ٢ فرض الاحتلال البريطاني في مصر سياسة اقتصادية تخدم مصالحه .

.....
٢

السؤال الثالث : اذكر نتيجة واحدة لكل من الحدين الآتيين :

- ١ تنديد مصطفى كامل بحادثة دنشواي ١٩٠٦ م .

- ٢ مظاهرة عابدين في ٩ سبتمبر ١٨٨١ م .

.....
١

السؤال الرابع : ما رأيك في ... ؟

- شروط امتياز قناة السويس .



الدرس الرابع : مصر من الحماية البريطانية حتى ثورة يوليو ١٩٥٢ م

أهم نقاط الدرس :

أولاً : ثورة ١٩١٩ م

١ تأليف الوفد المصرى :

- بعد انتهاء الحرب العالمية الأولى (نوفمبر ١٩١٨ م) تم تشكيل وفد مصرى من أعضاء الجمعية التشريعية برئاسة سعد زغلول .
- قابل الوفد المندوب السامى البريطانى فى مصر (السير ونجت) وطالبه بـ :
 - (أ) إلغاء الحماية البريطانية .
 - (ب) إنهاء الأحكام العرفية .
 - (ج) إلغاء الرقابة على الصحف والمطبوعات .
 - (د) الاستقلال .
 - (هـ) السماح لهم بالسفر إلى باريس لعرض المطالب الوطنية على مؤتمر الصلح .

٢ الصدام بين أعضاء الوفد وسلطات الاحتلال :

- رفض المندوب السامى البريطانى صفة الوفد الذى يتكلم باسم الأمة .
- فكر الوفد فى جمع التوكيلات من الأمة .
- أصبح الوفد بزعامة سعد زغلول ممثلاً للأمة .

٣ نفى سعد زغلول :

- رفض الاحتلال البريطانى مطالب الوفد ، وتم إلقاء القبض على سعد زغلول وزملائه ونفيهم إلى جزيرة مالطة فى مارس ١٩١٩ م .

٤ عوامل قيام ثورة ١٩١٩ م :

- (أ) زيادة الوعى الوطنى للمصريين .
- (ب) إجراءات الاحتلال العنيفة أثناء الحرب العالمية الأولى (١٩١٤ م - ١٩١٨ م) .
- (ج) ادعاء إنجلترا وحلفائها أنها تحارب من أجل حرية الشعوب واستقلالها .
- (د) إعلان الرئيس الأمريكى ولسن للمبادئ الأربعة عشر ، ومنها حق الشعوب فى تقرير مصيرها .
- (هـ) نفى سعد زغلول وزملائه .

٥ أحداث الثورة :

- امتدت من القاهرة إلى الأقاليم .
- اشتركت فيها جميع فئات وعناصر الشعب مما أكد على الوحدة الوطنية .

٦ نتائج الثورة :

- (أ) تعيين الجنرال اللنبى مندوباً سامياً على مصر .
- (ب) الإفراج عن سعد زغلول ورفاقه فى إبريل ١٩١٩ م .
- (ج) السماح لهم بالتوجه لباريس لعرض قضية استقلال مصر على مؤتمر الصلح .

موقف مؤتمر الصلح من قضية استقلال مصر :

- خيب مؤتمر الصلح آمال المصريين ؛ لأنه أعلن اعتراف الدول المشاركة فيه بالحماية البريطانية على مصر بما فيهم الرئيس ولسن .

٧ لجنة ملنر ديسمبر ١٩١٩ م :

• ما هي ؟	• هي لجنة أرسلتها الحكومة البريطانية لمصر برئاسة اللورد ملنر وزير المستعمرات البريطانى .
هدفها	• إقناع الشعب المصرى بقبول الحماية البريطانية .
موقف الشعب المصرى	
	• رفض الشعب المصرى التفاوض مع اللجنة وقاطعها ؛ لأن التفاوض يعنى التنازل ، ووكل عنه الوفد المصرى .
مفاوضات ملنر مع الوفد المصرى (سعد - ملنر)	
	• انتهت المفاوضات بمشروع معاهدة رفضها الشعب المصرى ؛ لأنها تعطى مصر استقلالاً صورياً .

٨ مفاوضات (عدلى - كيرزون) :

- تولى عدلى يكن باشا رئاسة الوزراء فى مارس ١٩٢١ م .
- كان يريد وضع دستور يحقق مطالب المصريين .
- فشلت مفاوضاته مع كيرزون وزير خارجية بريطانيا لعدم الوصول إلى نتيجة .
- استقال عدلى يكن باشا ورفض السياسيون تشكيل الحكومة .

٩ نفى سعد زغلول مرة أخرى ١٩٢١ م :

- تم القبض على سعد زغلول وتم نفيه للمرة الثانية إلى جزيرة سيشل .
- تجددت الثورة مرة أخرى .
- قاطع الشعب البضائع البريطانية .
- اضطرت الحكومة البريطانية للإفراج عنه .

ثانيًا : تصريح ٢٨ فبراير ١٩٢٢ م

- بعد فشل مفاوضات (عدلى - كيرزون) أصدرت بريطانيا تصريح ٢٨ فبراير ١٩٢٢ م والذي تضمن :
- (أ) إنهاء الحماية البريطانية على مصر .
 - (ب) إلغاء الأحكام العرفية .
 - (ج) الاعتراف بمصر دولة مستقلة .

ولكن احتفظت بريطانيا بأربعة أمور هي :

ب - حماية	أ - تأمين
المصالح الأجنبية والأقليات الأجنبية في مصر .	المواصلات البريطانية في مصر .
ج - الدفاع	د - استمرار
عن مصر ضد أى اعتداء خارجي .	أوضاع السودان وفقًا لاتفاقية الحكم الثنائي ١٨٩٩ م .

النتائج المترتبة على تصريح ٢٨ فبراير ١٩٢٢ م :

- (أ) أعلن السلطان فؤاد نفسه ملكًا على مصر (مارس ١٩٢٢ م) .
- (ب) أعيدت وزارة الخارجية المصرية .
- (ج) شكَّلت وزارة عبد الخالق ثروت باشا لجنة من ثلاثين عضوًا لإعداد الدستور فيما عرف بـ (دستور ١٩٢٣ م) .

ثالثًا : دستور ١٩ إبريل ١٩٢٣ م

١ تضمن ما يلي :

مبادئ	(أ) أعطى للملك سلطات واسعة على السلطين التشريعية والتنفيذية حيث جعل من حقه : • حل البرلمان . • الدعوة إلى انتخابات جديدة .
مبادئ	(ب) كان خطوة في تحقيق مبدأ الأمة مصدر السلطات . (ج) وضع نهاية للحكم المطلق . (د) إقرار مبدأ المساواة بين جميع المصريين في الحقوق والواجبات . (هـ) احترام الحريات العامة .

٢ وزارة الشعب :

- فاز حزب الوفد بالأغلبية في الانتخابات العامة طبقاً لدستور ١٩٢٣ م .

وبناء على ذلك :

- شكل سعد زغلول في يناير ١٩٢٤ م أول وزارة برلمانية عرفت بوزارة الشعب .
- افتتح أول برلمان مصرى فى مارس ١٩٢٤ م .

٣ استقالة وزارة سعد زغلول :

- فى ١٩ نوفمبر ١٩٢٤ م تم اغتيال « السير لى ستاك » وهو القائد العام للجيش المصرى وحاكم السودان .
- بعدها قدم المندوب السامى البريطانى فى مصر « اللورد اللبى » إنذاراً للحكومة المصرية فى ٢٢ نوفمبر ١٩٢٤ م بـ (سحب الجيش المصرى من السودان) .

النتائج المترتبة على ذلك :

- (أ) استقالة وزارة سعد زغلول باشا .
- (ب) تأليف وزارة برئاسة زيور باشا رئيس مجلس الشيوخ ، وقبلت هذه الوزارة الإنذار حيث تم سحب الجيش المصرى من السودان كما تضمنه الإنذار .

٤ دستور ١٩٣٠ م :

- شكل إسماعيل صدقى باشا فى يونيو ١٩٣٠ م وزارة جديدة وقام بـ :
- (أ) إلغاء دستور ١٩٢٣ م .
- (ب) وضع دستور ١٩٣٠ م .

وهذا الدستور هو الذى :

- أعطى للملك مزيداً من السلطات .
- أهدر سلطة الأمة وحقوقها .

لذلك :

- عارض الشعب هذا الدستور وقام بمظاهرات لإلغائه .

ترتب على ذلك :

- اضطرار الملك فؤاد إلى إلغائه وإعادة دستور ١٩٢٣ م .

٥ تعدد الأحزاب :

- تعددت الأحزاب فى مصر منذ صدور دستور ١٩٢٣ م ، ولكنها :

- كانت أداة للملك والإنجليز لتحقيق مصالحهما دون النظر إلى مصلحة الشعب المصرى .
- لم تؤدِّ إلى إثراء الحياة النيابية فى مصر .

مستوى

رابعًا : معاهدة ١٩٣٦ م

١ سبب عقدها :

■ خوف بريطانيا من قيام ثورة جديدة في نفس الوقت الذي ستخوض فيه بريطانيا حربًا عالمية جديدة .

٢ أطرافها :

■ مصطفى النحاس باشا (رئيس حزب الوفد) . ■ الإنجليز .

٣ نصوص المعاهدة :

يمكن تقسيم نصوصها إلى قسمين :

أ - في صالح مصر	ب - في غير صالح مصر
• جلاء القوات البريطانية عن القاهرة وجميع الجهات الأخرى .	• بقاء قناة السويس تحت السيادة البريطانية .
• مساعدة بريطانيا لمصر في دخول عصبة الأمم .	• وضع الموانئ والمطارات وطرق المواصلات المصرية تحت تصرف بريطانيا في حالة الحرب .
	• تعهد الحكومة المصرية ببناء الثكنات والمعسكرات والطرق والكبارى اللازمة للقوات البريطانية وصيانتها .
	• مدة المعاهدة عشرون عامًا .
• استمرار إدارة السودان وفقًا لاتفاقية ١٨٩٩ م (الحكم الثنائي) مع عودة القوات المصرية للسودان .	

نتائج المعاهدة :

- (أ) انتهاء احتلال مصر عسكريًا .
- (ب) انضمام مصر إلى عضوية عصبة الأمم باعتبارها دولة مستقلة ذات سيادة .
- (ج) إلغاء الامتيازات الأجنبية وفقًا لمؤتمر مونترال ١٩٣٧ م .
- (د) تقوية الجيش المصرى حتى يتمكن من الدفاع عن قناة السويس بمفرده وبالتالي تجلو القوات البريطانية عن مصر .
- (هـ) حرية مصر فى عقد المعاهدات السياسية مع الدول الأجنبية بشرط ألا تتعارض مع المعاهدة .
- (و) عودة الجيش المصرى إلى السودان واعتراف بريطانيا بالإدارة المشتركة مع مصر للسودان .

خامسًا : المتغيرات الداخلية والدولية بعد معاهدة ١٩٣٦ م

١ تحولت العلاقة بين مصر وبريطانيا من علاقة احتلال إلى علاقة تحالف .

٢ ازداد نفوذ القصر وسيطرته منذ اعتلاء الملك فاروق العرش .

٣ حادثة ٤ فبراير ١٩٤٢ م :

تغيرت الأوضاع الدولية عقب اندلاع الحرب العالمية الثانية فى سبتمبر ١٩٣٩ م بسبب الخلافات بين حكومة مصر والإنجليز ، لإصرار الإنجليز على أن تعلن مصر الحرب على دول المحور ، وهو ما رفضته الحكومة المصرية ؛ لتجنب مصر ويلات الحرب . لذلك :

الحادثة	بادرت بريطانيا بالضغط على الملك فاروق لتشكيل حكومة جديدة برئاسة مصطفى النحاس باشا .
الأسباب	مماطلة الملك فاروق فى تعيين مصطفى النحاس رئيسًا للوزراء .
رد فعل بريطانيا	أرسلت بريطانيا الإنذار الشهير عام ١٩٤٢ م وقامت بحصار قصر عابدين بالدبابات (حادثة ٤ فبراير) وهددت بخلع الملك فاروق عن العرش .
رد فعل الملك فاروق	قبل الإنذار البريطانى . عرض على مصطفى النحاس باشا رئيس حزب الوفد تأليف الوزارة ، فوافق على ذلك .

سادسًا : قضية الجلاء الكامل للقوات البريطانية

١ ١٩٤٧ م :

قامت مصر بعرض قضية الاستقلال ووحدة وادى النيل على مجلس الأمن لكنه ترك القضية معلقة .

٢ أكتوبر ١٩٥١ م :

أعلن مصطفى النحاس رئيس وزراء مصر وقتها إلغاء معاهدة ١٩٣٦ م مما ترتب عليه إطلاق الحرية للشعب فى النضال المسلح ضد القوات البريطانية فى القناة .

٣ موقف المصريين من إلغاء المعاهدة :

بناء على ذلك :

- أخذت جماعات الفدائيين فى مهاجمة المعسكرات البريطانية .
- عمدت الحكومة المصرية إلى زيادة عدد جنود الشرطة لمساعدة الفدائيين .
- حاصر البريطانيون مبنى محافظة الإسماعيلية لنزع السلاح من جنود الشرطة .
- رفض الجنود التسليم لقوات الاحتلال مما أدى إلى الصدام بينهما فى ٢٥ يناير ١٩٥٢ م واستشهد الكثير منهم .

٤ حريق القاهرة :

تطورت الأحداث ووقع حريق القاهرة فى اليوم التالى مباشرة ، وكان ذلك إيذانًا بنهاية النظام الملكى وقيام ثورة يوليو ١٩٥٢ م .

أسئلة الشاطر على الدرس الرابع



(مجاب عنها)

السؤال الأول : اختر الإجابة الصحيحة من بين الإجابات الآتية :

- ١ تم نفي سعد زغلول للمرة الأولى إلى جزيرة..... في مارس ١٩١٩ م.
أ مالطة ب سيشل ج مدغشقر د جاوة
- ٢ أعلن الرئيس الأمريكى..... مبادئ، منها حق الشعوب فى تقرير مصيرها .
أ ولسن ب كارتر ج بوش د ترامب
- ٣ تم عزل السير..... (المندوب السامى البريطانى) وتعيين الجنرال اللبى .
أ كرومر ب نلسون ج ونجت د نوبار
- ٤ اعترف مؤتمر الصلح فى..... بالحماية البريطانية على مصر .
أ لندن ب برلين ج باريس د أمستردام
- ٥ اندلعت ثورة ١٩١٩ م فى..... وامتدت إلى كافة المدن والأقاليم .
أ السويس ب الإسكندرية ج الأقصر د القاهرة
- ٦ أرسلت بريطانيا وزير المستعمرات البريطانية..... لإقناع المصريين بقبول الحماية البريطانية .
أ كرومر ب ونجت ج كشنر د ملنر
- ٧ تم نفي سعد زغلول مرة أخرى إلى جزيرة :
أ مالطة ب سيشل ج شدوان د مدغشقر
- ٨ شكل..... أول وزارة برلمانية عُرفت بوزارة الشعب عام ١٩٢٤ م .
أ محمد فريد ب مصطفى كامل ج مصطفى النحاس د سعد زغلول
- ٩ قبلت وزارة..... المطالب البريطانية بعد مقتل السير لى ستاك .
أ رياض باشا ب زيور باشا ج شريف باشا د سعد زغلول
- ١٠ قام..... بتوقيع معاهدة ١٩٣٦ م مع الإنجليز وهو من ألغها .
أ سعد زغلول ب محمد فريد ج مصطفى النحاس د مصطفى كامل
- ١١ ادعت..... وحلفاؤها أنهم يحاربون من أجل حرية الشعوب واستقلالها .
أ ألمانيا ب إيطاليا ج اليابان د إنجلترا
- ١٢ اعترف الرئيس..... ولسن بالحماية البريطانية على مصر .
أ الإيطالى ب الألمانى ج الأمريكى د التركى

- ١٣ رفض الشعب المصرى التفاوض مع لجنة..... وقاطعها .
 أ كيرزون ب كرومر ج ملنر د اللبى
- ١٤ رفض الشعب المصرى الدستور الذى قدمه عام ١٩٣٠ م .
 أ سعد زغلول ب مصطفى النحاس
 ج إسماعيل صدقى د مصطفى كامل
- ١٥ تم إلغاء الامتيازات الأجنبية فى مؤتمر ١٩٣٧ م .
 أ مدريد ب الأستانة ج سان ريمو د مونترو
- ١٦ بعد حادثة ٤ فبراير ١٩٤٢ م تشكلت الحكومة المصرية برئاسة :
 أ محمد فريد ب سعد زغلول ج إسماعيل صدقى د مصطفى النحاس
- ١٧ حدث فى اليوم التالى لأحداث الشرطة فى ٢٥ يناير ١٩٥٢ م .
 أ حريق القاهرة ب حادثة دنشواى
 ج احتلال فلسطين د حريق الإسكندرية
- ١٨ عقب انتهاء الحرب العالمية الأولى فى نوفمبر ١٩١٨ م تألف وفد مصرى من أعضاء
 برئاسة سعد زغلول .
 أ مجلس شورى النواب ب الجمعية العمومية
 ج الجمعية التشريعية د مجلس الشيوخ
- ١٩ كان نفى سعد زغلول وزملائه إلى جزيرة سبباً فى إشعال ثورة ١٩١٩ م .
 أ مالطة ب كريت ج قبرص د سيلان
- ٢٠ من عوامل قيام ثورة ١٩١٩ م إعلان الرئيس الأمريكى المبادئ الأربعة عشر .
 أ جورج بوش ب أوباما ج كسنجر د ولسن
- ٢١ نتيجة لثورة ١٩١٩ م تم عزل المعتمد البريطانى :
 أ اللورد كرومر ب السير ونجت ج الجنرال اللبى د اللورد ملنر
- ٢٢ قدّم عدلى يكن رئيس الحكومة المصرية استقالته بعد فشل مفاوضاته مع وزير خارجية
 بريطانيا .
 أ اللورد ملنر ب السير ونجت ج بلفور د كيرزون
- ٢٣ أعلن نفسه ملكاً على مصر بعد تصريح ١٨ فبراير ١٩٢٢ م .
 أ السلطان فؤاد ب السلطان حسين كامل
 ج الخديو عباس حلمى الثانى د الخديو توفيق

- ٢٤ أبرز عيوب دستور ١٩٢٣ م أنه أعطى للملك حق :
 أ رئاسة الوزراء ب حل البرلمان ج احترام الحريات العامة
 د المساواة بين جميع المصريين في الحقوق والواجبات
- ٢٥ بعد استقالة وزارة سعد زغلول تألفت وزارة جديدة برئاسة :
 أ زيور باشا ب مصطفى النحاس ج إسماعيل صدقي د عبد الخالق ثروت
- ٢٦ قامت وزارة بإلغاء دستور ١٩٢٣ م ووضع دستور ١٩٣٠ م .
 أ مصطفى النحاس ب شريف باشا ج إسماعيل صدقي د عبد الخالق ثروت
- ٢٧ اضطر إلى إلغاء دستور ١٩٣٠ م وإعادة دستور ١٩٢٣ م .
 أ الملك فاروق ب الملك فؤاد ج زيور باشا د مصطفى النحاس
- ٢٨ نصت معاهدة ١٩٣٦ م على مساعدة بريطانيا لمصر للانضمام لـ :
 أ هيئة الأمم المتحدة ب عصبة الأمم ج مؤتمر الصلح د مؤتمر مونترو
- ٢٩ قامت الدبابات البريطانية بمحاصرة قصر وهددت بخلع الملك فاروق .
 أ القبة ب رأس التين ج عابدين د الجوهرة
- ٣٠ عرضت الحكومة المصرية قضية جلاء القوات البريطانية الكامل في عام ١٩٤٧ م على :
 أ عصبة الأمم ب مجلس الأمن ج مؤتمر الصلح د مؤتمر مونترو
- ٣١ معتمد بريطاني رفض السماح للوفد المصري بالسفر إلى باريس لحضور مؤتمر الصلح :
 أ السير ونجت ب اللورد كرومر ج السير اللنبي د ملنر
- ٣٢ أصبح المندوب السامي البريطاني في مصر بعد عزل السير ونجت .
 أ اللورد كرومر ب السير اللنبي ج ملنر د كيرزون
- ٣٣ أعلن نفسه ملكًا على مصر بعد تصريح ٢٨ فبراير ١٩٢٢ م .
 أ الملك فاروق ب الملك فؤاد ج الملك حسين كامل د الخديو توفيق
- ٣٤ قام بتشكيل لجنة من ثلاثين عضوًا لإعداد دستور ١٩٢٣ م .
 أ سعد زغلول ب أحمد زيو ج عبد الخالق ثروت د إسماعيل راغب
- ٣٥ القائد العام للجيش المصري والحاكم العام للسودان وتم اغتياله في نوفمبر ١٩٢٤ م ، هو :
 أ ونجت ب السير لى ستاك ج أحمد عرابي د اللنبي
- ٣٦ حاصرت الدبابات البريطانية في قصر عابدين وهددت بخلعه عن عرش مصر .
 أ الملك فاروق ب الملك فؤاد ج الخديو توفيق د الخديو إسماعيل

السؤال الثاني : بم تفسر ... ؟

- ١ مقابلة أعضاء الجمعية التشريعية للسير ونجت بعد انتهاء الحرب العالمية الأولى ١٩١٨ م .
- ٢ نفى سعد زغلول وزملائه إلى جزيرة مالطة في مارس ١٩١٩ م .
- ٣ قيام ثورة ١٩١٩ م .
- ٤ كانت ثورة ١٩١٩ م ثورة شعبية شاملة .
- ٥ مقاطعة الشعب المصرى للجنة ملتر .
- ٦ رفض الشعب المصرى مشروع المعاهدة التى انتهت إليها مفاوضات سعد وملتر .
- ٧ فشل مفاوضات عدلى / كيرزون ١٩٢١ م .
- ٨ إصدار بريطانيا تصريح ٢٨ فبراير ١٩٢٢ م .
- ٩ لم يحقق تصريح ٢٨ فبراير الاستقلال الكامل لمصر .
- ١٠ استقالة وزارة سعد زغلول فى نوفمبر ١٩٢٤ م .
- ١١ رفض الشعب المصرى لدستور ١٩٣٠ م .
- ١٢ لم يؤدّ تعدد الأحزاب بعد دستور ١٩٢٣ لإثراء الحياة النيابية فى مصر .
- ١٣ عقد معاهدة ١٩٣٦ م بين مصر وبريطانيا .
- ١٤ حدوث خلافات بين الحكومة المصرية وبريطانيا عقب اندلاع الحرب العالمية الثانية ١٩٣٩ م .
- ١٥ محاصرة الدبابات البريطانية لقصر عابدين فى ٤ فبراير ١٩٤٢ م .
- ١٦ حريق القاهرة فى ٢٦ يناير ١٩٥٢ م .

السؤال الثالث : ما النتائج المترتبة على ... ؟

- ١ رفض السير ونجت مطالب الوفد المصرى بالسفر لباريس لحضور مؤتمر الصلح .
- ٢ ثورة ١٩١٩ م .
- ٣ فشل مفاوضات عدلى / كيرزون ١٩٢١ م .
- ٤ نفى سعد زغلول للمرة الثانية إلى جزيرة سيشل .
- ٥ صدور تصريح ٢٨ فبراير ١٩٢٢ م .
- ٦ اغتيال السير لى ستاك فى نوفمبر ١٩٢٤ م .
- ٧ استقالة وزارة سعد زغلول فى نوفمبر ١٩٢٤ م .
- ٨ صدور دستور ١٩٣٠ م .
- ٩ اعتراض الشعب المصرى على دستور ١٩٣٠ م .

- ١٠ معاهدة ١٩٣٦ م .
- ١١ حادث ٤ فبراير ١٩٤٢ م .
- ١٢ إلغاء مصطفى النحاس معاهدة ١٩٣٦ في أكتوبر ١٩٥١ م .
- ١٣ حصار القوات البريطانية مبنى محافظة الإسماعيلية في ٢٥ يناير ١٩٥٢ م .

السؤال الرابع : دلل تاريخيًا على كل عبارة مما يأتي :

- ١ لم تكن قرارات مؤتمر الصلح في صالح مصر .
- ٢ لم يكن الرئيس الأمريكي ولسن صادقًا في مبادئه .
- ٣ تجلى الوعي المصرى أثناء مجيء لجنة ملنر .
- ٤ كان لدستور ١٩٢٣ م العديد من المزايا والعيوب .
- ٥ كان لمعاهدة ١٩٣٦ م العديد من المزايا والعيوب .

السؤال الخامس : ما العلاقة بين ... ؟

- ١ مقاطعة الشعب المصرى للبضائع الإنجليزية ونفى سعد زغلول للمرة الثانية .
- ٢ تصريح ٢٨ فبراير ١٩٢٢ م ووزارة سعد زغلول .
- ٣ الامتيازات الأجنبية ومؤتمر مونتر و ١٩٣٧ م .
- ٤ معاهدة ١٩٣٦ م وانضمام مصر لعصبة الأمم .

أسئلة وردت في امتحانات المحافظات على الدرس الرابع



(مجاب عنها)

السؤال الأول : اختر الإجابة الصحيحة من بين الإجابات الآتية :

- ١ قامت وزارة بإلغاء دستور ١٩٢٣م وإعلان دستور ١٩٣٠م .
 أ محمد محمود ب إسماعيل صدقي ج سعد زغلول د رياض باشا
 (المنوفية ٢٠١٩)
- ٢ شكلت وزارة لجنة من ثلاثين عضواً لإعداد دستور ١٩٢٣م .
 أ سعد زغلول ب محمد محمود ج عبد الخالق ثروت د إسماعيل صدقي
 (المنوفية ٢٠١٨)
- ٣ شكل أول وزارة برلمانية عام ١٩٢٤م .
 أ محمد محمود ب سعد زغلول ج مصطفى النحاس د عدلى يكن
 (القاهرة ٢٠١٨)
- ٤ انضمت مصر ل عقب معاهدة ١٩٣٦م .
 أ مجلس الأمن ب عصبة الأمم ج الجامعة العربية د الأمم المتحدة
 (الجيزة ٢٠١٨)
- ٥ ازداد نفوذ القصر الملكي منذ اعتلاء الملك العرش .
 أ فؤاد ب حسين كامل ج فاروق د عباس حلمي
 (الشرقية ٢٠١٩)
- ٦ تم إلغاء الامتيازات الأجنبية وفقاً لمؤتمر عام ١٩٣٧م .
 أ مونترو ب الصلح ج برلين د سان ريمو
 (الجيزة ٢٠١٩)
- ٧ حصل حزب على الأغلبية في الانتخابات العامة وفقاً لدستور ١٩٢٣م .
 أ الوفد ب الأحرار ج الوطني د الأمة
 (دمياط ٢٠١٨)
- ٨ اعترفت بريطانيا بمصر كدولة مستقلة ذات سيادة بمقتضى :
 أ لجنة ملنر ب تصريح ٢٨ فبراير ١٩٢٢
 ج معاهدة ١٩٣٦م د حادث ٤ فبراير ١٩٤٢م
 (الغربية ٢٠١٨)
- ٩ لم يتخذ قراراً في قضية مصر ، وتركها معلقة عام ١٩٤٧م .
 أ مجلس الأمن ب عصبة الأمم
 ج مجلس الجامعة العربية د المجلس المحلي
 (دمياط ٢٠١٩)
- ١٠ سافر الزعيم إلى باريس لعرض قضية استقلال مصر على مؤتمر الصلح . (بورسعيد ٢٠١٩)
 أ سعد زغلول ب أحمد عرابي ج مصطفى كامل د محمد فريد
- ١١ أدار المفاوضات مع الإنجليز وانتهت بالتوقيع على معاهدة ١٩٣٦م .
 (كفر الشيخ ٢٠١٩ / القاهرة ٢٠١٩)
 أ سعد زغلول ب مصطفى كامل ج مصطفى النحاس د إسماعيل صدقي
- ١٢ استقالت وزارة سعد زغلول عقب مقتل في نوفمبر ١٩٢٤م .
 (القليوبية ٢٠١٩)
 أ السير ونجت ب اللورد كرومر ج السير لى ستاك د اللبني

السؤال الثاني : بم تفسر ... ؟

- ١ القبض على سعد زغلول وزملائه في مارس ١٩١٩ م ونفيهم إلى جزيرة مالطة . (القاهرة ٢٠١٩)
- ٢ إرسال بريطانيا لجنة برئاسة اللورد ملنر إلى مصر . (القاهرة ٢٠١٦)
- ٣ تضمنت معاهدة ١٩٣٦ م عدة مزايا لمصر . (سوهاج ٢٠١٦)
- ٤ معارضة الشعب لدستور ١٩٣٠ م . (أسوط ٢٠١٨)
- ٥ قيام ثورة ١٩١٩ م . (المنوفية ٢٠١٨)
- ٦ إلغاء إسماعيل صدقي دستور ١٩٢٣ م . (الشرقية ٢٠١٨)
- ٧ تعدد الأحزاب السياسية لم يُثر الحياة النيابية في مصر . (المنوفية ٢٠٢٠)

السؤال الثالث : ما النتائج المترتبة على ... ؟

- ١ تصريح ٢٨ فبراير ١٩٢٢ م . (بورسعيد ٢٠١٩)
- ٢ معاهدة ١٩٣٦ م . (المنوفية ٢٠١٨)

السؤال الرابع : دلل تاريخياً على صحة العبارات الآتية :

- ١ عمل الإنجليز منذ احتلالهم لمصر على فرض سيطرتهم على البلاد سياسياً . (بورسعيد ٢٠١٩)
- ٢ لجنود الشرطة المصرية دور ضد الاحتلال البريطاني في ٢٥ يناير ١٩٥٢ م . (بورسعيد ٢٠١٩)
- ٣ مؤتمر الصلح في باريس أصاب الوفد المصري بإحباط كبير . (المنوفية ٢٠١٨)
- ٤ تضمن دستور ١٩٢٣ م بعض المبادئ الإيجابية . (الجيزة ٢٠١٩)

السؤال الخامس : ماذا يحدث إذا ... ؟

- ١ نجح الشعب المصري في عدم قبول تصريح ٢٨ فبراير ١٩٢٢ م . (المنوفية ٢٠١٩)
- ٢ لم تعقد معاهدة بين بريطانيا ومصر . (القاهرة ٢٠١٨)
- ٣ لم يقاطع الشعب المصري لجنة ملنر . (الشرقية ٢٠١٨)

السؤال السادس : أكمل الجدول التالي باسم الوزارة المناسبة :

اسم الوزارة	العمل
	١ شكلت لجنة من ٣٠ عضواً لإصدار دستور ١٩٢٣ م .
	٢ قبلت مطالب اللورد اللنبى وسحبت الجيش المصري من السودان .
	٣ ألغت دستور ١٩٢٣ م وأصدرت دستور ١٩٣٠ م .
	٤ تشكلت بعد حادثة ٤ فبراير ١٩٤٢ م .

السؤال السابع : ما العلاقة بين ... ؟

- ١ مصر وبريطانيا بعد معاهدة ١٩٣٦ م . (بورسعيد ٢٠١٩)
٢ السير ونجت (المعتمد البريطانى) وتأسيس الوفد المصرى . (المنوفية ٢٠١٩)

السؤال الثامن : « عرضت قضية استقلال مصر وجلاء القوات البريطانية عنها مرتين على

هيئتين عام ١٩١٩ م ، ١٩٤٧ م . « فى ضوء هذه العبارة وضح : (الغربية ٢٠١٩)

- ١ ما اسم الهيئتين ؟
٢ ماذا كان سيحدث إذا نجحت المفاوضات المصرية فى كلتا المرتين ؟

السؤال التاسع : ما رأيك فى ... ؟

- ١ تعدد الأحزاب السياسية منذ دستور ١٩٢٣ م وحتى قيام ثورة ١٩٥٢ م . (الإسكندرية ٢٠١٨)
٢ رفض جنود الشرطة المصرية بالإسماعيلية التسليم للاحتلال البريطانى ونزع سلاحهم فى ٢٥ يناير ١٩٥٢ م . (القاهرة ٢٠١٩)
٣ موقف الشعب المصرى من لجنة ملنر ديسمبر ١٩١٩ م . (كفر الشيخ ٢٠١٨)

السؤال العاشر : وضح :

- ١ أهم نصوص معاهدة ١٩٣٦ م . (بورسعيد ٢٠١٦)
٢ مطالب الوفد المصرى عقب الانتهاء من الحرب العالمية الأولى من السير ونجت . (بورسعيد ٢٠١٩)
٣ المتغيرات الداخلية بعد معاهدة ١٩٣٦ م . (الإسكندرية ٢٠١٨)
٤ العلاقة بين إلغاء مصطفى النحاس لمعاهدة ١٩٣٦ م وحصار بريطانيا لمبنى محافظة الإسماعيلية فى ٢٥ يناير ١٩٥٢ م . (الإسماعيلية ٢٠١٧)
٥ اسم الهيئتين الدوليتين اللتين عُرضت عليهما قضية استقلال مصر وجلاء القوات البريطانية عنها فى ١٩١٩ م و ١٩٤٧ م . (الشرقية ٢٠١٩)
٦ أسباب الخلاف بين حكومة مصر والإنجليز عقب اندلاع الحرب العالمية الثانية . (الدقهلية ٢٠١٧)

اختبار المتفوقين على الدرس الرابع



(يجب عنه الطالب)

السؤال الأول : اختر الإجابة الصحيحة من بين الإجابات الآتية :

- ١ أكثر الثورات المصرية تديماً للوحدة الوطنية ، هي ثورة :
أ القاهرة الأولى ب القاهرة الثانية ج ١٩١٩ م د الشعب ضد خورشيد
- ٢ كان ضغط الشعب المصرى على بريطانيا عام ١٩٢١ م ضغطاً :
أ سياسياً ب اقتصادياً ج اجتماعياً د عسكرياً
- ٣ هناك علاقة بين عيوب معاهدة ١٩٣٦ م و :
أ دخول مصر عصبة الأمم ب حادثة ٤ فبراير ١٩٤٢ م
ج مؤتمر مونترو د نظام الاحتكار

السؤال الثانى : أيد بالأدلة التاريخية صحة العبارات الآتية :

- ١ دستور ١٩٢٣ م كان سلاحاً ذا حدين بالنسبة للمصريين .
- ٢ تجلى الوعى الوطنى فى ديسمبر ١٩١٩ م .
- ٣ كانت معاهدة ١٩٣٦ م نقطة تحول فى العلاقات المصرية البريطانية .
- ٤ كان لمؤتمر مونترو ١٩٣٧ م دور كبير فى التخلص من القيود الأجنبية فى مصر .
- ٥ لم تكن سلطات الاحتلال البريطانى على وفاق مع الملك فاروق .

السؤال الثالث : ما العلاقة بين ... ؟

- ١ تصريح ٢٨ فبراير ١٩٢٢ م وتغيير نظام الحكم فى مصر .
- ٢ دستور ١٩٢٣ م وحزب الوفد .
- ٣ معاهدة ١٩٣٦ م والمنظمات الدولية .

.....
١٠

اختبار الشاطر التراكمي على ما سبقت دراسته



(يجب عنه الطالب)

.....
٥

السؤال الأول : اختر الإجابة الصحيحة من بين الإجابات الآتية :

- ١ قام بإلغاء دستور ١٩٢٣ م ووضع مكانه دستور ١٩٣٠ م .
- أ سعد زغلول ب إسماعيل صدقي ج راغب باشا د مصطفى النحاس
- ٢ أراد تعطيل الملاحة في قناة السويس ١٨٨٢ م .
- أ ديليسبس ب نلسون ج كليبر د أحمد عرابي
- ٣ أعلن الرئيس مبدأ حق الشعوب (المحتملة) في تقرير مصيرها .
- أ الفرنسي ب الأمريكي ج الإنجليزي د الروسي
- ٤ نُفى سعد زغلول إلى جزيرة عام ١٩٢١ م .
- أ مالطة ب سيشل ج مدغشقر د جاوة
- ٥ تم إرسال إنجلترا لجنة ملنر بعد :
- أ استقالة وزارة سعد زغلول ب تأليف وزارة زيور باشا
- ج مؤتمر الصلح د تولى مصطفى النحاس الوزارة

.....
٢

السؤال الثاني : ماذا كان يحدث إذا ... ؟

١ لم يتم اغتيال السير لى ستاك عام ١٩٢٤ م .

٢ لم يقاطع الشعب المصرى لجنة ملنر .

.....
٣

السؤال الثالث : قارن بين :

■ ثورة ١٩١٩ م والثورة العرابية ، من حيث :


١ الأسباب . ٢ النتائج . ٣ زعيم الثورة .



أهم المفاهيم التي وردت بالوحدة الرابعة :

المفهوم	المعنى
١ - احتلال	الاستيلاء على أرض الغير بالقوة .
٢ - الحماية البريطانية	خضوع مصر المطلق للاحتلال البريطاني .

احرص على اقتناء



الشاطر في الدراسات الاجتماعية

المراجعة والتدريبات على الأسئلة
و الامتحانات بنظام البوكليت
للشهادة الإعدادية

١٩٣

• بعض امتحانات المحافظات لعام ٢٠٢٣ م (معدلة بنظام البوكليت) .

٢٣٨

• أطلس لأهم الخرائط .

٢٥٩

• الإجابات الاسترشادية .

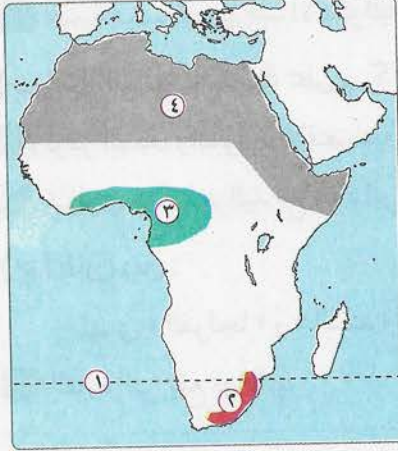
بعض امتحانات المحافظات لعام ٢٠٢٣ م (معدلة بنظام البوكليت)

(مجاب عنها)

(١) محافظة القاهرة : مديرية التربية والتعليم

أولاً : الجغرافيا

السؤال الأول : (أ) أمامك خريطة صماء لقارة إفريقيا ، وضح مدلول الأرقام التي عليها :



- ١ دائرة عرض رئيسية
- ٢ جبال
- ٣ إقليم نباتي
- ٤ السلالة

(ب) اختر الإجابة الصحيحة من بين الإجابات الآتية :

- ١ من قارات العالم الجديد في نصف الكرة الشرقي :
 - أ أمريكا الشمالية
 - ب أمريكا الجنوبية
 - ج آسيا
 - د أستراليا
- ٢ أكبر بحر مغلق في العالم هو :
 - أ البحر الأحمر
 - ب البحر المتوسط
 - ج بحر قزوين
 - د البحر الكاريبي
- ٣ يظهر مناخ في جميع القارات المأهولة بالسكان .
 - أ الإقليم الصحراوي
 - ب إقليم البحر المتوسط
 - ج الإقليم الموسمي
 - د الإقليم الاستوائي
- ٤ يوجد في قارة آسيا أكبر دولتين في العالم من حيث عدد السكان ، وهما :
 - أ الصين واليابان
 - ب الصين والهند
 - ج الهند واليابان
 - د الهند وباكستان
- ٥ تقع هضبة لبرادور في شمال شرق قارة :
 - أ أستراليا
 - ب آسيا
 - ج أمريكا الشمالية
 - د أمريكا الجنوبية
- ٦ من أشجار الغابات المخروطية :
 - أ البلوط
 - ب الزان
 - ج الصنوبر
 - د الماهوجني
- ٧ ينتمي معظم سكان دول شمال أوروبا إلى :
 - أ الهنود الحمر
 - ب المجموعة النوردية الشمالية
 - ج جماعة التنجوس
 - د البانتو

٨ تؤثر الغابات الموسمية سلباً على توزيع السكان فى :

- أ غرب أوروبا ب جنوب إفريقيا ج شرق أوروبا د شمال أستراليا

السؤال الثانى : (أ) بم تفسر ... ؟

- ١ ضيق السهول الساحلية فى أمريكا الجنوبية غرباً .
٢ ارتفاع نسبة المتعلمين فى مصر .
٣ أهمية هضبة البحيرات الاستوائية .
٤ امتداد جميع الأقاليم المناخية فى قارة آسيا .
(ب) ما النتائج المترتبة على ... ؟
١ تركز المدن والموارد الاقتصادية بالساحل الشرقى للولايات المتحدة .
٢ تساوى عدد المواليد مع عدد الوفيات فى قارة أوروبا .

(ج) قارن بين :

- نهري « الفولجا » و « السند » من حيث :
١ القارة التى يقع بها النهر .
٢ المصب الذى يصب فيه كل نهر .

ثانياً : التاريخ

السؤال الثالث : (أ) اختر الإجابة الصحيحة من بين الإجابات الآتية :

- ١ هزم السلطان العثماني سليم الأول فى موقعة مرج دابق .
أ المماليك ب الصفويين ج الإنجليز د الفرنسيين
٢ أنشئت المحاكم بسبب عيوب المحاكم القنصلية .
أ الدولية ب المحلية ج المختلطة د الشرعية
٣ لم تحقق الحملة التى أرسلتها على مصر عام ١٧٩٨م أهدافها العسكرية .
أ بريطانيا ب فرنسا ج ألمانيا د تركيا
٤ اتجه الخديو إلى التوسع فى إنشاء مصانع السكر فى الوجه القبلى .
أ توفيق ب إسماعيل ج فؤاد د عباس حلمى
٥ حاكم جنوب الشام الذى تحالف مع على بك الكبير :
أ طومان باى ب محمد الألفى ج ظاهر العمر د محمد بك أبو الذهب
٦ شرع نابليون فى تحصين القاهرة بعد :
أ ثورة القاهرة الأولى ب معركة أبى قير ج معركة شبراخيت د ثورة القاهرة الثانية

٧ دعا محمد فريد إلى إنشاء :

١ الحزب الوطني ٢ نقابات للعمال ٣ الجامعة المصرية ٤ حزب الوفد

٨ ترتب على استقالة سعد زغلول تأليف وزارة جديدة برئاسة :

١ شريف باشا ٢ محمود سامي البارودي

٣ زيور باشا ٤ عدلي يكن

(ب) أكمل الجدول التالي :

وجه المقارنة	معركة إمامية	معركة كفر الدوار
أطراف المعركة	(١)	(٢)
نتيجة واحدة لكل منها	(٣)	(٤)
تقييمك لقادة كل معركة	(٥)	(٦)

السؤال الرابع : (أ) ماذا كان يحدث إذا ... ؟

١ لم تخضع مصر للحكم العثماني طوال أربعة قرون متتالية .

٢ لم يستغل مصطفى كامل حادثة دنشواي للتنديد بالاحتلال .

(ب) استنتج العلاقة بين كل من :

١ الحملة الفرنسية على مصر والتاريخ المصري القديم .

٢ السلطان العثماني و فشل الثورة العربية .

(ج) « سعى محمد علي باشا إلى بناء مصر الحديثة للخروج بها من العزلة » . في ضوء العبارة

السابقة أجب عما يلي :

١ وضح :

• دور الزعامة الشعبية في تولية محمد علي .

٢ بم تفسر ... ؟

• ازدهار التجارة في عهد محمد علي .

٣ دلل تاريخياً على :

• ارتفاع مكانة مصر دولياً بسبب حروب اليونان ١٨٢١م - ١٨٢٨م .

(٢) محافظة الجيزة : مديرية التربية والتعليم

أولاً : الجغرافيا

السؤال الأول : (أ) أمامك خريطة صماء للأمريكتين ، وضح مدلول الأرقام التي عليها :



- ١ خليج
- ٢ مصب نهر أورينكو
- ٣ جبال
- ٤ حدد الإقليم المناخى للمنطقة المظللة فى القارتين

(ب) اختر الإجابة الصحيحة من بين الإجابات الآتية :

- ١ أهم جزر قارة إفريقيا جزيرة :
أ أيسلندا
ب الملايو
ج تسمانيا
د مدغشقر
- ٢ تستطيع مشاهدة جبال طوروس إذا زرت دولة :
أ الصين
ب لبنان
ج تركيا
د الأردن
- ٣ تنمو فى إقليم المناخ المعتدل البارد أشجار :
أ جوز الهند
ب الصنوبر
ج البلوط
د الماهوجنى
- ٤ ينتمى الأقزام إلى السلالة :
أ الزنجية
ب الصفراء
ج القوقازية
د المغولية
- ٥ جزيرة بقارة آسيا من أكثر مناطق العالم ازدحاماً بسبب خصوبة التربة .
أ مدغشقر
ب جاوة
ج تسمانيا
د مالطة
- ٦ يقل عدد السكان بدولة فى قارة أوروبا بسبب عامل المناخ .
أ إيطاليا
ب فنلندا
ج ألمانيا
د فرنسا
- ٧ يتركز السكان فى مدينة بأستراليا .
أ برلين
ب سيدنى
ج لندن
د طوكيو
- ٨ تتميز قارة أوروبا ب :
أ استقامة سواحلها
ب تعرج سواحلها
ج اتساع مساحتها
د مناخها المدارى

- ٩ يفصل جزر إندونيسيا عن قارة بحر آرافورا .
أ إفريقيا ب أوروبا ج أستراليا د أمريكا الشمالية
- ١٠ يمتد بحر الرمال العظيم بين دولتي :
أ مصر والسعودية ب مصر وليبيا ج مصر والسودان د ليبيا وتونس
- ١١ يرجع انتشار الإنسان في قارات العالم القديم إلى أواخر عصر :
أ الميوسين ب البلايستوسين ج الإليجوسين د الكمبري

السؤال الثاني : (أ) بم تفسر ... ؟

- ١ تعرف هضبة التبت بسقف العالم .
٢ قلة أهمية أنهار أوب وينسى ولينا في فصل الشتاء .
٣ تعتبر حشائش السافانا حديقة حيوان طبيعية .
٤ ارتفاع معدلات الموالييد في قارة إفريقيا بشكل كبير .
- (ب) « تختلف الخصائص الاقتصادية لسكان العالم وفقاً لتنوع الأنشطة التي يقوم بها السكان في كل دولة » . في ضوء العبارة السابقة أجب عما يلي :
- ١ صنف الدول الآتية من حيث الدخل :
المكسيك . الكونغو .
- ٢ قارن بين :
قوة العمل في الدول المتقدمة والدول النامية من حيث النشاط الاقتصادي .

ثانياً : التاريخ

السؤال الثالث : (أ) اختر الإجابة الصحيحة من بين الإجابات الآتية :

- ١ تجنب السلطان سليم الأول الصدام مع لتفوقهم حضارياً وعسكرياً .
أ الصفويين ب المماليك ج الأوربيين د الفرس
- ٢ الاتفاقية التي عقدت بين الفرنسيين والعثمانيين عام ١٨٠٠م ورفضتها الحكومة البريطانية ، هي :
أ معاهدة لندن ب معاهدة العريش ج معاهدة كامب ديفيد د معاهدة فرساي
- ٣ قام محمد علي بإنشاء على النيل لتحسين طرق الري .
أ السد العالي ب القناطر الخيرية ج ترعة الإسماعيلية د قناة السويس
- ٤ أغلقت في عهد معظم المدارس ومُعظم المصانع وتم تخفيض حجم الجيش .
أ محمد علي ب سعيد باشا ج عباس حلمي باشا د الخديو إسماعيل

- ٥ قام الخديو إسماعيل بتوجيه الحملات الحربية إلى لمنع تجارة الرقيق .
أ المناطق الاستوائية ب شمال أوروبا ج شرق آسيا د شمال إفريقيا
- ٦ تعرضت دولة المماليك لتدهور اقتصادى نتيجة اكتشاف طريق :
أ قناة السويس ب الحرير ج رأس الرجاء الصالح د قناة سيزوستريس
- ٧ فشلت قوات الحملة الفرنسية على مصر فى إخضاع أهالى :
أ الإسكندرية ب إمبابة ج القاهرة د الصعيد
- ٨ اجتمع زعماء الشعب بدار المحكمة وقرروا عزل عام ١٨٠٥ م .
أ طاهر باشا ب البرديسى باشا ج خورشيد باشا د محمد على باشا
- ٩ جاءت شروط عقد الامتياز الثانى لحفر قناة السويس مجحفة ل :
أ فرنسا ب مصر ج إنجلترا د ألمانيا
- ١٠ أنشئت المحاكم بهدف الحد من مساوئ المحاكم القنصلية .
أ الشرعية ب المختلطة ج العسكرية د التجارية
- (ب) أيد بالأدلة التاريخية صحة العبارات الآتية :
١ تطلع البكوات المماليك إلى حكم مصر عام ١٧٦٨ م .
٢ ازدهار النقل والمواصلات فى عهد محمد على .
٣ فرض الاحتلال البريطانى لمصر سياسة اقتصادية تخدم مصالحه .



السؤال الرابع : (أ) أمامك صورة لشخصية وطنية ،

وضح ما يلى :

- ١ اسم صاحب الصورة .
٢ حادثة قام باستغلالها عام ١٩٠٦ م للتنديد بالاحتلال البريطانى .
(ب) أمامك خريطة لخط سير القوات البريطانية إلى مصر عام ١٨٨٢ م ، وضح ما يلى :



- ١ مدينة انسحب إليها العربيون وأقاموا فيها الاستحكامات لمواجهة الجيش البريطانى .
٢ المعركة التى شهدت بطولات مصرية خالدة .

(ج) « استمر المصريون فى مواجهة الاحتلال البريطانى والكفاح من أجل الاستقلال » .

فى ضوء العبارة السابقة أجب عما يلى :

١ ما المقصود بـ ... ؟

• الحماية البريطانية .

٢ ما العلاقة بين ... ؟

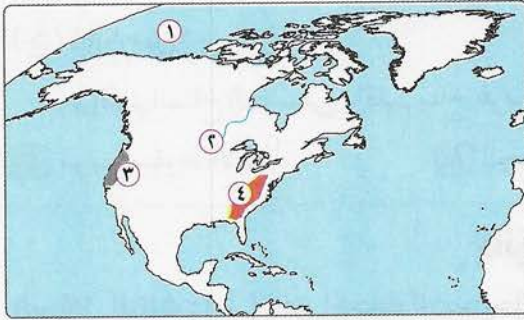
• نتائج معاهدة ١٩٣٦ م ومؤتمر مونتر و ١٩٣٧ م .

٣ ما الأثر الناتج عن ... ؟

• رفض جنود الشرطة المصرية التسليم لقوات الاحتلال البريطانى فى ٢٥ يناير ١٩٥٢ م .

(٣) محافظة القليوبية : مديرية التربية والتعليم

أولاً : الجغرافيا



السؤال الأول : (أ) أمامك خريطة صماء لقارة

أمريكا الشمالية ، وضح

مدلول الأرقام التى عليها :

١ مسطح مائى

٢ نهر

٣ إقليم مناخى

٤ جبال

(ب) اختر الإجابة الصحيحة من بين الإجابات الآتية :

١ موقع المكان سواء كان قارة أو دولة أو غيرهما بالنسبة للأماكن الأخرى ، يسمى الموقع :

أ الجغرافى ب الفلكى ج البحرى د الاستراتيجى

٢ العلم الذى يدرس السكان ونموهم وتوزيعهم وتركيبهم ، يسمى علم :

أ الجيولوجيا ب الديموجرافيا ج الجيومورفولوجيا د الخرائط

٣ سهول فيضية تمتد من الشمال إلى الجنوب فى قارة أمريكا الجنوبية ، وهى سهول نهر :

أ الأورينكو ب ساو فرانسيسكو ج لابلاتا د الأمزون

٤ يتركز سكان أستراليا على السواحل :

أ الشمالية ب الجنوبية ج الشرقية د الغربية

٥ من السلالات غير النقية :

- أ الإسكيمو
ب العرب
ج الأستريون الأصليون
د الهنود الحمر

٦ من الدول ذات الدخل الاقصادى فوق المتوسط :

- أ المكسيك
ب البرازيل
ج أوكرانيا
د باكستان

السؤال الثانى : (أ) ما العلاقة بين ... ؟

- ١ هضاب وسط وشرق إفريقيا ونهر النيل .
٢ معدلات تعليم الإناث وعادات وتقاليد بعض الشعوب .

(ب) ما النتائج المترتبة على ... ؟

- ١ زيادة عدد السكان فى معظم دول قارة آسيا .
٢ تساوى معدل المواليد مع معدل الوفيات فى قارة أوروبا .

(ج) قارن بين :

- إقليم المناخ الموسمى وإقليم مناخ غرب أوروبا ، من حيث :
١ موسم سقوط الأمطار .
٢ الخصائص النباتية .

ثانيًا : التاريخ

السؤال الثالث : (أ) اختر الإجابة الصحيحة من بين الإجابات الآتية :

- ١ كان تحطم الأسطول فى معركة ديو البحرية من عوامل التدهور الاقصادى للدولة :
أ الفرنسية
ب العثمانية
ج الصفوية
د المملوكية

٢ شعر الجنود الفرنسيون بأنهم محاصرون فى مصر نتيجة :

- أ ثورة القاهرة الأولى
ب ثورة القاهرة الثانية
ج معركة أبى قير البحرية
د معاهدة العريش

٣ من مظاهر اهتمام محمد على بتحسين الري حفر ترعة :

- أ الإبراهيمية
ب الإسماعيلية
ج المحمودية
د بحر يوسف

٤ أصبحت القوات البريطانية على مقربة من التل الكبير بعد احتلال عام ١٨٨٢ م .

- أ القاهرة
ب الإسكندرية
ج الإسماعيلية
د بورسعيد

٥ أغلقت معظم المدارس وتم تخفيض حجم الجيش فى عهد :

- أ سعيد باشا
ب عباس حلمى
ج محمد على
د الخديو إسماعيل



- ٦ تم تكليف محمود سامى البارودى بتشكيل الوزارة فى عهد الخديو :
١ توفيق ٢ إسماعيل ٣ سعيد ٤ عباس حلمى
- ٧ تم إلغاء دستور ١٩٢٣م وإعلان دستور ١٩٣٠م فى عهد :
١ الملك فاروق ٢ الملك فؤاد ٣ محمد نجيب ٤ جمال عبد الناصر
- ٨ تم عرض قضية جلاء القوات البريطانية عن مصر على مجلس الأمن فى عهد :
١ الملك فؤاد ٢ الملك فاروق ٣ عباس حلمى ٤ إبراهيم باشا
- ٩ تسمى ملكية الدولة للأراضى ممثلة فى السلطان وتتم زراعتها عن طريق تكليف الفلاحين باسم :
١ حق التوريث ٢ حق الانتفاع ٣ حق الزراعة ٤ الحق الشرعى
- ١٠ حروب خاضها محمد على ساعدت على نمو فكرة الانفصال عن الدولة العثمانية ، هى :
١ الحروب الداخلية ٢ حرب السودان ٣ الحروب الوهابية ٤ حرب المورة
- ١١ تم إنشاء المحاكم للفصل فى القضايا المدنية والمنازعات العقارية بين المصريين والأجانب .
١ القنصلية ٢ المختلطة ٣ العسكرية ٤ التجارية
- ١٢ طبقة هى طبقة اجتماعية ظهرت وارتبط نموها الاقصادى باستمرار الاحتلال البريطانى لمصر .
١ الأعيان ٢ علماء الأزهر ٣ الفلاحين ٤ الصناع
- (ب) أجب عما يلى :
١ ماذا كان يحدث إذا ... ؟
• فشل السلطان العثمانى سليم الأول فى الاستيلاء على إمارة ذى القادر المملوكية .
٢ ما رأيك فى ... ؟
• موقف الشعب المصرى من مشروع معاهدة لجنة ملنر .

السؤال الرابع : (أ) بم تفسر ... ؟

- ١ كان كبير من أنصار جلاء الحملة الفرنسية عن مصر .
٢ لم ترسخ بريطانيا بسهولة بعد تولية محمد على الحكم .
٣ حدوث الأزمة المالية فى عهد إسماعيل .
٤ فشل مؤتمر الأستانة ١٨٨٢م فى تنفيذ قراراته .

(ب) أجب عما يلي :

١ دلت تاريخياً على صحة العبارة التالية :

• للحملة الفرنسية إصلاحات فى الصناعة والزراعة .

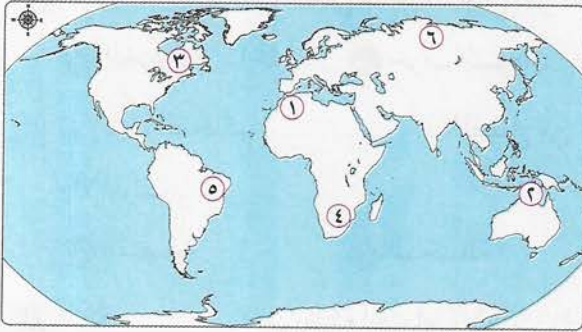
٢ ما النتائج المترتبة على ... ؟

• إدراك محمد على حاجة الجيش والأسطول إلى موظفين .

(٤) محافظة الإسكندرية : مديرية التربية والتعليم

أولاً : الجغرافيا

السؤال الأول : (أ) أمامك خريطة صماء للعالم ، وضح مدلول الأرقام التى عليها :



١ إقليم مناخى

٢ بحر

٣ سلالة بشرية

٤ جبال

٥ حشائش

٦ منطقة يقل بها السكان

(ب) اختر الإجابة الصحيحة من بين الإجابات الآتية :

١ قارة تتميز بكثرة الموانئ الطبيعية :

د آسيا

ج أوروبا

ب أمريكا الجنوبية

ا إفريقيا

٢ أحد أقسام السلالة الزنجية :

د الهوتتوت

ج الألبية

ب التنجوس

ا النوردية

٣ القارة التى تستأثر بأعلى دخل للفرد :

د الأوقيانوسية

ج أمريكا الجنوبية

ب أوروبا

ا أمريكا الشمالية

٤ توجد سهول نهر نلسن وسانت لورانس بقارة أمريكا الشمالية جهة :

د الجنوب الغربى

ج الشمال الغربى

ب الجنوب الشرقى

ا الشمال الشرقى

٥ تتميز قارة آسيا بكثرة أشباه الجزر مثل شبه جزيرة :

د إيبيريا

ج البلقان

ب الملايو

ا مدغشقر

٦ تعرضت السلالة للهجرات الإجبارية للأمريكتين .

د النوردية

ج الزنجية

ب الألبية

ا المغولية

- ٧ و أكبر دولتين فى العالم من حيث عدد السكان .
أ الصين/ اليابان ب الصين/ باكستان ج الصين/ الهند د الصين/ روسيا
- ٨ تمتد فى العراق وإيران سلاسل جبال :
أ طوروس ب زاجروس ج الهيمالايا د الألب

السؤال الثانى : (أ) بم تفسر ... ؟

- ١ ضيق السهول الساحلية فى شرق أستراليا .
٢ يتركز السكان بدرجة أقل فى دول شرق أوروبا .
٣ أهمية السهل الأوروبى العظيم .
- (ب) « أصبحت التغيرات المناخية أشد خطورة من الحروب على كوكب الأرض ، ويرجع ذلك لتأثير العامل البشرى بعد ما كان المناخ يخضع لتأثير الطبيعة فقط » . فى ضوء العبارة السابقة أجب عما يلى :
- ١ ما النتائج المترتبة على ... ؟
• ذوبان الجليد فى إقليم التندرا .
- ٢ دلل على صحة العبارة :
• يتشابه إقليم المناخ المدارى وإقليم المناخ الموسمى فى بعض الخصائص .
- ٣ ما رأيك فى ... ؟
• دور مصر فى مواجهة التغيرات المناخية .
- (ج) قارن بين :

• قارة أمريكا الشمالية وقارة أمريكا الجنوبية ، من حيث :

١ السهول الفيضية التى يتركز بها السكان .

٢ دول ذات دخل اقتصادى أقل من متوسط .

٣ سلالة نقية .

ثانياً : التاريخ

السؤال الثالث : (أ) اختر الإجابة الصحيحة من بين الإجابات الآتية :

- ١ بادر السلطان سليم الأول بالاستيلاء على إمارة :
أ الكوفة ب البصرة ج ذى القادر د الرها

- ٢ انحازت المحاكم للأجانب وتدخلت في سلطة القضاء التشريعي .
أ القنصلية ب العسكرية ج الشرعية د المختلطة
- ٣ فشلت لأن الظروف الدولية لم تكن في صالح الحركات الوطنية .
أ الثورة الفرنسية ب الثورة العراقية ج ثورة القاهرة الأولى د ثورة الشعب ضد خورشيد
- ٤ تُعد جزءاً من التنافس الاستعماري بين إنجلترا وفرنسا على المستعمرات .
أ الحملة الفرنسية على مصر ب معركة أبي قير البرية ج ثورة القاهرة د ثورة ١٩١٩م
- ٥ تولى المماليك في عهد منصب مشيخة البلد .
أ الخديو إسماعيل ب العثمانيين ج الاحتلال الفرنسي د الاحتلال البريطاني
- ٦ قبلت وزارة المطالب البريطانية بسحب الجيش المصري من السودان .
أ سعد زغلول ب مصطفى النحاس ج زيور باشا د عدلى يكن
- ٧ نمت فكرة محمد على للانفصال عن الدولة العثمانية في حروب :
أ السودان ب الشام ج الحجاز د اليونان
- ٨ بعد تولى اتخذ سياسة زادت من التدخل الأجنبي .
أ الخديو توفيق ب البارودي باشا ج محمد على د أحمد عرابي
- (ب) اذكر أوجه الشبه بين كل من :
• إجراءات محمد على وإجراءات مصر حالياً للنهوض بمصر .

السؤال الرابع : (أ) ما النتائج المترتبة على ... ؟

- ١ جمود الحياة الفكرية والثقافية خلال فترة الحكم العثماني .
٢ تحالف دول أوروبا ضد فرنسا أثناء تواجد الحملة الفرنسية في مصر .
٣ نظرة الشعب المصري لمحمد على كرجل عادل يكره الظلم .
٤ تفاوض ملنر مع الوفد المصري .
- (ب) أيد بالأدلة :
- ١ كان للحملة الفرنسية آثار بعيدة المدى على علاقة مصر بإفريقيا .
٢ أعاد محمد على تنظيم الإدارة بما يكفل له السيطرة الكاملة على شؤون البلاد .
٣ تغيرت سياسة الخديو عباس حلمي الثاني مما أثر على مطالب الحركة الوطنية .

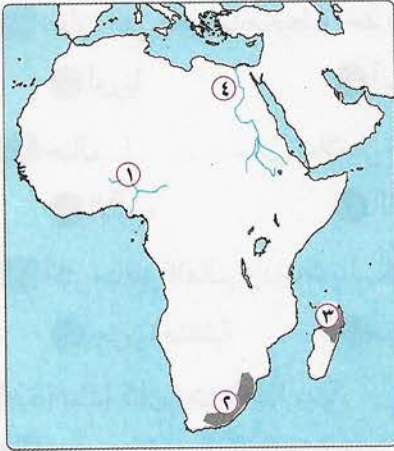
(ج) ما العلاقة بين ... ؟

- ١ معاهدة ١٩٣٦م ، والتغيرات الداخلية التي حدثت في مصر .
- ٢ تولى عباس باشا الأول حكم مصر ، وحركة النهضة التي ظهرت في عصر محمد علي .
- ٣ الأوضاع الداخلية في مصر ، وعقد مؤتمر الأستانة .

(٥) محافظة الشرقية : مديرية التربية والتعليم

أولاً : الجغرافيا

السؤال الأول : (أ) أمامك خريطة صماء لقارة إفريقيا ، وضح مدلول الأرقام التي عليها :



- ١ نهر
- ٢ إقليم مناخي
- ٣ سلالة بشرية
- ٤ منطقة تركيز سكاني

(ب) بم تفسر ... ؟

- ١ تختلف أهمية السهول الفيضية في شرق قارة آسيا عن شمالها .
- ٢ منطقة البراري بأمريكا الشمالية ذات قيمة اقتصادية .
- ٣ تعد قارة إفريقيا أقل قارات العالم في نصيب الفرد من الدخل القومي .

(ج) حدد أوجه الشبه بين :

- السهول الفيضية لنهر الكونغو ، والسهول الفيضية لنهر الأمازون .

السؤال الثاني : (أ) اختر الإجابة الصحيحة من بين الإجابات الآتية :

- ١ نستنتج من الموقع الفلكي لقارة آسيا تميزها ب :
 - أ زيادة عدد الدول
 - ب تنوع التضاريس
 - ج تنوع المناخ
 - د كثرة الجزر وأشبه الجزر
- ٢ في ضوء ما درست تنتشر السلالات الرئيسية الثلاث في كل قارة من قارات العالم ما عدا قارة :
 - أ أوروبا
 - ب آسيا
 - ج أمريكا الشمالية
 - د أستراليا
- ٣ تأثر توزيع السكان في شبه الجزيرة العربية ب :
 - أ الهجرات الداخلية
 - ب كثافة الغابات
 - ج اتساع المساحة
 - د الطابع التضاريسي

- ٤ يزداد عدد الأطباء بالنسبة للسكان بصورة كبيرة جداً في دولة :
أ الأردن ب النيجر ج روسيا د الإمارات
- ٥ تقع قارتا أمريكا الشمالية وأمريكا الجنوبية إلى من المحيط الهادى .
أ الشرق ب الجنوب ج الغرب د الشمال الغربى
- ٦ فى كل قارات العالم الجديد يتشابه مناخياً ونباتياً .
أ الشمال الغربى ب الجنوب الشرقى ج الجنوب د الغرب
- ٧ غالبية العرب ينتمون إلى السلالة :
أ الزنجية ب المغولية ج القوقازية د الألبية
- ٨ القارة التى يحيطها محيط واحد من جميع الجهات ، هى قارة :
أ أوروبا ب آسيا ج أمريكا الشمالية د أنتاركتيكا
- ٩ جبال هى سلاسل جبلية توجد بها أعلى قمة جبلية فى العالم .
أ الألب ب الفوج ج الهيمالايا د الإنديز
- ١٠ أكثر مناطق العالم ازدهاراً بالسكان وتوجد جنوب دائرة الاستواء بقارة آسيا :
أ جزيرة صقلية ب سهول الأمزون ج جزيرة جاوة د خليج غينيا

(ب) ماذا كان يحدث إذا ... ؟

- ١ تشابهت السهول الساحلية بقارة إفريقيا مع السهول الساحلية بقارة أوروبا .
٢ انخفضت فئة صغار السن فى مصر .

(ج) قارن بين :

- أعلى هضبة فى العالم وأعلى هضبة فى أمريكا الجنوبية ، من حيث : توزيع السكان .

ثانياً : التاريخ

السؤال الثالث : (أ) اختر الإجابة الصحيحة من بين الإجابات الآتية :

- ١ وصل النفوذ المصرى إلى ساحل البحر الأحمر بكامله فى عهد عام ١٨٧٥ م .
أ الخديو إسماعيل ب محمد على ج سعيد باشا د على بك الكبير
- ٢ تولى محمود سامى البارودى نظارة الجهادية للمرة الأولى فى وزارة :
أ راغب باشا ب رياض باشا ج نوبار باشا د شريف باشا
- ٣ اختلفت المقاومة فى التل الكبير عن كفر الدوار متأثرة ب :
أ كفاءة الأسلحة ب موقف السلطان العثمانى ج الظروف الدولية د الحماية البريطانية



- ٤ تمثل الأثر السلبي لوزارة إسماعيل صدتى فى :
أ إعادة المراقبة الثنائية
ب وضع دستور ١٩٣٠م
ج وضع دستور ١٩٢٣م
د سحب الجيش المصرى من السودان
- ٥ تغلبت الطبيعة الجغرافية على الأسلحة الحديثة فى حروب نابليون فى :
أ إمبابة
ب القاهرة
ج جنوب مصر
د الإسكندرية
- ٦ طالب بإنشاء مجلس نيابى جديد له سلطات واسعة .
أ محمد فريد
ب رياض باشا
ج عثمان رفقى
د مصطفى النحاس
- (ب) ما العلاقة بين ... ؟
١ تفوق أوروبا حضارياً وعسكرياً على العثمانيين ، وحروب العثمانيين فى الشرق .
٢ قيام الحرب العالمية الأولى ، وقيام ثورة عام ١٩١٩م .
(ج) ما رأيك فى ... ؟
• موقف مؤتمر الصلح فى باريس من القضية المصرية عام ١٩١٩م .

السؤال الرابع : (أ) بم تفسر ... ؟

- ١ إنشاء نابليون بونابرت للديوان العام وديوان القاهرة ودواوين الأقاليم .
٢ ساهمت سياسة محمد على تجاه ثورة المصريين عام ١٨٠٤م فى توليه السلطة فى مصر .
٣ لم يكن خلفاء محمد على فى مصر على شاكلته من حيث الوعى والكفاءة .
- (ب) ما الأثر الناتج عن ... ؟
١ انقسام القيادات الشعبية المصرية حول تقدير مكانة السيد عمر مكرم .
٢ إصدار محمد على لائحة جديدة سنة ١٨٣٧م .
٣ إنشاء المحاكم القنصلية .
- (ج) دلل على صحة العبارات الآتية :
١ تأثر وضع مصر السياسى بالصراع الاستعمارى الإنجليزى الفرنسى فى نهاية القرن الثامن عشر الميلادى .
٢ فرض الاحتلال البريطانى على مصر سياسة اقتصادية تهدف إلى خدمة مصالحه .
٣ حققت معاهدة ١٩٣٦م بين مصر وبريطانيا بعض المكاسب لمصر .

(٦) محافظة المنوفية : مديرية التربية والتعليم

أولاً : الجغرافيا

السؤال الأول : (أ) أمامك خريطة صماء لقارة إفريقيا ، وضح مدلول الأرقام التي عليها :



- ١ المحيط
- ٢ دائرة عرض
- ٣ هضبة
- ٤ إقليم المناخ

(ب) قارن بين :

• قارة آسيا وقارة أستراليا ، من حيث :

- ١ أهم جبال شرق كل قارة منهما .
- ٢ الإقليم المناخي في شرق الصين وفي جنوب غرب أستراليا .

(ج) اختر الإجابة الصحيحة من بين الإجابات الآتية :

- ١ يقصد ب..... موقع المكان بالنسبة للباس والماء .
- ٢ (أ) الموقع الجغرافي (ب) الموقع الفلكي (ج) الموقع الاستراتيجي (د) الإقليم المناخي
- ٣ عندما يتصف مجموعة من البشر بصفات جسمية متشابهة يسمى ذلك :
 - ١ سلالة بشرية
 - ٢ كثافة سكانية
 - ٣ عادات وتقاليد
 - ٤ حياة اجتماعية
- ٣ تضم قارة أستراليا مجموعة جزر في المحيط :
 - ١ الأطلنطي
 - ٢ الهادي
 - ٣ القطبي الشمالي
 - ٤ القطبي الجنوبي
- ٤ يجري نهر اليانغتسى في سهول :
 - ١ سيبيريا
 - ٢ شرق الصين
 - ٣ الهند
 - ٤ الأمازون
- ٥ قارة..... هي أقل قارات العالم سكاناً .
 - ١ آسيا
 - ٢ إفريقيا
 - ٣ أوروبا
 - ٤ أستراليا
- ٦ توجد أقل نسبة للسكان البالغين في قارة :
 - ١ آسيا
 - ٢ إفريقيا
 - ٣ أوروبا
 - ٤ أمريكا الشمالية

السؤال الثاني : (أ) بم تفسر ... ؟

- ١ كثرة الموانئ الطبيعية في قارة أوروبا .
- ٢ العرب ليسوا من سلالة واحدة .
- ٣ تركز سكان أمريكا الجنوبية في هضبة البرازيل وسواحلها .

(ب) ما العلاقة بين ... ؟

• أثيوبيا والنشاط الزراعى .

ثانيًا : التاريخ

السؤال الثالث : (أ) اختر الإجابة الصحيحة من بين الإجابات الآتية :

- ١ تحطم الأسطول المملوكى فى معركة :
أ مرج دابق ب الريدانية ج ديو البحرية د إمبابة
- ٢ بدأ التنافس الاستعمارى بين إنجلترا وفرنسا مع تطبيق العثمانيين فى مصر نظام :
أ الانتفاع ب الالتزام ج الاحتكار د الانفتاح
- ٣ عاد نابليون بونابرت إلى فرنسا سرًا أثناء معركة :
أ شبراخيت ب إمبابة ج أبى قير البحرية د أبى قير البرية
- ٤ سعت بريطانيا فى مطلع القرن التاسع عشر الميلادى لتولية حكم مصر لحلفائها من :
أ المماليك ب المصريين ج العثمانيين د الفرنسيين
- ٥ أسس محمد على مدرسة حرية فى :
أ بولاق ب أسوان ج دمياط د الإسكندرية
- ٦ هددت بريطانيا بخلعه عن عرش مصر عام ١٩٤٢ م :
أ محمد على ب الملك فؤاد ج عباس حلمى الثانى د الملك فاروق
- ٧ انتصر السلطان على المماليك فى مصر والشام وأصبحت مصر فى حكمه ولاية عثمانية .
أ عثمان بن أرطغرل ب محمد الفاتح ج سليم الأول د قنصوة الغورى
- ٨ قاد ثورة القاهرة الثانية ضد الفرنسيين .
أ محمد كريم ب عمر مكرم ج محمد عبده د أحمد الطيب
- ٩ أبعده محمد على عام ١٨٠٩ م ونفاه إلى دمياط :
أ أحمد عرابى ب رياض باشا ج عمر مكرم د مراد بك
- ١٠ أنشأ الديوان العالى ومجلس المشورة فى مصر .
أ شريف باشا ب محمد على ج الخديو إسماعيل د سعيد باشا
- ١١ أصدر مرسومًا بتأليف وزارة نوبار باشا عام ١٨٧٨ م .
أ محمد على ب سعيد باشا ج الخديو توفيق د الخديو إسماعيل

بعض امتحانات المحافظات لعام ٢٠٢٣ م (معدلة بنظام البوكليت)

١٢ تصدى بجنوده للجيش البريطانى عند التل الكبير عام ١٨٨٢ م .

أ أحمد عرابى ب سعد زغلول ج محمد عبيد د جمال عبد الناصر

(ب) ما رأيك فى ... ؟

• مقاطعة الشعب للمصرى لجنة ملنر عام ١٩١٩ م .

السؤال الرابع : (أ) ما النتائج المترتبة على ... ؟

١ حملات الخديو إسماعيل الحربية إلى الأقاليم الاستوائية فى إفريقيا .

٢ التوتر بين وزارة البارودى والخديو توفيق .

٣ تنديد مصطفى كامل بحادثة دنشواى عام ١٩٠٦ م .

(ب) حدد الأثر السلبى لكل عبارة مما يأتى :

١ قبول زيور باشا مطالب بريطانيا عام ١٩٢٤ م .

٢ سياسة الاحتلال البريطانى الاقتصادية فى مصر .

٣ معاهدة ١٩٣٦ م على المواصلات فى مصر .

(ج) ما تقييمك لـ ... ؟

• اللائحة السعيدية عام ١٨٥٨ م .

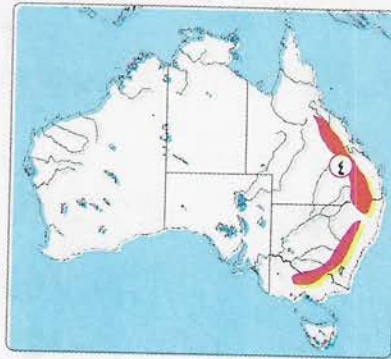
(٧) محافظة الغربية : مديرية التربية والتعليم

أولاً : الجغرافيا

السؤال الأول : (أ) تأمل الخرائط المرفقة ، ثم أجب :



١



٢

٣ اسم الخريطة

١ اسم الخريطة

٤ جبال

٣ الإقليم المناخى



(ب) اختر الإجابة الصحيحة من بين الإجابات الآتية :

١ | يمتد يابس قارة أمريكا الشمالية إلى الشرق من :

- أ | المحيط الأطلنطي
ب | خليج المكسيك
ج | المحيط الهادى
د | البحر الكاريبى

٢ | توجد بقارة إفريقيا ويجرى بها نهر الأورانج واللمبويو :

- أ | هضاب الصحراء الكبرى
ب | هضبة بتاجونيا
ج | جبال الروكى
د | هضبة جنوب إفريقيا

٣ | دولتنا من أكثر دول آسيا سكاناً .

- أ | الهند وماليزيا
ب | الصين والهند
ج | الصين واليابان
د | الهند والعراق

٤ | يمتد أقصى شرق قارة آسيا على نحو ١٠ درجات طولية فى نصف الكرة :

- أ | الشرقى
ب | الغربى
ج | الشمالى
د | الجنوبى

٥ | تعتبر قارة متجمدة وغير مأهولة بالسكان .

- أ | أستراليا
ب | أوروبا
ج | آسيا
د | أنتاركتيكا

٦ | تمتد جبال الألب فى وسط قارة أوروبا من :

- أ | الشمال إلى الجنوب
ب | الغرب إلى الشرق
ج | الجنوب إلى الغرب
د | الجنوب إلى الشمال

٧ | نهر الدانوب فى أوروبا يصب فى :

- أ | البحر الأحمر
ب | البحر الأسود
ج | بحر الشمال
د | البحر المتوسط

٨ | أعلى نسبة من السكان البالغين توجد فى دول :

- أ | شرق آسيا
ب | غرب أوروبا
ج | شمال إفريقيا
د | غرب أستراليا

٩ | يتركز سكان الولايات المتحدة الأمريكية فى عدة مناطق منها :

- أ | جبال روكى
ب | جبال الأبلش
ج | الساحل الشمالى الشرقى
د | حوض الأمزون

(ج) أيد بالأدلة :

• ترتب على زيادة السكان فى معظم دول آسيا مشكلات عديدة .

السؤال الثانى : (أ) بم تفسر ... ؟

• تتميز السهول الساحلية بقارة إفريقيا - بشكل عام - بالضيق وتوسع فى بعض المناطق .

(ب) « استضافة مصر قمة المناخ (Cop27) فى نوفمبر ٢٠٢٢م يؤكد على دورها المحورى فى المنطقة والعالم ». فى ضوء العبارة السابقة أجب عما يلى :

- ١ اكتب مقترحاتك لـ :
 - مواجهة التغيرات المناخية والحفاظ على البيئة فى المنطقة التى تعيش فيها .
- ٢ ما أوجه الشبه والاختلاف بين ... ؟
 - إقليم مناخ البحر المتوسط وإقليم المناخ المعتدل شرق القارات .
- ٣ ماذا يحدث إذا ... ؟
 - قامت إفريقيا بالاستفادة من ثرواتها المعدنية والزراعية فى التصنيع .

ثانياً : التاريخ

السؤال الثالث : (أ) اختر الإجابة الصحيحة من بين الإجابات الآتية :

- ١ فشلت حركة على بك الكبير وعادت مصر ولاية عثمانية بسبب :
 - أ انتصار السلطان العثماني عسكرياً
 - ب خضوع على بك الكبير للسلطان
 - ج انحياز محمد أبو الذهب للسلطان
 - د لا شىء مما سبق
- ٢ الحملة الفرنسية على مصر والشام حلقة من حلقات التنافس الاستعماري بين :
 - أ روسيا وأمريكا
 - ب الفرس والروم
 - ج روسيا وإنجلترا
 - د إنجلترا وفرنسا
- ٣ وجهت الحملة الفرنسية أنظار الدول الأوربية إلى أهمية :
 - أ موارد وادى النيل
 - ب موقع ليبيا
 - ج موقع مصر الجغرافى
 - د مستعمرات بريطانيا فى الهند
- ٤ تخلص محمد على من المماليك بعدة أساليب منها :
 - أ تحديد إقامتهم
 - ب حرمانهم من مشيخة البلد
 - ج نفيهم خارج مصر
 - د تقربه منهم
- ٥ طالبت كل من إنجلترا وفرنسا فى المذكرة المشتركة الثانية بإبعاد وزملائه خارج البلاد .
 - أ مصطفى كامل
 - ب محمد فريد
 - ج سعد زغلول
 - د أحمد عرابى
- ٦ أكد دستور ١٩٢٣م أن مصدر السلطات .
 - أ الملك
 - ب الحكومة
 - ج الأمة
 - د بريطانيا
- ٧ انضم للعلماء والمشايخ مطلع القرن التاسع عشر وكسب عطف الشعب المصرى .
 - أ أحمد عرابى
 - ب مصطفى كامل
 - ج محمد على
 - د محمد فريد

- ٨ منح لفرديناند ديليبسب امتياز تأسيس شركة عامة لحفر قناة السويس .
١ الخديو إسماعيل ب الخديو توفيق ج سعيد باشا د عباس حلمي باشا
٩ أصدر مرسومًا في إبريل ١٨٧٩م بتسوية الديون لما قررتة اللائحة الوطنية .
١ الخديو إسماعيل ب سعيد باشا ج رياض باشا د الخديو توفيق
(ب) بم تفسر ... ؟

- ١ حمل نظام الحكم العثماني في ثنياه عوامل ضعفه .
٢ فشل نابليون بونابرت في اقتحام عكا .

السؤال الرابع : (أ) ما النتائج المترتبة على ... ؟

- ١ ضم محمد علي السودان .
٢ تنديد الزعيم مصطفى كامل بحادثة دنشواي ١٩٠٦م .
(ب) « قامت الحكومة في عصر محمد علي بمهمة توجيه الإنتاج وتوزيعه » . في ضوء العبارة السابقة أجب عما يلي :

- ١ اكتب اثنين من :
• إجراءات محمد علي لتطوير الإنتاج الصناعي .
٢ ما أهمية ... ؟
• رفض الشعب المصري التفاوض مع لجنة ملنر ومقاطعتها .
٣ بم تفسر ... ؟
• الاحتفال يوم ٢٥ يناير من كل عام بعيد الشرطة المصرية .
٤ ماذا يحدث إذا ... ؟
• تم الاستغناء عن المصنوعات الأجنبية .

(٨) محافظة الدقهلية : مديرية التربية والتعليم

أولاً : الجغرافيا

السؤال الأول : (أ) أمامك خريطة صماء لقارة إفريقيا ، وضح مدلول الأرقام التي عليها :



- ١ حوض نهر
- ٢ سلالة
- ٣ إقليم مناخى
- ٤ دائرة عرض

(ب) « يتأثر السكان فى العالم من حيث توزيعهم وأنشطتهم الاقتصادية بعوامل طبيعية وبشرية » .
فى ضوء العبارة السابقة أجب عما يلى :

- ١ بم تفسر ... ؟
- تصنف معظم دول إفريقيا ضمن الدول ذات الدخل الاقتصادى المنخفض .
- ٢ حدد أثر الأنشطة البدائية فى :
• تحديد الخصائص الديموغرافية لمعظم شعوب إفريقيا .
- ٣ دلل جغرافياً :
• تأثير التضاريس فى توزيع سكان قارة إفريقيا .

السؤال الثانى : (أ) اختر الإجابة الصحيحة من بين الإجابات الآتية :

- ١ الميزيتا :
أ هضبة توجد فى إفريقيا
ب جبال توجد فى آسيا
ج نهر يوجد فى أوروبا
د هضبة توجد فى أوروبا
٢ سانت لورانس :
أ نهر يوجد فى آسيا
ب نهر يوجد فى أمريكا الشمالية
ج هضبة توجد فى إفريقيا
د جبل يوجد فى أوروبا
٣ جاوة جزيرة توجد فى :
أ إفريقيا
ب أوروبا
ج آسيا
د أمريكا الجنوبية
٤ تتساوى قارة آسيا فى معدل المواليد مع قارة :
أ أوروبا
ب أمريكا الشمالية
ج أمريكا الجنوبية
د أستراليا

- ٥) ينتمى معظم العرب إلى السلالة :
أ) المغولية ب) النوردية ج) القوقازية د) الزنجية
- ٦) تصنف نيبال ضمن الدول ذات الرعاية الطبية :
أ) المرتفعة ب) الفائقة ج) المنخفضة د) المتوسطة
- ٧) تنمو أشجار الصنوبر فى إقليم الغابات :
أ) المخروطية ب) الموسمية ج) المعتدلة د) الاستوائية
- ٨) يجرى نهرا فى هضبة جنوب إفريقيا .
أ) جوبا وشيبلى ب) النيل والسنگال ج) لمبوبو والأورانج د) دجلة والفرات
- (ب) « قررت مصر العمل على مكافحة تغير المناخ من خلال مؤتمر المناخ ٢٠٢٢ م » .
فى ضوء العبارة السابقة أجب عما يلى :
- ١) أثر السكن والتغذية على :
• معدل الوفيات .
- ٢) ما مقترحاتك لـ ... ؟
• الحد من ظاهرة التغيرات المناخية .
- ٣) دلل على :
• التشابه المناخى بين إقليم التندرا والإقليم الجبلى رغم اختلاف موقعهما الفلكى .
- (ج) توقع ماذا يحدث إذا ... ؟
• كانت سواحل إفريقيا شبيهة بسواحل أوروبا .

ثانياً : التاريخ

السؤال الثالث : (أ) اختر الإجابة الصحيحة من بين الإجابات الآتية :

- ١) أرسى العلماء قواعد الحكم الدستورى لمصر منذ مطلع القرن :
أ) العشرين ب) التاسع عشر ج) السابع عشر د) الثامن عشر
- ٢) اختفى الدور الاقتصادى لطبقة التجار :
أ) بعد مجيء الحملة الفرنسية ب) قبيل مجيء الحملة الفرنسية
ج) فى عهد محمد على د) بعد خروج الحملة الفرنسية مباشرة
- ٣) اتخذ السلطان من الخلافات الحدودية مدخلاً لتحقيق طموحاته السياسية .
أ) محمد الفاتح ب) سليم الأول ج) طومان باى د) قنصوة الغورى

- ٤ ساهمت المجالس الصورية فى الحفاظ على السيادة المصرية زمن :
- أ محمد على ب الخديو إسماعيل ج محمد فريد د رياض باشا
- ٥ تألفت لجنة التحقيق العليا الأوربية بناء على مطالبة :
- أ صندوق الدين ب المراقبة الثنائية ج بعثة كيف د الوزارة المختلطة
- ٦ عين أحمد عرابى وزيراً للجهادية والبحرية فى وزارة :
- أ شريف ب البارودى ج رياض د الخديو إسماعيل
- ٧ بعد خروج الجيش المصرى من السودان بعد مقتل السير لى ستاك عاد مرة أخرى بموجب :
- أ تصريح ٢٨ فبراير ١٩٢٢م ب الاتفاق الودى ج اتفاقية الحكم الثنائى د معاهدة ١٩٣٦م
- ٨ قام القائد الفرنسى بوضع خطة إصلاحية فى مجالات الزراعة والصناعة والصحة والتجارة فى مصر .
- أ نابليون ب كليبر ج مينو د ديوى
- ٩ وصل النفوذ المصرى إلى ساحل البحر الأحمر بأكمله فى عهد :
- أ محمد على ب الخديو توفيق ج سعيد باشا د الخديو إسماعيل
- ١٠ أعلن إلغاء معاهدة ١٩٣٦م وأطلق الحرية للشعب فى النضال .
- أ محمد فريد ب مصطفى كامل ج مصطفى النحاس د سعد زغلول
- ١١ أرسلت إنجلترا و المذكرة المشتركة الأولى يناير ١٨٨٢م .
- أ ألمانيا ب إيطاليا ج فرنسا د النمسا
- (ب) « أصدر محمد على لأئحته عام ١٨٣٧م ، وسعيد باشا لأئحته عام ١٨٥٦م » .
- استتج هدف كل منهما من ذلك .

السؤال الرابع : (أ) أعط الأدلة التاريخية على صدق العبارتين التاليتين :

- ١ أثرت سياسة العزلة التى فرضها العثمانيون على مصر على الناحية الثقافية والفكرية فيها .
- ٢ خضوع الحياة الاقتصادية للاحتلال البريطانى فى مصر .
- (ب) ما العلاقة بين ... ؟

• معركة أبى قير البحرية ، وثورة القاهرة الأولى .

(ج) حدد الدروس المستفادة من :

• فشل الثورة العرابية .

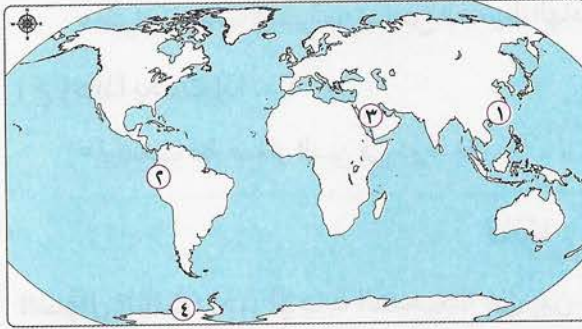
(٩) محافظة بورسعيد : مديرية التربية والتعليم

أولاً : الجغرافيا

السؤال الأول : اختر الإجابة الصحيحة من بين الإجابات الآتية :

- ١ قارة أمريكا الشمالية من القارات التي يمر بها عرض رئيسية .
أ دائرة
ب دائرتا
ج ثلاث دوائر
د أربع دوائر
- ٢ القارة المأهولة بالسكان وتقع بأكملها في نصف الكرة الجنوبي :
أ إفريقيا
ب أمريكا الجنوبية
ج أستراليا
د القارة القطبية الجنوبية
- ٣ يختلف نهر في الامتداد تبعاً لانحدار السطح .
أ بارانا
ب المسيسيبي
ج أوب
د باراجواي
- ٤ يسود قارة إفريقيا السطح :
أ الجبلى
ب الهضبي
ج السهلى
د الصحراوى

في الخريطة المقابلة :



- ٥ يشير الرقم إلى إقليم مناخ التندرا .
أ ١
ب ٢
ج ٣
د ٤
- ٦ يشير الرقم إلى هضبة شبه الجزيرة العربية .
أ ١
ب ٢
ج ٣
د ٤
- ٧ الامتداد الفلكى لقارة أستراليا حرمها من نمو أشجار :
أ الزيتون
ب البلوط
ج جوز الهند
د الزان
- ٨ من الأقاليم المناخية التي تتميز بسقوط الأمطار طوال العام الإقليم :
أ الاستوائى
ب البحر المتوسط
ج المدارى
د الموسمى
- ٩ يقل السكان فى بعض جزر قارة أستراليا مثل جزيرة سولومون بالمحيط :
أ الهندى
ب الأطلنطى
ج المتجمد الجنوبي
د الهادى

١٠. تتشابه العوامل التي ساعدت على انخفاض الكثافة السكانية في كل من حوض الكونغو و :
- أ سهل منشوريا ب سهل سيبيريا ج سهل الأمزون د سهل الميسيسيبي
١١. تنتمي جماعة للسلالة المغولية .
- أ الأقرام ب البانتو ج البحر المتوسط د التنجوس
١٢. أقل نصيب للفرد من الدخل القومي يوجد بقارة :
- أ آسيا ب إفريقيا ج أوروبا د أمريكا الجنوبية
١٣. علم دراسة السكان الذى يدرس نمو وتوزيع وتركيب السكان هو :
- أ الكثافة السكانية ب الديموجرافيا ج التركيب العمرى د الزيادة الطبيعية
١٤. يعيش فى صحارى التندرا الباردة بشمال كندا سلالة نقية تعرف باسم :
- أ البانتو ب الألبية ج النوردية د الإسكيمو

السؤال الثانى : (أ) بم تفسر ... ؟

• تنوع الحياة النباتية بالإقليم الجبلى .

(ب) ما الأثر الناتج عن ... ؟

• اقتراب جبال الإنديز من ساحل المحيط الهادى .

(ج) ماذا يحدث إذا ... ؟

• ارتفعت فئة صغار السن فى دولة ما .

ثانيًا : التاريخ

السؤال الثالث : اختر الإجابة الصحيحة من بين الإجابات الآتية :

١. قرر السلطان الغورى مواجهة العثمانيين بعد استيلائهم على :
- أ بلاد الشام ب فلسطين ج إمارة ذى القادر د مصر
٢. كان سبباً فى تدهور الصناعة والتجارة فى مصر أثناء عهد العثمانيين .
- أ تعسف الملتزمين ب تدهور الزراعة ج إهمال الطرق د الكشوف الجغرافية
٣. موقعة بداية النهاية للحملة الفرنسية فى مصر .
- أ أبى قير البحرية ب أبى قير البرية ج شبراخيت د إمبابة
٤. فشل نابليون فى فتح عكا بسبب مقاومة أهلها بقيادة :
- أ أحمد باشا الجزائر ب مراد بك ج سليمان الحلبي د محمد بك الألفى

- ٥ كان عزل خورشيد باشا وتعيين محمد على عام ١٨٠٥ م انتصارًا لإرادة :
أ العثمانيين ب المماليك ج المصريين د الإنجليز
- ٦ نُفى السيد عمر مكرم عام ١٨٠٩ م إلى مدينة :
أ الإسماعيلية ب القصاصين ج التل الكبير د دمياط
- ٧ رغم ظهور طبقة عمال الصناعة في عهد محمد على إلا أن استمرت كوسيط للحكومة .
أ الدواوين ب طوائف الحرف ج الملتزمين د البكوات المماليك
- ٨ اهتم محمد على بإنشاء ترسانة في لتصنيع الأسلحة .
أ بولاق ب الإسكندرية ج القلعة د رشيد
- ٩ لجأ سعيد باشا للاستدانة من المرابين مقابل سندات على حساب :
أ الولاة العثمانيين ب الخزانة المصرية ج الجمعية العمومية د البنوك الأجنبية
- ١٠ أعاد الخديو توفيق بعد توليه الحكم .
أ المراقبة الثنائية ب صندوق الدين ج بعثة كيف د الوزارة المسؤولة
- ١١ أصدر السلطان العثماني منشور عصيان عرابي بعد أن أقنعه بذلك دولة :
أ فرنسا ب روسيا ج بريطانيا د ألمانيا
- ١٢ تُعرف وزارة محمود سامي البارودي باسم وزارة :
أ الشعب ب البرلمان ج الثورة د الجيش
- ١٣ توسعت بريطانيا بعد احتلالها لمصر في زراعة :
أ القمح ب الكتان ج الشعير د القطن
- ١٤ أكثر المناطق تأثرًا بإلغاء معاهدة ١٩٣٦ م منطقة :
أ القناة ب القاهرة ج حى بولاق د حى الأزهر

السؤال الرابع : (أ) أثبت بالأدلة صحة العبارة الآتية :

• اتخذت بريطانيا عدة مبررات لاحتلال مصر .

(ب) ما العلاقة بين ... ؟

• تعدد الأحزاب بعد دستور ١٩٢٣ م والحياة النيابية في مصر .

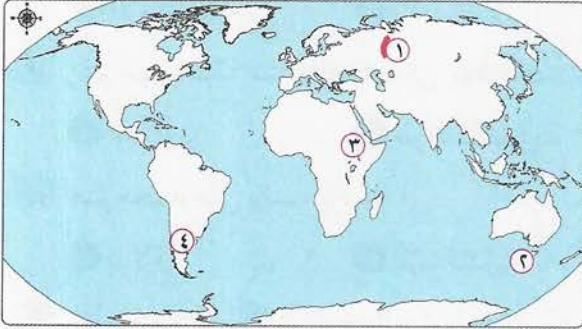
(ج) أعط مثالاً :

• الآثار الاقتصادية والاجتماعية للحملة الفرنسية في مصر .

(١٠) محافظة دمياط : مديرية التربية والتعليم

أولاً : الجغرافيا

السؤال الأول : (أ) أمامك خريطة صماء للعالم ، وضح مدلول الأرقام التي عليها :



- ١ جبال
- ٢ جزيرة
- ٣ الإقليم المناخي
- ٤ هضبة يقل بها عدد السكان

(ب) ما العلاقة بين ... ؟

- ١ جبال الإنديز والسهول الساحلية لأمريكا الجنوبية .
- ٢ إقليم مناخ البحر المتوسط وتنمية الثروة الحيوانية .
- ٣ شدة برودة فصل الشتاء وغابات إقليم مناخ غرب أوروبا .
- ٤ نصيب الفرد من الدخل القومي والنشاط الزراعي في قارة إفريقيا .

(ج) أكمل الجدول التالي :

القارة التي تنتمي إليها	نوع السلالة التي تنتشر بها	تصنيفها تضاريسياً	الظاهرة الجغرافية
(٣)	(٢)	نهر	البيانجستي
(٤)	القوقازية	(١)	الميزيتا

السؤال الثاني : (أ) اختر الإجابة الصحيحة من بين الإجابات الآتية :

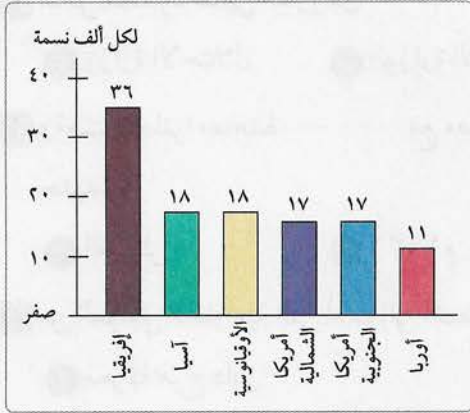
- ١ تكونت الأراضي الزراعية في جنوب السهول بوسط أمريكا الشمالية لوجود نهر :
 أ النيل ب نلسن ج المسيسيبي د الأمزون
- ٢ تنتشر السهول الصحراوية الرملية في قارتي إفريقيا و :
 أ أوروبا ب أستراليا ج أنتاركتيكا د أمريكا الشمالية
- ٣ يسود قارة أنتاركتيكا إقليم المناخ :
 أ الحار ب المعتدل ج الاستوائي د البارد
- ٤ البشرة الداكنة والأنف العريض والشعر الأجدع من خصائص السلالة :
 أ النوردية ب الزنجية ج المغولية د القوقازية

(ب) بم تفسر ... ؟

- ١ تعدد السهول الساحلية والسهول الداخلية المتفرقة في قارة آسيا .
- ٢ تنوع الأقاليم المناخية في العالم .
- ٣ تنمو الغابات الاستوائية في حوض الكونغو .
- ٤ خروج هجرات غير شرعية من معظم دول آسيا .

(ج) أمامك رسم بياني يمثل معدل المواليد في

العالم استعن به للإجابة عن الأسئلة الآتية :



معدل المواليد في قارات العالم لعام ٢٠١٤ م

١ حدد :

• القارة التي تتساوى مع قارة آسيا في معدل المواليد .

٢ دلل على صحة العبارة :

• معدل الزيادة الطبيعية في قارة أوروبا يساوى صفراً .

٣ ماذا يحدث إذا ... ؟

• انخفضت نسبة صغار السن في الدول النامية .

٤ ما المقصود بـ ... ؟

• قوة العمل .

ثانياً : التاريخ

السؤال الثالث : (أ) ما النتائج المترتبة على ... ؟

- ١ خضوع مصر للحكم العثماني عدة قرون من الناحية الحضارية .
- ٢ الاجتماع الذي عقده زعماء الشعب المصري في بيت القاضي ١٣ مايو ١٨٠٥ م .
- ٣ انعقاد مؤتمر الأستانة ١٨٨٢ م الذي حضرته الدول الأوروبية .
- ٤ موقف محمد فريد ومعه الشعب المصري من مشروع قناة السويس .

(ب) قارن بين :

١ ثورة القاهرة الأولى وثورة القاهرة الثانية ضد الحملة الفرنسية ، من حيث :

• نتائج كل منهما .

٢ المحاكم القنصلية والمحاكم المختلطة ، من حيث :

• مدى تحقيق كل منهما للعدالة .

السؤال الرابع : (أ) اختر الإجابة الصحيحة من بين الإجابات الآتية :

- ١ لفتت أنظار الدول الأوروبية وخاصة إنجلترا لأهمية موقع مصر الجغرافي والاستراتيجي .
 أ معركة الريدانية ب الحملة الفرنسية ج معركة مرج دابق د ثورة القاهرة الأولى
- ٢ طبق محمد على نظام حتى يتمكن من منافسة الدول الأوروبية في سوق التجارة الدولية .
 أ الالتزام ب الري الحديث ج الاحتكار د الانتفاع
- ٣ شكل محمود سامي البارودي وتولى أحمد عرابي فيها وزارتي الجهادية والبحرية .
 أ وزارة الاحتلال ب الوزارة الأوربية ج الوزارة المختلطة د وزارة الثورة
- ٤ وقعت إنجلترا معاهدة مع مصر خوفاً من ثورة جديدة خاصة وأنها ستخوض حرب عالمية جديدة .
 أ العريش ب ١٩٣٦ م ج السودان د كامب ديفيد
- ٥ من العوامل الخارجية التي أدت إلى أضعاف دولة المماليك اقتصادياً وعسكرياً قبل مجيء العثمانيين :
 أ معركة مرج دابق ب معركة الريدانية
 ج معركة جالديران د اكتشاف طريق رأس الرجاء الصالح
- ٦ كان لـ محاولات سياسية لإبعاد محمد على عن حكم مصر .
 أ الفرنسيين ب الألمان ج الإنجليز د الأتراك
- ٧ يمثل عصر تناقضاً بين الازدهار والتقدم والانحيار السياسي .
 أ توفيق ب سعيد ج إسماعيل د فؤاد
- ٨ استخدم الشعب المصري الحرب سنة ١٩٢١ م ضد إنجلترا اعتراضاً على نفى زعمائه .
 أ العسكرية ب الاقتصادية ج السياسية د الاجتماعية
- ٩ عند نزول الحملة الفرنسية إلى الإسكندرية واجهها الأهالي بزعامة حاكمها :
 أ إبراهيم باشا ب محمد كريم ج عباس حلمي د محمد أبو الذهب
- ١٠ من أبرز أعضاء البعثات العلمية إلى أوروبا :
 أ على بك الكبير ب محمد عبيد ج رفاعة الطهطاوي د على زيور
- ١١ يعرف بخطيب الثورة العرابية ولم تتمكن إنجلترا من اعتقاله ، هو :
 أ عبد الله الشرقاوي ب عمر مكرم ج البارودي د عبد الله النديم
- ١٢ تم رفض طلب سعد زغلول والوفد بالسفر إلى مؤتمر الصلح بباريس من قبل :
 أ السير ونجت ب اللورد كرومر ج اللورد ملنر د اللورد اللنبي

(ب) « أظهرت حروب محمد على كفاءة الجندى المصرى فى التدريب والتنظيم فى ميدان القتال رغم بعد المسافات ». فى ضوء العبارة السابقة أجب عما يلى :

- ١ ما العلاقة بين ... ؟
 - تفوق أوروبا حضارياً وعسكرياً وتوجه العثمانيين ناحية الشرق .
- ٢ ماذا كان يحدث إذا ... ؟
 - تركت الدول الأوربية محمد على والسلطان العثمانى دون التدخل فى الصراع بينهما .
- ٣ ما رأيك فى ... ؟
 - الفرمان الذى أصدره السلطان العثمانى بعصيان أحمد عرابى .
- ٤ ما أوجه النقد التى يمكن أن توجهها لـ ... ؟
 - دستور ١٩٢٣م .

(II) محافظة كفر الشيخ : مديرية التربية والتعليم

أولاً : الجغرافيا

السؤال الأول : (أ) أمامك خريطة صماء للأمريكتين ، وضح مدلول الأرقام التى عليها :



- ١ جبال
 - ٢ دائرة عرض
 - ٣ إقليم مناخى
 - ٤ أكبر دول القارة سكاناً
- (ب) اختر الإجابة الصحيحة من بين الإجابات الآتية :
- ١ يرتبط توزيع السكان فى قارة أوروبا ب :
 - أ التقدم الحضارى
 - ب وجود المسطحات المائية
 - ج وجود الغابات
 - د وجود المستنقعات
 - ٢ نهر أطول أنهار أوروبا ويصب فى بحر قزوين .
 - أ الراين
 - ب السين
 - ج الفولجا
 - د الأورانج
 - ٣ دول الخليج العربى من الدول ذات الدخل الاقتصادى :
 - أ المتوسط
 - ب المرتفع
 - ج فوق المتوسط
 - د المنخفض
 - ٤ يتميز الإقليم بسقوط المطر طوال العام ويزداد فى فصلى الشتاء والخريف .
 - أ المدارى
 - ب الموسمى
 - ج اللورانسى
 - د المعتدل الدافئ

- ٥ تتميز السهول الساحلية المطلة على المحيط بالضيق في قارات العالم الجديد .
١ الهندي ٢ الأطلنطي ٣ الهادي ٤ القطبي الشمالي
- ٦ يتركز السكان في كندا بالمدن الكبرى مثل مدينة :
١ واشنطن ٢ نيويورك ٣ مونتريال ٤ سيدني
- ٧ تؤثر الغابات الموسمية سلبيًا على توزيع السكان في :
١ جنوب أوروبا ٢ شمال أستراليا ٣ غرب آسيا ٤ شرق أمريكا الشمالية
- ٨ يتساوى معدل الوفيات في عدد من قارات العالم منها :
١ أوروبا وإفريقيا ٢ أمريكا الشمالية وإفريقيا ٣ آسيا وأوروبا ٤ آسيا والأوقيانوسية
- ٩ من الصفات الجسمية الخارجية لسكان ألاسكا :
١ الشعر المسترسل ٢ الشفاه الغليظة ٣ الشعر المتعرج ٤ الأنف العريض

السؤال الثاني : (أ) بم تفسر ... ؟

- ١ تهجير عدد كبير من الزنوج إلى الأمريكتين .
٢ تشابه التضاريس في قارتى أستراليا وإفريقيا .
٣ تركيز السكان في الساحل الشمالي الشرقي للولايات المتحدة الأمريكية .
- (ب) ما العلاقة بين ... ؟
١ نهر النيل وهضاب شرق ووسط إفريقيا .
٢ زيادة عدد السكان في قارة آسيا ودول أوروبا .
٣ العادات والتقاليد ومعدل تعليم الإناث في بعض دول العالم .
- (ج) « أكد الرئيس السيسي في كلمته في افتتاح قمة المناخ (Cop27) في شرم الشيخ على ضرورة التعاون الدولي لمواجهة التغيرات المناخية وما يترتب عليها من آثار سياسية واقتصادية واجتماعية » . في ضوء العبارة السابقة أجب عما يلي :
- ١ دلل على :
• تأثير المناخ على توزيع السكان في قارة إفريقيا .
٢ لماذا ... ؟
• يختلف مناخ البحر المتوسط عن الإقليم المعتدل شرق القارات رغم وقوعهما في نفس العروض .
٣ إلى أى الأقاليم المناخية ينتمى ما يأتي ... ؟
• جنوب غرب آسيا .
• جزيرة مدغشقر .

ثانياً : التاريخ

السؤال الثالث : اختر الإجابة الصحيحة من بين الإجابات الآتية :

- ١ هيئة تضاعف نفوذ علمائها في عهد محمد علي :
أ جامعة القاهرة ب الأزهر الشريف ج نقابة الحرفيين د نقابة الأطباء
- ٢ أعاد الخديو توفيق نظام وكان سبباً في زيادة التدخل الأجنبي .
أ الالتزام ب الاحتكار ج المراقبة الثنائية د حق الانتفاع
- ٣ أعيدت وزارة إلى مصر بموجب تصريح ٢٨ فبراير ١٩٢٢ م .
أ الداخلية ب الخارجية ج الحرية د الصحة
- ٤ أحد الأجهزة الرئيسية للأمم المتحدة عرضت مصر عليه قضية الجلاء عام ١٩٤٧ م وتركها معلقة :
أ مجلس الوصاية ب مجلس الأمن ج منظمة الفاو د منظمة اليونسكو
- ٥ كان للكشوف الجغرافية في أواخر القرن أثر على تدهور الحياة العسكرية والاقتصادية في أجزاء من العالم الإسلامي .
أ الثامن عشر ب التاسع عشر ج العشرين د الخامس عشر
- ٦ تغيرت التبعية السياسية في مصر بعد معركة :
أ ديو البحرية ب جالديران ج الريدانية د مرج دابق
- ٧ اقتضرت العلاقة التجارية لمصر على العلاقات مع الدول الإفريقية والدول المحيطة بالبحر الأحمر في أواخر القرن :
أ الثامن عشر ب التاسع عشر ج العشرين د الحادى والعشرين
- ٨ تحالف على بك الكبير مع ضد السلطان العثماني .
أ محمد بك الألفى ب ظاهر العمر ج مراد بك د محمد بك أبو الذهب
- ٩ قاد شعبه ضد الحملة الفرنسية على الشام ونجح في صدها بمساعدة الأسطول البريطاني .
أ أحمد باشا الجزائر ب إبراهيم بك ج أحمد عرابى د عمر مكرم
- ١٠ توقفت في عهد حركة النهضة التي ظهرت في عهد محمد علي .
أ الخديو توفيق ب الخديو إسماعيل ج عباس حلمى باشا د خورشيد باشا
- ١١ كلف الخديو توفيق بتشكيل الوزارة بعد أحداث الإسكندرية في ١١ يونيو ١٨٨٢ م .
أ البارودى باشا ب زيور باشا ج راغب باشا د صدقى باشا

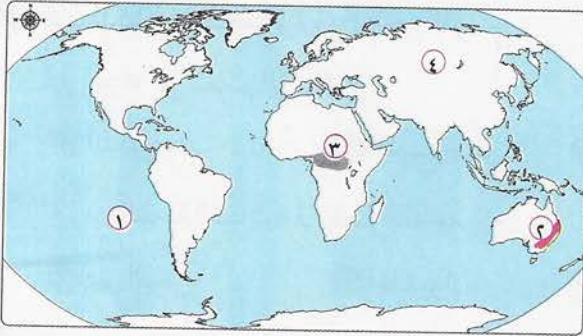
السؤال الرابع : أجب عن الأسئلة الآتية :

- ١ لماذا ... ؟
 - لم ترسل بريطانيا حملتها العسكرية إلى مصر عقب خروج الحملة الفرنسية مباشرة .
- ٢ ما رأيك في ... ؟
 - موقف شريف باشا من تأجيل عرض الميزانية على مجلس النواب ١٨٨١ م .
- ٣ ما النتائج المترتبة على ... ؟
 - عدم ردم أحمد عرابي لقناة السويس عام ١٨٨٢ م .

(١٢) محافظة البحيرة : مديرية التربية والتعليم

أولاً : الجغرافيا

السؤال الأول : (أ) أمامك خريطة صماء للعالم ، وضح مدلول الأرقام التي عليها :



- ١ مسطح مائي
- ٢ جبال
- ٣ إقليم مناخى
- ٤ سلالة بشرية

(ب) اختر الإجابة الصحيحة من بين الإجابات

الآتية :

- ١ نهر هو أطول أنهار قارة أوربا ويصب فى بحر قزوين .
 - أ المسيسى
 - ب سانت لورانس
 - ج السين
 - د الفولجا
- ٢ تعرض عدد كبير من الزوجات للهجرات الإجبارية إلى :
 - أ آسيا
 - ب أستراليا
 - ج الأمريكتين
 - د أنتاركتيكا
- ٣ تختلف الخصائص الاقتصادية لسكان العالم وفقاً لتنوع ودخل الفرد .
 - أ الأنشطة
 - ب المناخ
 - ج السكان
 - د النبات الطبيعى
- ٤ يوجد فى قارة إفريقيا بعض الجزر ومن أهمها جزيرة :
 - أ الفلبين
 - ب أيسلندا
 - ج مدغشقر
 - د تسمانيا
- ٥ أكبر هضاب قارة أمريكا الجنوبية وأكثرها ارتفاعاً ، هى :
 - أ البرازيل
 - ب جيانا
 - ج بتاجونيا
 - د المكسيك

٦ تتنشر الأقاليم المناخية المعتدلة في العالم ومنها الإقليم المناخي :

- أ الجبلى ب الصينى ج المدارى د الموسمى

٧ تنقسم السلالة القوقازية إلى عدة أقسام ، ومنها :

- أ الإسكىمو ب الهنود الحمر ج البوشمن والهونتوت د المجموعة الألبية

٨ أكبر قارات العالم سكاناً هي قارة :

- أ إفريقيا ب أوروبا ج أمريكا الجنوبية د آسيا

السؤال الثانى : (أ) بم تفسر ... ؟

١ تعرف هضبة التبت في قارة آسيا بسقف العالم .

٢ تتميز السهول الساحلية في قارة إفريقيا - بشكل عام - بالضيق .

٣ تنوع الحياة النباتية في الإقليم المناخي الجبلى .

٤ كثرة الموانئ الطبيعية على سواحل قارة أوروبا .

(ب) أكمل الجدول التالى :

الظاهرة الجغرافية	مثال على الظاهرة	متى تحدث الظاهرة
١ تنفض بعض النباتات الطبيعية أوراقها .	الغابات النفضية	(٢)
٢ معدل الزيادة الطبيعية للسكان يساوى صفرًا .	(١)	عندما يتساوى معدل المواليد مع معدل الوفيات .

(ج) « يختلف توزيع السكان من منطقة لأخرى داخل قارات العالم لأسباب طبيعية وبشرية » .

فى ضوء العبارة السابقة أجب عما يلى :

١ ما العلاقة بين ... ؟

• نهر النيل وهضاب شرق ووسط قارة إفريقيا .

٢ حدد أوجه الشبه بين :

• الإقليم المناخي المدارى الحار والإقليم المناخي الموسمى .

٣ دلل على صحة العبارة الآتية :

• يقل عدد السكان فى بعض مناطق قارة أوروبا .

٤ ما النتائج المترتبة على ... ؟

• زيادة عدد السكان فى معظم دول قارة آسيا . (يكتفى باثنتين)

٥ ما المقصود بـ ... ؟

• قوة العمل .

ثانياً : التاريخ

السؤال الثالث : (أ) اختر الإجابة الصحيحة من بين الإجابات الآتية :

١ قائد جيوش المماليك في معركة الريدانية عام ١٥١٧م ، هو :

أ طومان باي ب قنصوة الغوري ج سليم الأول د مراد بك

٢ شروع القوات الفرنسية في تحصين مدينة القاهرة كان من نتائج :

أ ثورة القاهرة الأولى ب معاهدة العريش ج ثورة القاهرة الثانية د معركة أبي قير البرية

٣ رفاعة رافع الطهطاوى وعلى مبارك أسهما بعد عودتهما من أوروبا في استمرار النهضة :

أ الصناعية ب التعليمية ج الصحية د الزراعية

٤ أدت سياسة الخديو إسماعيل إلى زيادة التدخل الأجنبي في شئون مصر .

أ الاقتصادية ب الاجتماعية ج التعليمية د الصحية

٥ مؤتمر مونتر و ١٩٣٧م كان من نتائج معاهدة ١٩٣٦م وفيه تقرر إلغاء :

أ المراقبة الثنائية ب صندوق الدين ج الامتيازات الأجنبية د الاحتلال البريطاني

٦ عندما تولى قيادة الحملة الفرنسية على مصر كانت الأخطار تهدد الحملة من كل جانب .

أ نابليون ب كليبر ج مينو د نلسون

٧ حدثت تطورات دستورية في عهد :

أ محمد على ب سعيد باشا ج الخديو إسماعيل د عباس حلمى باشا

٨ أدت سياسة منذ بداية حكمه إلى زيادة التدخل الأجنبي في شئون مصر .

أ محمد على ب سعيد باشا ج الخديو توفيق د سليم الأول

٩ كانت الأرض الزراعية أثناء العصر العثماني ملكاً للدولة ممثلة في :

أ الوالى ب شيخ البلد ج السلطان د السفير الإنجليزى

١٠ أدت سياسة محمد على الاقتصادية إلى تدهور طبقة :

أ الأعيان ب الصناع ج التجار د البدو

١١ نمت فكرة انفصال مصر عن الدولة العثمانية وتحقيق الاستقلال عام ١٨٢٨م نتيجة حروب

محمد على فى :

أ السودان ب اليونان ج الشام د الحجاز

١٢ طالبت بريطانيا وفرنسا في المذكرة المشتركة الثانية في مايو ١٨٨٢م بإقالة وزارة :

- أ راغب باشا ب شريف باشا ج البارودي باشا د رياض باشا

١٣ تخلت فرنسا عن مساندة مصطفى كامل عام ١٩٠٤م بعد أن عقدت مع الاتفاق الودى .

- أ ألمانيا ب النمسا ج إنجلترا د إيطاليا

(ب) ما العلاقة بين ... ؟

١ إقصاء الخديو إسماعيل الوزيرين الأجبيين من الوزارة المختلطة وعزله من الحكم .

٢ مفاوضات عدلى كيرزون فى مارس ١٩٢١م وتجدد ثورة ١٩١٩م .

السؤال الرابع : (أ) ما النتائج المترتبة على ... ؟

١ اهتزاز مكانة الأزهر العلمية فترة الحكم العثمانى لمصر .

٢ اكتشاف حجر رشيد ١٧٩٩م .

(ب) « قام الشعب المصرى على مدى تاريخه بالعديد من الثورات من أجل نيل حريته

واستقلاله » . فى ضوء العبارة السابقة أجب عما يلى :

١ وضح :

• موقف محمد على من ثورة الشعب المصرى فى مارس ١٨٠٤م .

٢ ما رأيك فى ... ؟

• دور السلطان العثمانى فى الثورة العراقية .

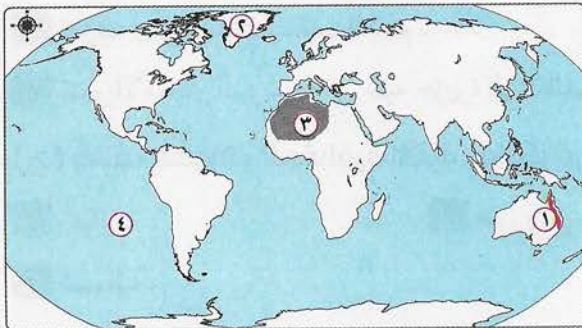
٣ ما هى ... ؟

• عوامل قيام ثورة ١٩١٩م .

(١٣) محافظة الفيوم : مديرية التربية والتعليم

أولاً : الجغرافيا

السؤال الأول : (أ) أمامك خريطة صماء للعالم ، وضح مدلول الأرقام التى عليها :



١ جبال

٢ إقليم مناخى

٣ السلالة

٤ المحيط

(ب) اختر الإجابة الصحيحة من بين الإجابات الآتية :

- ١ يرتفع معدل الوفيات في قارة لزيادة عدد كبار السن .
أ أستراليا ب إفريقيا ج أوروبا د أمريكا الجنوبية
- ٢ الديموجرافيا هو علم دراسة :
أ الصخور ب المناخ ج السكان د النبات الطبيعي
- ٣ تنمو أشجار الزان في إقليم الغابات :
أ الاستوائية ب المخروطية ج النفضية د الموسمية
- ٤ تمتد السهول الفيضية في أوروبا من غربًا حتى جبال الأورال شرقًا .
أ البحر المتوسط ب البحر الأحمر ج المحيط الأطلنطي د المحيط الهادى
- ٥ من الدول ذات الرعاية الطبية المرتفعة :
أ مصر ب النيجر ج نيبال د أثيوبيا
- ٦ يتمثل المناخ الاستوائى وشبه الاستوائى فى أمريكا الجنوبية فى حوض نهر :
أ الأورينكو ب الأمزون ج لابلاتا د باراجواى
- ٧ يتركز سكان قارة أستراليا على السواحل حيث المدن الكبرى .
أ الشمالية ب الغربية ج الجنوبية د الشرقية
- ٨ تمر دائرة الاستواء فى الطرف الجنوبى من قارة :
أ أوروبا ب أستراليا ج آسيا د أمريكا الشمالية

السؤال الثانى : (أ) ما النتائج المترتبة على ... ؟

- ١ زيادة السكان فى قارة آسيا .
٢ اقتراب حواف الجبال والهضاب من الساحل فى قارة إفريقيا .

(ب) بم تفسر ... ؟

- ١ تعرف هضبة التبت بسقف العالم .
٢ تنمو الأشجار الموسمية فى شبه جزيرة الهند الصينية جنوب الصين .
(ج) صنف الظواهر الجغرافية الآتية ، واذكر فى أى القارات تقع :

- ١ جيانا . ٢ طوروس .
٣ تسمانيا .

ثانياً : التاريخ

السؤال الثالث : (أ) اختر الإجابة الصحيحة من بين الإجابات الآتية :

- ١ نظم محمد على الاقتصاد المصرى فى الزراعة والصناعة على أساس نظام :
أ الالتزام ب الانتفاع ج الاحتكار د الرأسمالية
- ٢ أصبحت مصر ولاية عثمانية عقب موقعة :
أ جالديران ب مرج دابق ج الريدانية د ديو البحرية
- ٣ أعطى للملك مزيداً من السلطات وأهدر سلطة الأمة .
أ دستور ١٩٢٣ م ب دستور ١٩٣٠ م ج دستور ١٨٧٨ م د مجلس شورى النواب
- ٤ كان من أسباب الثورة العربية اضطهاد للضباط المصريين .
أ عبد العال حلمى ب على فهمى ج عثمان رفقى د محمود سامى البارودى
- ٥ يمثل عهد فترة من أزهى الفترات وأكثرها عمراناً فى تاريخ مصر الحديث .
أ سعيد باشا ب الخديو إسماعيل ج عباس حلمى باشا د رياض باشا
- ٦ رحيل قوات الاحتلال عن البلد المحتل يسمى :
أ استعماراً ب احتلالاً ج جلاء د دستوراً
- ٧ انفرد بالحكم وصار الحاكم الفعلى لمصر عام ١٧٦٨ م .
أ محمد على ب على بك الكبير ج مراد بك د إبراهيم بك
- ٨ أنشأ عدة مجالس ودواوين منها الديوان العالى ومجلس المشورة .
أ أحمد عرابى ب محمد على ج الخديو إسماعيل د الخديو توفيق
- (ب) بم تفسر ... ؟

- ١ كان لمذبحة يافا أثر كبير فى صمود أهالى عكا فى مواجهة الحملة الفرنسية .
٢ فرضت سلطات الاحتلال البريطانى فى مصر سياسة اقتصادية تخدم مصالحها .

السؤال الرابع : (أ) ما النتائج المترتبة على ... ؟

- ١ موقعة أبى قير البحرية بالنسبة لمصر .
٢ مقتل السير لى ستاك حاكم السودان العام .

(ب) ما رأيك فى ... ؟

- ما قام به السيد محمد كريم حاكم الإسكندرية فى مواجهة الحملة الفرنسية عام ١٧٩٨ م .

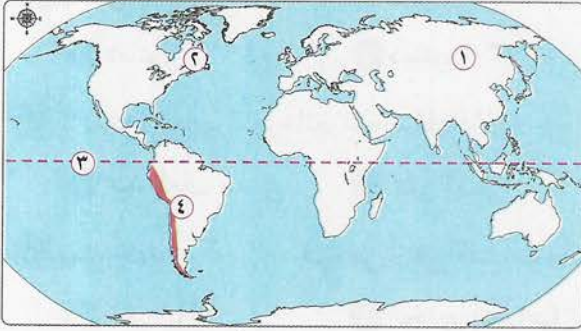
(ج) رتب الأحداث التاريخية التالية من القديم إلى الحديث :

- ١ إعلان عصيان عرابي .
٢ نفى سعد زغلول إلى جزيرة مالطة .
٣ عزل خورشيد باشا .
٤ إصدار جريدة اللواء .

(١٤) محافظة بنى سويف : مديرية التربية والتعليم

أولاً : الجغرافيا

السؤال الأول : (أ) أمامك خريطة صماء للعالم ، وضح مدلول الأرقام التي عليها :



- ١ السلالة
٢ إقليم مناخى
٣ دائرة عرض
٤ جبال
- (ب) اختر الإجابة الصحيحة من بين الإجابات الآتية :

- ١ يقصد بـ عدد الأفراد فى سن العمل والقادرون عليه .
أ قوة العمل
ب الزيادة الطبيعية
ج النشاط الاقتصادى
د التركيب العمرى
- ٢ يقصد بـ الموقع بالنسبة للباس والماء .
أ الموقع الفلكى
ب الموقع البحرى
ج الموقع الجغرافى
د الدولة الحبيسة
- ٣ يقع أكبر بحر مغلق فى العالم فى قارة :
أ أوروبا
ب آسيا
ج أمريكا الشمالية
د إفريقيا
- ٤ يتركز سكان دولة كندا فى المدن الكبرى مثل مدينة :
أ سيدنى
ب نيويورك
ج واشنطن
د مونتريال
- ٥ النهر الأوروبى الذى يصب فى بحر الشمال هو نهر :
أ الفولجا
ب الدانوب
ج الراين
د الفرات
- ٦ من الدول ذات الرعاية الطبية الفائقة دولة :
أ روسيا
ب الإمارات
ج أثيوبيا
د النيجير
- ٧ دولة فى مقدمة الدول التى لها مصالح فى القارة القطبية الجنوبية .
أ روسيا
ب سويسرا
ج مصر
د اليابان

٨ ترتفع نسبة فئة كبار السن في الدول :

- أ الفقيرة ب النامية ج المتقدمة د الزراعية

٩ توجد في قارة أستراليا سهول متسعة تجرى بها أودية نهريّة أهمها نهرا :

- أ دجلة والفرات ب جوبا وشبيلي ج الأورنج واللمبوبو د مري ودارلنج

١٠ ينتمي سكان غرب ووسط أوروبا إلى المجموعة :

- أ الزنجية ب المغولية ج النوردية د التنجوس

(ج) دلل جغرافيًا على صحة العبارتين الآتيتين :

١ توجد دول جزرية في قارتي آسيا وإفريقيا .

٢ يضم شعب الولايات المتحدة الأمريكية سلالات مختلفة .

السؤال الثاني : (أ) ما النتائج المترتبة على ... ؟

١ زيادة عدد السكان في قارة آسيا .

٢ تساوى معدل المواليد مع معدل الوفيات في قارة أوروبا .

(ب) ماذا يحدث إذا ... ؟

• قامت إفريقيا بالاستفادة من ثرواتها المعدنية والزراعية في التصنيع .

(ج) « استضافت مصر في شهر نوفمبر الماضي مؤتمر الأمم المتحدة للتغير المناخي والذي

حضره عدد كبير من زعماء العالم بالإضافة إلى مجموعة من العلماء والمختصين في

مجال البيئة والمناخ » . في ضوء العبارة السابقة أجب عما يلي :

١ وضح :

• اثنين من العوامل المؤثرة في مناخ العالم .

• الخصائص النباتية لإقليم البحر المتوسط .

٢ ما رأيك في ... ؟

• زيادة التوسع العمراني على حساب الغابات والحشائش الطبيعية . مع ذكر السبب .

ثانيًا : التاريخ

السؤال الثالث : (أ) اختر الإجابة الصحيحة من بين الإجابات الآتية :

١ أدى كفاح مصطفى كامل إلى إقالة المعتمد البريطاني في مصر .

- أ اللورد كرومر ب كتشنر ج النبي د ملنر

- ٢ انتصر العثمانيون على المماليك في أغسطس ١٥١٦م في معركة :
أ جالديران ب ديو البحرية ج مرج دابق د الريدانية
- ٣ بعد أحداث حادثة الإسكندرية كلف الخديو توفيق بتشكيل وزارة جديدة .
أ مصطفى النحاس ب راغب باشا ج رياض باشا د البارودي
- ٤ تخلص محمد علي من الزعامة الشعبية بنفى إلى دمياط سنة ١٨٠٩م .
أ محمد كريم ب عمر مكرم ج أحمد عرابي د مصطفى كامل
- ٥ شكل أول وزارة برلمانية في مصر يناير ١٩٢٤م .
أ البارودي ب رياض باشا ج مصطفى النحاس د سعد زغلول
- ٦ حاكم الإسكندرية الذي قاوم الحملة الفرنسية ، هو :
أ محمد كريم ب عمر مكرم ج عبد الله الشرقاوى د عبد الله النديم
- ٧ منح فرديناند ديليسبس عقد الامتياز الأول الخاص بقناة السويس في نوفمبر ١٨٥٤م .
أ عباس حلمي ب سعيد باشا ج الخديو إسماعيل د الخديو توفيق
- ٨ تولى الكفاح الوطني بعد وفاة مصطفى كامل .
أ أحمد عرابي ب محمد فريد ج البارودي د إسماعيل صدقي
- (ب) « أدرك محمد علي أن نهضة مصر لن تتحقق إلا من خلال بناء دولة قوية تأخذ بأساليب المدنية الحديثة في الغرب ، لذلك قام بإصلاحات شملت جوانب الحياة المختلفة » .
في ضوء العبارة السابقة أجب عما يلي :

١ وضع :

• أهم مجهودات محمد علي للنهوض بالصناعة .

٢ ما هي ... ؟

• أسباب اهتمام محمد علي بالتعليم .

(ج) دلل على صحة العبارات الآتية :

١ لعبت إنجلترا دورًا بارزًا في أحداث الحملة الفرنسية على مصر ١٧٩٨م .

٢ شهد ميدان القتال في معركة التل الكبير بطولات مصرية خالدة .

٣ تعددت مظاهر النهضة العمرانية في عهد الخديو إسماعيل .

السؤال الرابع : (أ) ماذا يحدث إذا ... ؟

• لم يقم أحمد عرابي بمظاهرة عابدين في ٩ سبتمبر ١٨٨١م .

(ب) ما النتائج المترتبة على ... ؟

١ حروب محمد على في اليونان في الفترة ما بين ١٨٢١م - ١٨٢٨م .

٢ ثورة القاهرة الأولى ضد الاحتلال الفرنسي أكتوبر ١٧٩٨م .

(ج) أجب عن السؤالين الآتيين :

١ حدد :

• موقف محمد على من ثورة الشعب المصري في مارس ١٨٠٤م .

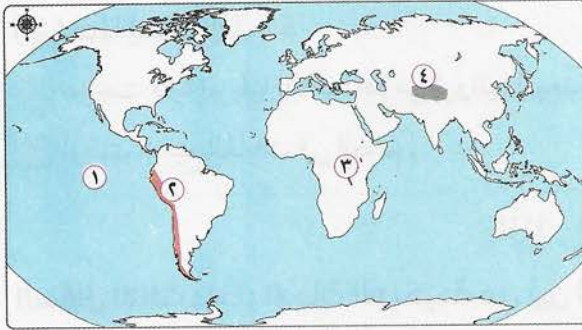
٢ ما العلاقة بين ... ؟

• اكتشاف طريق رأس الرجاء الصالح ودولة المماليك .

(١٥) محافظة سوهاج : مديرية التربية والتعليم

أولاً : الجغرافيا

السؤال الأول : (أ) أمامك خريطة صماء للعالم ، وضح مدلول الأرقام التي عليها :



١ المحيط

٢ إقليم مناخي

٣ السلالة

٤ جبال

(ب) اختر الإجابة الصحيحة من بين الإجابات

الآتية :

١ علم يدرس السكان وخصائصهم .

أ الجيولوجيا ب الديموجرافيا ج الجيومورفولوجيا د المناخ

٢ يفصل قارة آسيا عن قارة أوروبا جبال :

أ البرانس ب الروكي ج الأورال د أطلس

٣ أطول أنهار أوروبا ويصب في بحر قزوين نهر :

أ الراين ب الفولجا ج الدانوب د السين

٤ أهم أشجار الغابات النفضية

أ الزان ب الفولجا ج الدانوب د السين

- ٥ من أقسام السلالة المغولية الصفراء :
أ التوردية ب البوشمن ج الألبية د الهنود الحمر
- ٦ من الدول قليلة السكان في أوروبا :
أ ألمانيا ب النرويج ج بريطانيا د فرنسا

السؤال الثاني : (أ) بم تفسر ... ؟

- ١ قيام الموانئ الطبيعية في قارة أوروبا .
٢ أهمية هضبة الحبشة والبحيرات الاستوائية بالنسبة لمصر .
٣ قلة عدد السكان في شمال أستراليا .

(ب) ما النتائج المترتبة على ... ؟

- ١ انتشار الفقر والأمية في معظم دول إفريقيا .
٢ زيادة عدد السكان في معظم دول آسيا .
٣ التقدم الصناعي في أوروبا .

(ج) ماذا يحدث إذا ... ؟

- ١ نجحت قارة إفريقيا بالاستفادة من ثرواتها المعدنية .
٢ أزيلت جميع الغابات في العالم .

ثانياً : التاريخ

السؤال الثالث : اختر الإجابة الصحيحة من بين الإجابات الآتية :

- ١ أسس الخديو إسماعيل عام ١٨٦٦ م .
أ مجلس المشورة ب الجمعية التشريعية
ج مجلس الأمة د مجلس شورى النواب
- ٢ خضعت مصر للحكم العثماني قرون متتالية .
أ ثلاثة ب أربعة ج خمسة د ستة
- ٣ عام ١٨٠٦ م أصدر السلطان العثماني فرماناً بنقل محمد علي والياً إلى ولاية في مقدونيا .
أ جدة ب أثينا ج سالونيك د كريت
- ٤ من نتائج معاهدة ١٩٣٦ م انضمام مصر إلى عضوية باعتبارها دولة مستقلة .
أ مجلس الأمن ب عصبة الأمم ج الجامعة العربية د الأمم المتحدة

- ٥ دعا إلى رفض اتفاقية الحكم الثنائي في السودان يناير ١٨٩٩ م .
أ) مصطفى كامل ب) سعد زغلول ج) مصطفى النحاس د) محمد فريد
- ٦ تزعم ثورة المصريين مارس ١٨٠٠ م ضد الفرنسيين .
أ) محمد علي ب) محمد كريم ج) عمر مكرم د) محمد فريد
- ٧ شكل أول حكومة برلمانية في مصر عام ١٩٢٤ م .
أ) محمد محمود ب) إسماعيل صدقي ج) سعد زغلول د) أحمد عرابي
- ٨ أصبح الحاكم الفعلي لمصر عام ١٧٦٨ م .
أ) محمد علي ب) علي بك الكبير ج) مصطفى كامل د) مراد بك

السؤال الرابع : (أ) بم تفسر ... ؟

- ١ العلاقة بين مجيء الحملة الفرنسية على مصر والاحتلال البريطاني لها عام ١٨٨٢ م .
٢ تعتبر ثورة ١٩١٩ م ثورة شعبية شاملة .
٣ شروط حفر قناة السويس لم تكن في صالح مصر والمصريين .

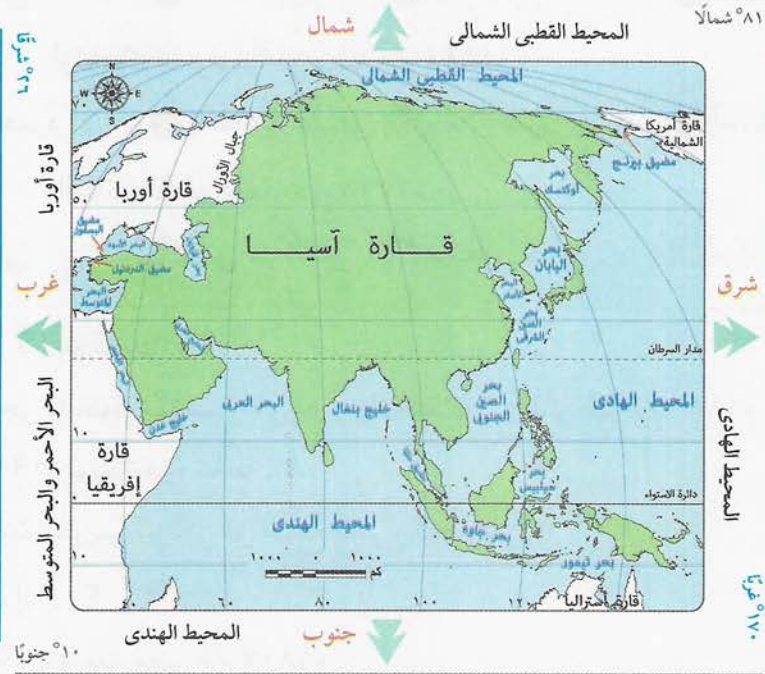
(ب) ماذا يحدث إذا ... ؟

- ١ نجحت حملة فريزر على مصر عام ١٨٠٧ م .
٢ انتصر المماليك في موقعة الريدانية عام ١٥١٧ م .
٣ لم يتم اكتشاف حجر رشيد .

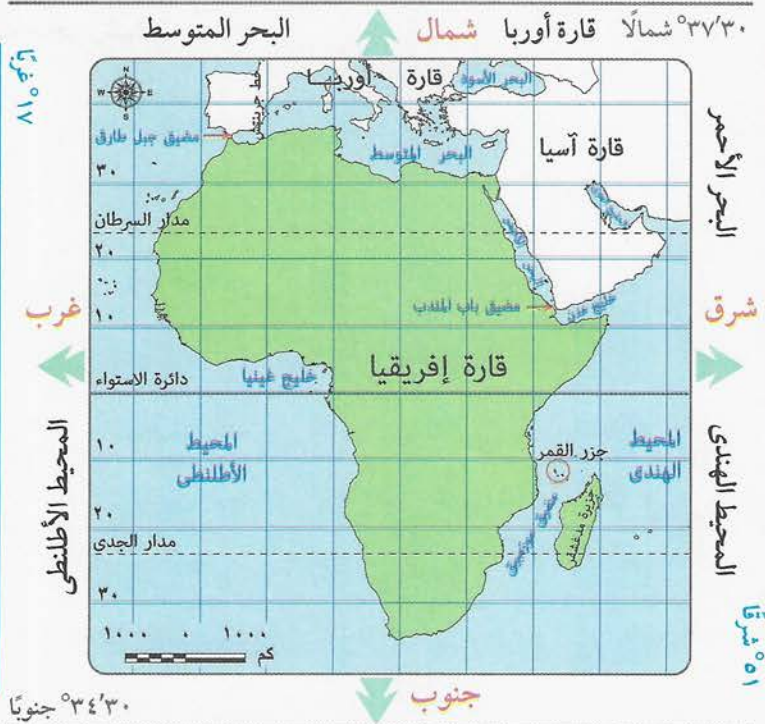
أطلس لأهم الخرائط

الموقع الفلكي والجغرافي

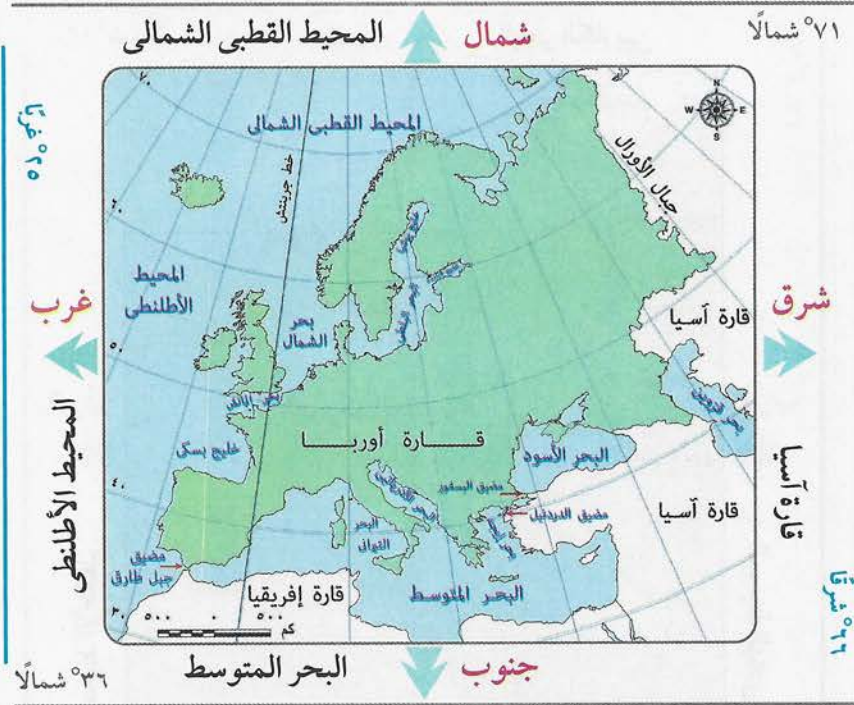
قارة آسيا



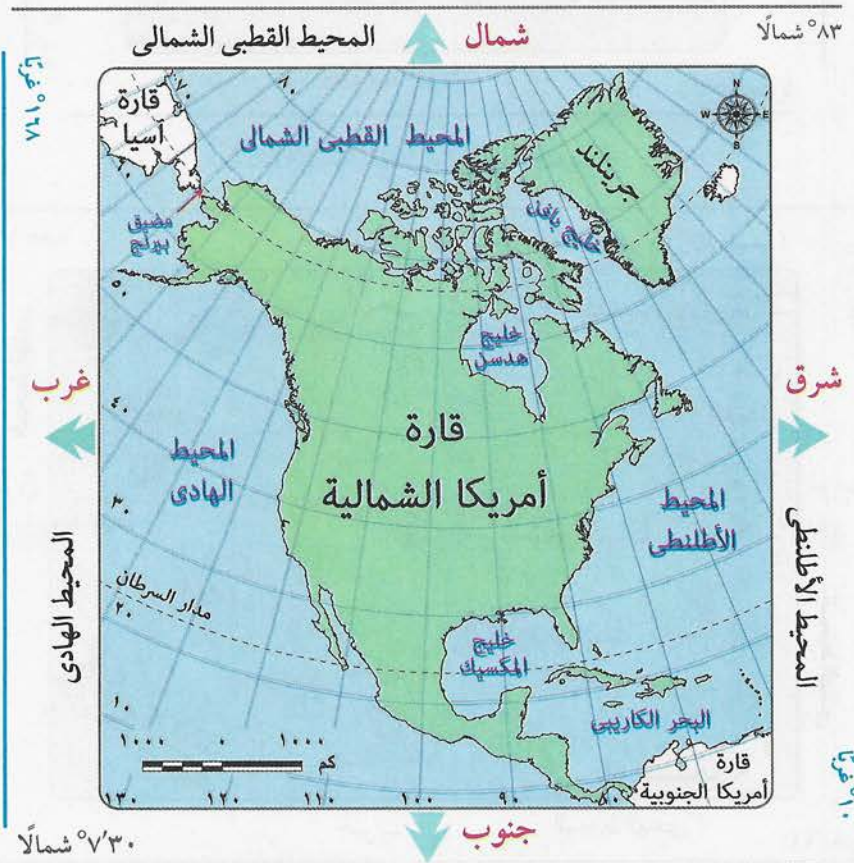
قارة إفريقيا



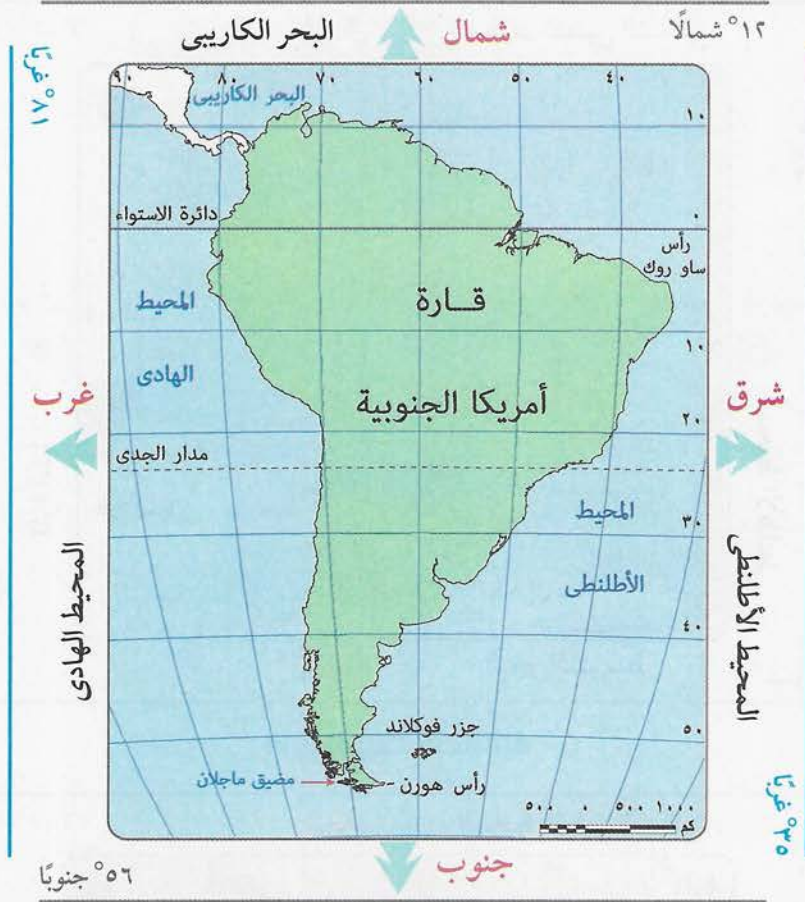
قارة أوروبا



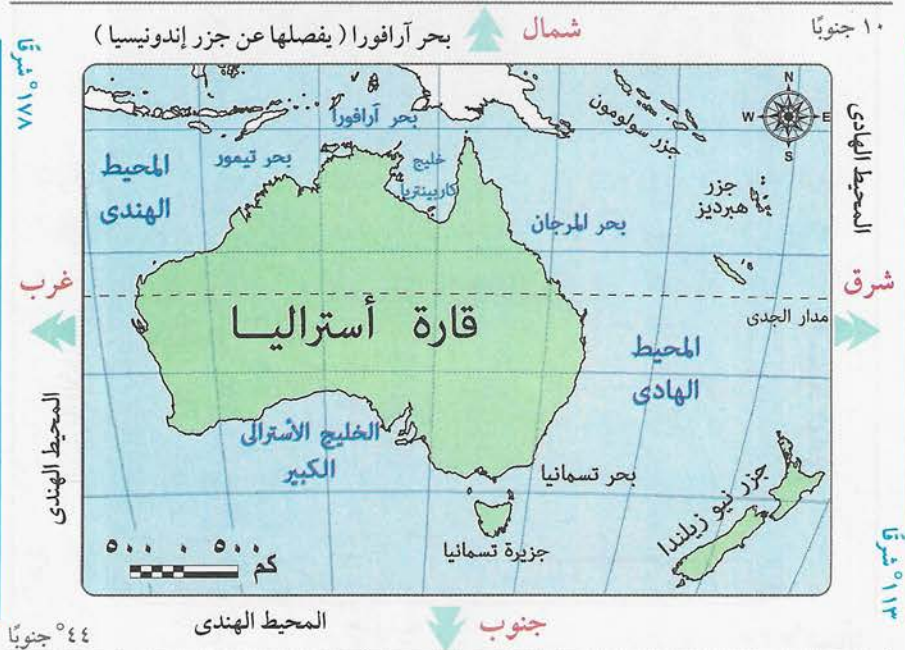
قارة أمريكا الشمالية



قارة أمريكا الجنوبية

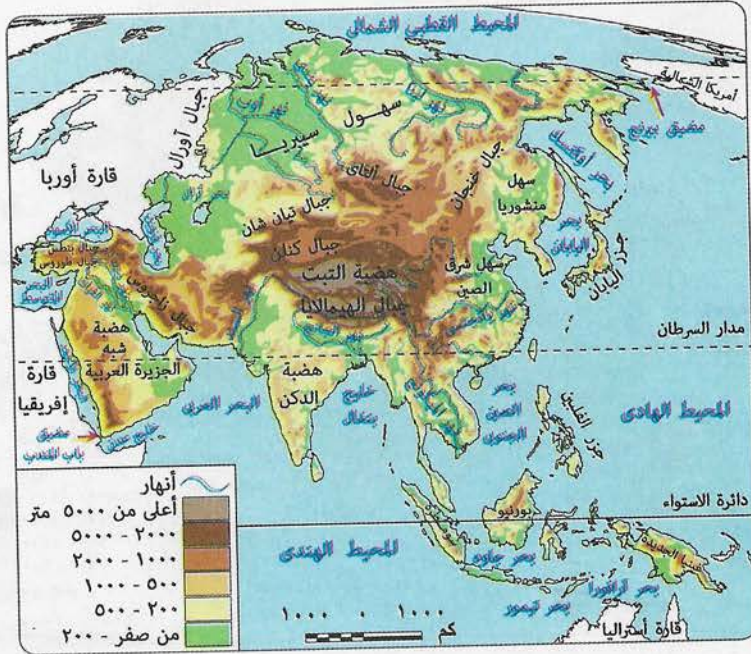


قارة أستراليا (الأوقيانوسية)



التضاريس

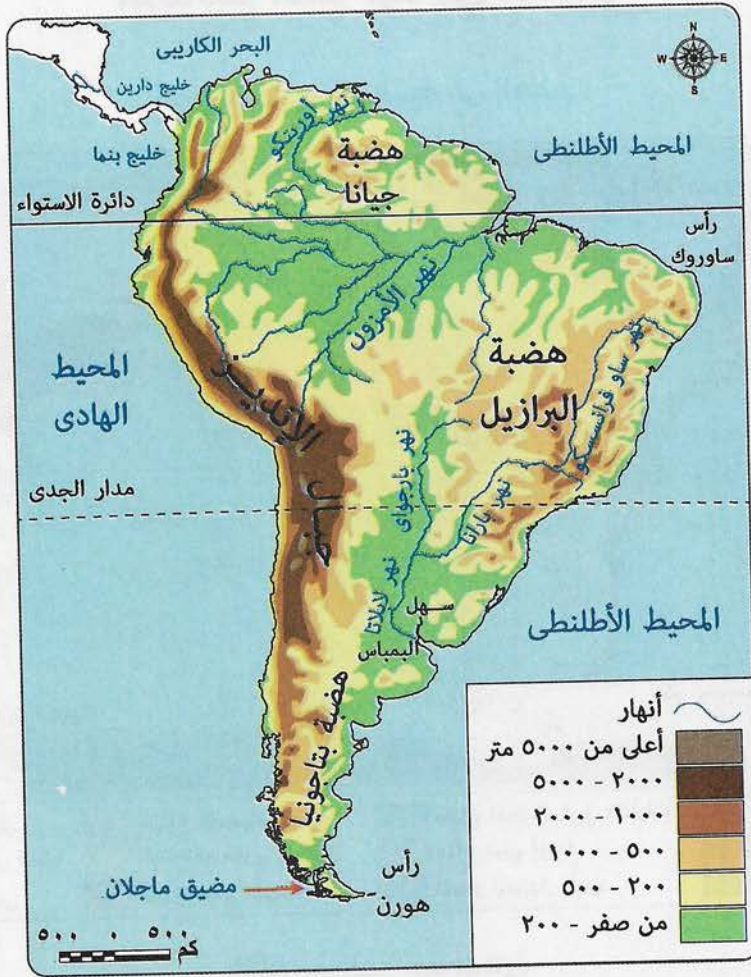
قارة آسيا



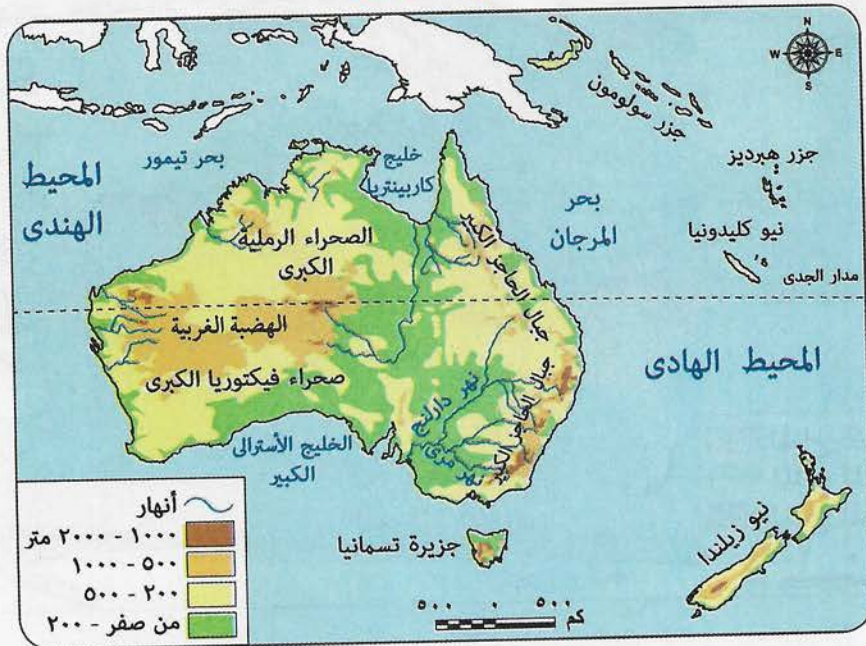
قارة إفريقيا



قارة أمريكا الجنوبية

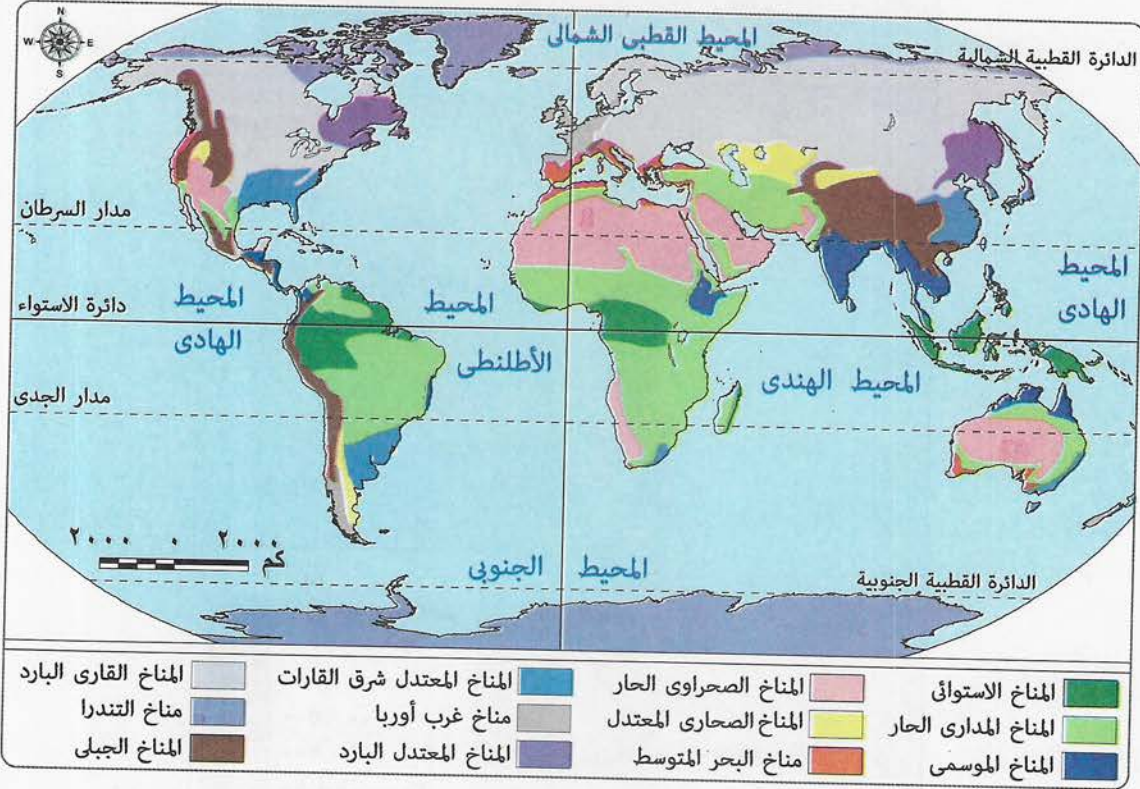


قارة أستراليا

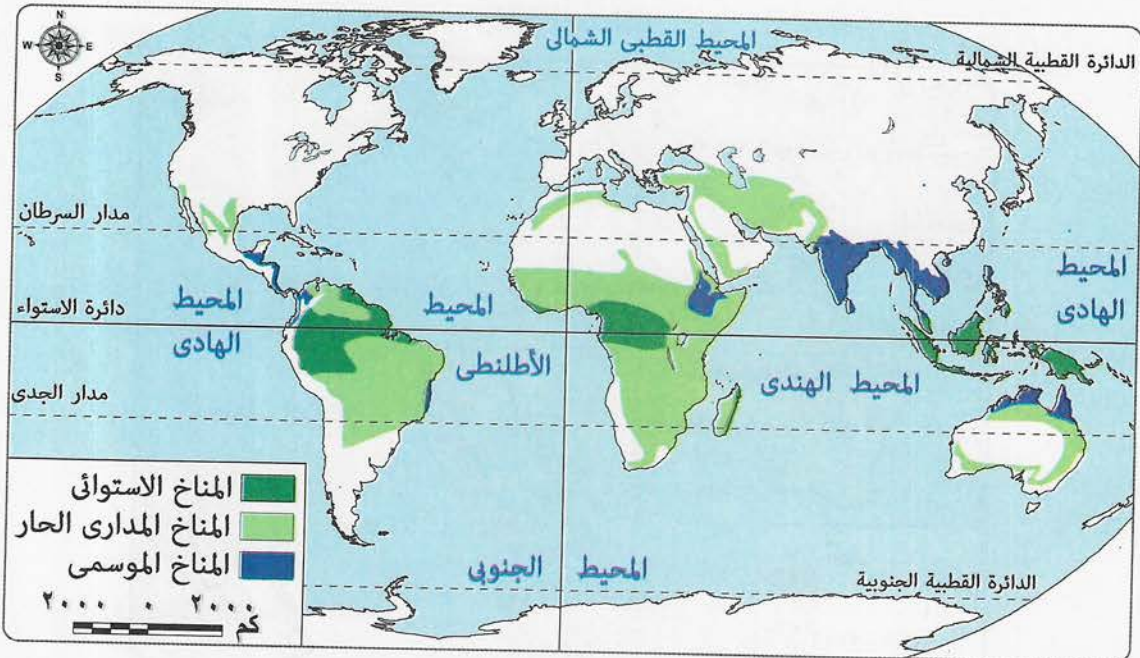


الأقاليم المناخية فى العالم

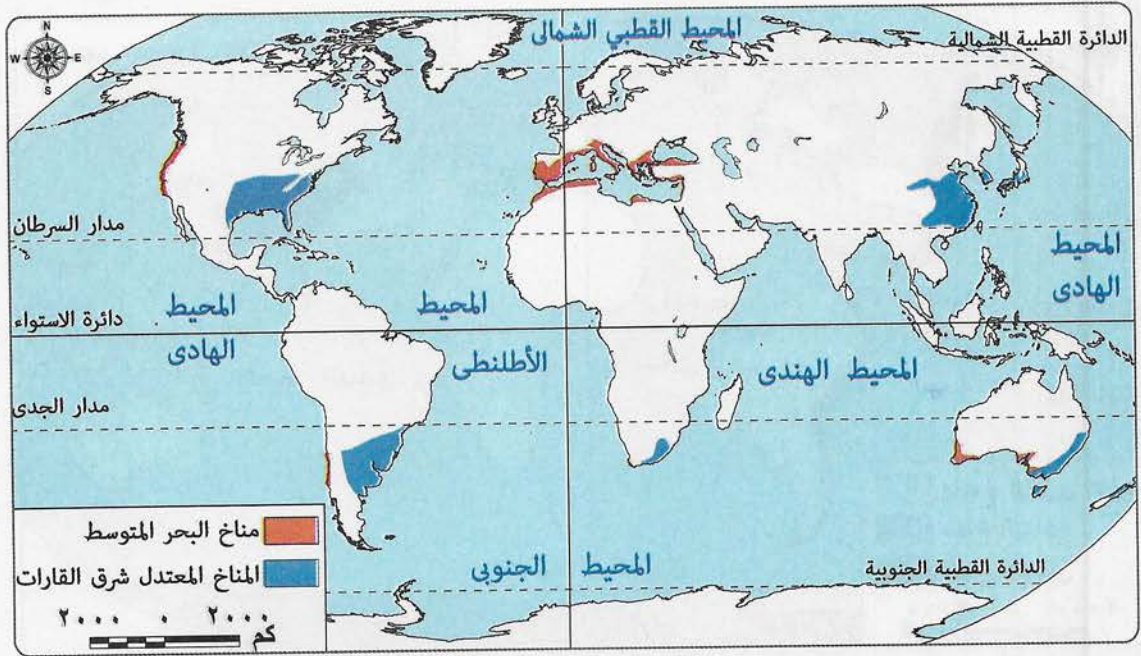
أنواع الأقاليم المناخية فى العالم



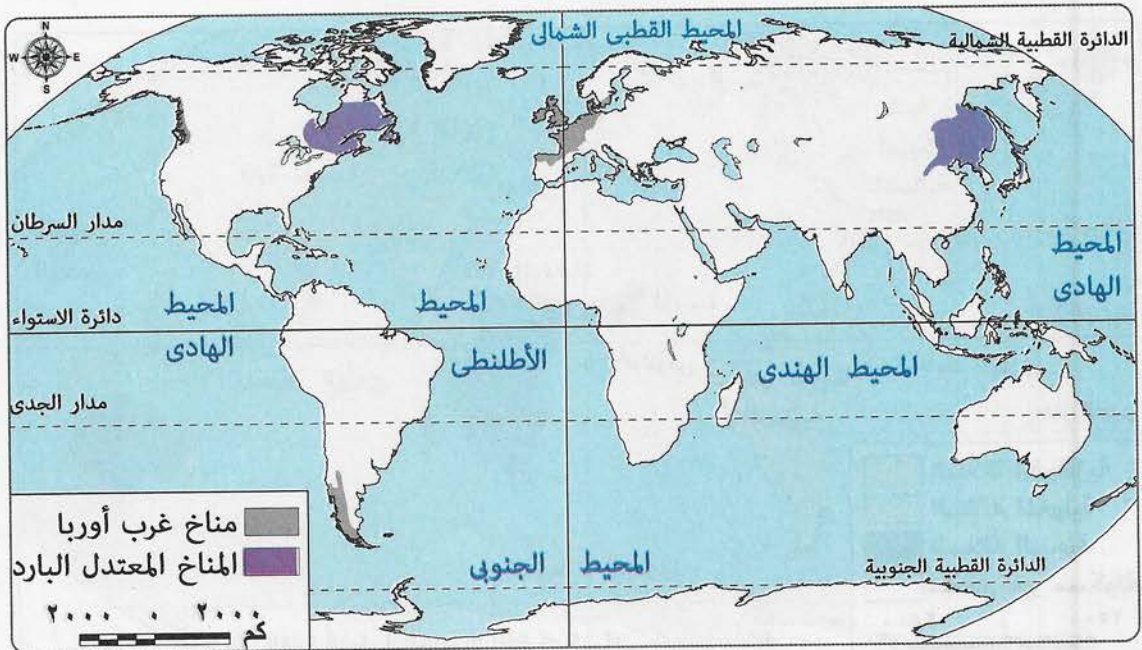
الأقاليم المناخية الحارة



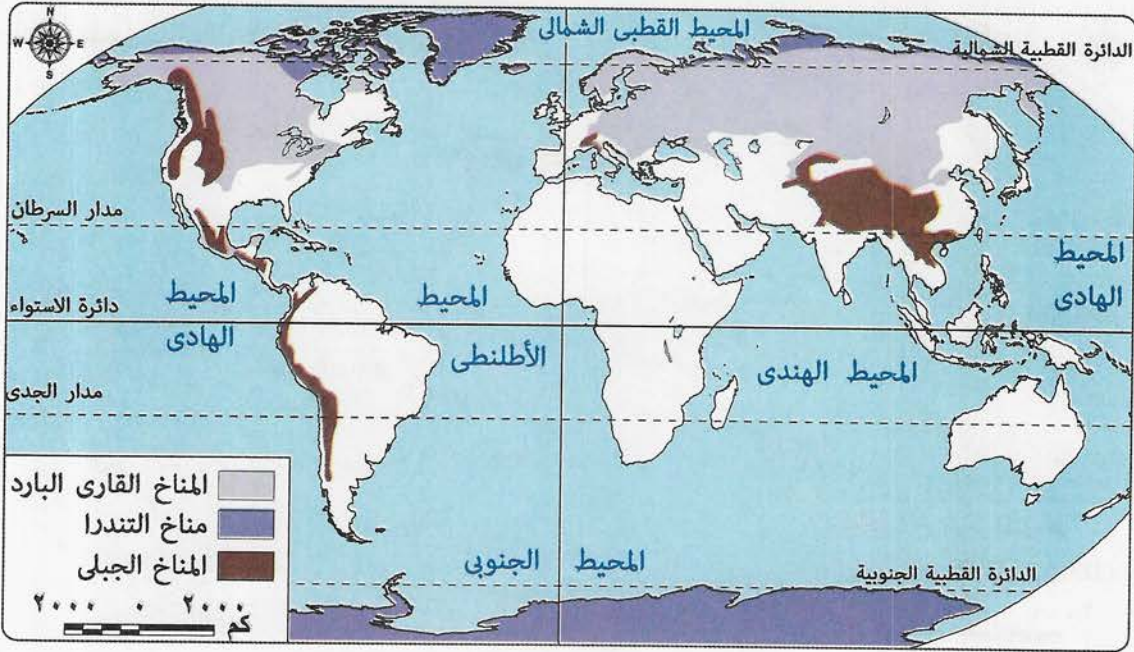
الأقاليم المناخية المعتدلة



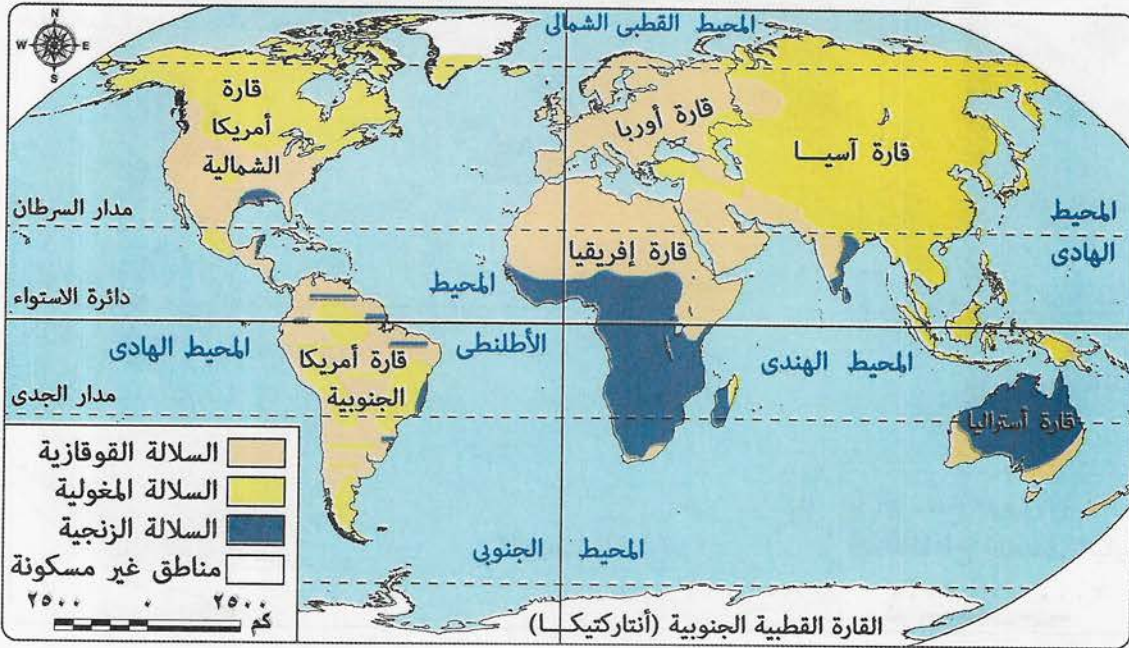
الأقاليم المناخية المعتدلة الباردة



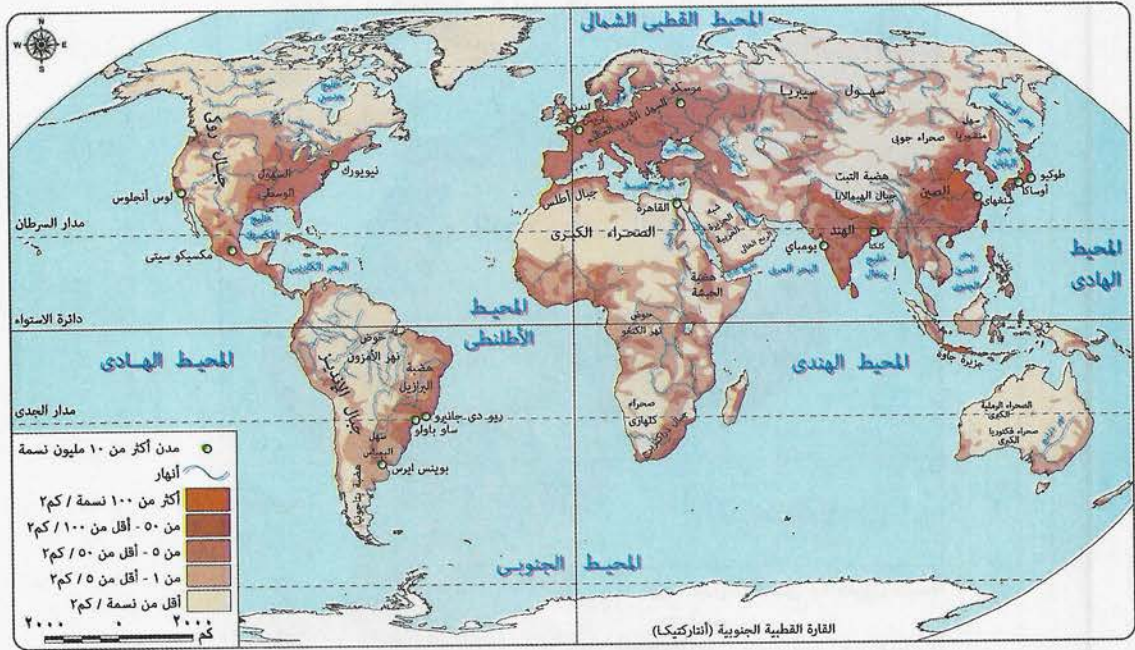
الأقاليم المناخية الباردة



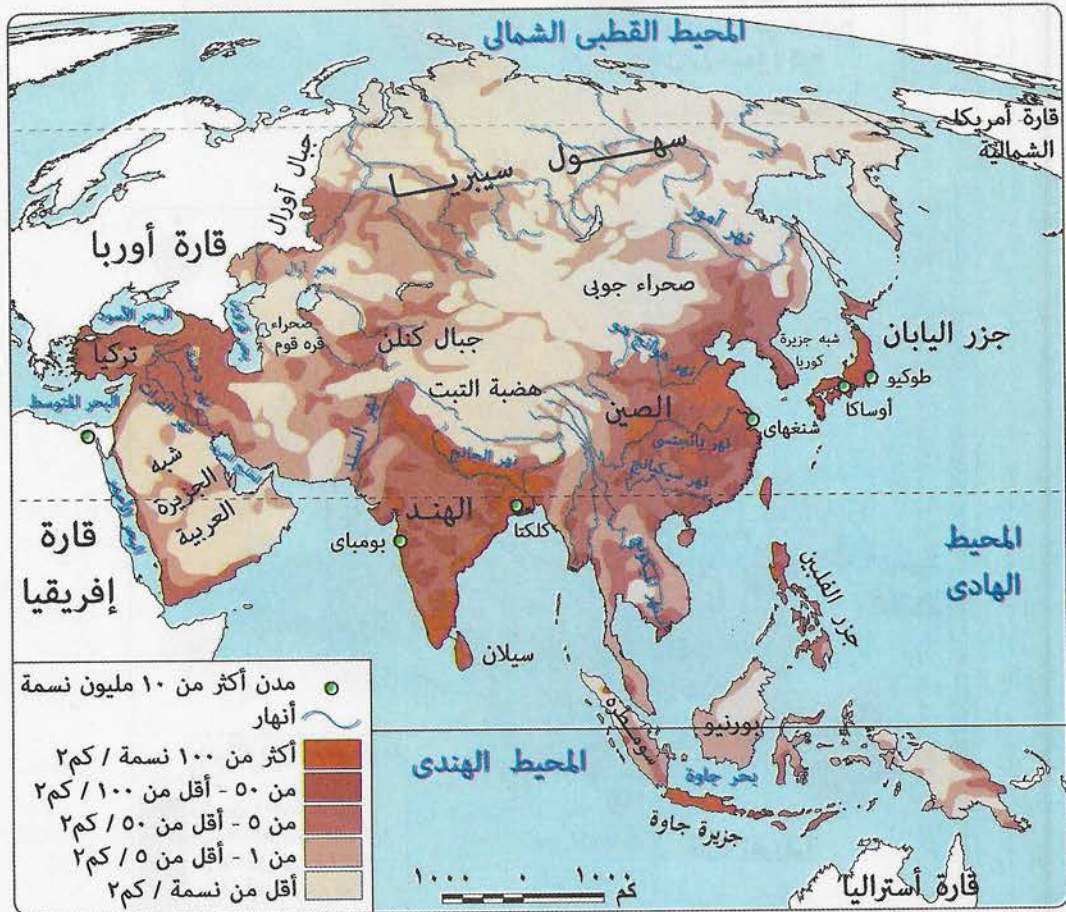
السلالات البشرية في العالم



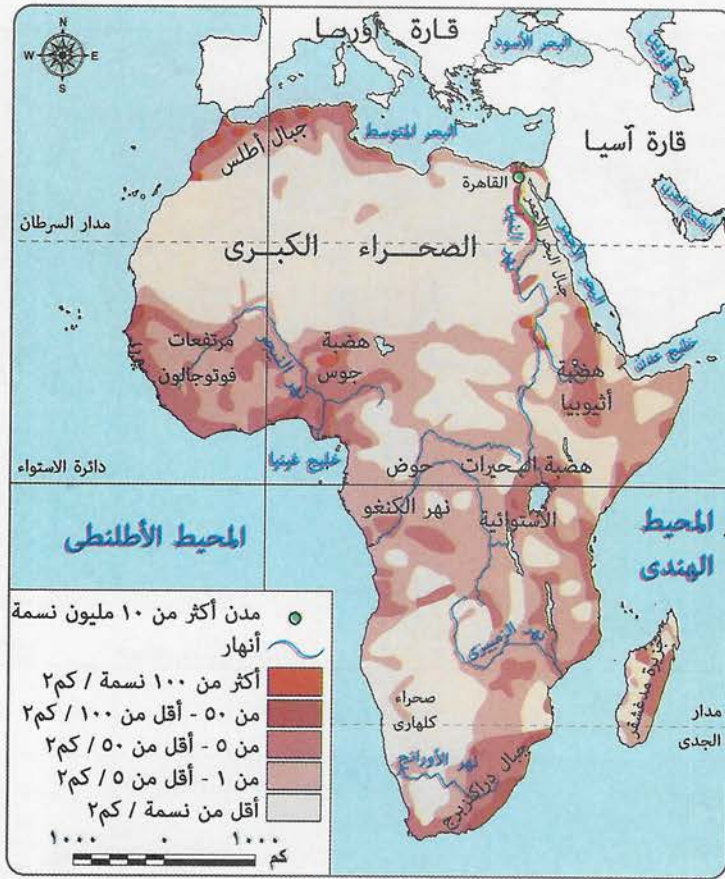
توزيع السكان في العالم



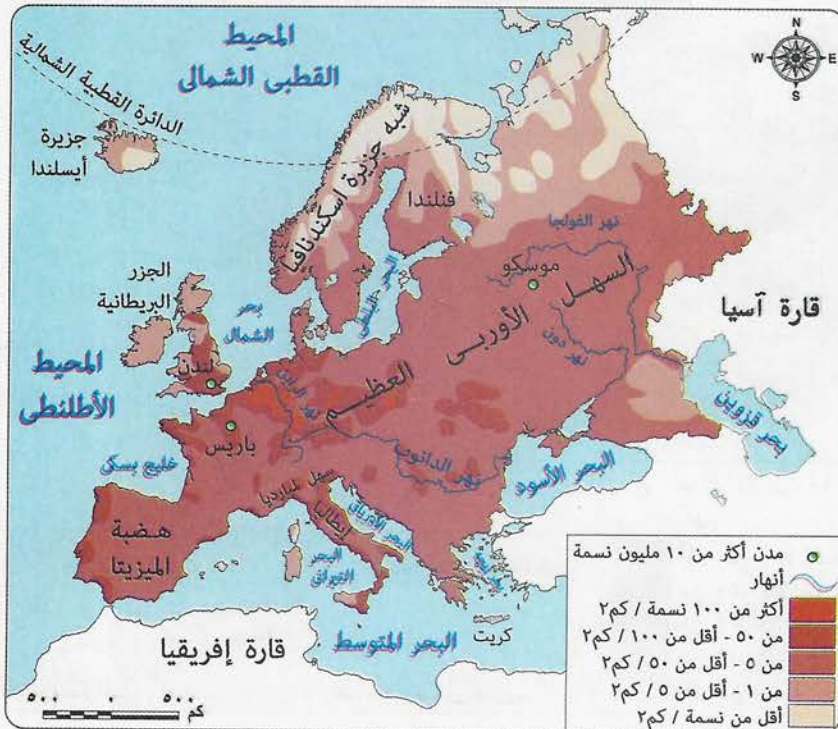
قارة آسيا



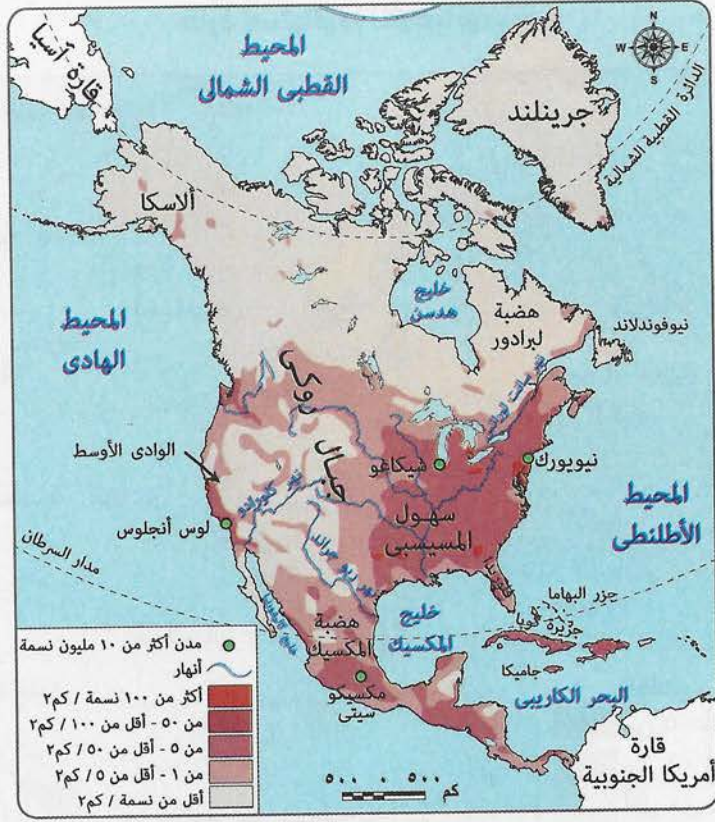
قارة إفريقيا



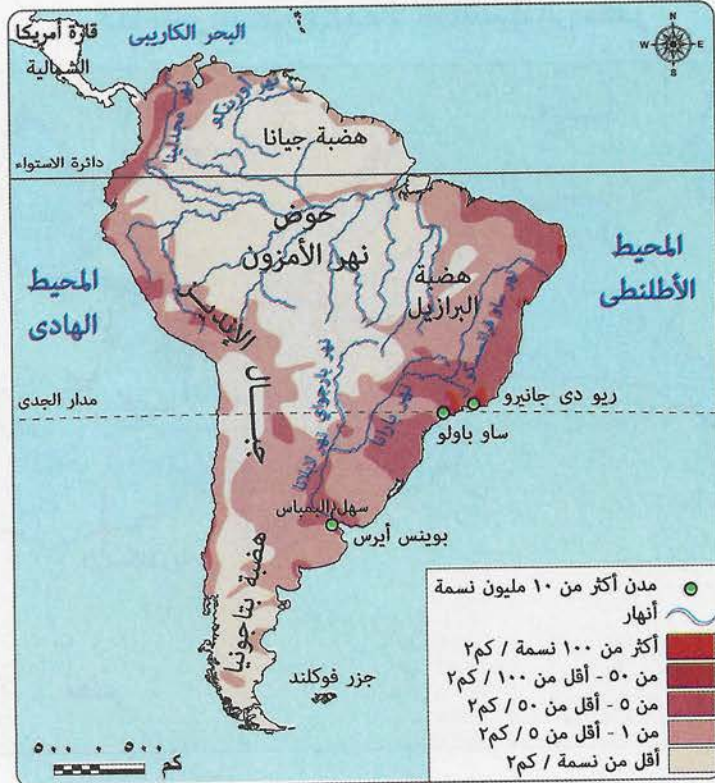
قارة أوروبا



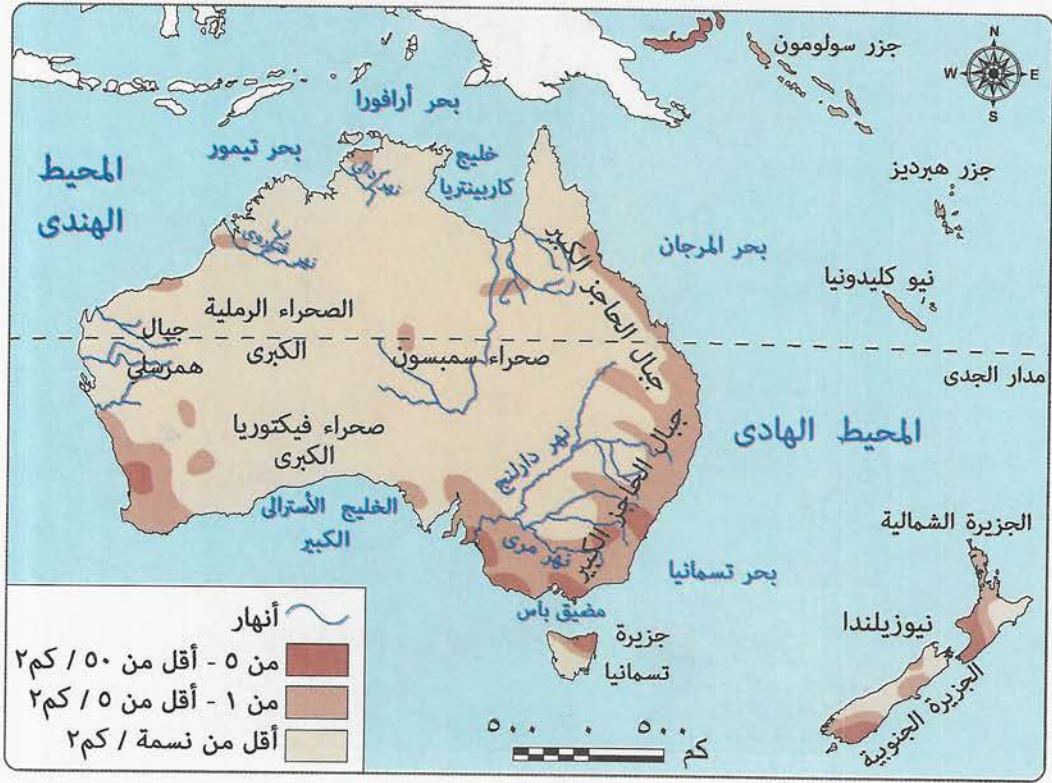
قارة أمريكا الشمالية



قارة أمريكا الجنوبية



قارة أستراليا (الأوقيانوسية)



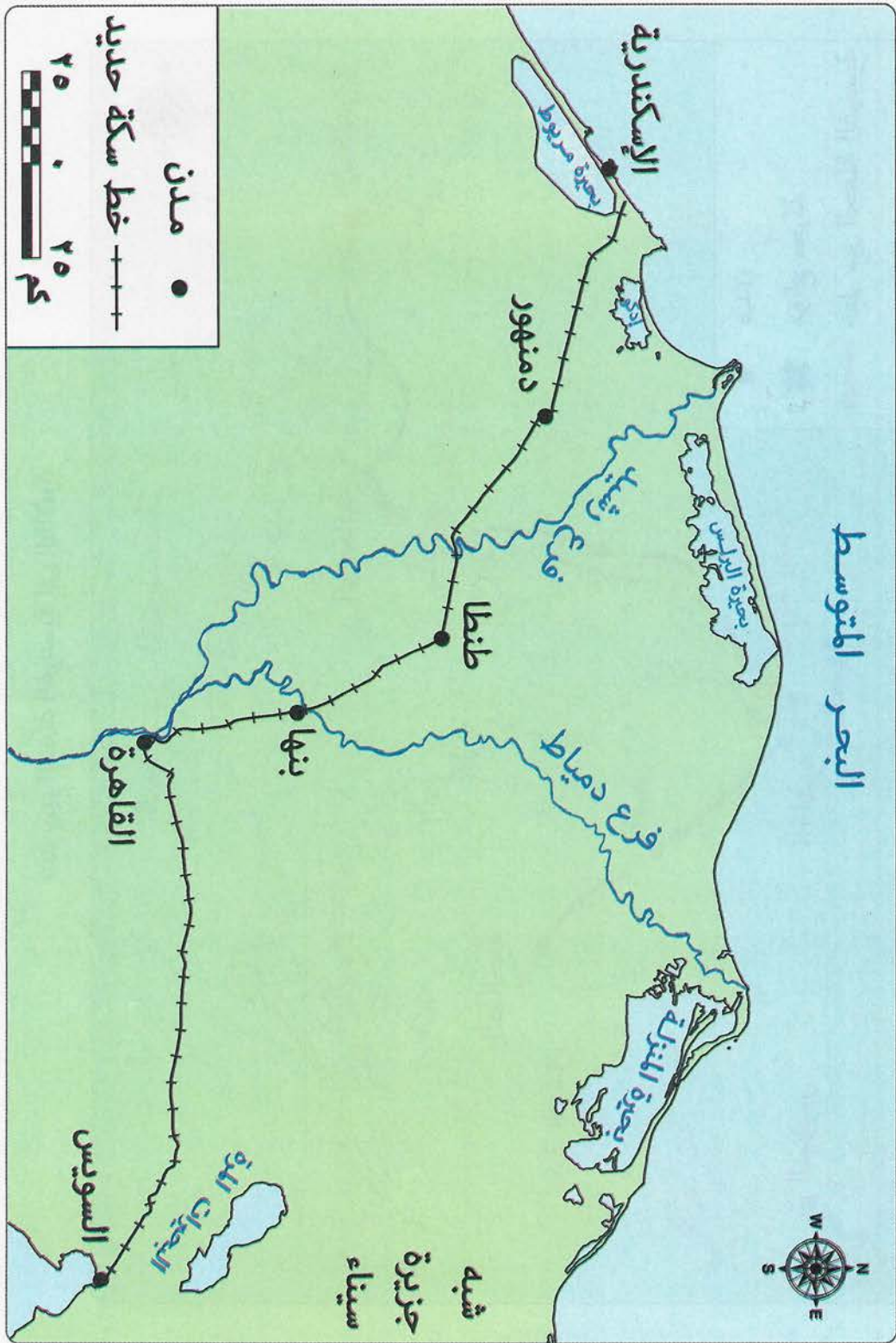
خط سير أسطول الحملة الفرنسية إلى مصر



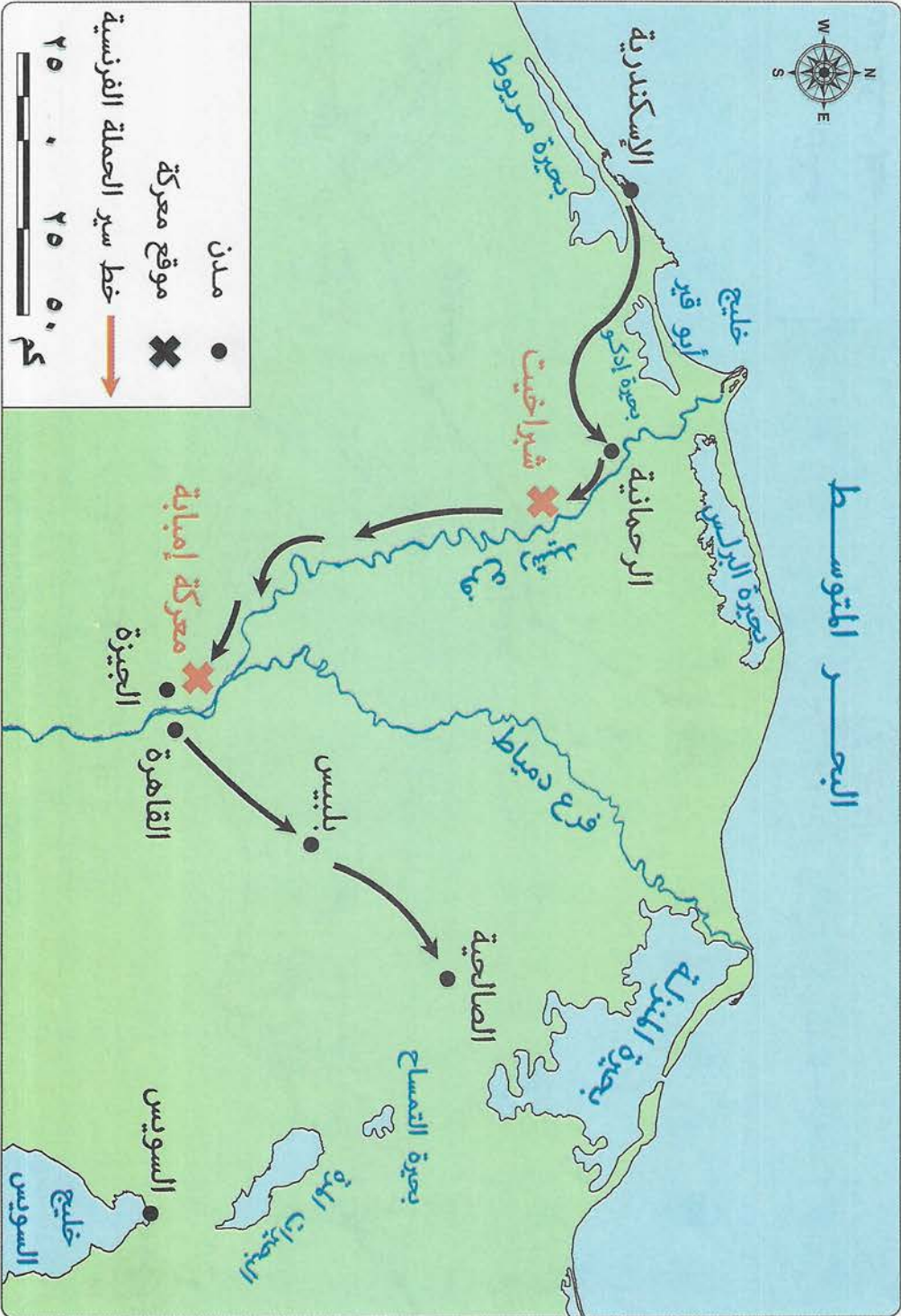
الحروب الوهابية

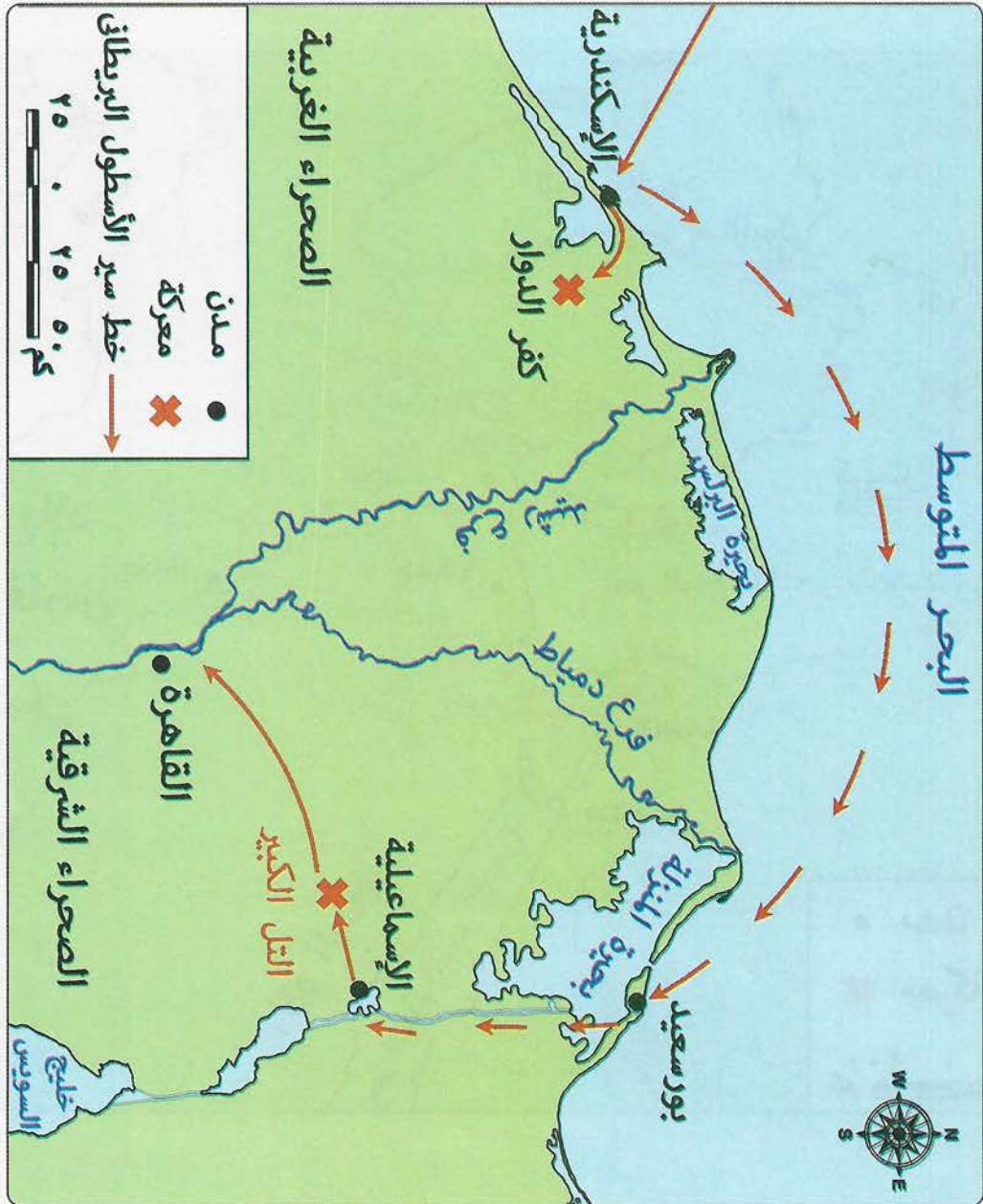


خط سكة حديد مصر في عهد الخديو سعيد



خط سير الحملة الفرنسية إلى القاهرة

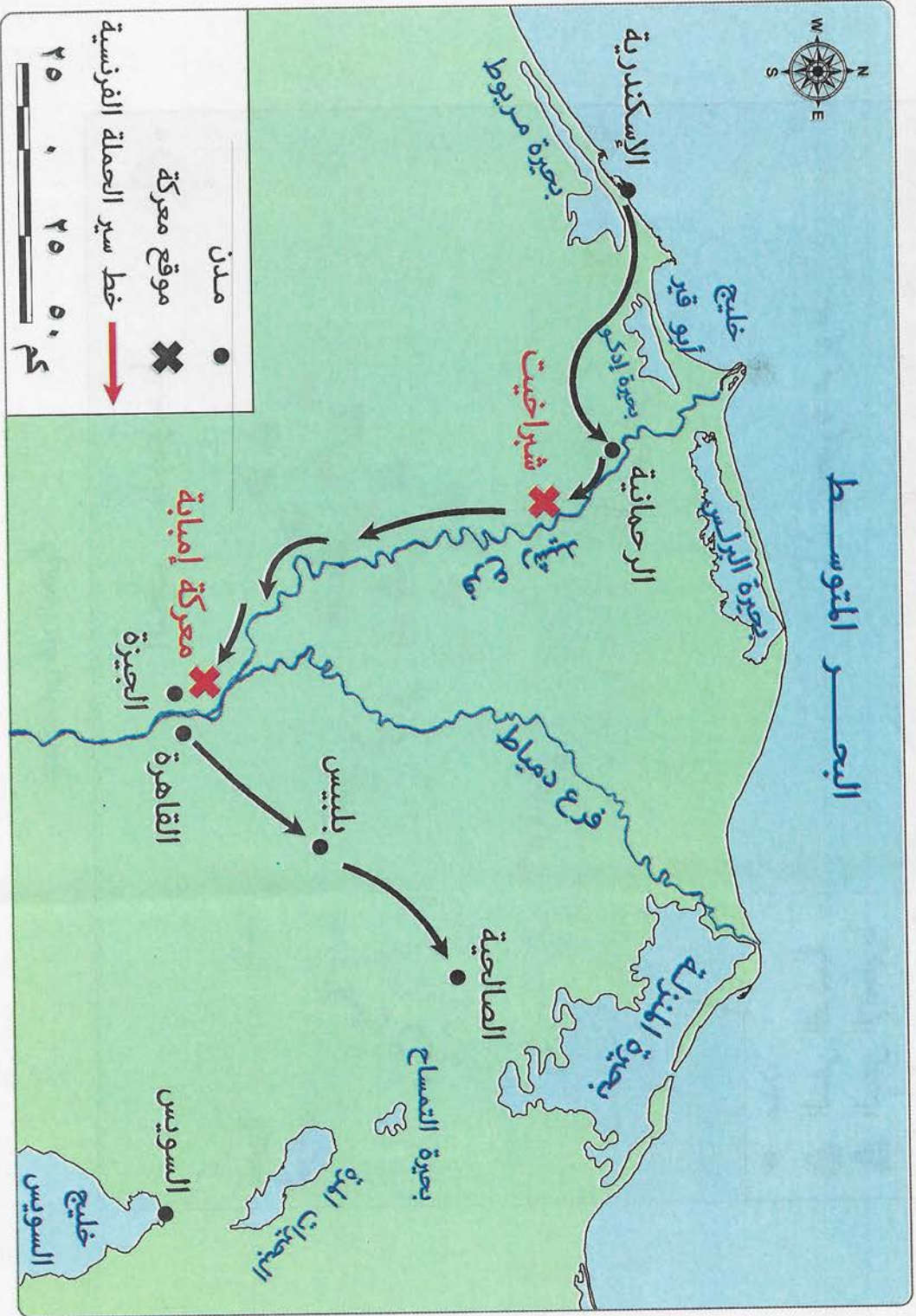




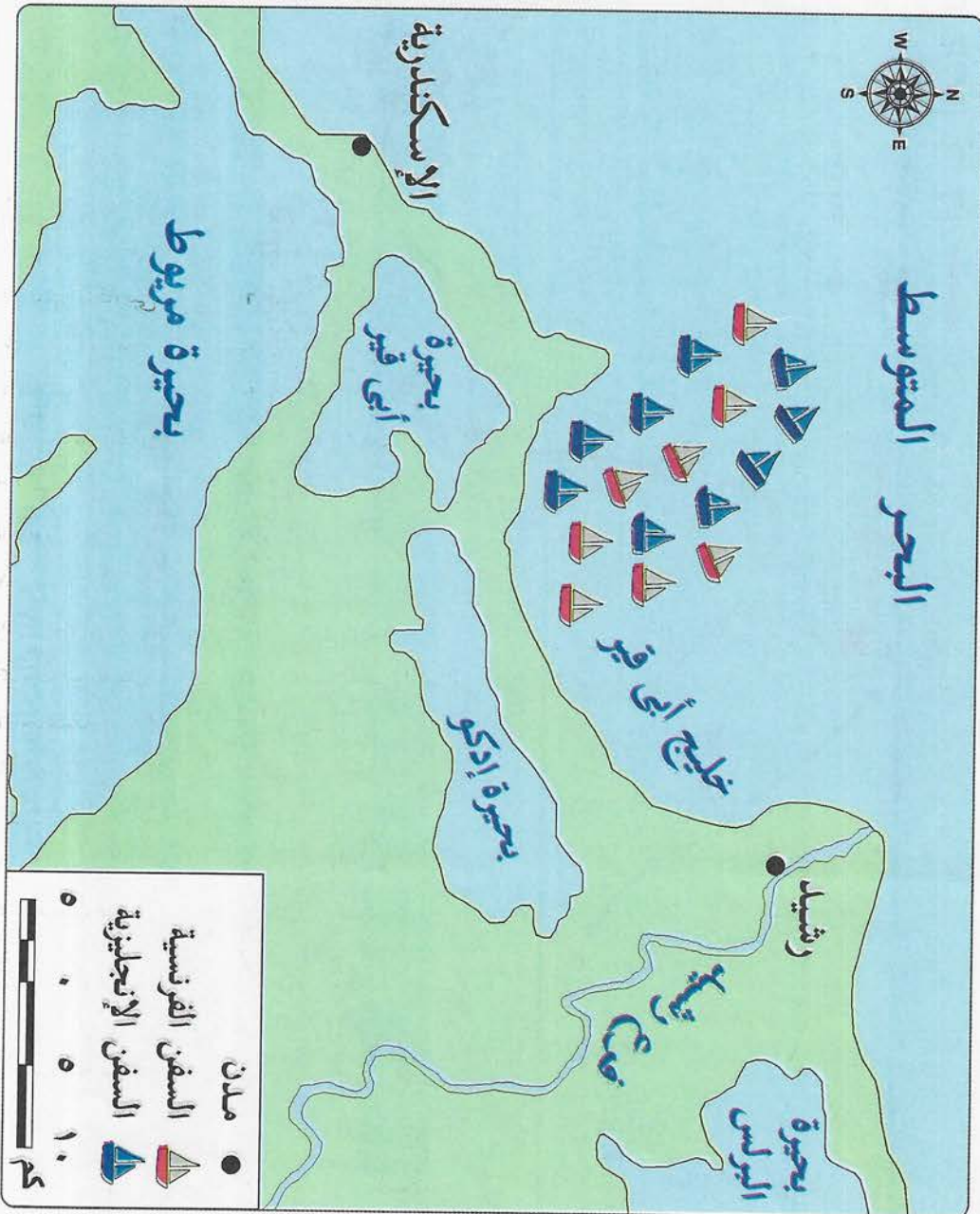
معركتا مرج دابق والريدانية



خط سير الحملة الفرنسية إلى القاهرة



معركة أبي قير البحرية



الإجابات الاسترشادية

السؤال الخامس :

- | | |
|------------|-----------|
| ١ آسيا | ٢ أوروبا |
| ٣ إفريقيا | ٤ إفريقيا |
| ٥ أستراليا | ٦ آسيا |

السؤال السادس :

- | | |
|-----------|-------------------|
| ١ الهندي | ٢ المتوسط |
| ٣ آسيا | ٤ الهادي |
| ٥ إفريقيا | ٦ أمريكا الشمالية |

أسئلة امتحانات المحافظات على الدرس الأول

السؤال الأول :

- | | |
|------------------|--------------------|
| ١ أستراليا | ٢ أورال |
| ٣ الأطلنطي | ٤ الكاريبي |
| ٥ الغربية | ٦ أوروبا |
| ٧ بحر قزوين | ٨ الهندي |
| ٩ بحر آرافورا | ١٠ الأحمر |
| ١١ جزر إندونيسيا | ١٢ أمريكا الجنوبية |
| ١٣ سيناء | |

السؤال الثاني :

- ١ بسبب كثرة تعرج سواحلها .
- ٢ لأنها متجمدة وغير مأهولة بالسكان .

السؤال الثالث والرابع : أجب بنفسك .

السؤال الخامس :

- | | |
|-------------------------|------------------|
| ١ المحيط القطبي الجنوبي | ٢ مدار السرطان |
| ٣ أمريكا الجنوبية | ٤ البحر الكاريبي |
| ٥ الأحمر | ٦ بيرنج |

أسئلة الشاطر على الدرس الثاني

السؤال الأول :

- | | |
|-----------------------|----------------|
| ١ إفريست | ٢ التبت |
| ٣ القطبي الشمالي | ٤ البحر الأحمر |
| ٥ البحيرات الاستوائية | ٦ كلنشو |

أولاً : الجغرافيا

إجابات الوحدة الأولى الجغرافيا الطبيعية للعالم

أسئلة الشاطر على الدرس الأول

السؤال الأول :

- | | |
|--------------------|--------------------------|
| ١ أستراليا | ٢ أوروبا |
| ٣ البحر الأحمر | ٤ ثلاث |
| ٥ البحر الكاريبي | ٦ أستراليا |
| ٧ مدار السرطان | ٨ أمريكا الجنوبية |
| ٩ آرافورا | ١٠ أورال |
| ١١ المحيط الهادي | ١٢ أمريكا الشمالية |
| ١٣ آسيا | ١٤ اليابان |
| ١٥ آسيا | ١٦ آيسلندا |
| ١٧ آسيا | ١٨ ثلاث |
| ١٩ أمريكا الجنوبية | ٢٠ البحر المتوسط |
| ٢١ باب المنذب | ٢٢ المحيط القطبي الشمالي |
| ٢٣ مدغشقر | ٢٤ أنتاركتيكا |
| ٢٥ إنجلترا | ٢٦ الهادي |
| ٢٧ أمريكا الشمالية | ٢٨ أستراليا |
| ٢٩ الموقع الفلكي | ٣٠ جزر إندونيسيا |
| ٣١ جميع الجهات | ٣٢ ثلاث قارات |

السؤال الثاني :

- ١ بسبب تعرج السواحل وكثرة الجزر .
- ٢ لأنها متجمدة .

السؤال الثالث :

- ١ إنشاء الموانئ الطبيعية .
- ٢ غير مأهولة بالسكان .

السؤال الرابع :

- ١ البحر المتوسط ملتقى قارات العالم القديم .
- ٢ يشترك البحر الكاريبي في الحدود الجغرافية لقارتي أمريكا الشمالية والجنوبية .

- ٥ ضيق السهول الساحلية في غرب قارة أمريكا الجنوبية .
٦ ضيق السهول الساحلية في شرق أستراليا .

السؤال الرابع :

- ١ آسيا ٢ أوروبا
٣ أمريكا الجنوبية ٤ إفريقيا
٥ إفريقيا ٦ آسيا
٧ أوروبا ٨ إفريقيا

السؤال الخامس :

- ١ هضبة البحيرات الاستوائية من منابع نهر النيل .
٢ نهر النيجر يصب في خليج غينيا .
٣ نهر أوب يكون متجمداً شتاءً وبالتالي يفقد أهميته الاقتصادية .
٤ السهل الأوربي العظيم يتكون معظمه من رواسب طينية تمثل تربة جيدة صالحة للزراعة .
٥ امتداد جبال الإنديز في غرب قارة أمريكا الجنوبية أدى إلى ضيق السهول الساحلية في الغرب .

السؤال السادس :

- ١ البحر المتوسط ٢ المحيط الأطلنطي
٣ خليج المكسيك ٤ المحيط الأطلنطي
٥ بحر قزوين ٦ خليج هدسن
٧ المحيط الهندي ٨ الخليج الأسترالي الكبير
٩ البحر العربي / المحيط الهندي
١٠ البحر الأسود

السؤال السابع :

- ١ لأن كليهما يسوده المظهر الهضبي .
٢ حيث توجد سهول ساحلية على طول سواحل المحيطات (الأطلنطي والهندي) وتمتد سهول ساحلية على سواحل البحر المتوسط والأحمر ؛ كما يوجد في إفريقيا أيضاً سهول فيضية تتميز بجودة التربة وصلاحيتها للزراعة مثل سهول نهر النيل وسهول نهر النيجر وسهول نهر الكونغو ؛ كما توجد أيضاً سهول صحراوية ، والتي تنتشر في الصحراء الكبرى وهي سهول متسعة مثل سهول كلنشو في ليبيا ، والذي يمتد بين مصر وليبيا ، ويعرف ببحر الرمال العظيم وسهول صحراء كلهارى في جنوب القارة .

- ٧ الميزيتا ٨ الفولجا
٩ خليج سانت لورانس ١٠ الإنديز
١١ العراق وإيران ١٢ سيبيريا
١٣ الخليج العربي ١٤ إريتريا
١٥ الهضبي ١٦ السين
١٧ البحر الأسود ١٨ أمريكا الشمالية
١٩ جبال روكي ٢٠ المحيط الهادي
٢١ نصف ٢٢ تركيا
٢٣ الدكن ٢٤ الجنوب
٢٥ البانجتي ٢٦ دراكنزبرج
٢٧ أورانج ٢٨ الأورينكو
٢٩ برلين ٣٠ نلسن
٣١ جيانا ٣٢ الإنديز
٣٣ دارلنج ٣٤ الغربية
٣٥ إفريقيا ٣٦ سيبيريا
٣٧ البرازيل ٣٨ الأمزون

السؤال الثامن :

- ١ بسبب ارتفاعها عن قمم الجبال .
٢ لأنها متجمدة .
٣ تتبع منهما روافد نهر النيل .
٤ بسبب اقتراب حافات الجبال والهضاب من الساحل .
٥ بسبب تعرج السواحل .
٦ صالح للزراعة ويوجد به مدن رئيسية مهمة مثل باريس وبرلين .
٧ صالحة للزراعة .
٨ بسبب اقتراب جبال الإنديز من ساحل المحيط الهادي .
٩ بسبب اقتراب جبال الحاجز الكبير من ساحل المحيط الهادي .
١٠ سهول صالحة للزراعة وتوجد بها الكثير من المدن المهمة .

السؤال التاسع :

- ١ تسمى سقف العالم .
٢ تفقد أهميتها الاقتصادية شتاءً .
٣ يسودها المظهر الهضبي .
٤ إنشاء العديد من الموانئ الطبيعية .

السؤال الثامن :

(أولاً)

- ١ القطبى الشمالى
٢ الدكن
٣ قزوين
٤ الهادى
٥ إفريقيا
٦ الهيمالايا

(ثانياً)

- ١ باب المنذب
٢ الهندى
٣ المتوسط
٤ أطلس

(ثالثاً)

- ١ القطبى الشمالى
٢ المتوسط
٣ آسيا
٤ الأوربى العظيم

(رابعاً)

- ١ المكسيك
٢ الأطلنطى
٣ الإنديز
٤ الهادى
٥ روكى
٦ الأورينكو
٧ مدار الجدى
٨ البرازيل

(خامساً)

- ١ أستراليا الغربية
٢ الهندى
٣ تسمانيا
٤ الحاجز الكبير

أسئلة امتحانات المحافظات على الدرس الثانى

السؤال الأول :

- ١ الفولجا
٢ أمريكا الجنوبية
٣ فرنسا الوسطى
٤ الأبلاش
٥ ليبيا
٦ القطبى الشمالى
٧ جنوب
٨ بحر قزوين
٩ السهل الأوربى العظيم
١٠ إفريقيا الجنوبية
١١ روكى

السؤال الثانى :

- ١ لارتفاعها عن قمم الجبال العالية .
٢ لاقتراب جبال الإنديز من ساحل المحيط الهادى .
٣ لاقتراب جبال الحاجز الكبير من ساحل المحيط الهادى .
٤ بسبب كثرة تعرج سواحلها .
٥ بسبب تجمدها .
٦ لوجود مدن هامة وقيام الزراعة .

السؤال الثالث : أجب بنفسك .

السؤال الرابع :

- ١ نهر فى أمريكا الشمالية .
٢ جبال فى آسيا .
٣ هضبة فى آسيا .
٤ سهل صحراوى فى إفريقيا (ليبيا) .

السؤال الخامس :

- ١ المحيط القطبى الشمالى .
٢ المحيط الأطلنطى .
٣ البحر الأسود .
٤ الخليج الأسترالى الكبير .

الأسئلة من السادس إلى الثامن : أجب بنفسك .

أسئلة الشاطر على الدرس الثالث

السؤال الأول :

- ١ الاستوائى
٢ المطاط والماهو جنى
٣ المدارى الحار
٤ الموسمى
٥ الصيف
٦ السافانا
٧ الإستبس
٨ البحر المتوسط
٩ الصنوبر والشربين
١٠ التندرا
١١ آسيا
١٢ نهر الأمزون
١٣ حشائش الإستبس
١٤ الزيتون
١٥ الشتاء
١٦ جنوب شرق
١٧ كمية المطر
١٨ اللورانسى
١٩ اللورانسى
٢٠ القطبى البارد
٢١ الإقليم المدارى الحار
٢٢ الاستوائى
٢٣ الموسمى
٢٤ الحيوانات المتسلقة
٢٥ الموسمى
٢٦ البحر المتوسط
٢٧ الإقليم الصينى
٢٨ طوال العام
٢٩ الإقليم الاستوائى
٣٠ السافانا
٣١ التندرا
٣٢ إقليم البحر المتوسط

السؤال الثانى :

- ١ تستغل كمراع طبيعية .
٢ حسب كمية الأمطار .
٣ لأنه يعيش فيها حيوانات آكلة للحوم وحيوانات آكلة للعشب .

السؤال السادس :

- ١ غابات استوائية
٢ غابات مخروطية
٣ غابات البحر المتوسط
٤ غابات الإقليم الصيني

السؤال السابع :

- ١ الصيف
٢ الشتاء
٣ الصيف
٤ طوال العام وتزداد صيفاً

السؤال الثامن :

- ١ الغابات الاستوائية
٢ السافانا
٣ التندرا
٤ الغابات المخروطية
٥ الغابات الاستوائية

السؤال التاسع :

الجدول

الأقاليم المناخية في إفريقيا	الأقاليم المناخية في أستراليا
الإقليم الاستوائي (حوض الكونغو)	الإقليم المداري (شمال القارة)
الإقليم المداري الحار	الإقليم الموسمي (أقصى شمال القارة)
إقليم البحر المتوسط (سواحل دول المغرب العربي)	إقليم البحر المتوسط (جنوب غرب)
الإقليم الصيني (جنوب شرق القارة)	الإقليم الصيني (جنوب شرق)

السؤال العاشر :

- ١ استوائي
٢ الإستبس
٣ موسمية
٤ غرب أوروبا
٥ استوائية (الأمزون)
٦ التندرا (البارد)

أسئلة امتحانات المحافظات على الدرس الثالث

السؤال الأول :

- ١ طوال العام
٢ المخروطية
٣ الزان
٤ المطاط
٥ الصنوبر
٦ الإقليم الصيني
٧ التندرا
٨ الصيني
٩ الصيني
١٠ المعتدلة الدفيئة

السؤال الثاني :

- ١ لوقوعها في نطاق الإقليم الموسمي .

- ٤ لأنها تنفض أوراقها في فصل الشتاء من شدة البرودة .
٥ بسبب اتساع مساحتها .
٦ طبقاً لارتفاع السطح وكمية الأمطار .
٧ لأنه يقع ضمن الإقليم الاستوائي .

السؤال الثالث :

- ١ أدى إلى تدرج طول الحشائش .
٢ تعتبر حديقة حيوان طبيعية .
٣ تنفض الغابات النفضية أوراقها .
٤ أدى إلى تنوع الحياة النباتية بالإقليم .

السؤال الرابع :

- ١ الإقليم المداري الحار والإقليم الموسمي .

الموسمي	المداري الحار
كلاهما من الأقاليم الحارة التي تتميز بارتفاع الحرارة صيفاً والجفاف شتاءً ، وسقوط الأمطار صيفاً .	أوجه التشابه
الامتداد .	أوجه الاختلاف

- ٢ إقليم البحر المتوسط والإقليم الصيني .

الصيني	البحر المتوسط
كلاهما من الأقاليم المعتدلة الدفيئة وتنمو بهما حشائش الإستبس .	أوجه التشابه
سقوط الأمطار طوال العام وتزداد صيفاً .	سقوط الأمطار شتاءً .
الاختلاف	أوجه الاختلاف

- ٣ إقليم الغابات النفضية والغابات المخروطية .

الغابات النفضية	الغابات المخروطية
كلاهما من الأقاليم المعتدلة الباردة التي تتميز بالبرودة شتاءً والاعتدال صيفاً .	أوجه التشابه
سقوط الأمطار طوال العام ولكنها تزداد شتاءً وخريفياً .	سقوط الأمطار طوال العام ولكنها تزداد صيفاً .
الاختلاف	أوجه الاختلاف

السؤال الخامس :

- ١ الاستوائي
٢ البحر المتوسط
٣ الصيني
٤ الاستوائي
٥ الصيني
٦ غرب أوروبا



- ٢ لأنهم تعرضوا للهجرات الإجبارية ضمن تجارة العبيد .
 ٣ لأن النسبة الكبرى من سكان الصين ودول شرق وجنوب شرق آسيا ينتمون إلى السلالة المغولية .
 ٤ بسبب انصهار السلالات واختلاط الصفات الطبيعية .
 ٥ بسبب الفتوحات والهجرات على مر التاريخ .

السؤال الثالث :

- ١ وجود السلالة الزنجية في الأمريكتين .
 ٢ عدم وجود سلالة نقية .
 ٣ لم يعد العرب يتكونون من سلالة واحدة .

السؤال الرابع :

- ١ لأن منها الزوج السوداني والبانتيو والنيليين الحاميين والأقزام والبوشمن والهوتنتون .
 ٢ بسبب انصهار السلالات واختلاط الصفات الطبيعية ، لكن توجد في بعض المجتمعات البدائية سلالة نقية مثل سكان حوض الكونغو وصحراء كلهاري بإفريقيا سلالة زنجية ، والأستراليون الأصليون وهم سلالة زنجية ، والإسكيمو وهم سلالة مغولية تعيش في صحراء التندرا شمال كندا ، والهنود الحمر وهم سلالة مغولية تعيش في الأمريكتين خاصة في غابات وجبال أمريكا الجنوبية .

السؤال الخامس :

- ١ القوقازية ٢ المغولية
 ٣ القوقازية ٤ الزنجية
 ٥ المغولية ٦ الزنجية

السؤال السادس :

- ١ المغولية ٢ الزنجية
 ٣ المغولية ٤ الزنجية
 ٥ القوقازية ٦ القوقازية

السؤال السابع :

- ١ المغولية ٢ المغولية
 ٣ الزنجية ٤ القوقازية
 ٥ القوقازية ٦ المغولية

السؤال الثامن :

- ١ الهجرات الإجبارية التي تعرض لها الزوج ضمن تجارة العبيد أدى إلى وجود الزوج في أمريكا الشمالية .

- ٢ لاختلاف الارتفاع .
 ٣ لأنها بها حيوانات آكلة عشب وحيوانات آكلة لحوم .
 ٤ لأن أشجارها من النوع الذي ينفض أوراقه في فصل الشتاء .
 ٥ ، ٦ ، ٧ أجب بنفسك .

السؤال الثالث والرابع : أجب بنفسك .

السؤال الخامس :

- ١ إقليم التندرا . ٢ الغابات النفضية .

السؤال السادس :

- ١ طوال العام . ٢ صيفي . ٣ شتوي .

الأستلة من السابع إلى التاسع : أجب بنفسك .

إجابات الوحدة الثانية جغرافية سكان العالم

أسئلة الشاطر على الدرس الأول

السؤال الأول :

- ١ البلايستوسين ٢ الزنجية
 ٣ البانتو ٤ المغولية
 ٥ شمال إفريقيا ٦ الصفراء
 ٧ الغليظة ٨ إفريقيا
 ٩ المغولية ٩ إجباري
 ١١ الزنجية ١٢ آسيا
 ١٣ المغولية ١٤ أوروبا
 ١٥ القوقازية ١٦ الزنجية
 ١٧ المغولية ١٨ المجموعة الألبية
 ١٩ إفريقيا ٢٠ الشفاه الرفيعة
 ٢١ الإسكيمو ٢٢ سيبيريا
 ٢٣ القوقازية ٢٤ الزنجية
 ٢٥ سيبيريا ٢٦ القوقازية

السؤال الثاني :

- ١ لأنه في أواخر عصر البلايستوسين انتشر الإنسان في قارات العالم المختلفة ، وبعد استقراره في البيئات المختلفة بدأ يؤثر فيها ويتأثر بها ؛ فظهرت اختلافات في الصفات الوراثية بين البشر .

- ٢ مع حدوث الفتوحات والهجرات على مر التاريخ حدث اختلاط مع السلالات الأخرى .
- ٣ انصهار السلالات البشرية واختلاط الصفات الطبيعية أدى إلى عدم وجود شعب من سلالة واحدة .

السؤال التاسع :

- ١ البحيرات الاستوائية ٢ أطلس
٣ القوقازية ٤ الاستوائي
٥ الزنجية ٦ باب المنذب

أسئلة امتحانات المحافظات على الدرس الأول

السؤال الأول :

- ١ البانتو ٢ القوقازية
٣ التنجوس ٤ النوردية
٥ القوقازية ٦ الزنجية

السؤال الثاني :

- ١ لقيام الأوربيين بتهجيرهم للعمل فى مزارع القطن وقصب السكر .
٢ بسبب الهجرات والفتوحات والامتزاج بين السلالات البشرية .
٣ ، ٤ ، ٥ أجب بنفسك .

السؤال الثالث : أجب بنفسك .

السؤال الرابع :

- انتشرت السلالة الزنجية فى الأمريكتين بسبب الهجرة الإجبارية .

أسئلة الشاطر على الدرس الثاني

السؤال الأول :

- ١ آسيا ٢ أنتاركتيكا
٣ جاوة ٤ الهند
٥ أوغندا ٦ بريطانيا
٧ النرويج ٨ كوستاريكا
٩ البرازيل ١٠ السهول الفيضية
١١ برودة الجو ١٢ عامل الارتفاع
١٣ لندن ١٤ كندا
١٥ جويانا ١٦ أستراليا

- ١٧ لسيادة الظروف الصحراوية

- ١٨ نصف ١٩ فنلندا
٢٠ اليانجستى ٢١ صحراء كلهارى
٢٢ سيدنى ٢٣ الشرقية
٢٤ أمريكا الجنوبية ٢٥ حشائش السافانا
٢٦ الهجرة غير الشرعية ٢٧ سهول الأمزون
٢٨ سهول لابلاتا ٢٩ دول البرزخ
٣٠ وعورة السطح

السؤال الثاني :

- ١ لأنها من السهول الفيضية الصالحة للزراعة .
٢ لأنها من الجزر ذات التربة الجيدة .
٣ بسبب برودة الجو .
٤ حيث يسكنها ٦٠ ٪ من سكان العالم وبها أكبر دولتين فى العالم من حيث عدد السكان وهما الصين والهند .
٥ بسبب انخفاض مستوى المعيشة فتتجه فى معظمها إلى الدول المتقدمة مثل دول أوروبا .
٦ بسبب اعتدال المناخ لارتفاع السطح .
٧ بسبب الطبيعة القاسية .
٨ لأنها أقل تقدمًا من دول غرب أوروبا .
٩ بسبب البرودة الشديدة .
١٠ حيث الأراضي الزراعية الخصبة لوجود نهري مرى ودارلنج .

السؤال الثالث :

- ١ تركيز السكان بشكل أكبر عن دول الشرق .
٢ تركيز السكان فى الجزيرة .
٣ أدى إلى :
● نقص الغذاء .
● قلة نصيب الفرد من الدخل القومى .
● انخفاض مستوى المعيشة .
● وجود هجرات غير شرعية إلى الدول المتقدمة .
٤ أدى إلى ارتفاع الكثافة السكانية بها .
٥ قلة تركيز السكان .
٦ أدى إلى تركيز السكان فى السواحل الشرقية للقارة وأيضًا فى جنوب شرق القارة .

السؤال الرابع :

- ١ تركيز السكان فى جزيرة جاوة واليابان والفلبين .



السؤال الثاني :

- ١ لبرودة الجو .
- ٢ لتجمدها وبرودة جوها .
- ٣ بسبب عامل الارتفاع الذي أدى إلى اعتدال درجات الحرارة .
- ٤ ، ٥ ، ٦ ، ٧ أجب بنفسك .

السؤال الثالث :

- ١ يتركز السكان في المناطق المعتدلة ويقل السكان في المناطق الحارة والباردة .
- ٢ يوجد سكان في المناطق المدارية إذا كانت هذه المناطق مرتفعة مثل أوغندا وكينيا .
- ٣ ، ٤ أجب بنفسك .

الأسئلة من الرابع إلى السابع : أجب بنفسك .

أسئلة الشاطر على الدرس الثالث

السؤال الأول :

- ١ إفريقيا
- ٢ أوروبا
- ٣ أمريكا الشمالية
- ٤ اليابان
- ٥ باكستان
- ٦ الزراعة البدائية
- ٧ توافر الرعاية الصحية
- ٨ الدول النامية
- ٩ ثبات عدد السكان
- ١٠ فئة صغار السن
- ١١ مصر
- ١٢ أستراليا
- ١٣ تركيا
- ١٤ المرتفعة
- ١٥ المرتفع
- ١٦ أمريكا الجنوبية
- ١٧ أوروبا
- ١٨ إفريقيا
- ١٩ روسيا
- ٢٠ مصر

السؤال الثاني :

- ١ بسبب انتشار الأمية والفقر في معظم دولها ، والاعتماد على الزراعة البدائية والرعى ، وانتشار بعض العادات السلبية مثل الرغبة فى إنجاب أكبر عدد من الأبناء والزواج المبكر للإناث .
- ٢ بسبب زيادة عدد كبار السن .

- ٢ هجرة أعداد كبيرة من سكان إفريقيا في مراكب والوصول إلى سواحل أوروبا (إسبانيا / إيطاليا) .
- ٣ تركز السكان فى سهول وادى النيل فى مصر والسودان .

السؤال الخامس :

- ١ تتم هجرة أعداد كبيرة من سكان إفريقيا إلى دولة إسبانيا وهى هجرة غير شرعية .
- ٢ يتركز السكان فى كينيا بسبب اعتدال المناخ نتيجة ارتفاع السطح .
- ٣ وجود حشائش السافانا فى شمال القارة أدى إلى قلة السكان فى الشمال .

السؤال السادس :

- ١ ، ٣ ، ٤ ، ٧ ، ١٠ يتركز
- ٢ ، ٥ ، ٦ ، ٨ ، ٩ يقل

السؤال السابع :

- ١ الصين
- ٢ الولايات المتحدة الأمريكية
- ٣ البرازيل
- ٤ أستراليا

السؤال الثامن :

- ١ كندا
- ٢ المكسيك
- ٣ أستراليا
- ٤ الولايات المتحدة الأمريكية

السؤال التاسع :

- ١ البرازيل
- ٢ السافانا
- ٣ المغولية
- ٤ الهادى
- ٥ دراكنزبرج
- ٦ القوقازية
- ٧ الاستوائية
- ٨ قارة آسيا
- ٩ الأمزون
- ١٠ الصين والهند

أسئلة امتحانات المحافظات على الدرس الثاني

السؤال الأول :

- ١ الشرقية
- ٢ انتشار الأمراض
- ٣ القطبية الجنوبية
- ٤ البرازيل
- ٥ البمباس
- ٦ مرى / دارلنج
- ٧ الأورينكو
- ٨ كوستاريكا

٣٢ تزداد نسبة العاملين فى الصناعة والخدمات وتقل نسبة العاملين فى مجال الزراعة فى الدول المتقدمة ، أما الدول النامية والفقيرة فتقل نسبة العاملين فى مجال الصناعة وتزداد نسبة العاملين فى الزراعة .

السؤال السادس :

دول ذات رعاية طبية منخفضة	دول ذات اقتصاد زراعى منخفض
النيجر وأثيوبيا فى إفريقيا	باكستان فى آسيا
نيبال فى آسيا	الكونغو فى إفريقيا

السؤال السابع :

- ١ المغولية
٢ شمال شرق الولايات المتحدة
٣ أوروبا
٤ شمال كندا
٥ الزنجية
٦ الوادى والدلتا

أسئلة امتحانات المحافظات على الدرس الثالث

السؤال الأول :

- ١ المرتفعة
٢ الخليج
٣ المكسيك
٤ دخل السكان
٥ النيجر
٦ باكستان

السؤال الثانى :

- ١ بسبب الاهتمام بالتعليم وجهود الدولة لمحو الأمية وتحقيق مبدأ تكافؤ الفرص .
٢ لانتشار الأمية والفقر والاعتماد على الزراعة البدائية والرعى والزواج المبكر وكثرة الإنجاب .
٣ لارتفاع نسبة كبار السن بالقارة .
٤ لاختلاف دخل السكان وتنوع الأنشطة التى يقوم بها سكان كل دولة .

السؤال الثالث :

- ١ هناك بعض العادات والتقاليد التى تؤدى إلى ارتفاع معدل المواليد .
٢ الدول المتقدمة تقل بها معدلات الزيادة الطبيعية والدول النامية يزيد بها معدلات الزيادة الطبيعية .
٣ الدول الصناعية تتميز بالدخل الاقتصادى المرتفع ، أما الدول الزراعية فتتميز بالدخل الاقتصادى المنخفض .

٣٣ بسبب الاهتمام بالرعاية الصحية والاهتمام بصحة الأطفال .

٤ بسبب عدم الاهتمام بالرعاية الصحية وانتشار الأمراض .

٥ بسبب زيادة عدد المواليد وقلة عدد الوفيات .

٦ لتساوى عدد المواليد مع عدد الوفيات .

٧ لأنه يحمل الدولة ميزانية ضخمة من أجل توفير الغذاء والملبس والرعاية الصحية والتعليم .

٨ بسبب التقدم فى مجالات الخدمات الصحية والتعليمية .

٩ بسبب زيادة الاهتمام بالتعليم فى مراحل مختلفة ومحور الأمية وتحقيق مبدأ تكافؤ الفرص .

١٠ لأنها تعتمد على استخراج البترول وتصديره للخارج .

السؤال الثالث :

- ١ أدى إلى ارتفاع معدل المواليد فى قارة إفريقيا .
٢ انخفاض معدل الوفيات فى مصر .
٣ أصبحت أعلى القارات فى معدل الوفيات .
٤ أدى إلى ارتفاع معدل الوفيات .
٥ أدى إلى ارتفاع فئة كبار السن فى الدولة المتقدمة وقلة معدل الوفيات .
٦ أصبحت دول الخليج العربى من الدول ذات الدخل الاقتصادى المرتفع .

السؤال الرابع :

- ١ حيث يقل معدل الوفيات فى الدول التى تراعى الوقاية الصحية وحماية البيئة من التلوث ، ويزداد معدل الوفيات فى الدول التى تقل فيها الرعاية الصحية وتنتشر الأمراض .
٢ حرمان المرأة من التعليم فى بعض المناطق حفاظاً عليها ، أو بسبب المعتقدات الخطأ وتفضيل الزواج المبكر للإناث .

السؤال الخامس :

- ١ الكوارث الطبيعية تؤدى إلى زيادة معدل الوفيات ويقل عدد السكان .
٢ ارتفاع فئة صغار السن فى الدول يحمل الدولة ميزانية ضخمة من أجل توفير الغذاء والملبس والرعاية الصحية والتعليم .

- التفوق العسكرى للجيش العثمانى .
- استخدام أساليب قتال حديثة .
- ٤ • بسبب قصر مدة حكم الوالى من سنة إلى ثلاث سنوات ، وزيادة سلطة الديوان والحامية العثمانية .
- ٥ • بسبب انحياز محمد بك أبو الذهب للسلطان العثمانى .
- ٦ • بسبب :
 - تدهور الزراعة .
 - إرسال أمهر الصناع إلى الأستانة عاصمة الدولة العثمانية .
- ٧ • بسبب :
 - كثرة الضرائب المفروضة على الفلاح .
 - تعسف وظلم الملتزمين فى جمع الضرائب .
 - إهمال الحكام لشئون الرى وإقامة السدود وحفر الترعى .
- ٨ • بسبب :
 - افتقاد الأمن .
 - تدهور الزراعة والصناعة .
 - إهمال الطرق البرية .
 - الإغارات المتلاحقة لبدو الصحراء .
- ٩ • بسبب :
 - تحول الطريق التجارى بين الشرق والغرب إلى طريق رأس الرجاء الصالح .
 - منح الدولة العثمانية الامتيازات الأجنبية للدول الأوروبية .
- ١٠ • بسبب الغزلة التى فرضها العثمانيون على مصر .

السؤال الثالث :

- ١ • أدى إلى اتجاه سليم الأول فى فتوحاته نحو الشرق .
- ٢ • أدى إلى تعرض المماليك لأزمات سياسية .
- ٣ • تحطم الأسطول المملوكى .
- ٤ • انتصار سليم الأول على الصفويين ودخول العاصمة تبريز .
- ٥ • هزيمة المماليك وانتصار العثمانيين وأصبحت الشام ولاية عثمانية .
- ٦ • انتهاء دولة المماليك وأصبحت مصر ولاية عثمانية .
- ٧ • تدهور الزراعة فى العصر العثمانى وتدهور المجتمع الريفى بوجه عام .

السؤال الرابع :

- ١ • تكليف الدولة ميزانية ضخمة من أجل توفير الغذاء والملبس والرعاية الصحية والتعليم .
 - ٢ • أدى إلى أن معدل الزيادة الطبيعية أصبح صفراً .
 - ٣ • ارتفاع نسبة الزيادة الطبيعية .
- الأسئلة من الخامس إلى العاشر : أجب بنفسك .

ثانياً : التاريخ

إجابات الوحدة الثالثة

مصر تحت الحكم العثمانى

أسئلة الشاطر على الدرس الأول

السؤال الأول :

- ١ • تبريز
- ٢ • مرج دابق
- ٣ • الريدانية
- ٤ • جالديران
- ٥ • محمد بك أبو الذهب
- ٦ • طومان باى
- ٧ • ديو البحرية
- ٨ • ذى القادر
- ٩ • الريدانية
- ١٠ • مرج دابق
- ١١ • حق الانتفاع
- ١٢ • الدنيا
- ١٣ • الشرعية
- ١٤ • رأس الرجاء الصالح
- ١٥ • قنصوة الغورى
- ١٦ • ظاهر العمر
- ١٧ • الالتزام
- ١٨ • على بك الكبير

السؤال الثانى :

- ١ • أزمات مالية بسبب اكتشاف طريق رأس الرجاء الصالح ١٤٩٨ م ، وتحطم الأسطول المملوكى فى معركة ديو البحرية ١٥٠٩ م ، وأزمات سياسية بسبب اضطراب الأمن والصراع بين المماليك وكثرة الفتن والثورات الداخلية .
- ٢ • لأنه أدرك خطورة الصدام مع الدول الأوروبية لتفوقها حضارياً وعسكرياً ، ولرغبة سليم الأول فى توسيع ممتلكات الدولة العثمانية فى الشرق عن طريق الاستيلاء على مصر التى هى قلب العالم الإسلامى .
- ٣ • بسبب :
 - عدم الاستقرار الداخلى للمماليك .
 - النزاع المستمر على السلطة .

السؤال الثاني :

- ١ • بسبب تعدد هيئات الحكم وزيادة سلطة الديوان والحامية العثمانية إلى جانب قصر مدة حكم الوالى .
- ٢ • بسبب تحول طريق التجارة إلى طريق رأس الرجاء الصالح .

السؤال الثالث والرابع : أجب بنفسك .

أسئلة الشاطر على الدرس الثاني

السؤال الأول :

- | | |
|------------------|-----------------------------|
| ١ الهند | ٢ طولون |
| ٣ إمبابة | ٤ البريطانى |
| ٥ الأزهر الشريف | ٦ يافا |
| ٧ كليبر | ٨ عمر مكرم |
| ٩ عربية | ١٠ محمد كريم |
| ١١ حى بولاق | ١٢ ثورة القاهرة الأولى |
| ١٣ الإنجليزى | ١٤ معركة أبى قير البرية |
| ١٥ كليبر | ١٦ بعد مجيء الحملة الفرنسية |
| ١٧ الإسكندرية | ١٨ إمبابة |
| ١٩ أبى قير | ٢٠ ثورة القاهرة الأولى |
| ٢١ روسيا | ٢٢ سليمان الحلبي |
| ٢٣ عمر مكرم | ٢٤ كليبر |
| ٢٥ العريش | ٢٦ وصف مصر |
| ٢٧ مقاومة | ٢٨ رشيد |
| ٢٩ نابليون | ٣٠ أحمد باشا الجزائر |
| ٣١ سليمان الحلبي | ٣٢ مينو |

السؤال الثاني :

- ١ • لتعويض فرنسا عن فقدان مستعمراتها وإنشاء مستعمرة فرنسية فى الشرق قاعدتها مصر .
- ٢ • لقطع الطريق بين إنجلترا ومستعمراتها فى الهند .
- ٣ • لدراسة أحوال مصر وكيفية استغلال مواردها .
- ٤ • بسبب اعتماد المماليك على الفروسية بينما استخدم الفرنسيون المدافع والمعدات الحديثة .
- ٥ • بسبب محاصرة إنجلترا لشواطئ مصر الشمالية .

٨ أدى إلى :

- اهتزاز مكانة الأزهر العلمية .
- لم يعد يهتم بالعلوم العقلية والطبيعية ، واهتم فقط بالعلوم الشرعية .
- تدهور الحياة الأدبية .
- انتشار الدجل والشعوذة .

- ٩ أدت إلى فشل حركة على بك الكبير وعادت مصر ولاية عثمانية تحت حكم شيخ البلد محمد بك أبو الذهب .

السؤال الرابع :

- ١ اكتشاف طريق رأس الرجاء الصالح
- ٢ معركة ديو البحرية ٣ معركة جالديران
- ٤ حركة على بك الكبير

السؤال الخامس :

- أن تكون الأراضى الزراعية ملكًا للدولة العثمانية ويتم تكليف الفلاح بزراعتها وليس له الحق فى التصرف فيها .

السؤال السادس :

- ١ • بسبب تطبيق نظام الالتزام وتعسف الملتزم فى جمع الضرائب من الفلاح وتطبيق حق الانتفاع .
- ٢ • قصر مدة حكم الوالى من سنة إلى ثلاث سنوات وزيادة سلطة الديوان والحامية العثمانية .

السؤال السابع :

- ١ • أدى التقدم الحضارى والعسكرى لأوروبا إلى عدم تفكير العثمانيين فى التوجه إليها واتجه سليم الأول إلى الشرق لاحتلال مصر .
- ٢ • تم تطبيق نظام الالتزام مع ضعف الدولة العثمانية .
- ٣ • اكتشاف طريق رأس الرجاء الصالح أدى إلى تدهور التجارة الخارجية .

أسئلة امتحانات المحافظات على الدرس الأول

السؤال الأول :

- ١ التخلف والجمود
- ٢ الريدانية
- ٣ جالديران
- ٤ الشرق
- ٥ محمد بك أبو الذهب
- ٦ على بك الكبير
- ٧ طومان باى
- ٨ ديو البحرية

- ٦ قام كليبر بالتفاوض مع الدولة العثمانية فيما عرف باتفاقية العريش .
- ٧ لفتت أنظار الدول الأوربية لموقع مصر الجغرافي والاستراتيجي خاصة دولة إنجلترا .

أسئلة امتحانات المحافظات على الدرس الثاني

السؤال الأول :

- ١ أبى قير البرية ٢ أبى قير البحرية
- ٣ محمد كريم ٤ الأزهر الشريف
- ٥ الحملة الفرنسية على مصر
- ٦ عمر مكرم ٧ شبراخيت
- ٨ إنجلترا ٩ كل ما سبق
- ١٠ العريش ١١ مقاومة
- ١٢ طولون ١٣ مينو

السؤال الثاني :

- ١ لأن الأخطار كانت تهدد الحملة من كل جانب بسبب تناقص عدد الجنود ، وعودة المماليك للمقاومة وإرسال الدولة العثمانية لحملة جديدة فى العريش ودمياط ، وتجدد ثورات المصريين .
- ٢ لدراسة أحوال مصر وكيفية استغلال مواردها .
- ٣ لمقاومة أهلها بقيادة أحمد باشا الجزار والى عكا ومساعدة الأسطول البريطانى وإمداده لعكا بالمؤن والذخائر .

الأسئلة من الثالث إلى السابع : أجب بنفسك .

أسئلة الشاطر على الدرس الثالث

السؤال الأول :

- ١ خورشيد باشا ٢ محمد على
- ٣ عمر مكرم ٤ محمد بك الأنفى
- ٥ فريزر ٦ محمد على
- ٧ محمد على ٨ سالونيك
- ٩ رشيد والحماد ١٠ دار الحكمة
- ١١ مذبحة القلعة ١٢ خورشيد باشا

السؤال الثاني :

- ١ بسبب فرض الضرائب والإتاوات على الأهالى .

- ٥ فرض نابليون الضرائب الفادحة على المصريين .
- ٦ قيام جنود الحملة بتفتيش البيوت بحثًا عن الأموال ، وهدم أبواب الحارات لمطاردة عناصر المقاومة ، وهدم الآثار والمباني والمساجد بحجة تحصين القاهرة .

- ٦ لرغبة نابليون فى القضاء على الجيش العثمانى القادم من الشام قبل أن يصل إلى مصر .

- ٧ بسبب مقاومة واستبسال أهالى عكا بقيادة أحمد باشا الجزار ، ومساعدة الأسطول البريطانى وإمداده لعكا بالمؤن والذخائر .

- ٨ بسبب تحالف الدول الأوربية ضد فرنسا .

- ٩ لأن الأخطار كانت تهدد الحملة من كل جانب بسبب تناقص عدد الجنود ، وعودة المماليك للمقاومة وإرسال الدولة العثمانية لحملة جديدة فى العريش ودمياط ، وتجدد ثورات المصريين .

- ١٠ لرفض الحكومة البريطانية وطلبها استسلام الجيش الفرنسى كأسرى حرب .

- ١١ لتدريب العلماء والأعيان على نظام مجالس الشورى .

- ١٢ بسبب استخدام أهالى الصعيد حرب المناوشات والمعارك المتفرقة وطول الوادى .

السؤال الثالث :

- ١ مجيء الحملة الفرنسية إلى مصر .
- ٢ انتصار الفرنسيين عليهم فى معركة شبراخيت وإمبابة .
- ٣ تحطم وغرق الأسطول الفرنسى .
- ٤ حصار الأسطول الإنجليزى لشواطئ مصر الشمالية مما أدى إلى القضاء على آمال فرنسا فى السيطرة على سواحل البحر المتوسط .
- ٥ حرمان الحملة من إمداد فرنسا لها .
- ٦ شعور الجنود الفرنسيين بأنهم محاصرون داخل مصر .
- ٧ توقف حركة التجارة الخارجية لمصر .
- ٨ إعدام الكثير من الثوار والأهالى .
- ٩ فرض غرامات مالية على التجار والعلماء .
- ١٠ تحصين مدينة القاهرة .
- ١١ فشل نابليون فى دخول عكا .

٣٣ تدبير مذبحه القلعة ١٨١١ م للمماليك .

السؤال الخامس :

- ١ تم نقل محمد على إلى ولاية سالونيك بمقدونيا .
- ٢ احتلال مصر وخلع محمد على من حكم مصر .

أسئلة امتحانات المحافظات على الدرس الثالث

السؤال الأول :

- | | |
|------------|------------------|
| ١ المماليك | ٢ محمد على |
| ٣ سالونيك | ٤ خورشيد باشا |
| ٥ عمر مكرم | ٦ فريزر |
| ٧ محمد على | ٨ محمد بك الألفى |

السؤال الثاني :

- ١ حتى يتخلص من المماليك وينفرد بحكم مصر .
- ٢ بسبب شروط الولاية التي وضعها زعماء الشعب .
- ٣ لقيام الزعامة الشعبية باختيار محمد على واليًا على مصر بعد قرارهم بعزل خورشيد باشا .

السؤال الثالث والرابع : أجب بنفسك .

أسئلة النشاط على الدرس الرابع

السؤال الأول :

- | | |
|------------------------|--------------------|
| ١ الالتزام | ٢ المحمودية |
| ٣ أسرة محمد على | ٤ بولاك |
| ٥ أسوان | ٦ الاحتكار |
| ٧ مصانع الدولة | ٨ البدو |
| ٩ رفاة الطهطاوى | ١٠ الكولونيل سيف |
| ١١ الإسكندرية | ١٢ سبع |
| ١٣ القناطر الخيرية | ١٤ الأعيان |
| ١٥ كل ما سبق | ١٦ على مبارك |
| ١٧ شبه الجزيرة العربية | ١٨ كريت |
| ١٩ اليونان | ٢٠ الوقائع المصرية |
| ٢١ معاهدة لندن | ٢٢ فرمان |

السؤال الثاني :

- ١ لأن محمد على قام بإلغاء نظام الالتزام ووزع الأراضي على الفلاحين ، وزود الفلاح بكل ما يلزم من أدوات الزراعة ، وأدخل غلال جديدة وأدخل أساليب حديثة فى الزراعة ، وأنشأ مدرسة للزراعة ، واستقدم خبراء زراعيين من الخارج ، وأنشأ القناطر الخيرية .

٢ لأنه جاهر بالانضمام إلى العلماء والمشايخ واختلط بالأهالى الساخطين ، وتعهد للعلماء بأن يبذل قصارى جهده لرفع الضريبة عن الناس .

٣ لأنه فى هذا اليوم اجتمع زعماء الشعب من العلماء ونقباء الطوائف بدار المحكمة ، وقرروا عزل خورشيد باشا وتولية محمد على بدلاً منه .

٤ لكى تطمئن بريطانيا على مصالحها الاقتصادية فى المنطقة .

٥ • لاحتلال مصر . • خلع محمد على .

• تولية محمد بك الألفى الحكم .

٦ بسبب تصدى أهالى رشيد والحماد للحملة .

٧ للانفراد بحكم مصر ، ولأنهم كانوا مصدر قلق وفوضى لمحمد على .

السؤال الثالث :

١ ظهور شخصية محمد على وكسب عطف وحب الشعب المصرى .

٢ كسب عطف الشعب وثقة زعمائه الذين نظروا إليه كرجل عادل يكره الظلم .

٣ عزل خورشيد باشا وتولية محمد على حكم مصر .

٤ أصدر السلطان العثمانى فرمانًا بنقل محمد على إلى ولاية سالونيك بمقدونيا .

٥ رضوخ السلطان العثمانى للزعامة الشعبية وتخليه عن فكرة نقل محمد على من ولاية مصر وقام بتثيته عليها .

٦ • هزيمة الحملة الإنجليزية فى رشيد والحماد .

• جلاء الحملة من مصر مقابل الإفراج عن الأسرى .

• دخول محمد على الإسكندرية منتصرًا .

٧ تخلص محمد على من المماليك والانفراد بحكم مصر .

السؤال الرابع :

١ حيث وقفت الزعامة الشعبية مع محمد على حين أصدر السلطان العثمانى فرمان ١٨٠٦ م بنقل محمد على إلى ولاية سالونيك بمقدونيا فاضطر السلطان العثمانى إلى الرضوخ وتخلي عن فكرة النقل .

٢ استغل محمد على انقسام القيادات الشعبية فيما بينها حول مكانة عمر مكرم بين الناس حيث أخذ منافسوه يدسون له المكائد عند محمد على ، فانتهاز محمد على الفرصة وقام بخلع عمر مكرم من نقابة

الأشراف ونفاه إلى دمياط .

السؤال الرابع :

- ١ توفير أكبر قدر من الإنتاج الزراعى .
- ٢ تطوير وتحديث وزيادة الإنتاج الزراعى .
- ٣ طبع الكتب اللازمة للمدارس وطبع الكتب الأدبية والفنية .
- ٤ بناء دولة حديثة .

السؤال الخامس :

حروب محمد على فى :	
الشام	شبه الجزيرة العربية
الأسباب	
• لتوتر العلاقة بين السلطان العثمانى ومحمد على .	القضاء على الحركة الوهابية التى تهدد نفوذ الدولة العثمانية فى الجزيرة العربية .
• تصميم (محمد على) على الانفصال عن الدولة العثمانية .	
النتائج	
• وصول القوات المصرية إلى الشام وأعلى الفرات .	سيطرة (محمد على) على الجزيرة العربية .
• امتداد النفوذ المصرى إلى بلاد الشام .	

السؤال السادس :

- ١ أقام العديد من المصانع الحكومية مثل الغزل والنسيج والسكر ، وجمع الصبىة للعمل فى مصانع الدولة بأجور رمزية ، والاستعانة بالخبرات الأجنبية وإرسال بعثات للخارج .
- ٢ حيث ظهرت أسرة محمد على وبعض العناصر التركية ، وظهر طبقة الأعيان وطبقة عمال الصناعة ، وظهر البدو كقوة اجتماعية .
- ٣ أسس ترسانة بحرية لصناعة السفن فى بولاق ثم الإسكندرية .
- ٤ إنشاء العديد من المدارس مثل الطب والزراعة وإرسال بعثات تعليمية للخارج مثل بعثة رفاة الطهطاوى ، وعلى مبارك ، والاستعانة بأساتذة أجنبية وإنشاء المطبعة الأميرية فى بولاق .

- ٢ لأن محمد على أقام العديد من المصانع الحكومية مثل الغزل والنسيج والورق والسكر ، وجمع الصبىة للعمل فى مصانع الدولة بأجور رمزية ، واستعان بالخبرات الأجنبية .
- ٣ بسبب ازدهار الزراعة والصناعة والاستقرار الداخلى .
- ٤ لحاجته إلى موظفين لسد حاجة المصالح الحكومية ولحاجته إلى فنيين ومتخصصين فى مختلف الفروع لسد حاجة الجيش والأسطول .
- ٥ استمرار النهضة التعليمية بعد عودتهما ليعود النفع على الوطن .
- ٦ ليكفل السيطرة الكاملة على البلاد .
- ٧ للقضاء على الحركة الوهابية التى تهدد نفوذ الدولة العثمانية .
- ٨ لتحقيق مكاسب سياسية واقتصادية وعسكرية .
- ٩ للقضاء على ثوار اليونان فى المورة الذين طالبوا بالاستقلال عن الدولة العثمانية .
- ١٠ لأن محمد على تفاوض مع الدول الأوروبية دون الرجوع للسلطان العثمانى .

السؤال الثالث :

- ١ نشاط التجارة الداخلية والخارجية فى عهد محمد على .
- ٢ أدى إلى تدهور واختفاء قوى اجتماعية و ظهور قوى اجتماعية أخرى حيث :
 - انتهى نفوذ المماليك كهيئة حاكمة وحل محلها أسرة محمد على وبعض العناصر التركية .
 - تضائل نفوذ علماء الأزهر والقيادات الشعبية وظهرت طبقة الأعيان وطبقة عمال الصناعة .
 - تدهورت طبقة التجار وظهر البدو كقوة اجتماعية .
- ٣ سيطرة (محمد على) على الجزيرة العربية .
- ٤ • امتداد النفوذ المصرى إلى جنوب السودان .
- إنشاء مدينة الخرطوم و اكتشاف منابع نهر النيل .
- ٥ هزيمة الجيش المصرى وتحطم الأسطول المصرى فى معركة نفاين وضم جزيرة كريت وعلو مكانة مصر دولياً .
- ٦ وصول القوات المصرية إلى الشام وأعلى الفرات وامتداد النفوذ المصرى إلى بلاد الشام .
- ٧ أجب بنفسك .

السؤال السابع :

- ١ إعادة بلاد الشام وشبه الجزيرة العربية إلى السلطان العثماني .
- ٢ تثبيت محمد علي في حكم مصر .
- ٣ خضوع محمد علي للسلطان العثماني .

السؤال الثامن :

- ١ الكولونيل سيف
- ٢ محمد علي

أسئلة امتحانات المحافظات على الدرس الرابع

السؤال الأول :

- ١ كريت
- ٢ رفاعة الطهطاوى
- ٣ محمد علي
- ٤ محمد علي
- ٥ بولاق
- ٦ محمد علي
- ٧ محمد علي

الأسئلة من الثانى إلى السابع : أجب بنفسك .

إجابات الوحدة الرابعة

مصر والزحف الاستعماري ومحاولات التحرر الوطني

أسئلة الشاطر على الدرس الأول

السؤال الأول :

- ١ عباس باشا
- ٢ اللائحة السعيدية
- ٣ البريطانية
- ٤ المحمودية/الإسماعيلية
- ٥ شورى النواب
- ٦ سياسة الاقتراض
- ٧ المحاكم المختلطة
- ٨ إسماعيل/ توفيق
- ٩ عباس باشا
- ١٠ سعيد باشا
- ١١ الشركة الفرنسية
- ١٢ الخديو إسماعيل
- ١٣ البحر الأحمر
- ١٤ الإنجليزية
- ١٥ المختلطة
- ١٦ صندوق الدين
- ١٧ الخديو إسماعيل
- ١٨ سعيد باشا
- ١٩ ترعة الإسماعيلية
- ٢٠ الخديو إسماعيل
- ٢١ كل ما سبق
- ٢٢ نوبار باشا
- ٢٣ تسوية الديون
- ٢٤ سعيد باشا
- ٢٥ السلطان العثماني
- ٢٦ الخديو إسماعيل
- ٢٧ المحاكم القنصلية
- ٢٨ صندوق الدين

٣٩ سعيد باشا

٣٠ الوجه القبلى

٣١ إسماعيل/ عباس

٣٢ الخديو إسماعيل

٣٣ إنجليزى/ فرنسى

السؤال الثانى :

- ١ لأنه اعتمد على رءوس الأموال الأجنبية فاستدان من البيوت المالية الأوربية ؛ فعقد أول قرض من أحد البنوك البريطانية ١٨٦٢ م ، ولجأ للمرابين الأجانب يستدين منهم مقابل سندات على حساب الخزانة المصرية .
- ٢ لأنه أغلق معظم المدارس - أغلق معظم المصانع - خفض حجم الجيش وعطل العمل فى الترسانة البحرية .
- ٣ لأن كان من ضمن شروطه أن يكون $\frac{1}{5}$ العمال من المصريين ، وأن تحصل مصر على ١٥٪ من صافى الأرباح ، وأن تتنازل الحكومة المصرية للشركة مجاناً عن جميع الأراضي المملوكة لها والمطلوبة لإنشاء القناة وترعة الإسماعيلية .
- ٤ لأنه وسع مساحة الأراضي الزراعية ، وأنشأ قناطر على النيل وحفر العديد من الترع مثل ترعة الإبراهيمية .
- ٥ لأنه أعاد فتح ديوان المدارس وأنشأ العديد من المدارس المختلفة ، وأنشأ دار الرصد ودار الكتب ومصلحة الإحصاء والمساحة والجمعية الجغرافية .
- ٦ لأنه أسس مجلس شورى النواب ١٨٦٦ م .
- ٧ لمنع تجارة الرقيق والتوسع فى الجنوب والسيطرة على مياه النيل .
- ٨ بسبب اتباع سياسة الاقتراض وافتتاح قناة السويس وعلاقة إسماعيل بالدولة العثمانية .
- ٩ للحصول على الفرمانات التى يوسع بها نطاق حكمه .
- ١٠ لأن أحكامها كانت لا تستأنف إلا فى الخارج مما كان يدفع المصريين للتنازل عن حقوقهم .
- ١١ لدراسة أسباب سوء الأوضاع المالية فى مصر وتقديم مقترحات لعلاجها .
- ١٢ لتسلم المبالغ المخصصة للديون من المصالح المختلفة ، وتسديد الديون لأصحابها .
- ١٣ لأن الأمور المالية زادت سوءاً وارتباكاً .
- ١٤ لأنه قام بإقضاء الوزيرين الأجنيين عن الوزارة وأصدر مرسوماً فى إبريل ١٨٧٩ م بتسوية الديون طبقاً لما قرره اللائحة الوطنية .

السؤال الثالث :

- ٧ أعاد نشاط الكثير من المصانع وتوسع في إنشاء مصانع السكر في الوجه القبلى .
- ٨ • اهتم بالتعليم البحرى .
- تنظيم الجيش وتسليحه ومضاعفة قوته .
- ٩ • إنشاء دار الأوبرا المصرية .
- إقامة الجسور والكبارى . • إنشاء قصر عابدين .
- مد الخطوط التلغرافية بين مختلف محافظات مصر وإنشاء مصلحة بريد مصرية .
- ١٠ • أسس مجلس شورى النواب ١٨٦٦ م .
- إدخال نظام الوزارة المسؤولة ١٨٧٨ م .
- وضع أول دستور فى مصر .
- ١١ بسبب إنشاء المحاكم القنصلية والمحاكم المختلطة وإرسال بعثة كيف وصندوق الدين وفرض المراقبة الثنائية وقرارات لجنة التحقيق العليا الأوربية والوزارة المختلطة .

السؤال الخامس :

- ١ بدأ عباس باشا فى إنشاء أول خط سكة حديد بين القاهرة والإسكندرية ١٨٥٢ م .
- ٢ أصدر سعيد باشا اللائحة السعيدية ، وأصبح للفلاح الحق فى توريث الأرض الزراعية .
- ٣ يعد عهد سعيد باشا بداية الأزمة المالية لأنه اعتمد على رءوس الأموال الأجنبية واستدان من البيوت المالية الأوربية وعقد أول قرض من أحد بنوك بريطانيا .
- ٤ كان من ضمن شروط الامتياز الثانى لقناة السويس ضرورة تصديق السلطان العثمانى على شروط الامتياز .
- ٥ اعتمد الخديو إسماعيل فى علاقه بالسلطان العثمانى على المال والهدايا للحصول على الفرمانات التى يوسع بها نطاق حكمه .

أسئلة امتحانات المحافظات على الدرس الأول

السؤال الأول :

- | | |
|---------------|--------------------|
| ١ توريث الأرض | ٢ الجغرافية |
| ٣ إفريقيا | ٤ سعيد باشا |
| ٥ بريطانيا | ٦ المحاكم القنصلية |
| ٧ سعيد باشا | ٨ سعيد باشا |

- ١ أصبح للفلاح الحق فى توريث الأرض الزراعية .
- ٢ تدخل القضاة الأجانب فى سلطة القضاء التشريعى وانحيازها للأجانب .
- ٣ إنشاء إدارة للمراقبة المالية يرأسها موظف إنجليزى ، وألا يعقد الخديو قرصًا ما لم توافق عليه إدارة الرقابة المالية .
- ٤ تنازل الخديو إسماعيل عن سلطته المطلقة لوزارة مسئولة عن الحكم ، وتنازله عن أطيانه وأطيان عائلته ووضعها تحت الرقابة الدولية مقابل مخصصات مالية تصرف لهم .
- ٥ شجع إسماعيل على إقصاء الوزيرين الأجبيين وإصدار مرسوم إبريل ١٨٧٩م بتسوية الديون طبقًا لما قرره اللائحة الوطنية .
- ٦ تدخل بريطانيا وفرنسا وقامتوا بالضغط على السلطان العثمانى لعزل إسماعيل وتولية ابنه توفيق .

السؤال الرابع :

- ١ • لم يثبتوا كفاءتهم فى حكم البلاد .
- عندما دهمتهم الموجة الغربية لم يمتلك أى منهم الكفاءة على مواجهتها .
- تأرجحوا بين الميل لكل من فرنسا وإنجلترا والدولة العثمانية على حساب مصر واستقلالها .
- ٢ • إغلاق معظم المدارس . • إغلاق معظم المصانع .
- تخفيض عدد الجيش .
- عطل العمل فى الترسانة البحرية .
- ٣ • تطهير ترعة المحمودية . • إصدار اللائحة السعيدية .
- ٤ • أتم الخط الحديدى بين القاهرة والإسكندرية .
- أنشأ الخط الحديدى بين القاهرة والسويس .
- مد الخطوط التلغرافية على الطريقة الحديثة بين القاهرة والإسكندرية والسويس .
- ٥ • جعل التجنيد إجباريًا لمدة عام .
- فتح باب الترقى أمام الضباط المصريين .
- اعتنى بالترسانة البحرية وجدد الأسطول .
- ٦ لأنه ألغى ديوان المدارس وفى نفس الوقت شجع البعثات الأجنبية فى مصر على فتح مدارس لها فى القاهرة والإسكندرية .

٢ لأن أحمد عرابي تقدم هو وزملاؤه بشكوى إلى رياض باشا رئيس الوزراء طالبوا بعزل عثمان رفقي ناظر الجهادية .

٣ لتجنب الاصطدام مع الدول الأوروبية .

٤ لرغبة بريطانيا وفرنسا في تقوية مركز الخديو في مواجهة الحركة الوطنية ولرغبتها الصريحة في حل مجلس النواب .

٥ بسبب رفض الخديو توفيق التصديق على الحكم الذي صدر على الضباط الشركسة الذين حاولوا اغتيال عرابي والضباط الوطنيين .

٦ للنظر في المسألة المصرية .

٧ • عدم تكافؤ القوى العسكرية بين قوات الاحتلال البريطاني والقوات المصرية .

• تواطؤ إدارة شركة قناة السويس الأجنبية مع قيادة الجيش البريطاني .

• إصدار السلطان العثماني لمنشور بعصيان عرابي .

• ميول بعض عناصر القوات المصرية للخديو والبريطانيين .

• عدم إدراك قيادة الثورة لأهمية التعبئة الشعبية لمساندة القوات المصرية ، والظروف الدولية عام ١٨٨٢م لم تكن في صالح الحركات الوطنية .

السؤال الثالث :

١ • أعاد نظام المراقبة الثنائية .

• رفض اللائحة الأساسية لمجلس النواب .

٢ قيام الثورة العرابية .

٣ عزل عثمان رفقي وتعيين محمود سامي البارودي .

٤ وافق الخديو مضطراً على مطالب الأمة والجيش وأسند الوزارة إلى شريف باشا بعد عزل رياض باشا .

٥ زيادة التوتر بين الوزارة والخديو .

٦ اجتمع قناصل الدول الأجنبية بالإسكندرية .

• سفر الخديو توفيق إلى الإسكندرية بحجة تهدئة الأوضاع .

٧ اجتياح السفن البريطانية لقناة السويس وأدى ذلك إلى فشل الثورة العرابية .

٨ تمكن العرابيون من صد هجمات القوات البريطانية والتي انسحبت من كفر الدوار إلى الإسكندرية .

٩ الخديو إسماعيل

١١ شورى النواب

السؤال الثاني :

١ لمنع تجارة الرقيق والتوسع في الجنوب والسيطرة على مياه النيل .

٢ بسبب اتباع سياسة الاقتراض وافتتاح قناة السويس وعلاقة الخديو إسماعيل بالدولة العثمانية .

٣ لأنه أغلق معظم المدارس والمصانع ، وخفض عدد الجيش ، وعطل العمل في الترسانة البحرية .

الأسئلة من الثالث إلى السادس : أجب بنفسك .

أسئلة الشاطر على الدرس الثاني

السؤال الأول :

١ الخديو توفيق

٣ عثمان رفقي

٥ محمود سامي البارودي

٧ رياض باشا

٩ رياض باشا

١١ فرنسا

١٣ محمود سامي البارودي

١٥ عثمان رفقي

١٧ مناقشة الميزانية في مجلس النواب

١٩ الأستانة

٢١ كفر الدوار

٢٣ احتلال

٢٥ السلطان العثماني

٢ الخديو توفيق

٤ شريف باشا

٦ أحمد عرابي

٨ عثمان رفقي

١٠ الميزانية

١٢ الثورة

١٤ رياض باشا

١٦ عدد الجيش

١٨ راغب باشا

٢٠ التل الكبير

٢٢ سيلان

٢٤ ديليسبس

السؤال الثاني :

١ بسبب :

• ازدياد التدخل الأجنبي في شئون مصر .

• المؤثرات الفكرية الغربية التي أدت إلى نمو الوعي القومي وتطورت إلى المطالبة بالدستور والحكم النيابي .

• سوء أحوال مصر الاقتصادية .

• اضطهاد عثمان رفقي ناظر الجهادية للضباط المصريين وعدم ترقيتهم .

- ٢ قرر وإرسال تركيا قوة لحفظ الأمن والنظام في مصر مع عدم التدخل الأجنبي .
 ٣ انخفاض الروح المعنوية للضباط المصريين .
 ٤ استقالة وزارة شريف باشا .

السؤال الرابع والخامس : أجب بنفسك .

أسئلة الشاطر على الدرس الثالث

السؤال الأول :

- | | |
|---------------------|-----------------------|
| ١ المعتمد البريطاني | ٢ مجلس شورى القوانين |
| ٣ القطن | ٤ الأعيان |
| ٥ الحزب الوطنى | ٦ نقابات العمال |
| ٧ الخديو توفيق | ٨ إقرار النظام والأمن |
| ٩ محاربة الصناعة | ١٠ أعمال التعليم |
| ١١ مصطفى كامل | ١٢ اللورد كرومر |
| ١٣ عباس حلمى الثانى | ١٤ مجلس النواب |
| ١٥ مصطفى كامل | ١٦ الجامعة المصرية |
| ١٧ الاتفاق الودى | ١٨ محمد فريد |
| ١٩ التعليم | ٢٠ اللواء |
| ٢١ حادثة دنشواى | ٢٢ الاحتلال البريطانى |
| ٢٣ محمد فريد | ٢٤ محمد فريد |
| ٢٥ محمد فريد | ٢٦ محمد فريد |

السؤال الثانى :

- ١ لأن السلطة الفعلية بعد الاحتلال كانت فى يد المعتمد البريطانى .
 ٢ لتوفير المواد الخام اللازمة للمصانع البريطانية .
 ٣ بسبب عقد الاتفاق الودى مع إنجلترا .
 ٤ بسبب تنديد مصطفى كامل بالاحتلال البريطانى وسياسته القمعية بعد حادثة دنشواى .
 ٥ لتعليم العمال والفقراء مجاناً .

السؤال الثالث :

- ١ ظهور طبقة من كبار الملاك والأعيان استفادت من هذه السياسة ، وارتبط نموها الاقتصادى باستمرار بقاء الاحتلال .
 ٢ استقالة اللورد كرومر .
 ٣ رفض الحكومة طلب الشركة بعد الامتياز .

- ٩ هزيمة الجيش المصرى واتجاه القوات البريطانية إلى القاهرة لاحتلالها .
 ١٠ احتلال إنجلترا لمصر .
 • محاكمة زعماء الثورة العربية .

السؤال الرابع :

- ١ • أعاد نظام المراقبة الثنائية .
 • رفض اللائحة الأساسية لمجلس النواب .
 ٢ أسباب اقتصادية لسوء أحوال مصر الاقتصادية فى عهد وزارة رياض ، وأسباب عسكرية بسبب اضطهاد عثمان رفقى ناظر الجهادية للضباط المصريين وعدم ترقيةهم .
 ٣ تعيين محمود سامى البارودى وعزل عثمان رفقى .
 ٤ • إسقاط وزارة رياض باشا .
 • تشكيل مجلس نواب على النسق الأوروبى .
 • زيادة عدد الجيش إلى ١٨ ألف جندى .

السؤال الخامس :

- ١ تولى الخديو توفيق الحكم
 ٢ حادثة قصر النيل ٣ مؤتمر الأستانة
 ٤ معركة كفر الدوار ٥ معركة التل الكبير
 ٦ نفى عرابى لسيلان

أسئلة امتحانات المحافظات على الدرس الثانى

السؤال الأول :

- ١ فرنسا ٢ البارودى باشا
 ٣ عثمان رفقى ٤ كفر الدوار
 ٥ محمد عبده ٦ راغب باشا
 ٧ عثمان رفقى ٨ الخديو توفيق
 ٩ كفر الدوار

السؤال الثانى :

- ١ بسبب الخلاف حول مناقشة الميزانية فى مجلس النواب .
 ٢ لأنه رفض مناقشة الميزانية فى مجلس النواب حتى لا يؤدى ذلك إلى التدخل الأجنبى .
 ٣ ، ٤ أجب بنفسك .

السؤال الثالث :

- ١ عزل عثمان رفقى ناظر الجهادية .

السؤال الرابع :

- ١ أصبحت السلطة الفعلية بعد الاحتلال البريطاني في يد المعتمد البريطاني ، وانحصر دور الخديو في التصديق على قرارات سلطات الاحتلال .
 - ٢ لأنها قامت بالتوسع في زراعة القطن لتوفير المواد الخام اللازمة للمصانع البريطانية ومحاربة الصناعة المصرية بتسويق المنتجات البريطانية والأجنبية في السوق المصرية .
 - ٣ • طالب بالدستور .
• أسس جريدة اللواء .
• دعا إلى إنشاء الجامعة المصرية .
• الحث على التمسك بالوحدة الوطنية والإخلاص لمصر .
• محاربة اليأس .
• إنشاء الحزب الوطني .
-
- ### أسئلة امتحانات المحافظات على الدرس الثالث
- #### السؤال الأول :
- ١ اللورد كرومر
 - ٢ اللواء
 - ٣ المعتمد البريطاني
 - ٤ محمد فريد
 - ٥ مصطفى كامل
 - ٦ مصطفى كامل
 - ٧ محمد فريد
-
- #### السؤال الثاني :
- ١ إهمال التعليم وجعله بمصرفوات مرتفعة وحصره في فئة معينة ويهدف إلى تخريج موظفين .
-
- #### السؤال الثالث :
- ١ التوسع في زراعة القطن لتوفير المادة الخام اللازمة لمصانع النسيج البريطانية ومحاربة الصناعة المصرية وظهور طبقة الأعيان وربط مصالحهم بوجود الاحتلال البريطاني .
 - ٢ رفض الحكومة المصرية طلب الشركة .
-
- #### السؤال الرابع والخامس : أجب بنفسك .
- ### أسئلة الشاطر على الدرس الرابع
- #### السؤال الأول :
- ١ مالطة
 - ٢ ولسن
 - ٣ ونجت
 - ٤ باريس

٥ القاهرة

٦ ملنر

٧ سيشل

٨ سعد زغلول

٩ زيور باشا

١٠ مصطفى النحاس

١١ إنجلترا

١٢ الأمريكي

١٣ ملنر

١٤ إسماعيل صدقي

١٥ مونترو

١٦ مصطفى النحاس

١٧ حريق القاهرة

١٨ الجمعية التشريعية

١٩ مالطة

٢٠ ولسن

٢١ السير ونجت

٢٢ كيرزون

٢٣ حل البرلمان

٢٤ إسماعيل صدقي

٢٥ زيور باشا

٢٦ عصبة الأمم

٢٧ الملك فؤاد

٢٨ مجلس الأمن

٢٩ عابدين

٣٠ الجنرال اللنبي

٣١ السير ونجت

٣٢ عبد الخالق ثروت

٣٣ الملك فؤاد

٣٤ الملك فاروق

٣٥ السير لي ستاك

السؤال الثاني :

- ١ للمطالبة بإلغاء الحماية البريطانية وإنهاء الأحكام العرفية والاستقلال التام والسماح لهم بالسفر إلى مؤتمر الصلح في باريس .
- ٢ لأن سلطات الاحتلال البريطاني رفضت مطالب الوفد التي تقدم بها سعد زغلول .
- ٣ بسبب ازدياد نمو الوعي الوطني لدى المصريين والإجراءات العنيفة التي اتخذتها إنجلترا أثناء الحرب العالمية الأولى ، وادعاء إنجلترا وحلفائها بأنها تحارب من أجل حرية الشعوب واستقلالها ، وإعلان الرئيس الأمريكي ولسن المبادئ الأربعة عشر ومنها حق الشعوب في تقرير مصيرها .
- ٤ لأنه اشترك فيها جميع فئات الشعب المصري .
- ٥ لأن تفاوض الشعب مع ملنر يعنى التنازل عن الوكالة التي أعطها للوفد المصري .
- ٦ لأنها كانت ستؤدي إلى استقلال مصر صورياً .
- ٧ لأن عدلى يكن كان يرجو أن يوفق فى الاتفاق مع البريطانيين على وضع دستور يحقق أمانى المصريين لكن لم يحدث .

- شكلت وزارة عبد الخالق ثروت لجنة من ثلاثين عضواً لإعداد دستور ١٩٢٣ م .
- ٦ أدى إلى تقديم اللورد اللنبي إنذاراً للحكومة المصرية بسحب الجيش المصرى من السودان .
- ٧ تأليف وزارة برئاسة زيور باشا والتي قبلت المطالب البريطانية .
- ٨ عارض الشعب هذا الدستور وقام بالعديد من المظاهرات للمطالبة بإلغاء دستور ١٩٣٠ م .
- ٩ اضطر الملك فؤاد للرضوخ لمطالب الأمة وإعادة دستور ١٩٢٣ م .
- ١٠ انتهاء احتلال مصر عسكرياً مع بقاء قوات بريطانية فى قناة السويس .
- انضمام مصر لعصبة الأمم .
- إلغاء الامتيازات الأجنبية وفقاً لمؤتمر مونترو .
- تقوية الجيش المصرى .
- عودة الجيش المصرى إلى السودان .
- حرية مصر فى عقد المعاهدات السياسية مع الدول الأجنبية بشرط عدم التعارض مع هذه المعاهدة .
- ١١ قبل الملك فاروق الإنذار البريطانى وأمر بتأليف وزارة مصطفى النحاس .
- ١٢ أطلق الحرية للشعب للنضال ضد القوات البريطانية فى القناة ونتج عن ذلك مهاجمة جماعات الفدائيين للمعسكرات البريطانية .
- ١٣ وقوع الصدام بين قوات الاحتلال وعناصر الشرطة المصرية واستشهاد الكثير من المصريين .

السؤال الرابع :

- ١ لأنه اعترف بالحماية البريطانية على مصر .
- ٢ لأنه أعلن المبادئ الأربعة عشر ومنها حق الشعوب فى تقرير مصيرها ومع ذلك اعترف بالحماية البريطانية على مصر فى مؤتمر الصلح .
- ٣ لرفض الشعب التفاوض مع لجنة ملنر ومقاطعتها لأن التفاوض كان يعنى التنازل عن الوكالة التى أعطاها الشعب للوفد المصرى .
- ٤ كان للدستور مزايا ، وهى :
 - كان خطوة فى تقرير مبدأ الأمة مصدر السلطات .

- ٨ للاعتراف بمصر دولة مستقلة وإنهاء الحماية البريطانية وإلغاء الأحكام العرفية .
- ٩ بسبب التحفظات الأربعة التى تمثلت فى تأمين المواصلات البريطانية فى مصر والدفاع عن مصر ضد أى اعتداء خارجى وحماية المصالح الأجنبية واستمرار أوضاع السودان وفقاً لاتفاقية الحكم الثنائى .
- ١٠ لأنه رفض سحب الجيش المصرى من السودان .
- ١١ لأنه أعطى الملك مزيداً من السلطات وأهدر حقوق الأمة .
- ١٢ لأنها كانت أداة للقصر الملكى ولبريطانيا لتحقيق مصالحها دون النظر لمصالح الشعب المصرى .
- ١٣ لتخوف بريطانيا من قيام ثورة جديدة فى الوقت الذى ستخوض فيه بريطانيا حرب عالمية جديدة .
- ١٤ بسبب إصرار بريطانيا أن تعلن مصر الحرب على دول المحور وهو ما كانت ترفضه الحكومة المصرية .
- ١٥ لمماطلة الملك فاروق فى الاستجابة لمطلب بريطانيا فى تعيين مصطفى النحاس رئيساً للوزارة .
- ١٦ بسبب وقوع الصدام بين قوات الاحتلال وعناصر الشرطة فى يوم ٢٥ يناير ١٩٥٢ م واستشهاد الكثير من المصريين وتطورات الأحداث .

السؤال الثالث :

- ١ أدى إلى الصدام بين أعضاء الوفد وسلطات الاحتلال البريطانى وبدأت فكرة جمع التوكيلات من الأمة للوفد المصرى للحصول على استقلال مصر استقلالاً تاماً .
- ٢ عزل السير ونجت وتعيين الجنرال اللنبي والإفراج عن سعد زغلول ورفاقه والسماح لهم بالسفر إلى مؤتمر الصلح فى باريس .
- ٣ • استقالة عدلى يكن .
 - رفض رجال السياسة تشكيل حكومة جديدة .
 - إلقاء القبض على سعد زغلول ونفيه للمرة الثانية إلى جزيرة سيشل .
- ٤ تجدد ثورات المصريين ومقاطعة الشعب المصرى للبضائع الإنجليزية .
- ٥ • أعلن السلطان فؤاد نفسه ملكاً على مصر .
 - أعيدت وزارة الخارجية المصرية .

السؤال الثاني :

- ١ لرفض الاحتلال البريطاني مطالب الوفد الذي أصبح ممثلًا للأزمة المصرية .
- ٢ لإقناع المصريين بقبول الحماية البريطانية على مصر .
- ٣ أجب بنفسك .
- ٤ لأنه منح الملك سلطات واسعة .
- ٥ ، ٦ أجب بنفسك .
- ٧ لأن هذه الأحزاب لم تعمل لصالح الشعب المصرى ، وكان هدفها الوصول للحكم بمعاونة الاحتلال البريطانى .

السؤال الثالث : أجب بنفسك .

السؤال الرابع :

- ١ حيث أصبحت السلطة الفعلية فى يد المعتمد البريطانى .
- ٢ لأنهم قاموا بمقاومة قوات الاحتلال البريطانى التى حاولت اقتحام مبنى محافظة الإسماعيلية يوم ٢٥ يناير ١٩٥٢ م .
- ٣ لأنه اعترف بالحماية البريطانية على مصر .
- ٤ أجب بنفسك .

الأسئلة من الخامس إلى العاشر : أجب بنفسك .

إجابات امتحانات المحافظات

(١) محافظة القاهرة ٢٠٢٣ م

أولاً : الجغرافيا

السؤال الأول : (أ)

- ١ مدار الجدى
- ٢ دراكنزبرج
- ٣ الغابات الاستوائية
- ٤ الزنجية

(ب)

- ١ أستراليا
- ٢ بحر قزوين
- ٣ إقليم البحر المتوسط
- ٤ الصين والهند
- ٥ أمريكا الشمالية
- ٦ الصنوبر
- ٧ المجموعة النوردية الشمالية
- ٨ شمال أستراليا

السؤال الثاني : (أ)

- ١ لاقترب جبال الإنديز من ساحل المحيط الهادى .

- وضع نهاية للحكم المطلق .

- قرر مبدأ المساواة بين جميع المصريين فى الحقوق والواجبات واحترام العامة .

أما عن عيوبه فقد :

- أعطى للملك سلطات واسعة إزاء السلطتين التشريعية والتنفيذية فكان من حقه حل البرلمان والدعوة لانتخابات جديدة .

٥ كان لها العديد من المزايا ، مثل :

- انضمام مصر لعصبة الأمم .
- إلغاء الامتيازات الأجنبية .
- عودة الجيش المصرى إلى السودان .
- انتهاء الاحتلال عسكرياً .

أما عيوبها فهى :

- بقاء قوات بريطانية فى قناة السويس .
- وضع موانئ مصر ومطاراتها وطرق مواصلاتها تحت تصرف بريطانيا فى حالة الحرب .
- تعهد الحكومة المصرية ببناء الثكنات والمعسكرات والطرق والكبارى اللازمة لبريطانيا .

السؤال الخامس :

- ١ عندما تم نفي سعد زغلول للمرة الثانية إلى سيشل قاطع المصريون البضائع الإنجليزية .
- ٢ طبقاً لدستور ١٩٢٣ م - الذى كان من نتائج تصريح ٢٨ فبراير ١٩٢٢ م - أجريت الانتخابات العامة وحصل حزب الوفد على الأغلبية وشكلت وزارة سعد زغلول .
- ٣ تم إلغاء الامتيازات الأجنبية وفقاً لمؤتمر مونترو .
- ٤ من نتائج معاهدة ١٩٣٦ م انضمام مصر لعصبة الأمم .

أسئلة امتحانات المحافظات على الدرس الرابع

السؤال الأول :

- ١ إسماعيل صدقى
- ٢ عبد الخالق ثروت
- ٣ سعد زغلول
- ٤ عصبة الأمم
- ٥ فاروق
- ٦ مونترو
- ٧ الوفد
- ٨ تصريح ٢٨ فبراير ١٩٢٢ م
- ٩ مجلس الأمن
- ١٠ سعد زغلول
- ١١ مصطفى النحاس
- ١٢ السير لى ستاك

(ج) أجب بنفسك .

(٢) محافظة الجيزة ٢٠٢٣ ح

أولاً : الجغرافيا

السؤال الأول : (أ)

- ١ المكسيك ٢ المحيط الأطلنطي
٣ كسكيد ٤ الإقليم الصيني

(ب)

- ١ مدغشقر ٢ تركيا
٣ الصنوبر ٤ الزنجية

- ٥ جاوة ٦ فنلندا
٧ سيدنى ٨ تعرج سواحلها

- ٩ أستراليا ١٠ مصر وليبيا

- ١١ البلايستوسين

السؤال الثاني : (أ)

- ١ لارتفاعها الشديد حتى عن قمم الجبال .
٢ بسبب تجمدها في فصل الشتاء .
٣ لأنه يعيش بها حيوانات آكلة عشب ، وحيوانات آكلة لحوم .
٤ بسبب انتشار الفقر والامية وانتشار الزراعة البدائية في معظم دول القارة .

(ب)

- ١ المكسيك : فوق المتوسط . • الكونغو : منخفض .
٢ قوة العمل :

- الدول المتقدمة : تكون أعلى نسبة للعاملين في مجال الصناعة .

- الدول النامية : تكون أعلى نسبة للعاملين في مجال الزراعة .

ثانياً : التاريخ

السؤال الثالث : (أ)

- ١ الأوربيين ٢ معاهدة العريش
٣ القناطر الخيرية ٤ عباس حلمى باشا
٥ المناطق الاستوائية ٦ رأس الرجاء الصالح
٧ الصعيد ٨ خورشيد باشا
٩ مصر ١٠ المختلطة

٢ بسبب الاهتمام بالتعليم والتوسع فى بناء المدارس ومراكز محو الأمية حتى وصلت نسبة المتعلمين إلى ٦٥ ٪ .

٣ لأنها تعتبر المنبع الدائم لنهر النيل .

٤ بسبب اتساع مساحة القارة وامتدادها فى عدد كبير من دوائر العرض .

(ب)

١ أدى إلى تركيز السكان وارتفاع الكثافة السكانية بالساحل الشرقى للولايات المتحدة الأمريكية .

٢ أصبحت الزيادة الطبيعية فى قارة أوروبا تساوى صفراً .

(ج)

نهر الفولجا	نهر السند
أوروبا	آسيا
بحر قزوين	البحر العربى

• القارة التى يقع بها :
• المصب الذى يصب فيه :

ثانياً : التاريخ

السؤال الثالث : (أ)

- ١ المماليك ٢ المختلطة
٣ فرنسا ٤ إسماعيل
٥ ظاهر العمر ٦ ثورة القاهرة الأولى
٧ نقابات للعمال ٨ زيور باشا

(ب)

- ١ المماليك × الفرنسيون ٢ العربيون × الإنجليز
٣ هزيمة المماليك ودخول الفرنسيين القاهرة
٤ هزيمة الإنجليز وارتدادهم إلى الإسكندرية
٥ ، ٦ أجب بنفسك .

السؤال الرابع : (أ)

- ١ لم تتدهور أحوال مصر فى جميع المجالات وتحدث عزلة لمصر عن التقدم الذى حدث فى العالم .
٢ لم يحدث إقالة اللورد كرومر .

(ب)

- ١ من نتائج الحملة الفرنسية معرفة الكتابة المصرية القديمة بعد اكتشاف حجر رشيد وبالتالي معرفة التاريخ المصرى القديم .
٢ أصدر السلطان العثمانى منشوراً بعصيان عربى مما أدى إلى ضعف الروح المعنوية وأدى إلى فشل الثورة العربية .

(ب)

- ١ الدليل على ذلك انفراد على بك الكبير بحكم مصر عام ١٧٦٨م ، وانضم إليه حاكم جنوب الشام ظاهر العمر ولكن فشلت حركته الاستقلالية لخيانة محمد بك أبو الذهب .
- ٢ حيث مهد وأمن الطرق البرية والبحرية وطهر البحر الأحمر من القراصنة .
- ٣ حيث توسعوا فى زراعة القطن لتوفير المادة الخام اللازمة لصناعة النسيج فى مصانع بريطانيا .

السؤال الرابع : (أ)

- ١ مصطفى كامل
- ٢ حادثة دنشواى

(ب)

- ١ كفر الدوار
- ٢ التل الكبير

(ج)

- ١ خضوع مصر المطلق للاحتلال البريطانى .
- ٢ من نتائج معاهدة ١٩٣٦م إلغاء الامتيازات الأجنبية فى مصر وتقرر ذلك فى مؤتمر مونترى ١٩٣٧م .
- ٣ قيام قوات الاحتلال البريطانى بقتل عدد من ضباط الشرطة بعد الاشتباكات التى حدثت بين الطرفين .

(٣) محافظة القليوبية ٢٠٢٣ م

أولاً : الجغرافيا

السؤال الأول : (أ)

- ١ المحيط القطبى الشمالى
- ٢ نلسن
- ٣ البحر المتوسط
- ٤ الأبلش

(ب)

- ١ الجغرافى
- ٢ الديموجرافيا
- ٣ لابلاتا
- ٤ الشرقية
- ٥ العرب
- ٦ المكسيك

السؤال الثانى : (أ)

- ١ تشكل هضبة البحيرات الاستوائية (بوسط القارة) المنبع الدائم لنهر النيل ، وتشكل هضبة الحبشة (بشرق القارة) المنبع الموسمى لنهر النيل .
- ٢ يقل معدل تعليم الإناث عند بعض الشعوب لارتباط ذلك بعادات وتقاليدها تمنع تعلم الإناث .

(ب)

- ١ نقص الغذاء .
- ٢ قلة الدخل .
- ٣ انخفاض مستوى المعيشة .
- ٤ حدوث الهجرات غير الشرعية .
- ٥ أصبح معدل الزيادة الطبيعية يساوى صفراً .

(ج)

المناخ الموسمى	مناخ غرب أوروبا
١ صيفى	١ طوال العام
٢ • تنمو غابات موسمية .	٢ • نمو الغابات النفضية التى تنفض أوراقها شتاءً لبرودة الجو .
٣ • أهم أشجارها جوز الهند .	٣ • أهم أشجارها الزان .

ثانياً : التاريخ

السؤال الثالث : (أ)

- ١ المملوكية
- ٢ معركة أبى قير البحرية
- ٣ المحمودية
- ٤ الإسماعيلية
- ٥ عباس حلمى
- ٦ توفيق
- ٧ الملك فؤاد
- ٨ الملك فاروق
- ٩ حق الانتفاع
- ١٠ حرب المورة
- ١١ المختلطة
- ١٢ الأعيان

(ب)

- ١ لم يستطع إسقاط الدولة المملوكية فى مصر والشام .
- ٢ أجب بنفسك .

السؤال الرابع : (أ)

- ١ لأن الأخطار كانت تهدد الحملة من جميع الجهات مثل التناقص العدى للجنود الفرنسيين وتحرر مقاومة المماليك وإرسال العثمانيين حملة لطرد الفرنسيين من مصر .
- ٢ لأنها كانت تريد تعيين محمد بك الألفى بدلاً من محمد على حتى تستطيع تحقيق مصالحها وتأمين تجارتها .
- ٣ ، ٤ أجب بنفسك .
- (ب)
- ١ أجب بنفسك .
- ٢ اهتمام محمد على بالتعليم ، وإرساله بعثات تعليمية إلى الخارج ، وإنشاء المدارس العالية .

(٤) محافظة الإسكندرية ٢٠٢٣ م

أولاً : الجغرافيا

السؤال الأول : (أ)

- ١ البحر المتوسط
٢ آرافورا
٣ القوقازية
٤ دراكنزبرج
٥ البمباس
٦ سهول سيبيريا

(ب)

- ١ أوروبا
٢ الهوتنتوت
٣ الأوقيانوسية
٤ الشمال الشرقي
٥ الملايو
٦ الزنجية
٧ الصين/ الهند
٨ زاجروس

السؤال الثاني : (أ)

- ١ لاقتراب جبال الحجاز الكبير من ساحل المحيط الهادى .
٢ بسبب تقدم دول غرب أوروبا عن شرقها .
٣ وجود الزراعة ووجود المدن الكبرى لذلك فهو منطقة تركيز سكاني .
(ب) أجب بنفسك .

(ج)

أمريكا الشمالية	أمريكا الجنوبية
١ سهول المسيسيبي ونلسن وسانت لورانس	سهول الأورينكو والأمزون ولابلاتا
٢ هايتى	البرازيل
٣ الإسكيمو	الهنود الحمر

ثانياً : التاريخ

السؤال الثالث : (أ)

- ١ ذى القادر
٢ القنصلية
٣ الثورة العربية
٤ الحملة الفرنسية على مصر
٥ العثمانيين
٦ زيور باشا
٧ اليونان
٨ الخديو توفيق

(ب) أجب بنفسك .

السؤال الرابع : (أ)

- ١ أصبحت مصر فى عزلة عن العالم وانتشرت الخرافات والبدع والشعوذة .
٢ ترك نابليون الحملة وسافر سراً إلى فرنسا .

- ٣ ، ٤ أجب بنفسك .

(ب)

١ حيث تم فتح أسواق جديدة لمصر فى بلاد البحر الأحمر على ساحل إفريقيا ودارفور والسودان والحبشة وبلاد شمال إفريقيا .

٢ حيث قام بتقسيم مصر إلى سبع مديريات وعلى رأسها الحكومة المركزية ، وإنشاء لائحة عام ١٨٣٧ م بإعادة تنظيم سبع دواوين ، وإنشاء المجالس والدواوين مثل مجلس المشورة والديوان العالى .

٣ حيث تحول موقف الخديو عباس حلمى الثانى إلى موالة الاحتلال البريطانى ومعاداة الحركة الوطنية فكان الطلب بالجلء والدستور .

(ج) أجب بنفسك .

(٥) محافظة الشرقية ٢٠٢٣ م

أولاً : الجغرافيا

السؤال الأول : (أ)

- ١ النيجر
٢ الصينى
٣ المغولية
٤ نهر النيل

(ب)

- ١ لأن السهول الشمالية تقل أهمية عن السهول الشرقية بسبب تجمدها شتاءً .
٢ لأنها تعتبر مناطق مراعى طبيعية .
٣ لاعتمادها على النشاط الزراعى .

(ج) وجه الشبه أنها توجد بها غابات استوائية وبالتالي تعتبر من مناطق الكثافة السكانية القليلة .

السؤال الثاني : (أ)

- ١ تنوع المناخ
٢ أستراليا
٣ الطابع التضاريسى
٤ روسيا
٥ الشرق
٦ الجنوب الشرقى
٧ القوقازية
٨ أنتاركتيكا
٩ الهيمالايا
١٠ جزيرة جاوة

(ب) أجب بنفسك .

قارة آسيا	قارة أستراليا
١ جبال اليابان	١ جبال الحاجز الكبير
٢ الإقليم الصيني	٢ إقليم البحر المتوسط

(ج)

- ١ الموقع الجغرافي
٢ سلالة بشرية
٣ الهادى
٤ شرق الصين
٥ أستراليا
٦ إفريقيا

السؤال الثاني: (أ)

- ١ بسبب تعرج سواحلها وكثرة الجزر .
٢ حيث اختلطوا بغيرهم من السلالات عن طريق الهجرات والفتوحات الإسلامية .
٣ لوجود المدن الكبرى على سواحلها .
(ب) يعمل بأثيوبيا ٨٠٪ من قوة العمل بالنشاط الزراعى .

ثانياً : التاريخ

السؤال الثالث: (أ)

- ١ ديو البحرية
٢ الالتزام
٣ أبى قير البرية
٤ الممالك
٥ أسوان
٦ الملك فاروق
٧ سليم الأول
٨ عمر مكرم
٩ عمر مكرم
١٠ محمد على
١١ الخديو إسماعيل
١٢ محمد عبده
(ب) أجب بنفسك .

السؤال الرابع: (أ)

- ١ السيطرة على منابع نهر النيل ومنع تجارة الرقيق والسيطرة على ساحل البحر الأحمر بالكامل .
٢ إرسال إنجلترا وفرنسا المذكرة المشتركة الثانية والمطالبة بإبعاد عرابى خارج البلاد وإقالة وزارة البارودى .
٣ إقالة اللورد كرومر .
(ب) أجب بنفسك .
(ج) أجب بنفسك .

(٧) محافظة الغربية ٢٠٢٣ م

أولاً : الجغرافيا

السؤال الأول: (أ)

- ١ أستراليا
٢ أمريكا الجنوبية
٣ الاستوائى
٤ الحاجز الكبير

(ج)

أعلى هضبة فى العالم	أعلى هضبة فى أمريكا الجنوبية
هضبة التبت	هضبة البرازيل
يقبل بها السكان	يتركز بها السكان
لوعورة السطح .	لوجود المدن الكبرى .

ثانياً : التاريخ

السؤال الثالث: (أ)

- ١ الخديو إسماعيل
٢ رياض باشا
٣ موقف السلطان العثماني
٤ وضع دستور ١٩٣٠ م
٥ جنوب مصر
٦ محمد فريد

(ب)

- ١ اتجه العثمانيون نحو الشرق حتى لا يصطدموا بأوروبا التي كانت تفوق عليهم علمياً وعسكرياً .
٢ الإجراءات العنيفة التي اتخذتها إنجلترا فى مصر أثناء قيام الحرب العالمية الأولى يعتبر من أسباب قيام الثورة .
(ج) أجب بنفسك .

السؤال الرابع: (أ)

- ١ لتدريب الأعيان المصريين على نظام مجالس الشورى .
٢ لأنه جاهر بالانضمام للعلماء وانحاز للشعب ، فكسب عطف وحب الزعامة الشعبية .
٣ لأنهم لم يشبوا كفاءتهم فى حكم البلاد وتأرجحوا بين الميل لفرنسا وبريطانيا والدولة العثمانية .
(ب)

- ١ عزله من نقابة الأشراف ونفيه لدمياط .
٢ إعادة تنظيم الإدارة إلى سبعة دواوين وتحديد اختصاصاتها .
٣ تنازل المصريين عن حقوقهم .
• إنشاء المحاكم المختلطة .
(ج) أجب بنفسك .

(٦) محافظة المنوفية ٢٠٢٣ م

أولاً : الجغرافيا

السؤال الأول: (أ)

- ١ الأطلنطى
٢ مدار السرطان
٣ الحيشة
٤ المدارى

السؤال الرابع: (أ)

- ١ • امتداد النفوذ المصرى إلى جنوب السودان .
- ٢ • إنشاء مدينة الخرطوم .
- ٣ • اكتشاف منابع النيل .
- ٤ • استقالة اللورد كرومر من منصبه .

(ب)

- ١ • إقامة المصانع الحكومية .
- ٢ • جمع الصبىة للعمل فى المصانع بأجور رمزية .
- ٣ • أجب بنفسك .
- ٤ • بسبب استشهاد عدد من ضباط الشرطة بعد مقاومتهم للقوات الإنجليزية التى حاصرت مبنى محافظة الإسمايلية .
- ٥ • أجب بنفسك .

(٨) محافظة الدقهلية ٢٠٢٣ م

أولاً: الجغرافيا

السؤال الأول: (أ)

- ١ الكونغو
- ٢ زنجية
- ٣ المدارى
- ٤ مدار السرطان

(ب)

- ١ لأنها تعتمد على الأنشطة البدائية كالزراعة البدائية والصيد وقطع الأشجار .
- ٢ أدى ذلك إلى انتشار الفقر والامية وانتشار بعض العادات الخاطئة مثل الزواج المبكر ، وكثرة الإنجاب .
- ٣ حيث يتركز السكان فى السهول الفيضية والساحلية والمناطق المرتفعة بالدول الاستوائية (مثل كينيا وأوغندا) ، ويقل السكان فى المناطق الصحراوية والمناطق الجبلية الوعرة .

السؤال الثانى: (أ)

- ١ هضبة توجد فى أوروبا
- ٢ نهر يوجد فى أمريكا الشمالية
- ٣ آسيا
- ٤ أستراليا
- ٥ القوقازية
- ٦ المنخفضة
- ٧ المخروطية
- ٨ لمبوبو والأورانج

(ب)

- ١ يزداد معدل الوفيات فى الدول التى تعاني من مشكلات السكن والتغذية والعكس صحيح .

(ب)

- ١ المحيط الهادى
- ٢ هضبة جنوب إفريقيا
- ٣ الصين والهند
- ٤ الغربى
- ٥ أنتاركتيكا
- ٦ من الغرب إلى الشرق
- ٧ البحر الأسود
- ٨ أوروبا
- ٩ الساحل الشمالى الشرقى

(ج) • نقص الغذاء .

- انخفاض مستوى المعيشة .
- قلة نصيب الفرد من الدخل .
- وجود هجرات غير شرعية .

السؤال الثانى: (أ)

- لاقترب حافات الجبال والهضاب من الساحل فى بعض المناطق .

(ب)

- ١ أجب بنفسك .

	إقليم المناخ المعتدل شرق القارات	إقليم مناخ البحر المتوسط	
الشمس	• أشجار دائمة الخضرة .	• أقاليم معتدلة دفيئة .	• حشائش الإستبس .
الأمطار	تساقط الأمطار طوال العام .	تساقط الأمطار شتاءً .	

- ٣ • أجب بنفسك .

ثانياً: التاريخ

السؤال الثالث: (أ)

- ١ انجياز محمد أبو الذهب للسلطان
- ٢ إنجلترا وفرنسا
- ٣ موقع مصر الجغرافى
- ٤ حرمانهم من مشيخة البلد
- ٥ أحمد عرابى
- ٦ الأمة
- ٧ محمد على
- ٨ سعيد باشا
- ٩ الخديو إسماعيل

(ب)

- ١ بسبب قصر مدة حكم الوالى ، وزيادة نفوذ الديوان والحامية العثمانية ، وتعدد هيئات الحكم .
- ٢ بسبب مقاومة واستبسال أهالى عكا بقيادة أحمد باشا الجزار والى عكا بمساعدة الأسطول البريطانى لهم .

(ج) زيادة تكاليف الدولة فى توفير الغذاء والتعليم والصحة .

ثانياً : التاريخ

السؤال الثالث :

- | | |
|----------------------|-------------------|
| ٢ تدهور الزراعة | ١ إمارة ذى القادر |
| ٤ أحمد باشا الجزائر | ٣ أبى قير البحرية |
| ٦ دمياط | ٥ المصريين |
| ٨ القلعة | ٧ طوائف الحرف |
| ١٠ المراقبة الثنائية | ٩ الخزانة المصرية |
| ١٢ وزارة الثورة | ١١ بريطانيا |
| ١٤ القطن | ١٣ القطن |

السؤال الرابع : (أ)

- ١ استغلت بريطانيا بعض الأحداث الداخلية لاحتلال مصر مثل : أحداث الإسكندرية ، وتأليف وزارة راغب باشا ومؤتمر الأستانة .
- (ب) من نتائج صدور دستور ١٩٢٣م وجود أحزاب سياسية كثيرة فى مصر .
- (ج) أجب بنفسك .

(١٠) محافظة دمياط ٢٠٢٣ م

أولاً : الجغرافيا

السؤال الأول : (أ)

- | | |
|------------|-----------|
| ٢ تسمانيا | ١ أورال |
| ٤ بتاجونيا | ٣ المدارى |

(ب)

- ١ اقتراب جبال الإنديز من ساحل المحيط الهادى أدى إلى ضيق السهول الساحلية لأمريكا الجنوبية المطلة على المحيط الهادى .
- ٢ نمو حشائش الإستبس فى إقليم البحر المتوسط يعتبر بمثابة مناطق مراعى طبيعية للثروة الحيوانية .
- ٣ غابات إقليم مناخ غرب أوربا تقوم بنفض أوراقها شتاءً لشدة البرودة .
- ٤ اعتماد معظم سكان قارة إفريقيا على النشاط الزراعى أدى إلى انخفاض نصيب الفرد من الدخل القومى لقلّة الدخل القومى .

٢ ، ٣ أجب بنفسك .
(ج) كثرة الموانئ الطبيعية فى إفريقيا .

ثانياً : التاريخ

السؤال الثالث : (أ)

- | | |
|-----------------|---------------------|
| ٢ محمد على | ١ التاسع عشر |
| ٤ محمد فريد | ٣ سليم الأول |
| ٦ البارودى | ٥ المراقبة الثنائية |
| ٨ مينو | ٧ معاهدة ١٩٣٦ م |
| ١٠ مصطفى النحاس | ٩ الخديو إسماعيل |
| | ١١ فرنسا . |
| | (ب) أجب بنفسك . |

السؤال الرابع : (أ)

- ١ حيث اتسمت الحياة العلمية والثقافية بالجمود والتخلف واهتزت مكانة الأزهر وانتشرت الخرافات والجهل .
- ٢ الاهتمام بزراعة القطن لتوفير المادة الخام لمصانع النسيج البريطانية وإهمال الصناعة المصرية .
- (ب) اضطر نابليون إلى فرض ضرائب على المصريين بعد تحطم أسطوله فى معركة أبى قير البحرية ؛ مما كان له أثر فى قيام ثورة القاهرة الأولى .
- (ج) أجب بنفسك .

(٩) محافظة بورسعيد ٢٠٢٣ م

أولاً : الجغرافيا

السؤال الأول :

- | | |
|-----------------|-----------------|
| ٢ أستراليا | ١ دائرتا |
| ٤ الهضبة | ٣ أوب |
| ٦ ٣ | ٥ ٤ |
| ٨ الاستوائى | ٧ الزان |
| ١٠ سهول الأمزون | ٩ الهادى |
| ١٢ إفريقيا | ١١ التنجوس |
| ١٤ الإسكيمو | ١٣ الديموجرافيا |

السؤال الثانى : (أ) بسبب اختلاف الارتفاع الذى يؤدى

- إلى تنوع المناخ .
- (ب) ضيق السهول الساحلية لقارة أمريكا الجنوبية المطلة على ساحل المحيط الهادى .

- ٨ الاقتصادية
٩ محمد كريم
١٠ رفاة الطهطاوى
١١ عبد الله النديم
١٢ السير ونجت
(ب)

- ١ اتجه العثمانيون نحو الشرق حتى لا يحدث تصادم مع أوروبا لتفوقها العسكرى والحضارى .
٢ ، ٣ ، ٤ أجب بنفسك .

(١١) محافظة كفر الشيخ ٢٠٢٣ م

أولاً : الجغرافيا

السؤال الأول : (أ)

- ١ الأبلش
٢ مدار الجدى
٣ غرب أوروبا
٤ البرازيل
(ب)

- ١ التقدم الحضارى
٢ الفولجا
٣ المرتفع
٤ اللورانسى
٥ الهادى
٦ مونتريال
٧ شمال أستراليا
٨ آسيا والأوقيانوسية
٩ الشعر المسترسل

السؤال الثانى : (أ)

- ١ للعمل فى مزارع قصب السكر والقطن فى الأمريكتين .
٢ كلاهما يسوده المظهر الهضبي .
٣ بسبب وجود الموارد الاقتصادية الضخمة والمدن الكبرى مثل مدينة نيويورك .
(ب)

- ١ هضبة أثيوبيا (شرق إفريقيا) هى المنبع الموسمى لنهر النيل ، أما هضبة البحيرات الاستوائية (وسط إفريقيا) فهى المنبع الدائم لنهر النيل .
٢ ، ٣ أجب بنفسك .
(ج)

- ١ حيث يقل السكان فى مناطق الغابات الاستوائية والمناطق الصحراوية الحارة ، ويوجد السكان حيث المناطق المعتدلة شمال القارة والمناطق المرتفعة (مثل كينيا وأوغندا) .
٢ ، ٣ أجب بنفسك .

(ج)

- ١ هضبة
٢ المغولية
٣ آسيا
٤ أوروبا

السؤال الثانى : (أ)

- ١ المسيبى
٢ أستراليا
٣ الباراد
٤ الزنجية
(ب) أجب بنفسك .
(ج)

- ١ الأوقيانوسية .
٢ لتساوى معدل المواليد مع معدل الوفيات .
٣ زيادة تكاليف ميزانية الدولة فى الإنفاق على خدمات الصحة والتعليم .
٤ من هم فى سن العمل أو يستطيعون العمل .

ثانياً : التاريخ

السؤال الثالث : (أ)

- ١ انتشار الجمود والجهل والتخلف بسبب العزلة التى أدت إلى اهتزاز مكانة الأزهر وتدهور الحياة العلمية والثقافية .
٢ عزل خورشيد باشا واختيار محمد على والياً على مصر .
٣ إرسال تركيا قوة لحفظ الأمن فى مصر وتعهد الدول الأوروبية بعدم التدخل فى شئون مصر .
٤ إجبار الحكومة على رفض طلب الشركة الفرنسية .
(ب)
١ أجب بنفسك .
٢

المحاكم القنصلية	المحاكم المختلطة
لم تحقق العدالة لأن أحكامها كانت تستأنف فى الخارج مما يدعو المصريين إلى التنازل عن حقوقهم .	لم تحقق العدالة بسبب انجياز القضاة الأجانب وتدخلهم فى التشريع المصرى .

السؤال الرابع : (أ)

- ١ الحملة الفرنسية
٢ الاحتكار
٣ وزارة الثورة
٤ ١٩٣٦ م
٥ اكتشاف طريق رأس الرجاء الصالح
٦ الإنجليز
٧ إسماعيل

- ٤ نقص الغذاء وقلة نصيب الفرد من الدخل القومي .
٥ من هم فى سن العمل أو يستطيعون القيام بالعمل .

ثانياً : التاريخ

السؤال الثالث : (أ)

- ١ طومان باى
٢ ثورة القاهرة الأولى
٣ التعليمية
٤ الاقتصادية
٥ الامتيازات الأجنبية
٦ كليبر
٧ الخديو إسماعيل
٨ سعيد باشا
٩ السلطان
١٠ التجار
١١ اليونان
١٢ البارودى باشا
١٣ إنجلترا
(ب)

- ١ قامت إنجلترا وفرنسا بالضغط على السلطان العثماني الذى قرر عزل الخديو إسماعيل لأن ذلك أغضبهما .
٢ بسبب فشل مفاوضات عدلى كيرزون تجددت ثورة ١٩١٩ م .

السؤال الرابع : (أ)

- ١ انتشار الدجل والشعوذة والخرافات وشاع الجهل .
٢ معرفة اللغة المصرية القديمة وبالتالي معرفة التاريخ المصرى القديم .
(ب) أجب بنفسك .

(١٣) محافظة الفيوم ٢٠٢٣ م

أولاً : الجغرافيا

السؤال الأول : (أ)

- ١ الحاجز الكبير
٢ التندرا
٣ القوقازية
٤ الهادى
(ب)
١ أوروبا
٢ السكان
٣ النفضية
٤ المحيط الأطلنطى
٥ مصر
٦ الأمزون
٧ الشرقية
٨ آسيا

السؤال الثانى : (أ) أجب بنفسك .

(ب)

- ١ لارتفاعها عن قمم الجبال العالية .
٢ لوقوع هذه المناطق فى نطاق إقليم المناخ الموسمى .

ثانياً : التاريخ

السؤال الثالث :

- ١ الأزهر الشريف
٢ المراقبة الثنائية
٣ الخارجية
٤ مجلس الأمن
٥ الخامس عشر
٦ الريدانية
٧ الثامن عشر
٨ ظاهر العمر
٩ أحمد باشا الجزار
١٠ عباس حلمى باشا
١١ راغب باشا

السؤال الرابع :

- ١ ، ٢ أجب بنفسك .
٣ دخول القوات الإنجليزية منها وهزيمة العراقيين .

(١٢) محافظة البحيرة ٢٠٢٣ م

أولاً : الجغرافيا

السؤال الأول : (أ)

- ١ المحيط الهادى
٢ الحاجز الكبير
٣ الصينى (المعتدل شرق القارات)
٤ المغولية
(ب)

- ١ الفولجا
٢ الأمريكتين
٣ الأنشطة
٤ مدغشقر
٥ البرازيل
٦ الصينية
٧ المجموعة الألبية
٨ آسيا

السؤال الثانى : (أ)

- ١ لارتفاعها عن قمم الجبال العالية .
٢ لاقتراب الجبال وحفات الهضاب منها .
٣ لاختلاف الارتفاع مما يؤدي إلى تنوع المناخ وبالتالي تنوع الحياة النباتية .
٤ بسبب كثرة تعاريج السواحل وكثرة الجزر بها .
(ب)

- ١ قارة أوروبا
٢ شتاء

(ج)

- ١ أجب بنفسك .
٢ موسم المطر الصيفى والحرارة مرتفعة صيفاً .
٣ الدليل قلة عدد سكان دولة فنلندا بسبب برودة الجو .

- ٥ الراين
٦ روسيا
٧ روسيا
٨ المتقدمة
٩ مري ودارلنج
١٠ النوردية

(ج)

- ١ يوجد بقارة آسيا دول جزرية مثل (اليابان - أندونيسيا - الفلبين) وفي إفريقيا أيضًا مثل مدغشقر .
٢ حيث يوجد فى الشعب الأمريكى جميع السلالات البشرية ويرجع ذلك إلى امتزاج السلالات والهجرات المختلفة .

السؤال الثانى : (أ)

- ١ • نقص الغذاء .
٢ • تناقص نصيب الفرد من الدخل القومى .
٣ • انخفاض مستوى المعيشة .
٤ • نقص الموارد .
٥ أصبح معدل الزيادة الطبيعية فى قارة أوروبا صفرًا .
(ب) ، (ج) أجب بنفسك .

ثانيًا : التاريخ

السؤال الثالث : (أ)

- ١ اللورد كرومر
٢ مرج دابق
٣ راغب باشا
٤ عمر مكرم
٥ سعد زغلول
٦ محمد كريم
٧ سعيد باشا
٨ محمد فريد
(ب) أجب بنفسك .
(ج)

- ١ حيث قامت بضرب الأسطول الفرنسى فى معركة أبى قير البحرية ، وساعدت عكا على مقاومة الحملة الفرنسية ، ورفضت معاهدة العريش ١٨٠٠ م ، وساعدت على خروج الفرنسيين من مصر .
٢ الدليل على ذلك استشهاد الضابط محمد عبيد ومعظم قواته فى مواجهة الإنجليز .
٣ أجب بنفسك .

السؤال الرابع :

- (أ) لم تتم إقالة وزارة رياض باشا ، ولم يزد عدد الجيش إلى ١٨ ألف جندي ، ولم يتشكل مجلس النواب .

(ج)

- ١ هضبة - أمريكا الجنوبية .
٢ جبال - آسيا .
٣ جزيرة - أستراليا .

ثانيًا : التاريخ

السؤال الثالث : (أ)

- ١ الاحتكار
٢ الريدانية
٣ دستور ١٩٣٠ م
٤ عثمان رفقى
٥ الخديو إسماعيل
٦ جلاء
٧ على بك الكبير
٨ محمد على
(ب)

- ١ لأن أهل عكا قاوموا بشدة الحملة الفرنسية عليهم وكان ذلك بقيادة والى عكا أحمد باشا الجزائر .
٢ لأنها توسعت فى زراعة القطن لتوفير المادة الخام اللازمة للمصانع البريطانية وحاربت الصناعة المصرية .

السؤال الرابع : (أ)

- ١ اتجه نابليون إلى استغلال موارد مصر ففرض ضرائب على المصريين فقام المصريون بثورة القاهرة الأولى .
٢ إرسال بريطانيا إنذارًا للحكومة المصرية ، وطالبت بسحب الجيش المصرى من السودان مما أدى إلى رفض حكومة سعد زغلول الإنذار وتقديمها الاستقالة .
(ب) أجب بنفسك .

(ج)

- ١ عزل خورشيد باشا .
٢ إعلان عصيان عرابى .
٣ إصدار جريدة اللواء .
٤ نفى سعد زغلول إلى جزيرة مالطة .

(١٤) محافظة بنى سويف ٢٠٢٣ م

أولًا : الجغرافيا

السؤال الأول : (أ)

- ١ المغولية
٢ اللورانسى
٣ دائرة الاستواء
٤ الإنديز
(ب)

- ١ قوة العمل
٢ الموقع الجغرافى
٣ آسيا
٤ مونتريال

(ب) أجب بنفسك .

(ج)

١ انحاز محمد على للشعب المصري ، وجاهر بالانضمام للعلماء والزعامة الشعبية .

٢ انهارت دولة المماليك اقتصاديًا بسبب تحول طريق التجارة إلى طريق رأس الرجاء الصالح .

(١٥) محافظة سوهاج ٢٠٢٣ م

أولاً : الجغرافيا

السؤال الأول : (أ)

- ١ الهادى
٢ الجبلى
٣ الزنجية
٤ الهيمالايا
(ب)

- ١ الديموجرافيا
٢ أورال
٣ الفولجا
٤ الزان
٥ الهنود الحمر
٦ النرويج

السؤال الثانى : (أ)

- ١ لكثرة تعاريج سواحلها ، وكثرة الجزر بها .
٢ لأنها منابع نهر النيل .
٣ بسبب وجود الغابات الموسمية .

(ب)

- ١ كثرة الإنجاب ، وانتشار بعض العادات السيئة .
٢ ، ٣ أجب بنفسك .

(ج)

- ١ لأصبحت من القارات ذات الدخل الاقتصادى المرتفع .
٢ ارتفاع نسبة ثانى أكسيد الكربون ، وزيادة الاحتباس الحرارى ، وحدوث التغير المناخى .

ثانياً : التاريخ

السؤال الثالث :

- ١ مجلس شورى النواب ٢ أربعة
٣ سالونيك ٤ عصبة الأمم
٥ مصطفى كامل ٦ عمر مكرم
٧ سعد زغلول ٨ على بك الكبير

السؤال الرابع : (أ)

- ١ لأن الحملة الفرنسية من نتائجها أنها لفتت نظر الدول الأوربية لأهمية موقع مصر الجغرافى .
٢ لاشتراك كل طوائف الشعب المصرى فيها .
٣ لأنها منحت مزايا للشركة الفرنسية ولم تحصل مصر إلا على ١٥ ٪ من أرباح الشركة .

(ب)

- ١ لاحتلت إنجلترا مصر وخلعت محمد على من حكم مصر ولتم تعيين محمد بك الألفى حاكمًا على مصر .
٢ لم تصبح مصر ولاية عثمانية وظلت تحت حكم المماليك .
٣ لم تتم معرفة اللغة المصرية القديمة وتاريخ مصر القديم .



المؤسسة المستقلة
للطبوع والنشر والتوزيع

تم بحمد الله وعونه ، مع أطيب التمنيات بالنجاح والتفوق